

点金训练

教师用书

《点金训练》编写组 编

▶ 历史

选择性必修2
经济与社会生活

配人教版



四川教育出版社

CONTENTS

目录

第一单元 食物生产与社会生活

第 1 课 从食物采集到食物生产·····	1
第 2 课 新航路开辟后的食物物种交流·····	7
第 3 课 现代食物的生产、储备与食品安全·····	13
单元活动构建 ·····	23

第二单元 生产工具与劳作方式

第 4 课 古代的生产工具与劳作 ·····	32
第 5 课 工业革命与工厂制度 ·····	38
第 6 课 现代科技进步与人类社会发展 ·····	45
单元活动构建 ·····	55

第三单元 商业贸易与日常生活

第 7 课 古代的商业贸易 ·····	64
第 8 课 世界市场与商业贸易 ·····	71
第 9 课 20 世纪以来人类的经济与生活 ·····	79
单元活动构建 ·····	89



第四单元 村落、城镇与居住环境

第 10 课 古代的村落、集镇和城市	98
第 11 课 近代以来的城市化进程	105
单元活动构建.....	115

第五单元 交通与社会变迁

第 12 课 水陆交通的变迁	124
第 13 课 现代交通运输的新变化	131
单元活动构建.....	140

第六单元 医疗与公共卫生

第 14 课 历史上的疫病与医学成就	149
第 15 课 现代医疗卫生体系与社会生活	157
单元活动构建.....	166

第一单元

食物生产与社会生活

第1课 从食物采集到食物生产

任务	1.了解人类从食物采集者转变为食物生产者的过程及意义。										
目标	2.知道古代不同地区的食物生产的特点及其对社会生活的影响。										
时空定位	中国	贾湖的居民已经饲养猪	河姆渡居民已经饲养猪、狗	陕西半坡居民种植粟	前19世纪—前16世纪	铁犁牛耕得到推广	重农抑商政策	秦国修建都江堰	汉朝修龙首渠	隋唐时期形成了旱田和水田两种农业技术体系	6世纪—14—16世纪
	西亚的人们已经饲养绵羊、山羊			南美印第安人驯化了骆马	在古巴比伦王国,王室和神庙拥有许多土地			古希腊和古罗马人种植橄榄和葡萄,古罗马长期实行土地国有		阿兹特克人的土地除归贵族私有的部分外,还有村社公有土地	

问题式预习

一、人类早期的生产与生活

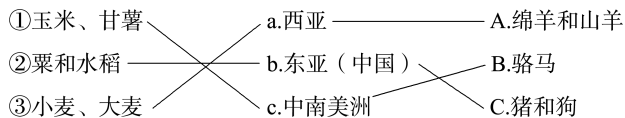
1.渔猎采集时代——旧石器时代^[1]

(1)生产工具:木、骨、石等。

(2)生产方式:采集和渔猎。

(3)生活方式:迁徙、群居;用火取暖、烧烤食物;女性为群居的人们提供了大部分食物(母系氏族)。

2.原始农业和畜牧业产生——新石器时代(约1万年前)

(1)原始农耕与原始畜牧业(连线)^[2]

(2)特点:多元中心、独立发展、具有多样性。

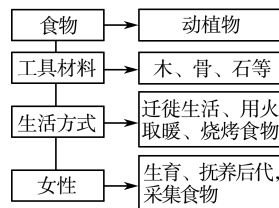
(3)什么是“农业革命”?“农业革命”的历史意义有哪些?

农业革命:农业的出现是人类经济和社会生活的第一次革命,人类开始从食物采集者转变为食物生产者。历史意义:促进了生活和生产方式的变化;推动了科学技术的发展。

二、不同地区的食物生产与社会生活

地区	种植作物、驯化动物	土地所有制	土地经营
古埃及	种植大麦、小麦,饲养山羊、绵羊、牛等	主要由王室和神庙占有	以尼罗河为中心的农业体系
古巴比伦		王室和神庙拥有许多土地,政府官员、贵族、商人等也拥有土地	合伙经营或将土地出租给佃户

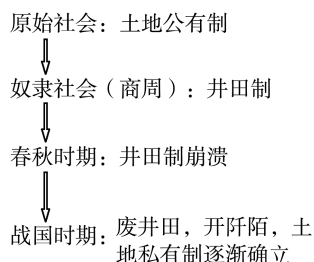
[1]群居生活的时代特征



[2]农业三大起源中心的比较

起源中心	种植业	家畜饲养业
东亚	北方以粟为主,南方以水稻为主	马、牛、羊、猪、狗、鸡(六畜)
西亚(小亚细亚半岛)	小麦、大麦	绵羊和山羊
中南美洲	玉米、甘薯	骆马

[3]中国古代土地制度的演变



续表

地区	种植作物、驯化动物	土地所有制	土地经营
古代中国	北方种植粟麦、南方稻作,饲养猪和狗等	商周:土地掌握在君主和各级贵族手中 战国: <u>土地私有制</u> 逐渐确立 ^[3]	从农夫集体耕作到铁犁牛耕,精耕细作,以家庭为基本单位进行生产
古希腊	种植大麦、小麦、橄榄、葡萄	只有城邦公民才能拥有土地	普遍使用奴隶劳动
古罗马		土地国有	以 <u>家庭</u> 为单位进行生产
美洲	种植玉米、甘薯、马铃薯;驯化了骆马	贵族私有、村社公有、家庭份地	为了充分利用资源,两年不耕作的土地将被 <u>村社</u> 收回

三、生产关系的变化^[4]

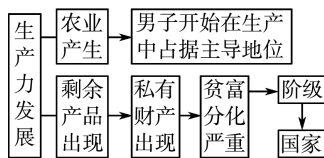
1.男女地位变化:农业产生以后,男子开始在生产中占据主导地位;女子在农业生产中逐渐退居从属地位。

2.贫富分化出现:生产力的发展,使人类生产的产品有了剩余;氏族部落的首领把一些集体财物据为己有,变成私有财产;氏族内部出现了贫富分化。

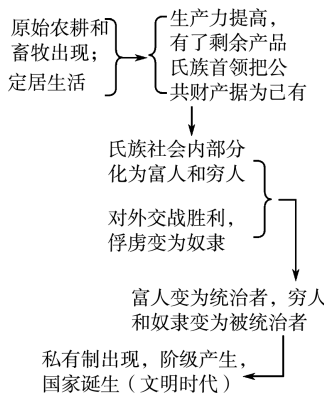
3.阶级差别产生:有了自由民和奴隶的差别。

4.国家诞生:随着剩余产品的增加和私有制的出现,阶级产生了;为了调节阶级之间的利益冲突,国家应运而生。^[5]

[4] 原始社会后期生产关系的变化



[5] 国家产生示意图



任务型课堂

任务一 人类早期的生产与生活

[探究活动]

材料一 旧石器时代的人们与周围的世界联系紧密,他们开始知道,哪些动物可以猎杀,哪些植物可以食用。他们采集各种野生坚果、浆果、颗粒植物和绿色植物,各地的人们还开始猎杀、食用各种动物,包括野牛、野马和驯鹿等,在沿海地区,鱼是一种丰富的食物来源。

——摘编自杰克逊·斯皮尔福格尔《世界历史》

(1)根据材料一,指出旧石器时代的食物来源和主要食物分别是什么。

提示:来源:采集和狩猎。食物:野生坚果、浆果、水果、颗粒植物等植物,野牛、野马、驯鹿和鱼等动物。

材料二 新石器时代的农业革命具有十分深远的意义。农业、畜牧业的产生,使人类从食物的采集

者转变为食物的生产者。这一获得食物方式的转变,改变了人与自然的关系。农业和畜牧业的产生标志着人类对自然界认识的一个飞跃。在农业生产的基础上,人们开始对日月星辰的活动、对水土的特点、对气候现象进行观察,积累经验,从而产生初步的天文地理和数学知识,把人类对客观世界的认识推到一个新的高度。

——摘编自吴于廑、齐世荣主编《世界史·古代史编》

(2)有学者认为“农业革命为以后一系列的社会变革创造了物质基础”。结合材料二,论证这一观点。

提示:这一观点是正确的。农业革命在人类社会发展史上具有极其重要的意义,农业的出现使人类的生产生活方式发生根本性变化;推动了科学技术的发展;加速了人口增长;产生了新的社会分工和物品的交换;出现了剩余产品和贫富分化,进而产生了阶级和国家。

[评价活动]

(1)有学者指出,第一次社会大分工是人类从只会攫取大自然恩赐的现成的动物或植物,即渔猎或采集,到能够凭借自己的劳动创造生活资料,即游牧、养殖或耕种。第一次社会大分工 ()

- A.最早发生在南亚地区
B.促进了阶级社会的出现
C.标志着国家开始产生
D.致使人类生存能力下降

B 解析:依据材料可知,这一次大分工是从采集经济向农耕经济转变,生产力得到发展,出现了贫富分化,促进了阶级社会的出现,B项正确;材料未体现第一次社会大分工最早发生在南亚地区,排除A项;国家产生的标志是国家机器的出现,材料中未体现,排除C项;第一次社会大分工是生产力发展的结果,有利于增强人类的生存能力,排除D项。

(2)斯塔夫里阿诺斯认为,农业的发现,不是像公元前阿基米德发现王冠所含纯金测量法那样突然。事实上,植物生长的机理,人类在农业革命之前就有所认识,就像在哥伦布航海探险之前,人们就较广泛地知道地球是圆的情况一样。作者旨在说明 ()

- A.农业革命之前人类已经普遍认识植物生长的机理
B.哥伦布航海探险之前人们就已经证实地球是圆的
C.阿基米德发现王冠所含纯金测量法是偶然的
D.农业的出现是历史发展的必然结果

D 解析:由材料可知,斯塔夫里阿诺斯认为,人们对农作物的生长规律在农业革命之前就有所认识,其旨在说明农业的出现是历史发展的必然结果,D项正确;“普遍”表述错误,排除A项;B、C两项都是作者用来类比论证农业的出现是历史发展的必然结果,并不是材料主旨,排除。

任务总结

原始农业的基本特征和意义

1. 基本特征

- (1)生产工具简单落后,以石刀、石铲、石锄和棍棒为主。
(2)耕作方法原始粗放,采用刀耕火种。
(3)主要从事简单协作的集体劳动,获取有限的生活资料,维持低水平的共同生活需要。

2. 意义

- (1)原始农业出现后,改变了人与自然的关。人在农业生产实践中应用了有关生物繁殖的知识,依靠自己的活动来增殖天然产品,找到了比较稳定可靠的食物来源。
(2)农业出现后很快成为古代社会的基本物质生产部门。

(3)由于农业的逐渐发展,人们可以生产出满足自身所需之外的粮食,出现私有制和贫富分化,促使人类生产关系变化,人类向阶级社会迈进,进而国家出现。

任务二 不同地区的食物生产与社会生活

[探究活动]

材料一 新石器时代文化分布表

文化	代表
旱地农业经济文化区	中原文化区、山东文化区
稻作农业经济文化区	长江中游文化区、江浙文化区
狩猎采集经济文化区	甘肃文化区、燕辽文化区

材料二 无论是东方,还是西方,古代经济都是农本经济,以丰衣足食为根本目的,但对牧养牲畜的需要各不相同。中国养畜主要为农耕提供动力,牛耕发展缓慢,纺织原料又靠畜产品。南欧、中亚土质黏重,很早就使用重犁,要用二牛、四牛甚至八牛拉犁,养牛较多;纺织原料主要是羊毛,养羊业比较普遍,加之很早就有食肉、饮食奶酪的习惯,故畜牧业在农本经济中的比重较大。

——摘编自叶茂等《封建地主制下的小农经济——传统农业与小农经济研究述评(上)》

(1)根据材料一,分析古代中国食物生产呈现怎样的特征。

提示:由于各地自然地理条件的差异,古代中国的食物生产呈现区域性的特征。

(2)有学者认为“单一种植业结构决定了中国饮食文化的内涵与西方不大一样”,结合材料二,论证这一观点。

提示:这种观点具有一定的合理性。古代中国以农业为主,畜牧业为辅,古代西方农牧并重。这种经济结构的差异,是形成东西方饮食文化内涵不同的重要因素。

[评价活动]

(1)瑞典考古学家发现波兰一座距今约6 600年的陵墓墓葬中,有1/4的人有铜制饰物的陪葬品,其他3/4的人没有。经检测后发现,有铜饰陪葬品的人骨头中碳-13同位素含量较高,这意味着他们生前可能吃了更多的肉制品。据此可知,史前时期此地 (D)

- A.阶级矛盾尖锐
B.形成了早期城市
C.工业生产进步
D.出现了贫富分化

(2)“玉米是最好的粮食作物。种植业保证了粮食供应,使阿兹特克人不再受狩猎的限制。因此,人们有时间去思考将来的事情。”材料旨在强调 ()

- A.农业是阿兹特克人生活的基础
- B.阿兹特克人是玉米的培育者
- C.阿兹特克人不再从事狩猎活动
- D.阿兹特克人不关心现实生活

A 解析:物质资料的生产是人类社会赖以生存和发展的基础,依靠种植玉米,阿兹特克人可以满足对粮食的需求,从而有利于其他活动的开展,故选 A 项; B、C、D 三项均不能从材料中得出,排除。

任务总结

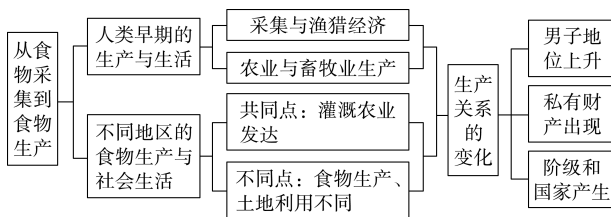
古代东西方食物生产的比较

项目		东方	西方
农耕技术	耕作制度	实行轮作制和复种制或间作套种制	普遍实行休闲农作制
	土地集中	土地兼并后仍然用来种植,需要大量农业劳动力分散经营,减少的是自耕农,增加的是佃农和雇农	土地集中是为了发展畜牧业,如圈地运动是为了养羊,所需劳动力少,大量失地农民只能到城市谋生

续表

项目		东方	西方
经济比重	经济结构	农业以种植业为主,种植业中又以粮食生产为中心,畜牧业只占次要地位	农牧并重、农牧结合
	饮食结构	粮食占主导地位,肉食比重较低	食物结构中肉、奶的比重较高

► 提质归纳



1. 大约 1 万年前,原始农耕和畜牧出现,农业的出现对人类社会产生了革命性的广泛影响。
2. 受自然条件和发展水平的不同等因素的影响,各地的食物生产差异较大,各具特色,不同的食物生产对社会生活产生了不同的影响。
3. 原始社会末期因生产关系的变化导致了家庭和社会的变化,私有制、阶级和国家的产生。

课后素养评价(一) 从食物采集到食物生产

基础性·能力运用

知识点 1 人类早期的生产与生活

1. 原始人类经历了从群居到聚族而居,从采集到种植作物,从狩猎到饲养家畜的演进过程。推动上述演进的**决定性因素是 ()

- A.人工取火的发明
- B.建筑技术的发展
- C.生产工具的进步
- D.畜牧水平的提升

C 解析:生产力决定生产关系,原始人类居住方式与生活方式的发展进步,本质上是由生产工具的进步造成的,故选 C 项。人工取火的发明、建筑技术的发展、畜牧水平的提升是推动人类社会向前发展的因素,但不是决定性因素,排除 A、B、D 三项。

2. 叙利亚的阿布胡赖拉遗址是已知最早的农业遗址之一。该遗址最初是一个 300—400 人依靠采集、狩猎为生的定居聚落,后由于气候突变,该地居民开始尝试种植黑麦。之后其迅速扩展成一个占地近 12 公顷且规划整齐的村落,房子由半地穴式房

屋升格成单层的泥砖房。这表明 ()

- A.气候因素导致农业革命
- B.农业改变人类生活方式
- C.人口增多推动房屋变迁
- D.叙利亚是人类文明起源

B 解析:根据材料可知,种植黑麦之后,阿布胡赖拉地的居民从最初的定居聚落迅速扩展成一个占地近 12 公顷且规划整齐的村落,房子由半地穴式房屋升格成单层的泥砖房,这说明农业改变了人类的生活方式,故选 B 项; A 项不是材料的主旨,排除; 农业出现推动房屋变迁,而非人口增多推动房屋变迁,排除 C 项; D 项与材料信息无关,排除。

3. 在农业生产的基础上,人们开始对日月星辰、水土特点、气候现象进行观察,从而产生了初步的天文地理和数学知识。这表明 ()

- A.自然地理条件决定着农业发展水平

- B.农业的出现改变了人们的生活方式
C.农业生产推动自然科学的初步发展
D.人类对自然界的认识水平普遍提高

C 解析:根据材料可知,天文地理和数学知识是在农业生产的基础上产生的,即农业生产推动自然科学的初步发展,故选 C 项;A 项表达过于绝对,排除;材料未强调人们生活方式的改变,排除 B 项;“普遍提高”表述错误,排除 D 项。

知识点 2 不同地区的食物生产与社会生活

4.《汉谟拉比法典》中多次出现耕犁、耕牛等词汇。此外,对有关出租和耕耘土地,放牧和管理牲畜以及修建和管理果园等事,该法典也都做了具体明确的规定。这反映出 ()

- A.阿拉伯帝国以畜牧业为生
B.古巴比伦农业较为发达
C.中世纪西欧庄园经济兴盛
D.古代埃及农业体系形成

B 解析:根据材料可知,《汉谟拉比法典》对土地耕作、畜牧管理、果园管理等作了规定,而《汉谟拉比法典》是古巴比伦王国的著名法典,这些规定反映了古巴比伦农业较为发达,故选 B 项。

5.据考古发现,他们在公元前 5500 年左右就开始通过大面积种植小麦、大麦等农作物来解决人口增长问题;他们发明了犁,并尝试驯服野生动物来帮助耕地;为了解决农作物浇灌问题,他们还挖掘了专门的沟渠进行引流和控水。材料中的“他们”最有可能是 ()

- A.斯巴达人 B.苏美尔人
C.阿兹特克人 D.雅利安人

B 解析:结合所学知识可知,较早大面积种植小

麦、大麦等农作物,在解决人口增长、农业动力和灌溉问题等方面比较先进的文明创造者,最有可能是两河流域的苏美尔人,B 项正确;斯巴达城邦受自然条件限制,无法大面积种植小麦等农作物,排除 A 项;阿兹特克等印第安文明培育的农作物不包括大麦和小麦,排除 C 项;雅利安人是游牧民族,而非农业文明发达的民族,排除 D 项。

知识点 3 生产关系的变化

6.下列有关农业和畜牧业产生之后男女地位的表述正确的是 ()

- A.女子为群居人们提供食物
B.男子在生产中占据主导地位
C.女子在社会生活中占据主导
D.男子以家务劳动和家庭副业为主

B 解析:随着农业和畜牧业的产生,男子开始在生产中占据主导地位,女子以家务劳动和家庭副业为主,在农业生产中逐渐退居从属地位,故 B 项正确。

7.物质资料的生产方式都是一定的生产力和生产关系的统一。农业的产生使人类社会的生产关系发生了巨大变化,这主要表现在 ()

- A.私有制、阶级和国家出现
B.铁犁牛耕的应用得到普及
C.精耕细作的技术体系出现
D.地主阶级的统治得以确立

A 解析:农业的产生使人类社会的生产关系发生了巨大变化。随着生产力的发展,出现了社会分工,在此基础上出现了私有制、阶级和国家,即文明产生了,故选 A 项;B、C 两项都是生产力进步的表现,不是生产关系的变化,排除;地主阶级的统治得以确立不是主要表现,排除 D 项。

综合性·创新提升

8.据考古学家和古人类学家推断,从旧石器时代的早期到中期,世界人口的年增长率不足 0.001%;而从公元前 9000 年到公元前 3000 年,世界人口的年增长率已提高到 0.03%,与采集和渔猎时期相比高出 30 倍。出现这一变化的主要原因是 ()

- A.农业生产改善了人类的生存条件
B.铁犁牛耕的广泛应用
C.人类掌握了某些动物的生长规律
D.水利工程的大量修建

A 解析:根据材料可知,与旧石器时代相比,新石

器时代人口增长率显著增加,结合所学知识可知,这是因为农业生产改善了人类的生存条件,故选 A 项;铁犁牛耕的广泛应用是在封建社会初期,排除 B 项;材料反映了人口增长率提高的原因是农业的产生,而不是畜牧业的产生,排除 C 项;水利工程修建是农业发展的原因,而不是人口增长的原因,排除 D 项。

9.“因为人类学会了生产食物——而不是采集、狩猎或收集食物——把食物储藏在粮仓里和牲圈里,他们不得不而且也有能力大批地定居下来。”对此理

解最准确的是 ()

- A. 农业发展,出现了农业和手工业的分工
- B. 人类在采集和狩猎过程中学会了种植作物
- C. 人类在文明之初主要以采集和渔猎为生
- D. 能够生产食物是人类定居生活的重要前提

D 解析:根据材料“因为人类学会了生产食物”“不得不而且也有能力大批地定居下来”并结合所学知识可知,人类学会了生产食物,即农业产生,使定居成为可能,故材料强调的是生产食物对定居生活方式的重要性,D项正确。

10. 下图是出土于两河流域乌尔王陵的镶嵌画,表现的是苏美尔人提着鱼参加宴会的场景。此图出土的主要历史价值是 ()



- A. 说明两河流域鱼受到欢迎
- B. 说明了两河流域绘画发展
- C. 证实了两河流域农业发展
- D. 体现了两河流域人们勤劳

C 解析:由材料和图片可以看出当时社会生活丰富,而社会生活的丰富与两河流域农业的发展是分不开的,故C项正确。A、B、D三项在材料中虽有所反映,但不是主要的历史价值,故排除。

11. 在古埃及,国家控制农业和手工业的大部分生产,巨大的国库和政府的粮仓里装满了征收来的实物税——谷物、牲畜、布匹和各种金属,用来支付国家的开销等。据说,所有人的食物供给都由国王负责。这体现出古埃及社会中 ()

- A. 人民深受专制政府剥削
- B. 国家严格掌控经济生活
- C. 税收制度已经相当完善
- D. 社会等级秩序十分严格

B 解析:根据“国家控制农业和手工业的大部分生产”“所有人的食物供给都由国王负责”可知,古埃及社会中国家严格掌控经济生活,B项正确。

12. 阅读下列材料,回答问题。

材料一 原始社会是人类历史上第一个社会形态。在这段漫长的历史长河中,妇女们的地位发生了巨大的变化。

材料二 除了自由民和奴隶的差别以外,又出现了富人和穷人的差别——随着新的分工,社会又有了新的阶级划分。各个家庭家长之间的财产差别,炸毁了各地迄今一直保存着的旧的共产制家庭公社;同时也炸毁了为这种公社而实行的土地的共同耕作。耕地起初是暂时地,后来便永久地分配给各个家庭使用,它向完全的私有财产的过渡,是逐渐进行的。

——恩格斯《家庭、私有制和国家的起源》

(1) 材料一反映了妇女们的地位发生了怎样的变化? 并概述其变化的表现。

(2) 根据材料一、二并结合所学知识,概括这些变化出现的原因。

答案:(1) 变化:由主导到从属。表现:占主导地位时期除生育和抚养后代外,还负责采集食物,为群居的人们提供大部分食品;占从属地位时以家务劳动和家庭副业为主。

(2) 原因:生产力的发展,产品有了剩余,氏族内部出现了财富分化;农业和畜牧业的出现,使得男女地位出现变化;氏族内部私有观念的产生,阶级的出现。

解析:第(1)问,从材料内容可直接得出变化的总体趋势,并结合所学知识具体分析其变化的表现。第(2)问,根据材料二“出现了富人和穷人的差别——随着新的分工,社会又有了新的阶级划分”“各个家庭家长之间的财产差别,炸毁了各地迄今一直保存着的旧的共产制家庭公社”并结合所学知识进行概括。

第2课 新航路开辟后的食物物种交流

任务目标	了解新航路开辟后,各大洲之间的食物物种交流及其对人类历史的影响。					
时空定位	美洲物种外传 辣椒传入英国等欧洲国家,玉米、马铃薯、甘薯传入中国并推广	玉米在南欧地区广泛种植	马铃薯作为食用作物开始在欧洲推广	玉米传遍欧洲各国	番茄在欧洲开始作食用栽培	
	15世纪末16世纪初	16世纪中叶起	16世纪末	17世纪	18世纪中叶	
	其他地区物种在美洲的推广	很多欧亚作物传入美洲 小麦、水稻对美洲影响最大			水稻成为北美第二大农作物,产量仅次于小麦	

问题式预习

一、美洲物种的外传

1.背景:新航路的开辟(15世纪末至16世纪初)。

2.外传物种^[1]

项目	欧洲	中国 ^[4]
玉米 ^[2]	16世纪中叶起,在南欧地区广泛种植,成为当地主要的粮食和饲料作物之一;到17世纪,成为仅次于小麦的粮食作物,传遍欧洲各国	明朝时,通过多种途径传入中国;清朝前期,在全国各地多有种植;乾隆、嘉庆年间,得到大规模推广;鸦片战争前,已遍布全国 ^[3]
马铃薯	16世纪末,作为食用作物开始在欧洲推广	传播历程与玉米相似
甘薯	引入欧洲后,传播比较缓慢	
番茄	18世纪中叶开始作食用栽培;18世纪末,经过欧洲培育改良的番茄新品种又传回美洲	明朝万历年间被引入,长期被当作观赏和药用植物;清朝光绪年间,开始作为食用蔬菜在菜园种植
辣椒	15世纪末传入西班牙;16世纪传到英国等欧洲国家	明朝时传入,被称为“番椒”

二、其他地区物种在美洲的推广

1.作物的传入

(1)欧亚传入美洲的作物有:粮食类①④⑦,水果类②⑥⑨⑩,蔬菜类⑤⑧;经济类③。(填序号)

①大麦 ②苹果 ③甘蔗 ④小麦 ⑤黄瓜 ⑥葡萄 ⑦水稻 ⑧豌豆 ⑨柠檬 ⑩甜橙

(2)主要物种的传播情况

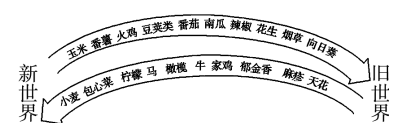
①小麦:由欧洲移民带到美洲,被迅速推广,成为美洲的主要粮食作物,小麦产业也随之兴盛。

②水稻:由西班牙人带到美洲,18世纪中期成为北美第二大农作物。

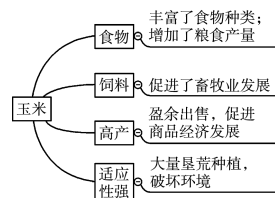
2.欧洲畜禽的传入^[5]

物种	牛、驴、马、猪、羊、鸡等
影响	极大地改变了美洲的动物群落,推动了农业的发展

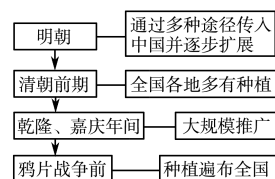
[1]“哥伦布大交换”



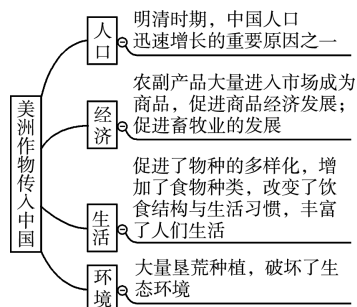
[2]玉米推广种植的用途及影响



[3]玉米在中国的传播



[4]美洲作物传入中国的影响



三、食物物种交流带来的影响

1. 积极影响

(1) 提高了全球粮食产量,使世界人口激增:食物物种适应了复杂的气候环境,丰富了粮食种类,提高了人类抗饥荒能力。

(2) 改变了人们的饮食习惯;改变了当地食物结构,丰富了人们的食物种类;促进了畜牧业的发展,为人类提供更多更好的肉、蛋、奶。

(3) 推动了当地经济和贸易的发展:在北美,水稻大量用于出口,促进了对外贸易的发展;在中国,增加了粮食供应总量,粮食投入市场出售,促进了商品经济的发展。

2. 食物物种交流带来的消极影响有哪些?

(1) 美洲:马、牛、羊等动物繁殖数量远超土地承载能力;大量种植农作物,导致原始森林被滥伐,地表植被遭到一定程度的破坏。

(2) 中国:明清时期引进推广玉米、甘薯等作物,扩大了耕地面积,但过度的垦荒造田,导致水土流失。

[5] 欧洲畜禽在美洲繁衍生息的影响

(1) 极大地改变了美洲的动物群落,推动了美洲畜牧业、农业的发展。

(2) 经济的发展推动了独特的美洲文化的形成,甚至还影响了政治文化。

任务型课堂

任务一 美洲作物在中国的种植

[探究活动]

材料一 16—17世纪传入中国的三种粮食作物

学名	别名(部分)	原产地	传入途径
玉米	番麦、御麦	美洲	由西班牙殖民者带到菲律宾,再传入中国
甘薯	番薯、金薯	美洲	由西班牙殖民者带到菲律宾,再传入中国
马铃薯	洋番薯、荷兰薯、土豆	美洲	由荷兰殖民者带到中国台湾,再从中国台湾传入中国大陆

——摘编自《中国文化与外来作物》

(1) 根据材料一,概括 16—17 世纪三种粮食作物传入中国的特点。结合所学知识,简析它们传入中国的国际背景。

提示:特点:传入的物种原产于美洲;主要是从海路传入中国。国际背景:新航路的开辟;早期殖民扩张。

材料二 万历庚辰,客有泛舟之安南者,公偕往。比至,酋长延礼宾馆,每宴会,辄餍土产曰薯者,味甘美。公觐其种,贿于酋奴,获之……未几伺间遁归……嗣是种播天南,佐粒食,人无阻饥。

海中之人多寿,亦由不食五谷而食甘薯故也。

(2) 根据材料二,分析当时甘薯大规模引入对中国产生的影响。

提示:有利于解决粮食饥荒问题;促进了人口增长;扩大了土地的开垦利用。

[评价活动]

(1) 下表所示为明代后期至清中叶有关玉米种植情况的部分记载。据此可知,这一时期的玉米 ()

内容	出处
玉蜀黍(玉米)种出西土,种者亦罕	[明]李时珍《本草纲目》
玉蜀黍(玉米)……田家园也多种之	乾隆四十四年(1779年)《宁河县志》
五谷……收番麦(玉米)则多矣	嘉庆元年(1796年)《华亭县志》
玉麦(玉米)……则处处	道光十三年(1833年)《兰州府志》

注:宁河县位于今天津市,华亭县位于今甘肃省东部。

- A. 主要按自北向南的方向传播
- B. 是中国从西方进口的大宗商品
- C. 作为粮食作物的地位得到提高
- D. 首先在四川地区成功实现移植

C 解析:材料反映了玉米从明朝时“种者亦罕”到清朝时“多种之”“多矣”“处处产之”,据此可知,玉米得到推广,根据“五谷……收番麦(玉米)则多矣”可知,

玉米作为粮食作物的地位提高，C项正确；据表格信息无法得出玉米自北向南传播，排除A项；材料信息反映的是国内玉米的种植，而不是进口，排除B项；材料并未反映玉米首先在四川地区成功实现移植，排除D项。

(2)李百川小说《绿野仙踪》(乾隆年间成书，据旧抄本)四十九回写道，何公子递下十二两银子扬长而去，苗秃子帮闲骂道：“不想他是个西番柿子，中看不中吃的歪货物。”据此，对“西番柿子”推断正确的是()

- A.仅作为观赏植物存在
B.当时不作为食用蔬菜
C.该物种来自西亚地区
D.乾隆年间被引入中国

B 解析：根据材料“他是个西番柿子，中看不中吃的歪货物”并结合所学知识可知，“西番柿子”在当时不作为食用蔬菜，故B项正确。

任务总结

明清时期美洲高产作物在中国传播的原因

1. 外因

- (1)新航路的开辟和殖民扩张，使美洲作物传到中国。
(2)美洲作物适应性较强，用途广泛。

2. 内因

- (1)明清时期耕地面积增长速度已经明显落后于人口膨胀规模，形成了严重的人地矛盾。
(2)政府政策的推动，如乾隆皇帝与各级地方政府鼓励推广种植美洲高产作物。

任务二 食物物种交流的影响

[探究活动]

材料一 考古资料证明，玉米最早是在美洲培育出的。哥伦布将这种“奇异的谷物”带回欧洲后，在全世界得到迅速传播，成为世界三大谷物之一。历史学家评述玉米在世界传播的意义时说，“其价值超过了所有的黄金”。

——摘编自黄邦和等主编《通向现代世界的500年：哥伦布以来东西两半球汇合的世界影响》

(1)历史学家为什么说玉米在世界的传播“其价值超过了所有的黄金”？

提示：改变了欧亚非大陆的粮食生产结构；缓解了粮食供应的压力；促进了社会经济发展。

材料二 但是，仅以这些地区生产的粮食，犹不足维持明代中叶以后增加的人口……明代开始，有许多新的粮食作物引进中国……最为重要者为番薯与玉米。番薯“亩可得数千斤，胜五谷几倍”，玉米“种一收千，其利甚大”。两者皆可作为主食，以补稻米与麦类的不足。且两者的种植不拘土壤与地形，或可在山地种植，或可在沙地栽培，将过去认为无法使用的土地，均变为农田。

(2)有研究者认为“小小的番薯，却剧烈地改变中国历史”。根据材料二并结合所学知识，论证这一观点。

提示：这一观点具有一定的合理性。明朝时期，中国人口急剧增长，粮食供应严重不足。玉米和番薯传入中国后，因其产量高、适应性强而迅速普及，引发传统粮食结构的重大变化，甚至带来了中国历史上第二次食物革命。但是当时的流民为了生存进山种植番薯，毁林开荒，也在一定程度上破坏了生态平衡。

[评价活动]

(1)有学者认为，美洲农作物的传播以及引起的“农业革命”帮助人类解决了17世纪的生存危机。这主要说明美洲农作物的传播 ()

- A.改变了人们的饮食习惯
B.对生态环境造成了破坏
C.推动了农业发展的集约化
D.提高了人类的抗饥荒能力

D 解析：根据材料并结合所学知识可知，17世纪全球变冷和革命浪潮、国家崩溃影响了农业产量，美洲作物的传播有利于解决农业上的危机，这说明美洲作物的传播提高了人类的抗饥荒能力，故选D项；材料并未反映人们饮食习惯的改变，排除A项；材料与生态环境及农业发展集约化无关，排除B、C两项。

(2)15世纪末，哥伦布第二次远航美洲时，将水稻等作物带到美洲的海地、波多黎各等地。在随后的一两个世纪内，水稻种植逐渐扩展到美洲其他地区。18世纪以后，北美的水稻种植业进入黄金时期，稻米成为纯粹的经济作物。由此可见，水稻在北美的播种 ()

- A.改变了北美居民的饮食习惯
B.提高了北美农业的集约化水平
C.为北美农业发展注入了活力
D.推动了世界市场的形成和发展

C 解析:水稻进入美洲之后,广泛种植,最终成为纯粹的经济作物,这说明水稻在北美的传播丰富了北美的作物结构,为北美农业发展注入了活力,C项正确;材料未涉及北美居民的习惯,排除A项;机械化提高了北美农业的集约化水平,排除B项;D项与材料主旨不符,排除。

任务总结

“哥伦布大交换”的影响

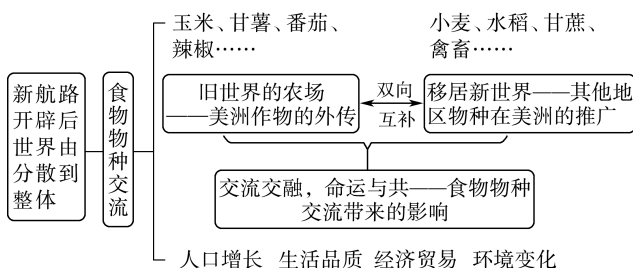
1. 积极影响

- (1)促进了全球动植物(物种)的多样化。
- (2)促进了世界人口的增长。高产作物(玉米、甘薯、马铃薯)的交流和广泛种植,增强了人类抗饥荒的能力,为世界人口的增长提供了食物保障。
- (3)改变了人们的食物结构,丰富了人们的生产、生活。
- (4)促进了社会经济的发展。动物饲料供应的增加,促进了畜牧业的发展;高产农作物的种植增加了粮食供应总量,有利于农副产品进入市场,促进了商品经济的发展。
- (5)密切了世界各地之间的联系。推动了世界市场的形成和发展,有助于世界文明的交流与融合。

2. 消极影响

- (1)哥伦布大交换的同时伴随着西方国家的殖民扩张和掠夺,传染病的传播导致美洲等地原住民的大量死亡。
- (2)农作物的大量种植,土地的过度开发,食草动物的大量繁殖,加速了水土流失,生态环境恶化。

► 提质归纳



1. 新航路开辟后,各地的食物物种得以广泛地传播和交流,呈现出全球扩展、双向互补的特点。
2. 美洲食物物种中对人类历史影响较大的是玉米和马铃薯。
3. 食物物种的交流对世界经济、人口增长及人类日常生活产生了深远的影响。

课后素养评价(二) 新航路开辟后的食物物种交流

基础性·能力运用

知识点1 美洲物种的外传

1. 1520年,一位萨克森商人在里斯本买了许多玉米,回去后他赚了大钱,他说要感谢“上帝”,另一位商人则说:你还要感谢 ()

- 西欧一些特色农业区的资本家种出了玉米
- 葡萄牙人从亚洲运来了玉米
- 阿拉伯人从非洲运来了玉米
- 西班牙人从美洲运来了玉米

D 解析:根据“1520年”“在里斯本买了许多玉米,回去后他赚了大钱”可知,西方国家通过新航路进行了物种交流,使原本生长在美洲的玉米在欧洲就可以买到。结合所学可知,最早开辟通往美洲的新航路的国家是西班牙,故D项正确。

2. 下图为清代绘画《卖白薯图》,该画描绘了时人在街头买卖白薯的情形。由此可知,当时 ()



- 粮食安全问题解决
- 饮食结构渐趋合理
- 长途贩运贸易活跃
- 外来物种得到推广

D 解析:根据图片信息可知,烤白薯在街头进行售卖,说明当时民众对这一食物的认可,即外来物种得到推广,D项正确;“粮食安全问题解决”不符合史实,排除A项;材料未说明民众日常饮食的构成,无法判断饮食结构是否合理,排除B项;仅从材料无法得出长途贩运贸易活跃,排除C项。

知识点2 其他地区物种在美洲的推广

3. 新航路开辟促进了世界各地物种的交流,下列哪些是从欧洲传播到美洲的物种 ()

- ①玉米 ②甘蔗 ③马 ④骡
- ③④
 - ②③④
 - ①②
 - ①

B 解析:新航路开辟后,欧洲人给美洲带来了马、牛、羊等牲畜和一些禽类以及各种麦类、甘蔗、咖啡等农作物;而美洲则为人类贡献了玉米、马铃薯、番

茄、花生、可可、烟草、南瓜等农作物,其中贡献最大的是玉米。因此B项正确。

- 4.从16世纪开始,正是非洲人种植水稻的技艺使北美部分地区变成充满生机的“水稻王国”,并把水稻种植“提高到令欧洲人钦佩的水平”。这反映了当时北美地区 ()

- A.生产关系发生了显著变化
B.非洲人的社会地位提高
C.食物生产结构进一步优化
D.水稻种植超越欧洲地区

C 解析:水稻由西班牙人带到美洲,18世纪中期,水稻成为北美第二大农作物,产量仅次于小麦,故选C项;题干没有提到生产关系的变化,排除A项;16世纪开始,非洲人被西欧殖民者掳掠,贩卖到美洲作奴隶,排除B项;“超越欧洲地区”与史实不符,美洲的水稻来自非洲,排除D项。

知识点3 食物物种交流带来的影响

- 5.新航路开辟后,原产于美洲的烟草、可可和马铃薯等迅速传到世界各地。其中,马铃薯由于产量高、种植易、烹制简单等原因,到17世纪末已成为爱尔兰人的主食,并使人口得到快速增长。这说明了物种交流 ()

- A.改善了人类的饮食结构
B.推动了工业革命的到来
C.密切了世界各地的联系

D.极大地影响着人类生活

D 解析:根据材料可知,新航路开辟后世界彼此孤立的状态被打破,物种交流极大地影响了人们的生活,如材料所示的饮食种类的丰富等,故选D项;物种交流可以丰富人们的饮食,但是不能直接改善人类的饮食结构,排除A项;各大洲间的物种交流与工业革命没有直接关系,排除B项;C项与材料主旨不符,排除。

- 6.某学者在研究欧洲1400年至1900年的历史时发现,欧洲引入马铃薯后,民间纷争有所减少。他比较了18世纪仍以小麦制品为主食的地方,与流行食用马铃薯的地区爆发民间纷争的概率,结果发现后者的农夫更倾向于不参加起义。据此,他最有可能得出的推论是 ()

- A.新航路开辟缓和了国际关系
B.马铃薯引种解决了欧洲的饥荒问题
C.新航路开辟密切了欧美联系
D.马铃薯推广有利于欧洲的和平稳定

D 解析:根据材料可知,马铃薯在欧洲的推广,使民间纷争有所减少,这说明马铃薯的推广有利于欧洲社会的和平稳定,D项正确;材料强调的是马铃薯的推广对欧洲的影响,未涉及国际关系的变化,排除A项;材料主旨是马铃薯的推广有利于社会稳定,而不是解决“饥荒问题”,排除B项;材料未涉及欧美关系,排除C项。

综合性·创新提升

- 7.出于饮食习惯和宗教等原因,移居新大陆的欧洲人“喜欢面包甚于玉米”。自15世纪末开始,小麦逐渐成为在美洲传播最广泛的旧大陆粮食品种。这说明 ()

- A.欧洲人的食品结构长期稳定
B.美洲作物遭到欧洲各国排斥
C.宗教信仰决定饮食文化传统
D.殖民扩张助推食物物种传播

D 解析:根据材料“自15世纪末开始,小麦逐渐成为在美洲传播最广泛的旧大陆粮食品种”可知,新航路开辟后,殖民扩张推动了物种的交流和传播,D项正确;材料体现了欧洲人的饮食结构发生变化,并非欧洲人的食品结构长期稳定,排除A项;材料未体现美洲作物遭到欧洲各国排斥,排除B项;“决

定”表述过于绝对,排除C项。

- 8.甘蔗在16—17世纪传入巴西和加勒比地区,很快就成为以非洲黑奴劳动力为基础的美洲种植园经济的主要经济作物之一,源自埃塞俄比亚和阿拉伯地区的咖啡也在18世纪成为美洲种植园作物。这些作物引入美洲 ()

- A.导致种植园经济走向衰退
B.提高了当地居民生活水平
C.加剧了美洲地区对奴隶的需求
D.加速了美洲社会的近代化进程

C 解析:根据材料可知,甘蔗和咖啡引入拉丁美洲,促进了美洲种植园的发展,也加剧了美洲对奴隶的需求,故选C项;材料并未反映种植园经济走向衰退,排除A项;甘蔗和咖啡引入拉丁美洲,并未

提高当地居民的生活水平,排除 B 项;美洲种植园经济的发展一定程度上阻碍了美洲社会的近代化,排除 D 项。

9. 紫茎泽兰原产于墨西哥,19 世纪作为观赏植物在世界各地引种,因其繁殖力强而出现侵占草地、损耗土壤肥力和引起过敏性疾病的现象,后被列为全球性入侵物种。据此 ()

- A. 人类应该消灭紫茎泽兰等物种
B. 外来物种引进适应了生态环境
C. 物种传播是西方对外侵略的手段
D. 引进物种应该了解其生物特征

解析:材料反映了引进物种产生了不良的影响,说明引进物种应了解其生物特征,要注意其可能带来的危害,故选 D 项;“消灭”表述过于绝对,对待全球入侵物种可以加强管理,排除 A 项;“因其繁殖力强而侵占草地、损耗土壤肥力和易引起过敏性疾病”可见外来物种破坏了生态环境,且西方自身也深受其害,排除 B、C 两项。

10. “在旧世界,没有哪个大规模的人类群体比中国人更快地接纳了美洲的粮食作物。”中国人快速接纳美洲粮食作物的原因是 ()

- A. 美洲粮食作物味道更加鲜美
B. 美洲粮食作物帮助中国人解决了饥荒问题
C. 美洲粮食作物促进了中国商品经济的发展
D. 美洲粮食作物帮助中国人解决了荒地问题

B 解析:根据材料并结合所学知识可知,当时中国人口众多,而美洲粮食作物的传入为中国人提供了食物来源,提高了抗饥荒能力,因而得到中国人的快速接纳,故 B 项正确。

11. 16 世纪,美洲的西班牙人、葡萄牙人若要吃面包,需要进口欧洲小麦。进入 17 世纪,智利发展成南美的小麦产区,产品除了供应本地外,还被运到巴西、古巴等地。小麦在美洲的传播 ()

- A. 促进了殖民地的近代化
B. 有利于欧洲人对美洲的殖民活动
C. 推动了奴隶贸易的兴起
D. 极大改善了当地居民的生活

B 解析:新航路开辟引起物种交流,小麦在美洲的种植扩大,使美洲大陆的欧洲移民能够吃上面包,饮食生活更为适宜,方便了他们常驻美洲,因

此小麦在美洲的传播有利于欧洲对美洲的殖民活动,B 项正确。

12. 阅读下列材料,回答问题。

材料一 公元 1500 年前后,世界各大洲结束了相对孤立的状态,各地的文明开始汇合交融。最活跃的是欧洲的商人,他们把中国的茶叶、丝绸等物品运到欧洲、美洲和非洲等地销售,然后把欧洲、美洲的物产运到世界各地。商人们赚取了利润,而物产的流通则促进了世界各地的经济交流。从那时候开始,人类的历史才称得上真正意义上的世界史。

材料二 明朝时期甘薯开始引入我国种植。明清时期,天灾不断导致粮食短缺,并且甘薯有易活、高产、稳产、耐旱、抗虫害等优点,在政府官员的大力倡导下,甘薯得到迅速传播。明清时期甘薯的引种在一定程度上影响了我国的饮食结构,也对生产力与生产关系产生一定的影响,粮食单产增加,促使农民开垦更多耕地,抗灾能力、生存能力增强,自耕农增加。

(1) 根据材料一,谈谈你对新航路开辟后,“人类的历史才称得上真正意义上的世界史”的理解。

(2) 根据材料二并结合所学知识,概括甘薯引入我国后带来的影响。

答案:(1) 理解:各地文明汇合交融;世界市场初具雏形;世界各地联系渐趋密切。

(2) 影响:积极方面,一定程度上影响着我国的饮食结构;使得生产力与生产关系有所发展与变化;粮食产量增加;荒地得以开垦,种植面积扩大;人们抗饥荒能力增强。消极方面,过度垦荒,导致水土流失,不利于可持续发展。

解析:第(1)问,根据材料一“各地的文明开始汇合交融”“欧洲的商人……而物产的流通则促进了世界各地的经济交流”进行归纳概括。第(2)问,可从积极和消极两方面回答,积极方面可根据材料二“明清时期甘薯的引种在一定程度上影响了我国的饮食结构……促使农民开垦更多耕地,抗灾能力、生存能力增强,自耕农增加”,划分层次,进而归纳概括;消极方面可结合所学知识从对生态环境影响的角度进行概括。

第3课 现代食物的生产、储备与食品安全

任务目标	1. 了解现代农业、渔业发展过程中,人类在食物生产、储备等方面的进步。 2. 认识消除饥饿和食品安全在人类历史上的重大意义。												
时空定位	世界现代食物的生产、储备												
	冷冻食品工业突飞猛进发展	美国用杂交技术培育出玉米新品种	墨西哥培育出小麦新品种	联合国粮食及农业组织成立	美国已使用机械通风储粮技术	菲律宾培育出的杂交水稻在东南亚推广							农业从人工化向自动化转变
	20世纪20年代	1930年	1941年	1945年	20世纪50年代	20世纪60年代	20世纪70年代	1996年	2000年	2009年	2010年	2014年	
	中国现代食物的生产、储备与食品安全						开始采用机械制冷低温储粮技术	发布《中国的粮食问题》白皮书	全国人大常委会通过《中华人民共和国食品安全法》	颁布《农产品冷链物流发展规划》	“中国超级杂交水稻”百亩试验田平均亩产创世界纪录		

问题式预习

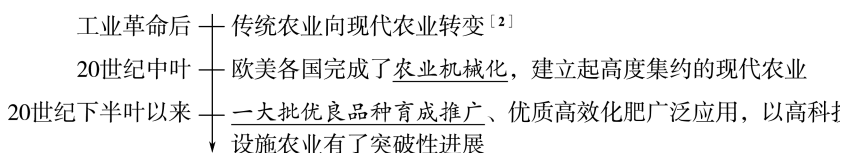
一、食物生产的现代化^[1]

1. 农业的现代化

(1) 背景

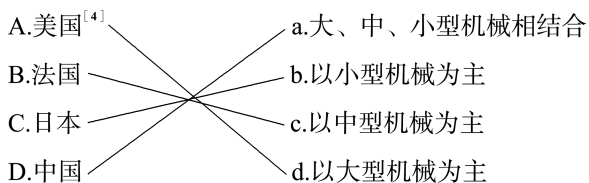
- ① 工业革命后,资本主义机器生产的推动。
- ② 科学技术的不断发展与进步。

(2) 发展历程



(3) 表现^[3]

① 农业机械的发展、机器广泛使用,人工智能开启。(连线)

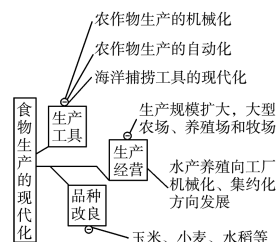


② 杂交育种技术的发展

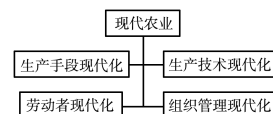
成就	美国	1930年,利用杂交技术培育出玉米新品种
	墨西哥	1941年培育出小麦新品种
	菲律宾	20世纪60年代,培育出的杂交水稻在东南亚推广
	中国 ^[5]	杂交水稻制种技术不断取得突破,2014年,“中国超级杂交水稻”百亩试验田平均亩产创世界纪录
意义	提高了粮食作物的单位面积产量,为人类消除饥饿作出了突出贡献	

③ 现代农业生产经营模式的变化:大型农场、养殖场的出现。

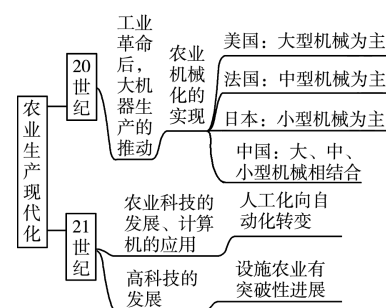
[1] 食物生产现代化的表现



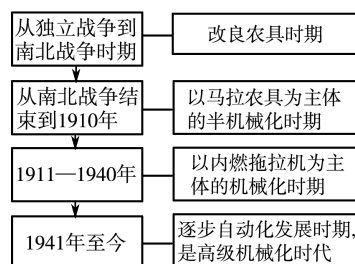
[2] 现代农业



[3] 现代农业的发展



[4] 美国农业机械化的发展阶段



2. 畜牧业的现代化发展: 养殖场和牧场规模较大, 各个生产环节实现了机械化和自动控制。

3. 渔业的现代化发展: 渔具现代化; 水产养殖向工厂化、机械化、集约化经营发展; 从淡水养殖向海水养殖发展。

二、食物储备技术的进步

1. 粮食储备技术

时间	表现
原始社会	利用地窖和 <u>陶器</u> 存储余粮
古代社会	粮仓的储备技术逐渐改进, 不仅防鼠、防盗、防潮、防火, 还具有良好的 <u>保鲜功能</u> ^[6]
20世纪50年代	美国已使用 <u>机械通风</u> 储粮技术
20世纪70年代	中国采用 <u>机械制冷低温</u> 储粮技术
21世纪以来	粮食储备自动化和智能化水平不断提高

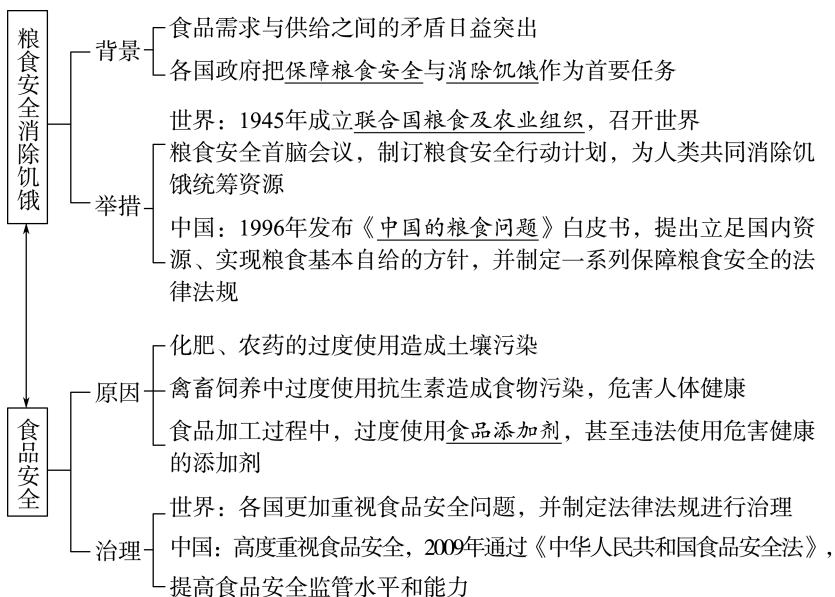
2. 古代、近代、现代的食物储存技术有何发展?

古代: 利用腌制或风干等方法加工保存食品, 利用自然界中的冰延长食品保藏期。

近代: 20世纪20年代起, 冷冻食品工业迅猛发展, 冷链物流产业也发展起来。

现代: 2010年, 中国颁布《农产品冷链物流发展规划》, 对冷链物流产业进行整体布局, 大大促进了该产业的发展。

三、消除饥饿与食品安全^[7]



[5] 中国杂交水稻



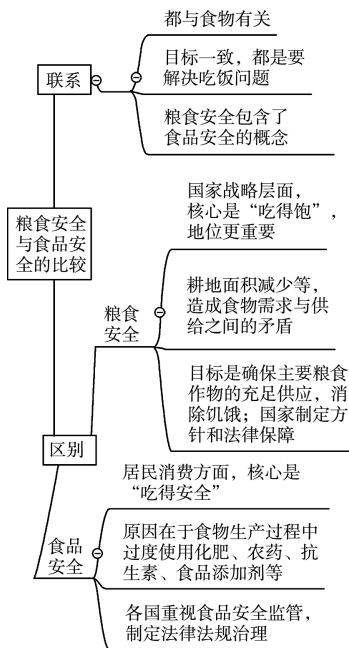
2022年10月13日, 三亚市崖州区坝头南繁公共试验基地, 再迎晚稻测产。晚稻平均亩产671.6千克, 加上5月早稻平均亩产910千克, 共1581.6千克, 海南连续两年实现“杂交水稻双季亩产1500千克”攻关目标。

[6] “天下第一粮仓”——含嘉仓



含嘉仓是隋朝在洛阳修建的国家粮仓, 遗址面积40多万平方米, 有数百个粮窖, 是中国古代最大的粮仓。粮窖设计科学, 不仅防鼠、防盗、防潮、防火, 还具有良好的“保鲜”功能。

[7] 食品安全与粮食安全的比较



任务型课堂

任务一 农业与食物生产的现代化

[探究活动]

材料一 18世纪中叶,英国农业革命开始大张旗鼓推进。随着人口的增长,圈占土地,实行粮食生产的规模化经营变得更加有利可图。由此,中小地主开始呼吁政府和议会支持领主圈地,议会开始以立法形式通过私人提出的圈地协议,从而形成一系列的圈地法案。圈地运动促进了土地产权及经营模式的变革,推动了农业生产的发展。与此相对应,资本主义农场规模不断扩大。为了提高土地的收益,英国涌现出一大批农业改革家,如汤森德勋爵推广了四圃轮作制;苏格兰人安德鲁·米克尔发明了一款可以使用多种动力的脱粒机,解放了人力。农业革命在提供工业化所需劳动力的粮食供应、生产原料、资本积累以及国内市场等方面作出了重要贡献,由此推动了英国向现代工业社会的转型。正如琼斯所指出的:在18世纪的英国,“如果没有农业变革,没有农业产出增长,工业化与经济发展便不可能实现”。

——摘编自刘金源《农业革命与18世纪英国经济转型》

(1)根据材料一并结合所学知识,概括英国农业现代化的表现、原因及其意义。

提示:表现:粮食生产规模化、机械化。原因:人口增长对粮食需求增加;资产阶级政府立法推动;圈地运动的开展;农业改革家发明机器。意义:农业的变革推动了英国的工业革命,并向现代工业社会转型。

材料二 中国在1980—2010年经历了现代化(即带有劳动生产率和收入提高)的农业革命。把其与不同类型的农业革命相比,为我们说明的是多种因素的相互作用。

——摘编自黄宗智《中国的隐性农业革命》

(2)结合史实说明材料二中我国农业现代化“是多种因素的相互作用”。

提示:20世纪50年代,我国借鉴了苏联的农业集体化,实现了粮食生产的规模化、集约化,并走上农业生产机械化道路;20世纪80年代,为提高劳动生产率和人民生活水平,实行家庭联产承包责任制;为提高粮食产量,采用现代化生产技术,如化肥、优良品种;等等。

[评价活动]

(1)(2022·全国甲卷)蒸汽机发明后,日益成为欧美国家雇佣大农场机器动力的重要来源,需要多人协同操作。20世纪初,农业机器的使用变得个人化、小型化,家庭农场在劳动生产率方面缩小了与雇佣大农场的差距,后者日趋衰落。这一系列变化表明 ()

- A.内燃机的应用改变农业生产组织形式
- B.农业技术发展导致失业人口大量增加
- C.蒸汽机成为农业生产的机器动力来源
- D.农业生产效率的提高依赖于生产规模

A 解析:根据材料可知,20世纪随着第二次工业革命的开展,内燃机的使用,使农业的机械化逐步实现,传统的农业生产方式及组织形式发生变化,A项正确;材料并未涉及失业人口问题,排除B项;材料反映的是内燃机的影响,排除C项;农业生产效率的提高依赖于科技的革新,排除D项。

(2)为了促进现代中国乡村振兴,国家正积极推动高标准农田建设。虽然人工智能产品和技术尚处于探索阶段,但在促进农业实现高效灌溉,在土壤水情监测、智能化水肥管理、作物的信号采集等方面都发挥了巨大作用。这说明 ()

- A.信息技术改变了社会发展趋势
- B.人工智能促进了农业发展
- C.人工智能改变了人们生活方式
- D.科技进步提高了国家综合国力

B 解析:根据材料“虽然人工智能产品和技术尚处于探索阶段,但在促进农业实现高效灌溉,在土壤水情监测、智能化水肥管理、作物的信号采集等方面都发挥了巨大作用”可知,人工智能对农业发展具有积极作用,B项正确;材料强调人工智能提高了农业发展水平,未体现社会发展趋势的改变、人们生活方式的改变和国家综合国力的提高,排除A、C、D三项。

任务总结

农业生产现代化的特征

- 1.农业生产手段现代化。运用先进设备代替人的手工劳动,降低劳动者的体力强度,提高劳动生产率。

2. 农业生产技术科学化。把先进的科学技术广泛应用于农业,提高农业生产的科技水平和农产品的科技含量。
3. 农业经营方式产业化。形成种养加产供销、贸工农一体化的经营格局,提高农业的经营效益。
4. 农业服务社会化。形成多种形式的农业社会化服务组织。
5. 农业产业布局区域化。发展农业支柱产业和拳头产品,形成优势农产品产业带,提高农产品的市场竞争力和市场占有率。
6. 农业基础设施现代化。既有利于增强农业抵御各种自然灾害的能力,又有利于农业资源的高效利用,农业发展后劲大为增强。
7. 农业生态环境现代化。推进农业现代化建设必须用现代化的手段保护生态环境。
8. 农业劳动者现代化。要提高农业劳动者的综合素质,提高劳动技能,以适应发展现代农业的需要。
9. 农民生活现代化。增加农民收入,让农民物质生活和精神生活更加美好。

任务二 消除饥饿与粮食安全

[探究活动]

材料一 根据联合国粮农组织统计,全球目前可耕种土地资源为 13.8 亿公顷,人均仅有 0.197 公顷。由于气候变化、荒漠化、过度开发和不良耕作实践的影响,目前有 25% 的可耕地资源高度退化。而水资源不足,水源污染和地下水过度开采已构成农业发展的严重制约。粮食作物和非粮食作物生产对自然资源的竞争由来已久,在过去 20 多年里,其本质和强度都发生了极大变化;使用谷物,如玉米和油菜籽等油类作物生产生物燃料,也极大地加剧了对自然资源的消耗。此外,城市人居开发、休闲场所和道路交通建设、工业发展、矿产开采,以及木材和其他衍生产品生产等,都对粮食和农业赖以发展的土地、水和生物资源造成了巨大压力,增加了生态、社会和经济成本,并大大降低了小农抵御自然灾害、维护粮食安全和改善生计的能力。

——摘编自何昌垂主编《粮食安全：世纪挑战与应对》

(1) 根据材料一并结合所学知识,说明当今世界粮食安全面临的主要挑战。

提示: 人地矛盾突出;可耕地资源高度退化;农业发展制约因素增加。

材料二 第七十五条 食品生产经营企业等单位有食品安全法规定的违法情形,除依照食品安全法

的规定给予处罚外,有下列情形之一的,对单位的法定代表人、主要负责人、直接负责的主管人员和其他直接责任人员处以其上一年度从本单位取得收入的 1 倍以上 10 倍以下罚款:

- (一)故意实施违法行为;
- (二)违法行为性质恶劣;
- (三)违法行为造成严重后果。
- ……

第八十二条 阻碍食品安全监督管理等部门工作人员依法执行职务,构成违反治安管理行为的,由公安机关依法给予治安管理处罚。

——《中华人民共和国食品安全法实施条例》

(2) 有人认为《中华人民共和国食品安全法实施条例》体现了国家食品安全四个最严的要求。请结合材料二内容简单论述。

提示: 这种观点是正确的。《中华人民共和国食品安全法实施条例》明确违法企业负责人员的处罚措施,依法从严从重处罚情节严重的食品安全违法行为,明确重点监督的行业,明确利用会议讲座等形式对食品进行虚假宣传的处罚措施,明确食品安全信息发布相关法律责任,使食品安全监管政策的落实更加具有可操作性,是国家意志的体现,体现了国家食品安全四个最严的要求。

[评价活动]

(1) 2022 年 10 月 16 日是第 42 个“世界粮食日”,主题是“不让任何人掉队。更好生产、更好营养、更好环境、更好生活”。“世界粮食日”的设立旨在 ()

- A. 从根本上解决世界粮食危机
- B. 增强公众对世界饥饿问题的认识
- C. 彻底摆脱世界粮食生产困境
- D. 有效保证世界粮食的供应安全

B 解析: 结合所学知识可知,“世界粮食日”的设立旨在唤起全世界对发展粮食和农业生产的高度重视,增强公众对世界饥饿问题的认识,B 项正确;世界粮食日的设立并不能从根本上解决粮食危机,排除 A 项;C 项错在“彻底摆脱”,排除;世界粮食日不能保障世界粮食供应安全,排除 D 项。

(2) 2023 年央视“3·15 晚会”曝光的“香精大米”事件再度引发了人们对食品安全问题的关注。以下不属于出现食品安全问题原因的是 (C)

- A. 化肥、农药的过度使用
- B. 过度使用食品添加剂
- C. 耕地面积不断减少
- D. 禽畜饲养过度使用抗生素

任务总结

如何应对粮食安全问题

1. 国际层面

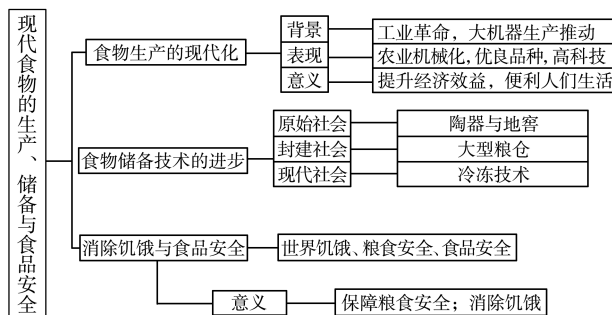
- (1) 粮食安全是当今各国共同面临的问题,需要加强国际合作。
- (2) 建立公正合理的国际经济新秩序。

2. 国家层面

- (1) 把保障粮食安全和消除饥饿作为首要任务。
- (2) 制定粮食安全行动计划。
- (3) 保护耕地资源,遏制耕地锐减的态势。
- (4) 制定保障粮食安全的法律、法规。
- (5) 改进技术,加大对农业的投入,提高粮食产量。

3. 个人层面:增强人们的粮食安全意识,厉行节约。

► 提质归纳



1. 食物生产的现代化是从传统手工业生产向机械化、集约化和产业化发展的过程。
2. 现代食物储备技术的进步主要得益于制冷技术的进步。
3. 应对粮食安全是当今世界各国共同面临的问题。中国为世界粮食安全问题的解决作出了巨大贡献。

课后素养评价(三) 现代食物的生产、储备与食品安全

基础性·能力运用

知识点 1 食物生产的现代化

1. 农业是人类衣食之源、生存之本,是一切生产的首要条件。大机器生产的使用对农业的影响是 ()

- A. 传统农业得以飞速发展
- B. 现代农业得以形成发展
- C. 使农业的产量有所增加
- D. 节约了从事农业的劳动力

B 解析:工业革命后,资本主义大机器生产推动着传统农业向现代农业转变,故 B 项正确,A 项错误。C、D 两项都属于现代农业发展的表现,排除。

2. 与袁隆平相关的重大科学成就是 ()

- A. “两弹一星”
- B. 杂交水稻
- C. “神舟五号”
- D. “银河—I 号”

B 解析:袁隆平的杰出贡献是培育出了“中国超级杂交水稻”,为中国和世界的粮食增产作出了重要贡献,故选 B 项。

知识点 2 食物储备技术的进步

3. 在中国古籍《周礼》中提到过一种用来储存食物的“冰鉴”。这种“冰鉴”其实是一个盒子似的东西,内部是空的。“冰鉴”具有的功能是 ()

- A. 防鼠防盗
- B. 防潮防火
- C. 防腐保鲜
- D. 低氧储藏

C 解析:“冰鉴”类似今天的冰箱,只要把冰放在里面,然后再把食物放在冰的中间,就可以对食物起

到防腐保鲜的作用,C 项正确。

4. 2022 年 9 月 16 日,宁波象山开渔节在石浦渔港举行了开船仪式。休渔期结束后,大批新鲜海鲜能够迅速地来到我们餐桌,主要是借助了 ()

- A. 腌制加工
- B. 速冻加工
- C. 低氧储藏
- D. 冷链物流

D 解析:新鲜海鲜能够迅速来到餐桌主要得益于冷链物流的发展,故选 D 项;腌制加工是古代保鲜的方式且无法保证食物的鲜美,排除 A 项;速冻加工后的食物已经不是鲜活的了,排除 B 项;低氧储藏影响食物的鲜活程度,排除 C 项。

知识点 3 消除饥饿与食品安全

5. 我国年消费的粮食数量 2021 年达到 14 000 亿斤左右,而世界粮食市场的可贸易量只有 6 800 亿斤。我国每年消费大米 2 900 亿斤,而世界市场大米的可贸易量只有 700 亿斤。我国每年消费猪肉 5 400 万吨,而世界市场的可贸易量只有 900 多万吨。这一状况 ()

- A. 源于各国对粮食生产的轻视
- B. 凸显了粮食自给的重要性
- C. 激化了我国的粮食紧缺问题
- D. 对世界食品卫生形成威胁

B 解析:根据材料可知,我国靠国际贸易无法满足对粮食的需求,凸显了我国粮食生产自给自足的必要性,B 项正确;材料并未反映出各国对粮食生产

的轻视,排除 A 项;材料反映了粮食自给的重要性,未反映我国存在粮食紧缺问题,排除 C 项;材料与世界食品卫生问题无关,排除 D 项。

6. 我国卫生部牵头制定的文件规定:乳及乳制品中禁止使用三聚氰胺;含辣椒类的食品中禁止使用苏丹红。国家食药监管局明文禁止在餐饮中添加罍粟壳。黑龙江省则提出全省由大粮仓变身“绿色大厨房”。由此可见,我国 ()

- A. 为粮食增产提供政策支持
B. 对食品安全问题高度重视
C. 注重提高食品的科技含量
D. 坚持农业可持续发展战略

B 解析:根据材料可知,我国对食品中添加剂的规定,对餐饮调味品的使用规定,以及绿色食品的发展,共同展现了政府对食品安全问题的高度重视,故选 B 项;A、C、D 三项材料未体现,排除。

综合性·创新提升

7. 由我国自主研发的世界最大全潜式养殖网箱“深蓝一号”从海底渐渐浮上水面,捕出的三文鱼通过养殖工船转运到近岸海洋牧场进行验收。这反映了我国 ()

- A. 海洋捕捞的机械化 B. 水产养殖的集约化
C. 农业生产的自动化 D. 牧业生产的大型化

B 解析:“深蓝一号”是深海三文鱼养殖网箱,这体现的是水产养殖的集约化,B 项正确。

8. 20 世纪 90 年代以来,日本加快推进农业精深加工,例如将稻谷除加工成稻米外,也开发成大米面膜、洁面乳液、肥皂等产品。我国台湾地区推行“农业+N”模式,如农业+休闲+观光+养生+教育培训等,“高端、小众”特色农业发达。由此可知,上述农业模式 ()

- A. 着力扩大农业生产规模
B. 重视农业产业化经营
C. 使食品供应得到有效保障
D. 注重农产品质量安全

B 解析:根据材料可知,日本发展农产品深加工,台湾推广“农业+N”模式,即重视农业产业化经营,故选 B 项;扩大农业生产规模与材料不符,排除 A 项;农业机械化、集约化提高了生产效率,保障了食品供应,与材料无关,排除 C 项;注重农产品质量安全与材料不符,排除 D 项。

9. 第二次世界大战后,随着经济的发展,人们生活节奏加快,美、日、欧等国家的家庭妇女就业率普遍增加,人们不愿花费太多的时间在厨房里,加之普遍喜欢旅游、野餐等休闲活动,冷冻食品受到消费者的极大欢迎,成为当今世界发展最快的食品工业之一。这表明冷冻食品的兴起 ()

- A. 适应了社会发展的需要
B. 推动了食品保存的智能化
C. 提高了冷链物流的水平
D. 增强了世界粮食储备能力

A 解析:根据材料“生活节奏加快”“妇女就业率普

遍增加”“不愿花费太多的时间在厨房”“休闲活动”等并结合所学知识可知,冷冻食品的兴起适应了社会快速发展的需要,A 项正确;B、C 两项材料中并未体现,排除;冷冻食品的兴起并不代表增强了世界粮食的储备能力,排除 D 项。

10. 2022 年,我国水稻、小麦、玉米三大粮食作物化肥农药利用率均超过 40%,使用量连续多年保持下降趋势。农田灌溉水有效利用系数达到 0.568,较 10 年前提高了 0.052。这表明我国 ()

- A. 粮食总产量得到极大提升
B. 农业科技居于世界领先地位
C. 粮食生产向绿色高效转型
D. 农业生产实现连年高速增长

C 解析:根据材料“我国水稻、小麦、玉米三大粮食作物化肥农药利用率均超过 40%,使用量连续多年保持下降趋势”反映出粮食生产向绿色转型,而“农田灌溉水有效利用系数达到 0.568”反映出粮食生产向高效转型,C 项正确;材料中并没有反映“粮食总产量”的相关信息,排除 A 项;材料没有将中国的农业科技没有和世界其他地区进行比较,因此无法得出居于世界领先地位这个结论,排除 B 项;材料没有提到与粮食产量相关的信息,排除 D 项。

11. 粮食安全是 20 世纪 70 年代以来人类面临的严峻挑战之一。“粮食安全的最终目标是,确保所有的人在任何时候既买得到又买得起他们所需的基本食品。”这一具体目标 ()

- A. 确保了生产足够数量的粮食
B. 旨在确保需要粮食的人都能够获得粮食
C. 最大限度地稳定了粮食供应
D. 确保所有人能吃到品种多样的优质食物

B 解析:根据材料“粮食安全的最终目标是,确保所有的人在任何时候既买得到又买得起他们所需的基本食品”并结合所学知识可知,这一目标是保

证需要粮食的人都能获得粮食,B项正确;A项材料无从体现,排除;材料没有提到粮食供应,排除C项;D项过度理解材料,排除。

12. 阅读下列材料,回答问题。

材料一 我国古代的粮食亩均产量汉代为132千克、南北朝为128.5千克,唐前期为167千克,唐后期为154.5千克,宋代为154.5千克,元代为169千克,明代为173千克,清代为183.5千克。

——摘编自郑正、王兴平《古代中国人寿命与人均粮食占有量》

材料二 汉武帝元鼎三年发生大旱,40多个郡国发生饥荒,出现人吃人的现象。各州郡因水旱灾害发生饥荒死去的人数动辄以千计。

——摘编自邓拓《中国救荒史》

材料三 中华人民共和国成立后,党中央对防治农业自然灾害非常重视,成立了中央防汛指挥部,后来改名为国家防汛抗旱总指挥部,具体组织领导全国抗旱防汛等防灾减灾工作,气象部门从为农业生产提供服务的要求出发,开展了灾害预报预警、水旱情况监测等工作,民政部门先后制定了《应对突发性自然灾害工作规程》《灾害应急救援工作规程》《春荒、冬令灾民生活救助工作规程》等文件,规范了自然灾害的应急处置、响应程序和灾情会商等各项机制,做到大的自然灾害救灾物资24小时内到位,中央资金三天内到位。

中国是一个人口大国,确保14亿人的吃饭问题,始终是治国安邦的头等大事。党和政府历来非常重视粮食生产,出台了确保粮食安全政策,用世界约10%的耕地,生产了世界上四分之一的粮食,养活了世界上近五分之一的人口,取得

了惊人的成就,为全球的粮食安全作出了重大贡献,这些政策主要有:实行严格的耕地保护政策;实行粮食补贴政策;实行粮食最低收购价政策;实行粮食储备政策;推进粮食科技政策。

——摘编自刘宇杰《告别饥荒——饥荒成因与应对的历史考察》

根据上述材料并结合所学知识,以“饥荒”为主题写一则历史短文。(要求:观点明确,表述成文,叙述完整;立论正确,史论结合;逻辑严密,条理清晰)

答案:示例

观点:科技进步助推饥荒问题的解决。

论证:中国古代生产力水平较低,粮食产量和人口增长之间的矛盾尖锐,人均粮食占有量有限,政府无力应对饥荒及各种疫病。中华人民共和国成立后,随着生产力的逐步发展和科技水平的提高,我国一方面通过推进粮食科技政策,增加了粮食的产量,为人类消除饥饿作出了突出贡献。另一方面,气象部门从为农业生产提供服务的要求出发,开展了灾害预报预警、水旱情况监测等工作,提高了自然灾害的应急反应能力,减轻了自然灾害对粮食安全问题的影响。

因此,科学技术的进步有利于解决饥荒问题。

解析:材料一中反映了我国粮食平均亩产从汉代到清代的增加情况;材料二反映了汉代饥荒情况;材料三反映了中华人民共和国成立后,政府解决饥荒问题的措施及中国在解决饥荒问题上取得了巨大成就,为全世界作出了贡献和表率。本题可以抓住中华人民共和国成立是中国解决饥荒问题的关键,以此为题结合材料和所学知识进行论述。

易错强化练(一) 食物生产与社会生活

练易错

易错点 1 | 从食物采集到食物生产

[防范要诀]

1. 农业的出现,使人类开始从食物采集者转变为食物生产者。
2. 不同地区农业、饲养业生产具有不同的地域特色,促进了各自文明的产生与发展。
3. 农业和畜牧业产生后,随着生产力的发展,产品有了剩余,使氏族内部出现了贫富分化,私有制产生,阶级与国家应运而生。

[对点集训]

1. 有学者指出,从社会发展和分层角度而言,人类的食物结构在原始社会无差别或差别很小,进入阶级社会后,差别出现并逐渐拉大。这意在说明 ()
 - A. 阶级压迫加大了贫富差距
 - B. 奴隶社会落后于原始社会
 - C. 社会发展拉大了不同阶层食物结构的差距
 - D. 人们的生活水平取决于其生产食物的能力

C 解析:学者首先明确研究角度即社会发展和分层角度,然后对比原始社会和阶级社会,指出进入阶级社会后,人类的食物结构出现差别并逐渐拉大,以此说明社会发展拉大了不同阶层食物结构的差距, C 项正确;“阶级压迫加大了贫富差距”与社会发展和分层角度不符, A 项错误;奴隶社会代替原始社会是历史的进步, B 项错误;“人们的生活水平取决于其生产食物的能力”与该学者的研究角度不符, D 项错误。

2. 大豆原产于中国北方。北朝的《齐民要术》指出大豆可以改良土壤,主张大豆与其他作物轮种;唐宋时期大豆种植推广到江南及岭南地区。这说明 ()

- A. 土地利用的效率显著提高
- B. 经济重心在逐渐向南转移
- C. 自给自足的经济日益完善
- D. 饮食的结构发生根本改变

A 解析:根据材料可知,在《齐民要术》的影响下,人们对大豆的认识逐渐加深,大豆由北方迅速推广到江南及岭南地区种植,反映出土地利用效率提高,故选 A 项;材料反映的是大豆种植地域的扩大,与经济重心的南移无关,排除 B 项;材料与经济形态无关,排除 C 项;材料反映的是种植结构,而不是饮食结构,排除 D 项。

易错点 2 | 新航路开辟后的食物物种交流

[防范要诀]

1. 新航路的开辟使美洲作物经欧洲传播到世界各地,同时世界其他地区的物种也传入美洲并得以推广,对美洲影响巨大。
2. 食物物种的交流丰富了人们的饮食,改变了人们的饮食习惯,对经贸和环境产生了一定影响。

[对点集训]

3. 新航路开辟后,大宗烟草、玉米、橡胶等新物产出现于欧洲市场;原来在近东贸易中数量极少的商品,如香料、茶叶、大米、蔗糖等成为大宗商品……许多昔日的奢侈品逐渐成为大众日用品。这反映出当时欧洲 ()
 - A. 社会贫富差距减小
 - B. 资本主义世界市场最终形成
 - C. 抗击饥荒能力增强
 - D. 民众的消费习惯正在改变

D 解析:根据材料可知,新航路开辟后,新物种、原本数量极少的商品、昔日的奢侈品逐渐成为大众日用品,说明民众的消费习惯正在改变,故选 D 项;材料与贫富差距无关,排除 A 项;资本主义世界市场最终形成是在第二次工业革命后,排除 B 项;材料与“抗击饥荒能力”无关,排除 C 项。

4. 由于甘蔗种植需要强烈的阳光和长时间的密集劳动,且甘蔗园往往疟疾肆虐,因此,蔗糖在中世纪的欧洲是难得的奢侈品。15 世纪,英国人年均蔗糖摄取量几乎为零;但到 19 世纪初,这一数字已上升至 8 千克,蔗糖不再是奢侈品。产生这一变化的主要原因是 ()

- A. 人口增长与医疗水平的提高
- B. 新航路开辟使东西方贸易更加便捷
- C. 殖民扩张与黑奴贸易的兴盛
- D. 工业革命大幅提升民众的消费能力

C 解析:欧洲人在征服美洲后建立了大量甘蔗种植园,为降低劳动力成本,适应恶劣条件下的劳动强度,欧洲人大量使用从非洲贩来的黑奴进行甘蔗种植,使得甘蔗的生产成本下降,产量提高,蔗糖不再是奢侈品,并且逐渐普及,故导致这一变化的主要原因是殖民扩张和黑奴贸易的兴盛,故 C 项正确。

易错点 3 | 现代食物生产、储备与食品安全

[防范要诀]

1. 食物生产的现代化, 主要体现为农业生产的现代化。农业的机械化、集约化和产业化提高了农业生产效率, 保障了食品供应。
2. 科学技术的发展, 增加了粮食仓容量, 实现了粮食储备的自动化和智能化。冷冻食品工业得以迅猛发展。
3. 消除饥饿和食品安全是各国政府的重要职责, 也是国际组织重视的重要问题。

[对点集训]

5. “渔光一体”模式是将光伏发电与水产养殖有机结合, 通过在水面上架设光伏电池板, 在水面下养殖鱼虾的模式, 达到养殖和发电的并行发展。与传统水产养殖相比, 这种模式的突出优势是 ()
 - A. 彻底解决了我国的食品安全问题
 - B. 降低了生产成本, 提高了水产品质量
 - C. 有利于实现产业叠加和资源共享
 - D. 解决了当前困扰我国的雾霾问题

C 解析: 与传统的水产养殖相比, “渔光一体”模式下的水产养殖的突出优势表现在实现了养殖和发电的产业叠加和资源共享, 故 C 项正确。“渔光一体”模式与解决食品安全问题无关, 故 A 项错误; “渔光一体”模式使生产成本提高了, 清洁能源的使用也提高了养殖户的收益, 但与水产品的质量无关, 故 B 项错误; 清洁能源的使用能缓解当前困扰我国的雾霾问题, 但“解决”一词表述不恰当, 故 D 项错误。
6. 《食物越多越饥饿》一书中写道: “美国超过 90% 的牛奶来自同一个品种的奶牛, 市场上 90% 的鸡蛋来自同一个品种的蛋鸡, 所以当这些品种的动植物出现疾病后, 人们可能会找不到或不能及时找到抵抗传染病的方法。”此观点意在说明 ()
 - A. 人类食物多样性走向衰落
 - B. 工业化生产提高了粮食供应量
 - C. 现代农业隐含着安全问题
 - D. 美国最先解决了食物短缺问题

C 解析: 根据材料可知, 由于美国奶牛和蛋鸡品种单一, 如果出现疾病, 将会造成比较大的损失, 说明现代农业隐含着安全问题, C 项正确; 材料涉及的是现代农业问题, 并未涉及人类食物的特征, 排除 A 项; 材料未涉及工业化生产对于粮食供应量的影

响, 排除 B 项; 仅据材料无法得出“美国最先解决了食物短缺问题”的结论, 排除 D 项。

练疑难

7. 以下是有关文献中关于神农氏的神话传说, 据此可推知 ()

古者民茹草饮水, 采树木之实, 食羸虻之肉, 时多疾病毒伤之害。于是, 神农乃始教民播种五谷	《淮南子》
古之人民, 皆食禽兽肉。至于神农, 人民众多, 禽兽不足。于是神农因天之时, 分地之利, 制耒耜, 教民农作	《白虎通义》

- A. 神农氏所处时代已有了原始农业
 - B. 神话传说不能反映历史的真相
 - C. 抵御疾病毒伤是先民的首要任务
 - D. 人们开始从频繁迁徙走向定居
- A 解析:** 根据材料“神农乃始教民播种五谷”“神农因天之时……教民农作”可知, 神话传说中神农氏时期已有原始农业, 故选 A 项; 神话传说有一定的史料价值, 但需要严格考证, 排除 B 项; 生存是先民的首要任务, 排除 C 项; 距今 1 万年左右, 早期农业的出现促使人们从频繁迁徙走向定居, 但神话传说无法界定神农氏所处的具体时代, 排除 D 项。
8. 在印第安人的部落和村社中, 玉米磨坊设置在村镇中心, 因为家家户户都要磨面, 所以磨坊也是全村的重要社交场所。有时村民大会也在这里举行, 从而又使磨坊与“权力”联系在一起。这反映了 ()
 - A. 玉米是美洲的主要粮食作物
 - B. 印第安人实行直接民主
 - C. 食物生产对社会生活的影响
 - D. 印第安人注重集体活动

C 解析: 根据材料并结合所学知识可知, 玉米是美洲的主要粮食作物之一, 在印第安人的部落和村社中, 玉米磨坊是重要社交场所, 又与“权力”联系在一起, 这反映了玉米生产对印第安人的社会生活有重要影响, C 项正确。
 9. 16 世纪以后, 欧洲市场上胡椒供应量比 14 世纪中叶充足很多, 胡椒价格下降, 进入更多寻常人家的餐桌。此时, 受到贵族青睐的是蔗糖、巧克力、茶叶和烟草。这说明 ()
 - A. 价格革命催生了洲际物种的交流
 - B. 新航路的开辟削弱了贵族的地位

C.食物被赋予区分社会等级的功能

D.欧洲贵族全面接受美洲饮食文化

C 解析:根据材料可知,胡椒因供应量大增,不再是贵族身份的象征,贵族开始青睐其他食物,如蔗糖、巧克力等,这反映了食物被赋予区分不同社会等级的功能,故选C项;商业革命促进了物种交流,且在新航路开辟前洲际物种交流就已经存在,排除A项;材料无法得出新航路开辟削弱了贵族的地位,排除B项;“全面”表述过于绝对,排除D项。

10.下表所示为2000—2020年我国玉米生产与贸易情况。由此可知,当今我国 ()

年份	2000	2010	2020
总产(万吨)	10 600	19 075	26 067
播种面积(亿亩)	3.5	5.2	6.2
进口(万吨)	0	157	1 130
出口(万吨)	1 047	13	0

A.严重依赖粮食进口

B.逐渐扩大贸易市场

C.高度重视粮食安全

D.消除饥饿任重道远

C 解析:根据材料可知,2000—2020年我国玉米总产量、播种面积和进口数量都呈增加趋势,出口呈现下降趋势,说明我国一方面努力增加粮食产量,另一方面增加进口量、减少出口量,体现了我国高度重视粮食安全,C项正确;2000—2020年我国进口玉米数量虽然有所增加,但不能据此得出我国“严重依赖粮食进口”的结论,排除A项;材料无法看出我国逐渐扩大贸易市场,排除B项;材料没有体现我国存在饥饿问题,排除D项。

11.阅读下列材料,回答问题。

材料一 目前,我国农业现代化过程中还面临不少问题。农业科技与先进水平仍有不少差距,而且我国农业科技创新投入不足,研究和创新立项不是来源于市场和农业生产需要,所以出现技术

创新成果不适应农业生产的实际需要的问题。农业科技体制不完善,农业科技成果转化为市场效益的只有40%左右,低于发达国家的80%以上的水平。农民的知识水平比较低,只有极少数人掌握科学生产技术。

材料二 2014年中央一号文件的主题为“全面深化改革,加快推进农业现代化”。文件强调农业是安天下稳民心的产业,要增强农业综合生产能力,走中国特色新型农业现代化道路,保障国家粮食安全和促进农民增收。

(1)材料一、二分别说明了什么?

(2)根据材料一、二并结合所学知识,谈谈怎样实现我国农业现代化。

答案:(1)材料一说明了我国农业现代化水平还比较低,与发达国家相比还有较大差距;我国必须要深化改革,推进农业现代化。材料二说明我国重视三农问题,加快推进农业现代化,以保障国家粮食安全。

(2)加大对农业科技创新的投入,为农业科技的进步提供经济保障。立足自主创新,增加农业科技创新成果,提高农业科技水平。改革完善科技体制,提高农业科技成果的市场转化率。加强对农民的专业知识培训,创新农业科技的推广模式和服务方式,提高农民劳动生产率。坚持对外开放,引进外国先进的农业生产技术成果,提高我国农业生产水平。创新农业科研管理体制,建立以市场和农业生产为导向的研究体制,提高科研的针对性和实效性。

解析:第(1)问,注意提问是“分别”,材料一主要讲的是我国农业存在的问题,材料二反映的是国家相关政策,体现我国重视“三农”问题。第(2)问,注意提取材料的信息,结合所学知识从多角度回答。

单元活动构建

食物生产与社会生活

【主题性概述】

远古时期,人类以采集、渔猎为生。大约1万年前原始农业出现,为人类文明的诞生奠定了物质基础。世界各地因自然条件的差异,农业生产内容也不尽相同。随着近代新航路的开辟,新旧大陆的食物物种在全球范围内大交换,极大地丰富了人类的食物种类。18世纪开始的工业化,推动了人类食物生产的现代化进程。20世纪中叶开始的“绿色革命”提高了粮食产量,同时也带来了环境损害等新问题。

构建任务一 近代以来食物物种的传播带来的影响

「学术性观点」

观点一 欧洲人来到新大陆后,陆续带来旧大陆的农作物,能成功传播的并不多,但小麦的特性决定其必将在新大陆得到推广。其原因有几点:首先,小麦是欧洲人的主食,白人离不开面包(小麦制成)。往来于新旧大陆的交通工具只有船,欧洲人不可能长期跨洋运送面粉,这样成本太高,运输量也有限,要解决面粉的供应问题,就只能在新大陆种植小麦。其次,传教士的布道活动推动了小麦传播,传教士需用面粉制作圣餐中的面包,于是在传教区附近广泛试种小麦。再次,美洲土地肥沃,很多地方适宜种小麦。西班牙征服秘鲁之后,便在潮湿的低地试种稻、麦、甘蔗、香蕉等作物。西班牙人迪里昂曾谈道:“在阿雷基帕一带,小麦长势极佳……用其做出的面包非常好吃。”1776年,《美国农业》(杂志)也提道:“种烟草需要大量肥土。而谷物却不同,我们在原先种烟草的土地上继续种小麦,再适当施肥,便可获得丰收。”最后,小麦具有巨大的市场潜力。有美洲的农民在1697年谈道:“小麦在此长势良好,收割后被大量卖到巴巴多斯、里沃德岛、新英格兰等地。”对于美洲印第安人而言,最初种麦的原因有两点:一是补充本地食物及营养的不足;二是利用其冬天的闲暇时间,扩充作物种类。

——摘编自张兰星《旧大陆小麦在新大陆的栽种及传播》

观点二 据《汜胜之书》和《四民月令》的统计,我国汉代栽培的蔬菜21种,魏晋时期增加到35种,至清代进一步增至176种,其中有不少是新近引种的美洲作物,如南瓜、辣椒、番茄、菜豆、洋葱、荷兰豆等。我国原有蔬菜适宜夏季高温季节栽培供应的较少,一些美洲原产蔬菜种类的引种,改变了我国蔬菜供应中伏短缺的问题,形成了大部分地区夏季以茄瓜果为主的蔬菜生产格局。明清时期美洲花生和向日葵的传入,为我国油料生产增添了新的原料,进一步丰富了我国的

食用油品种。因这些农产品市场需求旺盛,从而为丰富人民生活、增加农民收入起到了积极的促进作用。由于花生、烟草、棉花等作物市场价格远高于粮食作物,因此美洲作物商品性生产达到了相当高的程度,成了农民谋生致富的一种重要手段。

——摘编自王思明《美洲原产作物的引种栽培及其对中国农业生产结构的影响》

「开放性活动」

情境材料:历史上很长一段时间里,多数人并没有选择吃的权利。不过,这一情况随着人类社会步入近代而发生了巨大变化。

食物的大交换

15世纪末,新大陆被发现后,美洲特有的农作物被带到了欧洲,进而传播到非洲和亚洲。像玉米、土豆、红薯等作物,不仅提供了多样化的食物选择和足够的能量,更成为人们在饥馑之年的救命口粮。到1800年左右,取材于美洲的蔗糖已经成为欧洲普通人的日常必需品。同时,旧大陆的一些农作物和家畜被欧洲人带到了美洲;不过,家畜的过快繁殖也引发了美洲的生态危机……至少在欧洲,新旧大陆之间的食物大交换间接促成了一个更为平等社会的出现。当然,欧洲这种平等的背后是上千万背井离乡的黑人奴隶的血泪史。

食物的工业化

工业化食品的出现,解决了食物的保存和运输两大问题。1835年、1873年,美国人雅各布·珀金斯和德国人卡尔·冯·林德在大西洋两岸先后发明了制冷机和冷冻机。同时,借助同时代铁路和航运技术的发展,大宗肉类食物的跨国和远洋运输不再是问题。大型屠宰厂、肉类加工厂、罐装食品厂纷纷建立,之前手工烹制食物的“温情脉脉”被标准化大规模生产所追求的效率和价值所取代。但总体而言,民众尤其其日益扩大的社会中下层人士从食品的工业化中还是得

到了好处。

食物在全球范围内的传播

西方食物在向全球挺进的同时，必须经历一个被“地方化”的过程。也就是必须适应当地的饮食习惯和文化传统。如K公司为了迎合中国人的口味，推出了粥、油条和大饼等产品。

随着西方快餐和工业加工食物的传播，肥胖、心脏病、糖尿病等与不健康饮食有关的疾病也在扩散。一系列新的健康风险抵消了工业化食物的好处，也让人们开始警觉快餐和工业化食物的弊端。

——摘编自张旭鹏《舌尖上的世界：近代以来食物从区域到全球传播》

问题：根据材料并结合世界史的相关知识，围绕“近代以来食物的传播与人类社会发展”这一主题，自拟一个论题，并加以论述。（要求：任选一个历史时期或全面综合考察皆可，论题明确，史实准确，史论结合）

解答：

示例一

论题：近代以来食物的不断传播深刻地影响着世界。

论述：自新航路开辟始，经过两次工业革命，20世纪90年代以来，世界各地联系不断加强，日益形成一个整体，世界市场逐渐形成并向全球化发展。这一过程也推动了食物从区域到全球的传播。近代以来，食品加工技术与其他科技的发展，丰富了人们的饮食结构，提高了人们的生活质量，这既有利于加强世界各地之间饮食文化的交流与融合，也深刻地影响着世界各地的社会发展。但由此而日益滋生的食品卫生与安全等健康风险问题不容忽视，应予以关注。

总之，近代以来世界联系日益密切，食物也突破区域限制不断向全球范围传播，给人类社会的发展产生了深远影响。

示例二

论题：工业革命时代的食物发展与传播深刻地影响着世界。

论述：两次工业革命极大地改变了人们的生存条件与生活环境，也推动了世界市场的最终形成。两次工业革命的重要成果，即交通运输的进步，电及电器的广泛应用等，不仅促进了食物在全球范围内的传播，也催生了标准化生产及工业化食品的出现。一方面，提高了食品加工的效率，进一步满足与丰富了普通民众的饮食需求；另一方面，也冲击了传统手工食品，改变了人们的饮食习惯与理念。

总之，工业革命推动了食物的快速发展与更大范围的传播，而工业化食品的出现与传播对人类社会的发展产生了深远影响。

「常规性活动」

1. 15世纪末至16世纪初，原产于美洲的玉米、马铃薯、甘薯、番茄、辣椒等，由西班牙人和葡萄牙人带到欧洲，后来传播到亚洲、非洲等其他大洲。同时，也有很多欧亚作物传入美洲，主要有小麦、水稻、苹果、葡萄、黄瓜、豌豆、甘蔗等。这一状况反映了

()

- A. 新航路开辟促进了食物物种交流
- B. 人们的饮食习惯得到根本改变
- C. 殖民扩张活动扩展了欧洲的势力
- D. 物种交流推动了世界经济发展

A 解析：根据材料可知，新航路开辟后，促进了食物物种的相互交流，A项正确；“根本改变”表述过于绝对，排除B项；材料并未体现殖民扩张活动扩展了欧洲势力，排除C项；材料只提到了食物物种交流，无法说明物种交流推动了世界经济发展，排除D项。

2. 甘蔗原产地在东南亚，主要在亚欧大陆种植。16世纪后，甘蔗传入美洲并成为重要作物，成为不折不扣地综合了“亚洲作物、欧洲资本、非洲人力和美洲土壤”的国际性作物。这一变化

()

- A. 引发了全球性的物种大交流
- B. 标志着世界市场已完全形成
- C. 推动了人类文明的发展进程
- D. 给美洲地区带来了深重灾难

C 解析：根据材料可知，甘蔗的传播反映了人类各文明不再是孤立地存在于某一区域，而是走向了彼此交流的一个整体，因而推动了人类文明的发展进程，C项正确；材料中的变化只是全球性物种大交流的一个表现，而不是引发物种大交流的原因，排除A项；B项与材料时间不符，第二次工业革命后，世界市场最终形成，排除B项；材料现象促进了美洲的开发，给美洲地区带来深重灾难的是欧洲殖民者的屠杀和掠夺，排除D项。

3. 下面是外来物种传入中国简况表。这些物种的传入是

()

品种	传入中国时期
玉米	16世纪传入中国，清代在全国得到推广
花生	16世纪(明中期)传入中国
烟草	17世纪初(明末)传入中国
甘薯	16世纪传入中国南方，清初传至北方

- A. 西方工业革命的产物
- B. 明清政府对外政策的结果

- C.新航路开辟的客观影响
D.世界市场形成的主要表现

C 解析:结合所学知识可知,新航路的开辟,引发了世界物种的大交换,推动美洲的玉米、番薯及烟草等作物传入中国,C项正确;此时工业革命尚未开始,排除A项;当时明清政府推行闭关自守政策,排除B项;第一次工业革命完成后,资本主义世界市场初步形成,排除D项。

- 4.“几千年来,东、西半球与大洋洲的物种都是独立地沿着各自的轨迹进化的。欧洲的航海探险在这些生物地域之间建立了联系,引发了新一轮的物种交流,永久性地改变了世界人口分布和自然环境。”材料表明新航路开辟后 ()
A.人类的地理知识不断丰富

- B.出现了全球性的物种交换
C.世界彻底连成了一个整体
D.欧洲成为世界贸易的中心

B 解析:根据材料“欧洲的航海探险在这些生物地域之间建立了联系,引发了新一轮的物种交流,永久性地改变了世界人口分布和自然环境”可知,新航路开辟后世界联系加强,促进了物种的交流,B项正确;材料强调的不是地理知识的进步,排除A项;“彻底”表述过于绝对,排除C项;D项与材料主旨无关,排除。

「活动后结论」

得出你的结论: _____

构建任务二 粮食安全与食品安全问题

「学术性观点」

观点一 第二次世界大战结束后,日本国内爆发了严重的粮食危机。美国占领当局向日本投放大量粮食、器械、原料、药品等。来自美国的“亚洲救济同盟”也向日本民众提供了乳酪、大米、小麦、罐头等生活必需物资。20世纪50年代初,日本农业逐步实现自给自足。专家在日本宣传“吃米饭会变得迟钝,容易得癌症,西方的伙食方法是进步的”。美国诱导日本政府达成协议,将大量农产品低价出口日本,日本不需使用外汇,用日元支付即可,日本政府保证会继续扩大购买美国粮食。日本家庭餐桌的食物由米饭、味噌汤、鱼类、咸菜等向面包、牛排等转变。

——摘编自徐振伟《二战后美国对日本的粮食战略及其影响》

观点二 1860年,英国议会通过了历史上第一部食品法,起因是德国人弗雷德里克·阿卡姆对伦敦出售的许多面包进行了化学分析,并在1820年出版《食品掺假以及监测方法》一书,指出在面包中使用明矾漂白可能带来的种种问题。1862年,美国总统林肯任命化学家查尔斯·M.威斯利尔在新成立的农业部任职,开始分析食品、肥料、杀虫剂和其他农产品的化学成分。1906年,美国“社会丑事揭发派”作家厄普顿·辛克莱根据其在芝加哥一家肉食加工厂的生活体验写成纪实小说《丛林》,向公众揭示了美国食品加工厂生产的黑幕。据说时任总统西奥多·罗斯福读后深受触动,随后就推动通过了《纯净食品与药品法》,并因此创立美国国家食品和药品管理局(简称FDA),负责对美国境内所有人食用的食品和药品进行安全评估。

——摘编自李建军、史玉丁《食品安全规范的历史及其伦理思考》

「开放性活动」

情境材料: 罐头的历史

自古以来,人类只能依赖于自然条件进行食品贮藏保鲜,直至19世纪罐头的出现推动了贮藏保鲜方法的重大变革。

大事年表

1795年,法国政府悬赏征集军粮长期保存、防止腐烂变质的方法。

1809年,法国人阿佩尔采用意大利生物学家斯帕兰尼的加热密封法,为拿破仑军队发明了玻璃瓶装罐头。

1810年,英国人杜兰德发明锡铁罐头,罐头很快成为英国海军标准口粮。

1830年,美国辛辛那提建立了最早肉类罐头工厂,每个工人只从事单一和重复性的工作。

19世纪30年代,欧洲和美国的商店开始向民众提供鱼罐头和肉罐头。

1851年,伦敦万国博览会展出了大量罐头产品,包括来自中国和印度的罐装火腿等食品。

19世纪50年代,铁路大量建成和冰采集技术的发展,延长了罐头食品的保质期,保障了其从资源丰沛的产地调运到各大城市。

问题:根据材料并结合所学知识,对19世纪罐头食品的兴起和发展撰写一份说明。(要求:多角度提取信息,分析全面,解释合理,不少于150字)

解答:

示例

说明:19世纪初,在殖民扩张和战争中,为满足军队需要,借助科学技术,研发了罐头食品。

19世纪中期,机器工业和城市化的发展,以及世界市场的初步形成,推动罐头食品的市场逐渐从军队扩展到民间,世界各地的食材丰富了罐头食品的种类,满足了日益增长的城市人口的需要。交通和冷藏技术的进步,为产品运输和推广提供了有利条件。

罐头食品在欧美的兴起和发展是工业化和全球化的产物,是食品贮藏史上一次飞跃,为人类的饮食提供了便利和实惠。

「常规性活动」

1.近代以来,科学技术的革命促进了农业现代化,为消除饥饿、保障人类的粮食安全创造了条件。同时,农业现代化也产生了一些负面作用。对此理解正确的是 ()

- A.大型农场成为现代农业的主要生产经营模式
- B.食品添加剂的使用保证了食品的健康和美味
- C.技术进步解决了食品需求与供给之间的矛盾
- D.依靠新闻媒体监管食品安全成为各国的共识

A 解析:结合所学知识可知,工业革命后技术的发展,促使农业走向规模化、集约化,大型农场成为现代农业的主要生产经营模式,A项正确;食品的健康需要合理使用食品添加剂,“保证了”表述过于绝对,排除B项;“解决了”表述过于绝对,排除C项;“依靠新闻媒体监管”说法错误,排除D项。

2.1979—2013年,我国化肥用量由1 000多万吨增加到近6 000万吨。目前,我国农作物的亩均化肥用量远高于世界平均水平。针对以上问题,我国提出了化肥使用量零增长的目标。这说明我国 ()

- A.农用化肥使用步发达国家后尘
- B.农业科技现代化水平后来居上
- C.注重兼顾农业科技和食品安全
- D.大力提倡发展无公害绿色农业

C 解析:根据材料可知,我国化肥用量增加,亩均化肥用量远高于世界平均水平,针对这个问题,我国提出了化肥使用量零增长的目标。由此可知,我国需要加大科技研究,保证农作物产量的同时降低化肥用量,这体现了注重兼顾农业科技和食品安全,C项正确;材料并未体现发达国家的化肥使用情况,无法得出中国农用化肥使用步发达国家后尘,排除A项;材料并未体现我国农业科技现代化水平后来居上,排除B项;材料没有涉及大力提倡发展无公害绿色农业,排除D项。

害绿色农业,排除D项。

3.1945年10月,联合国粮农组织成立,把以粮食的国际储备、国际援助为支柱的世界粮食安全保障作为最大的课题。由此可知,联合国粮农组织解决人类饥饿问题的重要手段是 ()

- A.推动农业技术交流
- B.加强国际合作与协调
- C.严控食品生产安全
- D.建立国际经济新秩序

B 解析:根据材料可知,联合国粮农组织依靠国际储备、国际援助来解决饥饿问题,即通过国际合作与协调,保障世界粮食安全,B项正确;材料未说明各国总结农业生产经验交流情况,排除A项;材料未体现加强粮食安全的措施和意图,排除C项;国际经济新秩序尚未建立,排除D项。

4.19世纪末,多数西方国家的中央政府已针对食品掺假现象制定了法律法规。然而,美国食品法却是由各州政府制定的,各州从州情出发,许多规定并不一致,无法应用于跨州性食品贸易。对此现象,最有可能的结果是 ()

- A.联邦政府继续固守自由放任政策
- B.美国国内食品掺假现象更趋严重
- C.联邦政府加强对地方立法权的管控
- D.联邦政府践行国家干预主义

D 解析:根据材料“多数西方国家的中央政府已针对食品掺假现象制定了法律法规”“美国食品法却是由各州政府制定的……无法应用于跨州性食品贸易”可知,美国食品法需要从州政府制定转变为中央政府制定,意味着中央政府将加大对制定食品法的干预力度,D项正确,排除A项;制定食品法是为了规范食品生产,保障食品安全,并不一定意味着食品掺假现象严重,排除B项;材料中体现的是美国缺乏全国性的食品法,因此影响了跨州性食品贸易的发展,并不是要加强对地方立法权的管控,且这也违背了联邦制的原则,排除C项。

「活动后结论」

得出你的结论: _____

第一单元质量评估

食物生产与社会生活

(时间:90分钟 分值:100分)

一、选择题(本题包括15小题,每小题3分,共45分)

1.现代研究发现,大约在石器时代,人类就开始对野生动物进行驯化。如在2万年之前的猛犸象骸骨堆遗迹中,考古学家就发现了很多犬类啃咬的痕迹。考古学家据此推测人类在当时已经驯化了犬类,并让其辅助自己狩猎。由此可知,早期人类驯化野生动物的主要目的是 ()

- A.改善环境 B.获取食物
C.祭祀神灵 D.发展农业

B 解析:根据材料“考古学家据此推测人类在当时已经驯化了犬类,并让其辅助自己狩猎”并结合所学知识可知,人类为了更好地捕猎,获得食物,驯化了野生动物,B项正确;A项与材料主旨无关,排除;C项与史实不符,排除;发展农业是在新石器时代,排除D项。

2.据法国普罗旺斯的史前文化显示,在公元前3500年左右的时候,其家庭食物总消费量中野生动物的消费量占总消费量的60%,而在公元前1000年左右则只占到10%。这一变化说明 ()

- A.采集和渔猎的消失 B.新生产方式的推广
C.原始农业开始出现 D.原始人口迅速增加

B 解析:根据材料可知,公元前3500左右,人类家庭食物总消费量中野生动物的占比提升,到了公元前1000年左右则占比下降,体现出人类对于野生动物的驯化,使家庭有了相对稳定的动物食物来源,侧面反映出新的生产方式的推广,故选B项;采集和渔猎在当时仍然存在,排除A项;材料与原始农业的出现无关,且原始农业早已出现,不符合史实,排除C项;材料只是反映了食物构成比重的变化,没有明确人口数量的变化,排除D项。

3.据《周易·系辞下》记载,神农氏之前存在包牺氏。包牺氏“作结绳而为网罟,以佃(通‘畋’)以渔”。后来,由于民人众而禽兽少,神农氏“因天之时,分地之利,制耒耜,教民农作”。这体现了 ()

- A.古代文明的多元特征
B.社会分工日益专业化
C.精耕细作的生产模式
D.人类生产方式的变化

D 解析:依据材料“包牺氏‘作结绳而为网罟,以佃(通‘畋’)以渔’”“神农氏‘因天之时,分地之利,制耒耜,教民农作’”可以看出,材料体现了人类生产方式从采集和渔猎发展为农耕经济,即人类生产方式的变化,D项正确;材料反映的是原始社会晚期

中国生产方式的变化,不能体现“古代文明的多元特征”,排除A项;材料没有涉及社会分工,排除B项;精耕细作的生产模式是小农经济的特点,小农经济产生于春秋战国时期,排除C项。

4.截至2022年10月,在“世界灌溉工程遗产”评选中入选的30项中国古代水利工程中,在先秦时期开工或完成的有10项。对此合理的解释是,先秦时期 ()

- A.水利建设技术领先世界
B.农业生产受到高度关注
C.水上交通运输体系发达
D.粮食安全得到切实保障

B 解析:先秦时期水利工程的主要功能是抗旱排涝、改善农业生产条件,这反映出农业生产受到高度关注,故选B项;材料没有涉及比较信息,无法得出“领先世界”的结论,排除A项;水利工程不等于水上交通运输体系,排除C项;单纯水利工程无法保障粮食安全,粮食安全还受到天灾人祸、蝗灾等影响,排除D项。

5.古希腊素有“橄榄之国”之称,自古以来,希腊人民就对橄榄树有着特别的情感,视其为智慧、和平与胜利的象征。关于古希腊的橄榄种植,以下说法正确的是 ()

- A.橄榄树多种植于土地肥沃的地区
B.橄榄是古希腊人的主要粮食作物
C.橄榄种植推动了商品经济的发展
D.希腊公民禁止奴隶参与橄榄采摘

C 解析:根据材料以及所学知识可知,由于希腊地处地中海气候区,且多山地,土地贫瘠,因而不适于发展粮食种植业,但是适合种植橄榄、葡萄等经济作物,而希腊人用橄榄与海外交换粮食和其他物品,由此促进了商品经济的发展,C项正确;希腊多山地,土地贫瘠,排除A项;橄榄不是粮食作物,排除B项;材料并未体现希腊公民禁止奴隶参与橄榄采摘,排除D项。

6.玉米和马铃薯传入欧洲后,最初只是种植在庭院中作为观赏植物;16世纪末,马铃薯作为粮食作物开始在欧洲推广;17世纪,玉米成为仅次于小麦的粮食作物。这表明当时 ()

- A.新航路开辟加强了各地之间的联系
B.欧洲人追求闲情舒适的田园生活
C.物种传播改变了欧洲经济作物种植
D.物种传播丰富了欧洲人的饮食结构

D 解析:从材料可以看出,玉米和马铃薯传到欧洲以后,改变了欧洲人的食物结构,故选D项;材料并不是强调世界各地之间的联系,而是强调农作物在欧洲的传播对欧洲饮食结构的影响,排除A项;B项不符合材料主旨,排除;玉米和马铃薯是粮食作物,不是经济作物,排除C项。

7. 布罗代尔指出:“马铃薯在旧大陆的普及过程与玉米不尽相同。它的推广十分缓慢,甚至比玉米还慢,而且范围也不宽阔,许多亚洲国家几乎把它拒之门外。”这说明 ()

- A. 马铃薯在亚洲传播过程艰难
- B. 马铃薯不适宜在亚洲种植
- C. 亚洲与世界经济联系较弱
- D. 宗教信仰影响物种交流

A 解析:根据材料“它的推广十分缓慢……许多亚洲国家几乎把它拒之门外”并结合所学知识可知,马铃薯在亚洲地区推广的速度慢,且传播范围小,大多数亚洲国家拒绝推广马铃薯种植,导致马铃薯在亚洲的传播过程艰难,A项正确;根据史实可知,马铃薯适合在亚洲种植,排除B项;根据材料无法判断“亚洲与世界经济”联系的强弱,排除C项;材料未涉及“宗教信仰”问题,排除D项。

8. 1745年,陕西巡抚陈弘谋颁布《劝民领种甘薯谕》:“陕省向无此物。陕民亦不知此物之可食而又易生……须各官先行觅地试种,或租民地试种……一俟有收,民间见其可食,然后令民依种,自不费力,但不可相强。试成者奖之,不成亦不必问。”这表明 ()

- A. 美洲作物开始传入中国
- B. 民众普遍抵制新的农作物推广
- C. 陕西农业发展十分落后
- D. 政府利用行政手段引导农业发展

D 解析:通过题干中内容可知,陕西巡抚陈弘谋通过行政手段引导农民种植甘薯,“试成者奖之,不成亦不必问”,故选D项;美洲作物传入中国是在明朝时期,而题干的时间点“1745年”属于清朝时期,排除A项;题干中没有提及陕西省民众对试种甘薯的态度,排除B项;“陕省向无此物”是说陕西省以前没有甘薯这种农作物,至于该地区的经济发展状况在题干中没有提及,排除C项。

9. 美洲作物引进中国大多发生在明清之际,总数接近30种;新旧大陆物种的交流包括中国的瓷器、丝绸、茶及一些农作物等输入美洲;欧洲人饮用从中国和印度输入的茶,食用来自美洲的可可加工成的巧克力。这表明 ()

- A. 新航路开辟后,物种实现了世界的自由流动
- B. 殖民扩张活动加强欧洲对亚洲和美洲的掠夺
- C. 新航路开辟促进了物种交流,丰富了民众生活
- D. 殖民扩张活动成为沟通美洲和亚洲的纽带

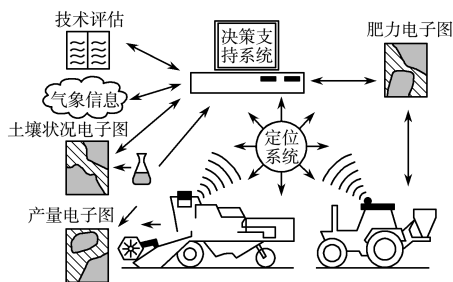
C 解析:新航路的开辟结束了世界各地相对孤立的状态,各地日益连成一个整体,但“实现了世界的自由流动”说法过于绝对,故A项错误。材料强调的是新航路开辟对亚、欧、美洲物种交流的影响,而不是欧洲的殖民扩张活动,故B、D两项错误。材料反映了新航路开辟后,新旧大陆的物种交流增多,这说明新航路开辟促进了世界物种交流,丰富了世界各地人民的生活,故C项正确。

10. 1300—1800年,西欧人口年均增长率为0.11%,农产品产量增长率也大致相当,但19世纪,德国农产品产量翻了3倍,1800—1980年的英国农产品产量增加了9倍。这主要得益于 ()

- A. 欧洲农业科技的领先
- B. 农业机械的完全普及
- C. 美洲高产作物的引进
- D. 现代农业模式的发展

D 解析:根据材料信息可知,与1300—1800年的欧洲相比,19世纪欧洲农产量增加显著,结合所学知识可知,这与工业革命后先进技术运用于农业生产有关,即现代农业模式的发展,故选D项;材料并未与其他地区作对比,无法得出欧洲农业科技领先的结论,排除A项;“完全普及”的说法过于绝对,排除B项;美洲高产作物于15世纪开始引进,排除C项。

11. 下图为西方发达国家蓬勃兴起的“精确农业”系统的示意图。从中可以推知,“精确农业” ()



- A. 完全实现了无人智能化操作
- B. 将农业带入数字和信息时代
- C. 随国家干预加强而不断发展
- D. 利于粮食作物种植的多元化

B 解析:从图中的“决策支持系统”“气象信息”“电子图”“技术评估”等信息可以看出,“精确农业”从根本上还需要人来操作,故A项错误;从图中的“信息”“电子”“定位系统”“决策支持系统”等关键词可以看出,“精确农业”因使用现代信息技术、生物技术和工程战备技术而“精确”,是在对数字信息充分利用的基础上发展起来的,故B项正确;从图中无法看出国家加强对经济的干预,故C项错误;题干及图中未涉及农作物的种植类型,故D项错误。

12. 有学者指出,现今我国农业中,养殖业约占47%,种植业占53%,与发达国家差距较大。因此我国

应大力发展畜牧和水产养殖业,尤其是应优先发展水产养殖。该学者主张优先发展水产养殖的主要原因是 ()

- A.借鉴发达国家的先进经验
B.确保粮食安全的考量
C.国人饮食习惯的落后
D.增加渔民及国家收入

B 解析:由题干可知,该学者提出的主张是在畜牧养殖和水产养殖中,应优先发展水产养殖,通过对比可知,水产养殖业相对于畜牧养殖可以减少对粮食的依赖性,故B项正确。根据所学可知,有些发达国家是优先发展畜牧养殖的,故A项错误;优先发展水产养殖或畜牧养殖不是出于改变国人饮食习惯的需要,故C项错误;增加渔民和国家收入是次要原因,故D项错误。

13.北魏贾思勰《齐民要术》载:“今立秋前治讫,立秋后则虫生。蒿、艾箬盛之,良。以蒿、艾蔽窖埋之,亦佳。窖麦法,必须日曝令干,及热埋之。”材料反映的是 ()

- A.科学选种育种技术 B.农产品加工技术
C.粮食储备技术 D.精耕细作的生产技术

C 解析:材料信息反映的是古代粮食收获后的储备技术,故选C项。

14.《马可·波罗行纪》中介绍了我国13世纪用冰保存鲜肉及制造冰酪冷食的技术;明朝政府在运河两岸修建专门场所,给为宫廷运送鲜菜鲜果的船只加冰,保持其鲜嫩;清光绪年间,北京已专设冰窖,用于冷藏蔬菜,保证对皇宫的供应。这反映出我国 ()

- A.食物保鲜技术历史悠久
B.古代政府重视物种交流
C.官府需求刺激科学发展
D.长途贩运贸易繁荣发展

A 解析:根据材料可知,元明清时期,我国就已经重视食物保鲜技术的应用,即食物保鲜技术历史悠久,故选A项;物种交流与“用冰保存鲜肉……用于冷藏蔬菜”不符,排除B项;从元至清一直都是用冰保鲜食物,“发展”说法错误,排除C项;长途贩运贸易繁荣与“北京已专设冰窖……供应”不符,排除D项。

15.《中国食物报》中的一篇文章写道:“在影响品牌公众形象的诸多因素中,安全性是第一位的,也是永恒的。”随着生活水平的提高,健康安全、口感好的食物越来越受欢迎。获得安全、营养和健康的食物是每一位消费者最基本的权利。据此可知,我国 ()

- A.食品安全问题形势严峻
B.消费者对食品质量的要求提高
C.尝试构建食品安全体系

D.粮食短缺问题已经基本解决

B 解析:根据题干中“口感好”“安全”“营养”“健康”等信息可知,随着民众生活水平的提高,人民对食品的要求不断提高,食品不仅要满足温饱,还要安全、口感好、营养丰富,B项正确;材料涉及的是健康、安全、口感好的食品受到欢迎,不能说明我国食品安全问题形势严峻,排除A项;材料强调的是民众对食品的要求,而不是国家尝试构建食品安全体系,排除C项;仅从材料信息不能得出我国粮食短缺问题已经基本解决的结论,且与材料主旨不符,排除D项。

二、非选择题(本题包括4小题,第16题16分,第17题14分,第18题14分,第19题11分,共55分)

16.(16分)阅读下列材料,回答问题。

材料一 中国是大豆的故乡,甲骨文中就有关于大豆的记载。先秦时期,大豆栽培主要是在黄河中游地区,“豆饭”是人们的重要食物,《齐民要术》通过总结劳动人民长期的实践经验,认识到大豆对于改良土壤的作用,主张大豆与其他作物轮种。唐宋时期的文献中都有政府调集大豆送至南方救灾、备种的记录,大豆的种植推广到江南及岭南……从古至今,各式各样的豆制品是中国人喜爱的食物,提供了人体所需的优质植物蛋白。

材料二 1765年,大豆引入北美,最初作为饲料或绿肥。19世纪60年代,豆腐在美国开始被视为健康食品。19世纪末,大豆根瘤的固氮功能被发现,后美国在干旱地区推广种植,至1910年,美国已经拥有280多个大豆品种。1931年,福特公司使用大豆开发出人造蛋白纤维,大豆成为食品工业、轻工业及医药工业的重要原料。1954年,美国成为世界上最大的大豆生产国,种植面积超过一亿亩。

——摘编自刘启振等《“一带一路”视域下栽培大豆的起源和传播》

(1)根据材料一并结合所学知识,概括我国历史上种植利用大豆的特点和作用。(8分)

(2)根据材料二并结合所学知识,说明大豆在美国广泛种植的原因。(5分)

(3)根据材料并结合所学知识,简析物种交流的积极意义。(3分)

答案:(1)特点:历史悠久;种植范围逐渐扩大;是中国人的重要食物来源。作用:提供了人体所需的优质植物蛋白;有利于改良土壤;用于救灾。

(2)原因:作为饲料或绿肥被引入北美;适宜在干旱地区种植;是重要的工业原料;世界市场的需求。

(3)意义:有利于加强世界之间的联系;满足人们生产、生活的需要。

解析:第(1)问第一小问,根据材料一“甲骨文中就

有关于大豆的记载”“先秦时期,大豆栽培主要是在黄河中游地区,‘豆饭’是人们的重要食物”“大豆的种植推广到江南及岭南”分析概括。第二小问,根据“大豆对于改良土壤的作用,主张大豆与其他作物轮种”“唐宋时期的文献中都有政府调集大豆送至南方救灾”“提供了人体所需的优质植物蛋白”分析作答。第(2)问,根据材料二“大豆引入北美,最初作为饲料或绿肥”“美国在干旱地区推广种植”“福特公司使用大豆开发出人造蛋白纤维,大豆成为食品工业,轻工业及医药工业的重要原料”概括归纳。第(3)问,根据材料并结合所学知识从加强联系与满足人们需求等角度分析。

17.(14分)阅读下列材料,回答问题。

材料一 16世纪末,中国福建发生饥荒,饥民依靠甘薯得以度荒。17世纪上半叶,英国入侵爱尔兰,捣毁庄稼,致使大多数农作物歉收乃至颗粒无收,唯有生长在地下马铃薯安然无恙,帮助爱尔兰人度过荒年。爱尔兰成了以马铃薯为主食的国家。

材料二 2.遭受饥饿和贫困折磨的人数已逾10亿,这一事实让我们感到震惊……粮食安全、农业和农村发展方面长期投资不足所产生的影响,又因近期粮食、金融和经济危机等因素而雪上加霜。

……………

4.从现在起到2050年,为养活预计超过90亿的世界人口,农业产量估计需增长70%……粮食不应当用作施加政治和经济压力的手段。我们重申国际合作和团结的重要性并要避免采取与国际法和《联合国宪章》不一致并可能危及粮食安全的单方面措施。我们呼吁开放市场,这是全球粮食安全对策的重要内容。

5.气候变化给粮食安全和农业部门增加了严重风险。其预期影响特别给发展中国家,尤其是最不发达国家的小农,以及已处于弱势地位的人口带来危险。

——摘编自《世界粮食安全首脑会议宣言》

材料三 中国不仅能养活自己,而且还是维护世界粮食安全的重要力量。2006年9月,联合国世界粮食计划署发表的《2005年度国际粮食援助监测报告》显示,2005年中国对外提供了57.7万吨粮食援助,占当年全球粮食援助总量的6.9%,仅次于美国和欧盟。

(1)根据材料一并结合所学知识,说明物种交流对世界的影响。(4分)

(2)根据材料二并结合所学知识回答粮食安全问题产生的原因有哪些。我们应该如何应对粮食安全问题?(6分)

(3)根据材料三并结合所学知识回答为什么中国会成为维护世界粮食安全的重要力量。(4分)

答案:(1)积极方面:缓解饥荒,稳定社会秩序;增

加粮食产量,促进人口增长;引起食物结构变化;推动社会阶级关系变化;文化的发展及交融。消极方面:影响生态环境;引发人口问题。

(2)原因:对农业的投资不足、经济危机、人口增长、国际政治经济问题、全球环境与气候变化等。措施:加强国际合作;充分利用最新科技成果,提高粮食生产水平;增强人们的粮食安全意识;从开源与节流两个方面应对粮食安全问题。

(3)政策支持;制度创新;农业技术进步;实现粮食基本自给;粮食产量增加。

解析:第(1)问,从积极和消极两个方面进行分析。积极方面,据材料一“16世纪末,中国福建发生饥荒,饥民依靠甘薯得以度荒”“爱尔兰成了以马铃薯为主食的国家”并结合所学知识,从缓解饥荒、引起食物结构变化等方面分析;消极方面,结合所学知识可从影响生态环境和引发人口问题等方面回答。第(2)问第一小问,据材料二“粮食安全、农业和农村发展方面长期投资不足所产生的影响,又因近期粮食、金融和经济危机等因素而雪上加霜”“从现在起到2050年,为养活预计超过90亿的世界人口,农业产量估计需增长70%”“粮食不应当用作施加政治和经济压力的手段”“气候变化给粮食安全和农业部门增加了严重风险”并结合所学进行归纳概括。第二小问,结合所学知识可从加强国际合作、提高粮食生产水平、增强人们的粮食安全意识等角度回答。第(3)问,据材料“2005年中国对外提供了57.7万吨粮食援助”“中国不仅能养活自己,而且还是维护世界粮食安全的重要力量”并结合所学,从改革的深化、中国实现粮食基本自给等方面分析。

18.(14分)阅读下列材料,回答问题。

材料一 目前,美国农场的平均规模已经达到176公顷,其中大农场已经达到1200—1600公顷。机械化技术、资金密集型经营已经成为主要的经营方式。在农业发展过程中,行业分工越来越细,产业化程度越来越高,而且农场规模的扩大也促进了专业化程度的提高,棉花农场专业化比例为79.6%,蔬菜农场为87.3%,大田作物农场为81.1%,园艺作物农场为98.5%,果树农场为96.3%,肉牛农场为87.9%,奶牛农场为84.2%,家禽农场为96.3%。

——摘编自《美国现代化农业的主要特点》

材料二 中国农业小规模经营长期存在,规模效益亟待提高,迫切需要运用信息技术探索走出一条具有中国特色的农业规模化路子,充分发挥互联网平台集聚放大单个农户和新型经营主体规模效益的作用。农产品价格提升空间有限,转移就业增收空间收窄,农民持续增收难度加大,迫切需要运用信息技术促进农村大众创业万众创新、发

续表

时间	地区	食物种类及供给情况	备注
19世纪末 20世纪初	欧美地区	出现巧克力棒、人造奶油、高汤等美味食品	1906年,美国通过了第一部联邦食品法
第二次世界大战后	世界范围	20世纪六七十年代欧美出现快餐食品,非洲出现粮食危机,西欧出现食物生产过剩	1974年,联合国通过了《消灭饥饿和营养不良世界宣言》《世界粮食安全国际公约》,欧盟于2002年出台了《食品通用法》

——摘编自陈炎、李梅《中西饮食文化的古代、现代、后现代特征》等

上表反映了有关人类食物的多种变化趋势,指出其中一种趋势并结合世界史相关史实说明其形成的原因。(要求:观点明确,史论结合,逻辑清晰)

答案:示例一:人类食物由原产地区域消费为主转向全球交流。

16世纪以前,人类处于相对分散、彼此隔离的状态,各大洲之间的经济文化交流相对较少,人类食物以原产地消费为主。16世纪以来,随着新航路的开辟,世界开始成为一个密切联系的整体,世界市场逐步形成,各大洲的食物在全球范围内交流。可见,人类食品产地的变化,反映了16世纪以来的全球化进程。

示例二:食品生产工业化趋势明显。

工业革命以前,人类社会处于以农牧业为主要生产方式的农业文明阶段,农牧业提供的初级农产品是主要生活资料,人类饮食依赖于传统农牧业和手工生产。随着两次工业革命的开展,人类逐渐进入工业文明时期,传统农牧业也经历了近代转型,经过工业加工的食品日益普及并受到人们的喜爱。可见,工业革命推动了食品工业生产的发展。

解析:根据材料表格中地区一列和食物种类及供给情况一列中的变化情况,如16世纪欧洲、亚洲“增加了番茄、甘薯、玉米、马铃薯等。粮食产量极大增加”“全球范围内农作物大传播”,可得出趋势是人类食物由原产地区域消费为主转向全球交流。然后进行论证,可以结合16世纪的时代特征,尤其是新航路开辟的影响进行分析。最后对论证过程进行总结。

展农业农村新经济,充分发挥“互联网+”开辟农民增收新途径的作用。

——摘编自《我国现代农业现状及前景预测》

(1)根据材料一并结合所学知识,概括美国现代化农业的特点。(6分)

(2)根据材料二并结合所学知识,指出我国农业存在的问题。联系我国实际并结合美国农业的发展情况,说说我们应该如何解决。(8分)

答案:(1)特点:规模经营,呈专业化趋势;机械化,资金密集型经营方式;分工细,朝着产业化、集约化方向发展。

(2)存在的问题:小规模经营,农业机械不能普及;信息技术落后,缺乏与市场的联系;农产品价格低,农民收入少,劳动力转移困难。解决措施:推广农业机械的使用,加速向现代农业的转变;规模经营,走农业产业化之路;政府引导,关注市场需求;关注“三农”问题,加大政策、技术支持。

解析:第(1)问,根据材料一“平均规模”“机械化技术、资金密集型经营已经成为主要的经营方式”“行业分工越来越细,产业化程度越来越高”“农场规模的扩大也促进了专业化程度的提高”并结合所学知识,从不同角度进行归纳概括。第(2)问第一小问,根据材料二“农业小规模经营长期存在,规模效益亟待提高”“农产品价格提升空间有限”“转移就业增收空间收窄,农民持续增收难度加大”等信息概括中国现代农业存在的问题。第二小问,根据存在的问题,借鉴美国农业发展的经验,归纳总结解决措施。

19.(11分)阅读材料,回答问题。

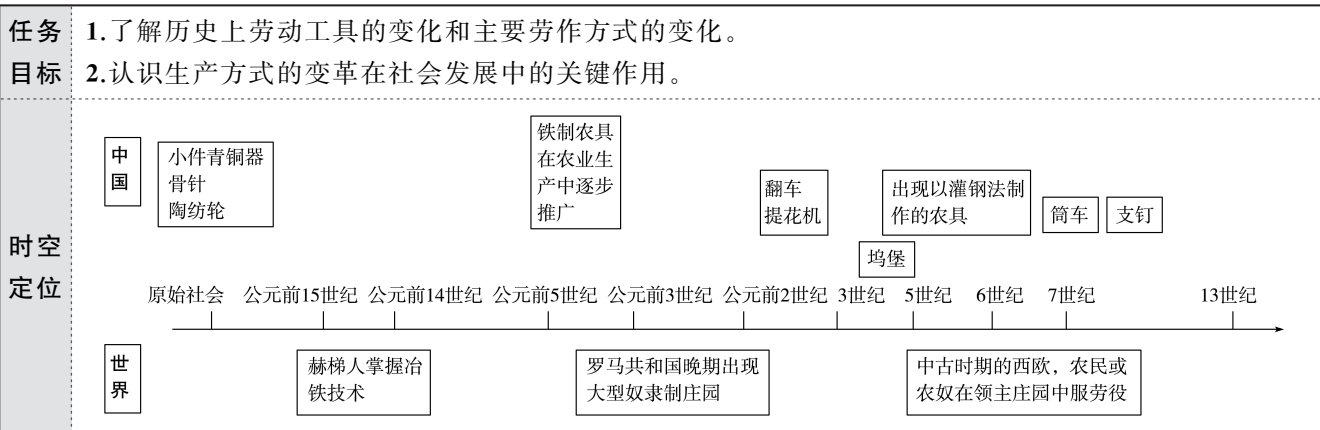
材料 14世纪以来人类食物种类及供给情况简表(部分)

时间	地区	食物种类及供给情况	备注
14世纪	欧洲	食物主要以小麦、大麦和裸麦为主。多次陷入粮荒	14世纪,黑死病在欧洲多次肆虐,欧洲人口迅速减少
16世纪	欧洲、亚洲	增加了番茄、甘薯、玉米、马铃薯等。粮食产量极大增加	全球范围内农作物大传播
19世纪	欧美地区	出现罐装食品、防腐食品等,食品加工业大发展	1860年,英国政府制定了第一部食品安全法

第二单元

生产工具与劳作方式

第4课 古代的生产工具与劳作



问题式预习

一、农业工具的变化

1. 耕作工具^[1,2]

石器	特点：质地坚硬，比骨、竹、木器耐用 制作：旧石器时代以 <u>打击</u> 为主；新石器时代在打击的基础上增加了磨制，工序繁多，需要专人完成
铜器	从目前发现的考古资料看，最早出现在西亚、北非地区；新石器时代晚期，中国已出现小件青铜器。青铜农具数量有限
铁器	世界：公元前15—前14世纪， <u>赫梯人</u> 率先掌握了冶铁技术 中国：战国时期，铁制农具在农业生产中逐步推广；南北朝时期出现了以 <u>灌钢法</u> 制作的农具 ^[3]

2. 灌溉工具^[4]

- (1)原始社会末期，人类已经能够制造陶器，汲水灌溉。
- (2)在古埃及和中国等地，人们已懂得利用杠杆原理进行灌溉。
- (3)中国东汉末期已出现翻车，三国时期马钧对其进行了革新，其后翻车在民间广泛使用。
- (4)唐朝出现了筒车，借助水力汲水入筒进行灌溉。

3. 畜牧工具：古人用圈厩来饲养禽畜，用马槽来喂马。


二、手工业工具的进步

1. 纺织工具

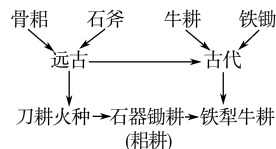
(1) 中国(连线)^[5]

- | | | |
|----------|--|------------------------------|
| ①约3万年前 | | a.使用纺车纺纱，能够使用提花机织出带有精美花纹的丝织品 |
| ②新石器时代晚期 | | b.山顶洞人已经用骨针缝制兽皮 |
| ③汉朝 | | c.使用陶纺轮纺线 |
| ④元朝以后 | | d.纺织机成为农耕家庭不可或缺的生产工具 |

[1] 农业生产工具的演变



[2] 古代农业耕作方式的演变

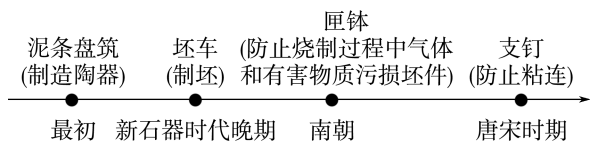


[3] 灌钢法

灌钢法又叫团钢法，或生熟法，是中国早期炼钢技术一项最突出的成就。灌钢工艺是我国古代刃钢生产的主要方法。它以生铁[一种含碳量较高(2.11%以上)的炒炼产品]和熟铁[一种含碳量较低(0.02%以上)的炒炼产品]为原料，将它们加热到生铁熔点以上，合炼而成钢。

(2)西方:古代出现过纺纱用的纺车。

2. 陶瓷工具^[6]



3. 冶炼工具

(1)锻打工具:熔化金属原料的是③,打击金属原料的是②,磨平金属的是⑤。(填序号)

(2)铸造工具:熔化金属原料的是①,使液态金属成型的是④。(填序号)

①坩埚 ②锤 ③土炉 ④范 ⑤锉 ⑥水排

三、劳作方式的发展

1. 农业家庭式^[7]

(1)条件:铁犁牛耕的逐步推广,集体劳作的形式逐渐瓦解。

(2)表现

中国	古希腊、罗马
战国时期,各诸侯国统治者鼓励发展以家庭为单位的男耕女织生产模式	氏族部落解体后,一家一户的家庭式劳作日渐普及

2. 农业庄园式

(1)特点:奴隶或农奴在庄园的土地上进行集中劳作,劳动者被束缚在土地上,生产力低下。

(2)表现

①罗马共和国晚期,战争带来的大量奴隶涌入罗马,出现了大型奴隶制庄园。

②中古时期的西欧,大量农奴或农民在领主的庄园中服劳役。

③中国魏晋南北朝时期的坞堡除军事作用外,也带有庄园经济的色彩。

3. 中国古代手工业生产有哪些类型? 其技术传承有什么特点?

类型:以制作手工业产品为生的手工业家庭,以及拥有某种手工工艺的民营和官营作坊。特点:世代传承,或父子相继,或师徒传授,由统治者登记造册进行管理。

[4] 灌溉工具的发展



原始社会陶罐汲水



用杠杆原理灌溉



中国东汉翻车



中国唐代筒车

[5] 中国古代纺织工具的进步



山顶洞人的骨针



红山文化的陶纺轮



汉代纺车



汉代提花机

[6] 陶瓷的制造过程



陶泥



拉坯



修坯



捺水

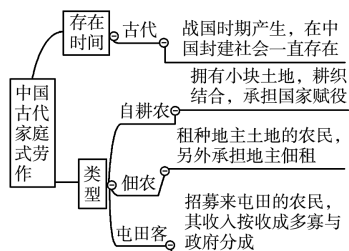


画坯



上釉

[7] 中国家庭式劳作的存在时间和类型



任务型课堂

任务一 中国古代农业耕作工具的变化

[探究活动]

材料一

时代	生产工具	经营方式	农业技术
西周	耒、耜等, 绝大部分用木石、兽骨和蚌壳制成	集体劳动, “春, 令民毕出在野, 冬则毕入于邑”	在耕作、灌溉、施肥、选种、除虫等方面具有相当高的技术知识
战国	耒、耜、犁、锄、铧等铁制农具, 牛耕得到推广	公社及其所有制即井田制度瓦解, 小农经济盛行	深耕技术普遍推行, 施肥、选种等技术进一步发展, 修建都江堰等水利工程

——据白寿彝《中国通史》整理

(1)根据材料一概括西周至战国时期农业发展的趋势, 简要分析其影响。

提示: 趋势: 生产工具由原始农具发展为铁犁牛耕, 生产力水平显著提高; 经营方式由井田制下的集体劳动到战国时期小农户个体经营, 封建生产关系形成并发展; 农业技术进步, 精耕细作。影响: 促进了农业生产发展; 推动了奴隶社会向封建社会过渡转型。

材料二



西汉牛耕图



东汉牛耕图



清代牛耕图

(2)根据材料二并结合所学知识,概括中国古代农耕技术的发展变化,并说明其意义。

提示:变化:由二牛到一牛;由直辕犁到曲辕犁;耕犁操作越来越轻便。意义:有利于小农分散生产;减轻了农民的经济负担;有利于农业生产的发展。

[评价活动]

(1)(2023·浙江卷)生产工具的进步是生产力发展的重要标志。河南辉县出土的战国铁犁铧,人们耕地时把它安装在犁上,用来破土,省力易行。据此可知,战国时期 ()

- A.铁犁铧用灌钢法制成
- B.中国人率先掌握了冶铁技术
- C.铁农具已经在农业生产中使用
- D.铁犁牛耕已经成为农业的主要耕作方式

C 解析:根据材料“战国铁犁铧,人们耕地时把它安装在犁上,用来破土,省力易行”可知,铁农具已经在农业生产中使用,C项正确;灌钢法是在南北朝出现,排除A项;公元前15世纪小亚细亚赫梯人最早掌握冶铁技术,排除B项;材料未涉及牛耕,排除D项。

(2)下表信息在一定程度上反映了唐朝农业现实生活。据表中信息推断合理的是 ()

时期	图像名称	牛耕法	耕犁
初唐	陕西三原李寿墓壁画牛耕图	二牛抬杠	直辕犁
盛唐	敦煌23窟牛耕图	一牛牵引	直辕犁
	敦煌445窟牛耕图	二牛抬杠	曲辕犁
晚唐	安西榆林25号窟牛耕图	二牛抬杠	直辕犁

- A.曲辕犁普及于盛唐
- B.西北农耕技术领先全国
- C.唐朝犁耕形式多样
- D.晚唐铁犁牛耕推广缓慢

C 解析:根据材料“二牛抬杠”“一牛牵引”“直辕犁”“曲辕犁”可知,唐朝时犁耕形式多样,故选C项;表中显示盛唐曲辕犁和直辕犁并用,排除A项;材料无法证明西北农耕技术领先全国,排除B项;材料不能反映晚唐铁犁牛耕推广缓慢,排除D项。

任务总结

古代农业耕作方式的演变

- 1.刀耕火种:距今约1万年前,伴随着原始农业的产生而出现,一般以石斧、石刀等砍砸工具为主,没有固定的劳作区域。

2.石器锄耕:在距今七八千年前的新石器时代晚期,伴随着石耜、石铲、石锄或骨耜、木耜、蚌铲等翻土工具的出现而产生。

3.铁犁牛耕:中国的春秋末年出现牛耕和铁农具;战国时期铁农具的使用更为普遍,铁器时代到来,牛耕得到推广。随着社会发展,犁耕技术不断进步,尤其是唐代曲辕犁的出现,奠定了后世传统犁耕的基本模式,大大提高了古代农业生产水平。

任务二 古代劳作方式的进步

[探究活动]

材料一 中国古代谚语:“一夫不耕,或受之饥;一妇不织,或受之寒。”男耕女织的生产方式,在世界上普遍存在,它是古代社会家庭的自然分工方式。在氏族部落制度解体之后,一家一户的小家庭大量出现,男耕女织,各司其职,构成了小农经济。日出而作,日入而息,家庭生产,自给自足,是小农经济的经营方式。男耕女织的小农经济促进了农业生产的发展,为古代国家提供了赋税和徭役。

(1)根据材料一并结合所学知识,概括小农经济的基本特征,并分析我国封建社会长期盛行小农经济的原因。

提示:特征:以家庭为生产单位;男耕女织(农业与家庭手工业相结合);精耕细作;自给自足,生产经营模式老旧,技术难以革新;具有分散性、落后性、脆弱性(抵御天灾人祸的能力薄弱);等等。原因:人多地少;铁农具和牛耕技术的使用(长期稳定,缺少较大创新与变革);土地私有制的长期存在;封建政府的扶持和保护;重农抑(工)商观念的长期影响。

材料二 官方以法令来保护手工业技术的世代传习。有时,为了技术的世代传习,官府还要干涉某些手工业者家属的婚姻,这一点从元稹《织女词》“东家头白双女儿,为解挑纹嫁不得”可见一斑。

——摘编自白寿彝主编《中国通史》

(2)有学者指出,中国古代手工业生产劳作方式呈现“封闭性、狭隘性”的特征,请简要论证这一观点。

提示:这一观点具有一定的道理。中国古代手工业劳作生产不论是手工业家庭还是民营或官营作坊,手工业者本身都是世代传承,或父子相继,或师徒传授,这样导致技术传承范围狭隘,因此一定程度上可以认为中国古代手工业生产劳作方式呈现“封闭性、狭隘性”的特征。

[评价活动]

(1)中国的战国时期,各诸侯国鼓励以家庭为单位的男耕女织生产模式。在古希腊罗马历史上,氏族部落解体以后,一家一户的家庭劳作也日渐普及。对此合理的解读是 ()

- A.交流使小农经济成为东西方当时主流的生产方式
B.东西方家庭生产模式的出现均源于生产力的进步
C.亚历山大的远征推广了以家庭为单位的模式
D.男耕女织的分工构成东西方农业生产的最初形式

B 解析:生产力决定生产关系,铁制农具的出现提高了农业生产力,使得一家一户的家庭劳作成为可能,故选B项;当时东西方交流有限,小农经济也不是古希腊罗马社会的主流生产方式,排除A项;亚历山大帝国的远征最远到达印度地区,与中国古代生产关系无关,排除C项;中国古代农业生产的最初形式为刀耕火种,排除D项。

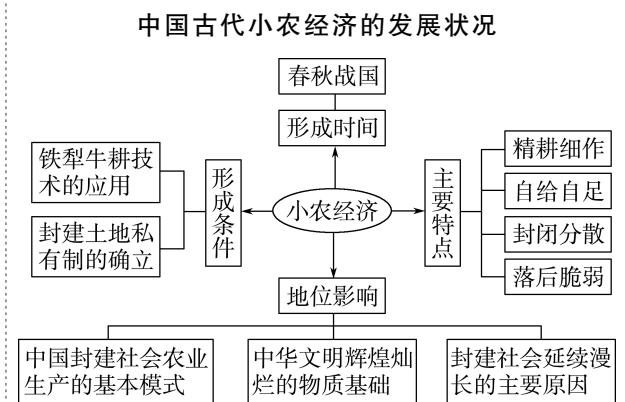
(2)商周时期,手工业由官府垄断。到了春秋战国时期,开始出现私营手工业和家庭手工业。此后,官营手工业、私营手工业和家庭手工业便成为封建手工业的三种主要经营形态。这反映出中国古代手工业的特点是 ()

- A.多种经营方式长期并存
B.经营方式逐渐增多
C.经营方式由官营转为私营
D.经营范围逐渐扩大

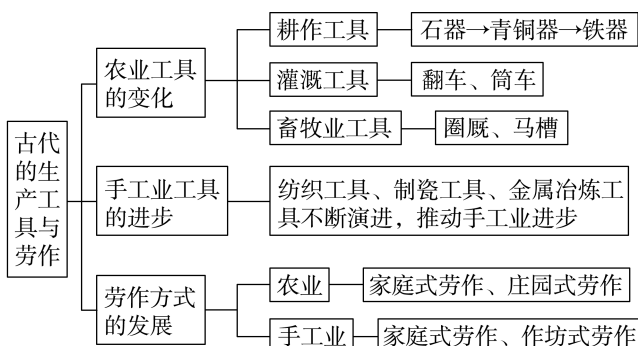
A 解析:根据材料“官营手工业、私营手工业和家庭手工业便成为封建手工业的三种主要经营形态”可知,中国古代手工业的特点是多种经营方式长期并存,A项正确;B、D两项表述在材料中未体现,排除;

经营方式中官营和私营是并存的,C项错误。

任务总结



► 提质归纳



- 1.农业工具中最重要的是耕作工具,耕作工具经历了石制农具、青铜农具、铁制农具的演变历程。
- 2.手工业中的纺织工具、陶瓷工具、金属冶金工具的不断改进,推动了手工业的发展。
- 3.受政治、军事、社会、文化等多方面的影响,劳作方式呈现出多种形态,农业的主要劳作方式包括农业家庭劳作、庄园式劳作;手工业的主要劳作方式包括手工业家庭式劳作、作坊式劳作。

课后素养评价(四) 古代的生产工具与劳作

基础性·能力运用

知识点1 农业工具的变化

1.史书记载:“斫木为耜,揉木为耒,耒耨之用,以教万人,始教耕,故号‘神农氏’。”这表明 ()

- A.我国原始社会农业生产工具简陋
B.当时中国社会处在新石器时代
C.农业是我国最早的社会生产部门
D.中国农业是在神农时期出现的

A 解析:据材料“斫木为耜,揉木为耒,耒耨之用,

以教万人,始教耕,故号‘神农氏’”并结合所学可知,耜、耒都是中国古代的翻土农具,是原始社会的生产工具,故选A项。B项不是材料体现的主旨,排除;材料内容不能体现“农业是我国最早的社会生产部门”,排除C项;从材料中无法得出中国农业是在神农时期出现的,排除D项。

- 2.图1、图2是我国古代灌溉工具示意图。与图1相比,图2所示工具的进步之处是 ()



图1 翻车




图2 筒车

- A.脱离了自然条件的限制
B.动力系统发生了变化
C.转变了农业的耕作方式
D.在江南地区广泛使用

B 解析:翻车和筒车均是灌溉工具,翻车用人力作为动力,而筒车用水力作为动力,据此可知,其动力系统发生了变化,故选B项;两者均未脱离自然条件的限制,排除A项;翻车和筒车都属于农业灌溉工具,与“耕作方式”无关,排除C项;筒车出现在唐朝时期,但不能说明“在江南地区广泛使用”,排除D项。

知识点2 手工业工具的进步

3.下列关于中国古代纺织业的发展表述正确的是 ()

- A.原始社会初期已经使用陶纺轮
B.春秋战国时期提花机已经出现
C.汉代已经较为普遍地使用纺车
D.明清时期织布机成为不可或缺的工具

C 解析:汉代的画像石中出现了人们使用纺车纺纱工作的场景,这说明汉代纺车使用已较为普遍,C项正确。新石器时代后期才使用陶纺轮,排除A项;提花机出现在汉代,排除B项;元朝后,织布机成为农耕家庭不可或缺的生产工具,排除D项。

4.古代手工业生产工具不断改进,推动了手工业的发展。陶瓷业也是古代重要的手工业之一,中国南朝时,为了防止在烧制过程中气体和有害物质污损坯件,使用的生产工具是 ()

- A.坏车 B.匣钵 C.支钉 D.垫饼

B 解析:中国南朝时,为了防止陶瓷在烧制过程中气体和有害物质污损坯件,工匠把坯件放在耐火泥制成的匣钵中,故选B项。

知识点3 劳作方式的发展

5.中国古代谚语说:“一夫不耕,或受之饥;一妇不织,或受之寒。”这反映的劳作方式 ()

- A.大量使用农奴劳作
B.采用集体劳作的形式
C.生产技术师徒传授
D.有利于社会和谐稳定

D 解析:材料反映的是生产方式自给自足、男耕女织的小农经济的特点,小农经济的生产生活状态是中国古代主要的生产劳作方式,有利于社会稳定,故选D项;小农经济的生产方式中不存在农奴劳作,排除A项;小农经济是以家庭为单位的个体劳作,而非集体劳作,排除B项;材料没有明确具体的技术传授关系,排除C项。

6.9世纪起一种新的封建农业经济组织形式——农奴劳役制庄园开始在西欧流行。这说明,西欧 ()

- A.大型农奴制庄园受到追捧
B.农业家庭式劳作日渐普及
C.集体劳作的形式逐渐瓦解
D.农业庄园式劳作渐趋盛行

D 解析:根据材料可知,9世纪的西欧流行农奴劳役制庄园,大量农奴或奴隶在领主的庄园中服劳役,即中古时期的西欧农业庄园式劳作渐趋盛行,故选D项;罗马共和国晚期,战争带来的大量奴隶涌入罗马,出现大型农奴制庄园,排除A项;农业家庭式劳作以一家一户的个体劳作为特点,与材料不符,排除B项;农业庄园式劳作本身就是集体劳作,逐渐瓦解与“流行”不符,排除C项。

综合性·创新提升

7.1950—1951年,考古工作者在河南辉县发掘出5座大型魏墓,1号墓出土铁器65件,其中农具占58件,包括铲、镰、犁铧等一整套铁农具。材料说明战国时期 ()

- A.成套铁农具有利于农业精耕细作
B.中原地区开始进入铁器时代
C.铁制农具最早出现于河南辉县
D.战国时期随葬品以铁器为主

A 解析:材料反映了在春秋战国时期,铁制农具的

使用已比较广泛,提高了生产力水平,有利于农业精耕细作,故选A项;B项在材料中无法得出,排除;材料只是说明通过考古发掘证实了在战国时期的河南辉县出现了大量铁制农具,并不能说明铁制农具最早出现于河南辉县,C项排除;材料中只提到河南辉县墓葬出土的铁器较多,并不能由此推断出战国时期随葬品以铁器为主,故D项排除。

8.中国古代手摇纺车的锭子数目一般是2至3枚,最

多为5枚,每天最多纺纱3斤。宋元之际,产生了将水力运用于纺织机械的大纺车,这种纺车锭子数目多达几十枚,一昼夜可纺一百多斤。这一变化表明 ()

- A.自给自足的自然经济受到破坏
B.商业贸易是技术进步的重要途径
C.纺织业进入资本主义萌芽阶段
D.工具进步促进了纺纱效率的提高

D 解析:根据材料“宋元之际,产生了将水力运用于纺织机械的大纺车,这种纺车锭子数目多达几十枚,一昼夜可纺一百多斤”并结合所学知识可知,宋元之际产生的利用水力纺纱的大纺车相比于之前的手摇纺车,纺织效率大大提高,D项正确;自然经济开始遭到破坏是在鸦片战争后,排除A项;商业贸易是技术进步的重要动力,材料中未涉及,排除B项;我国古代资本主义萌芽出现在明朝中叶以后,与材料时间不符,排除C项。

9.公元前59年王褒到(四川)湔山时写下了《僮约》,描述了田庄经济的场景:“脍鱼炮鳖,烹茶尽具”“牵犬贩鹅,武阳买茶”“绵亭买席”。以下理解正确的是 ()

- A.田庄生产模式呈现专业化趋势
B.田庄商业活动丰富
C.田庄经济自给自足
D.材料为文学作品,无史料价值

B 解析:根据材料中描述的田庄经济的场景可知,田庄内商品贸易种类较多,商业活动丰富,故选B项;明朝中后期才出现生产模式专业化趋势,与材料时间不符,排除A项;田庄经济中包含商业活动,排除C项;辞赋作为文学作品,具有一定的史料价值,排除D项。

10.《西京杂记》记载:“霍光妻遗淳于衍蒲桃锦二十四匹,散花绫二十五匹。绫出钜鹿陈宝光家,宝光妻传其法……机用一百二十镊,六十日成一匹,匹值万钱。”这反映了汉代 ()

- A.织机构造操作复杂
B.官营织品精美昂贵
C.纺织机是农耕家庭不可或缺的工具
D.手工织品市场广阔

A 解析:根据材料“机用一百二十镊,六十日成一匹,匹值万钱”可知,汉代织机构造操作复杂,需要传授织法才能织出精美的散花绫,而且用时较长、价值高昂,故选A项;“绫出钜鹿陈宝光家”说明散

花绫出自民间纺织能手,不属于官营纺织品,排除B项;蒲桃锦和散花绫价值高昂、技术复杂不属于一般农耕家庭所有,主要供于贵族使用,不面向一般商品市场,排除C、D两项。

11.江西南昌西汉海昏侯墓雁鱼灯为青铜质地,以大雁的脖颈为导烟管,将燃烧油脂产生的烟气导溶于雁腹部的水中,以保持室内的清洁。两片弧形灯罩可以自由转动,调节灯光的亮度及方向。据此可推知,汉代 ()

- A.艺术设计体现环保意识
B.私营手工业技术精湛
C.江西青铜工艺领先全国
D.受封诸侯国独立性强

A 解析:根据材料可知,西汉海昏侯雁鱼灯将烟气导溶于水中以保持室内清洁,说明汉代艺术设计体现环保意识,故选A项;雁鱼灯是官营手工业的产品,排除B项;材料并未将江西青铜工艺与其他地区对比,无法得出领先全国的结论,排除C项;汉武帝采取“推恩令”等措施,受封诸侯国受中央控制,排除D项。

12.阅读下列材料,回答问题。

材料 黄梅戏《天仙配》中唱段《夫妻双双把家还》歌词:树上的鸟儿成双对,绿水青山带笑颜……从今再不受那奴役苦,夫妻双双把家还。你耕田来我织布,我挑水来你浇园。寒窑虽破能避风雨,夫妻恩爱苦也甜。你我好比鸳鸯鸟,比翼双飞在人间。

(1)根据材料并结合所学知识,概括中国古代农业经济的基本特征。

(2)根据材料并结合所学知识,分析小农经济有何特点。

答案:(1)基本特征:以种植业为主、家畜饲养业为辅的产业结构;“男耕女织”式的经营方式;铁犁牛耕的耕作方式。

(2)特点:生产规模小,以家庭为单位,精耕细作;分工简单,男耕女织;自给自足,农业和家庭手工业相结合,商贸交流较少。

解析:第(1)问,根据材料并结合所学知识可归纳出以种植业为主、家畜饲养业为辅的特征;从《夫妻双双把家还》歌词归纳出“男耕女织”式的经营方式和精耕细作的耕作方式。第(2)问,根据材料二“你耕田来我织布,我挑水来你浇园”并结合所学知识分析即可。

第5课 工业革命与工厂制度

任务 目标	1.了解近代以来机器大生产、工厂制度的形成。 2.理解工业革命对改变人们劳作方式及生活方式的意义。
时空 定位	<p>18世纪 工业革命：机器大生产 → 工厂 → 工厂制度</p> <p>19世纪 英国颁布第一部《工厂法》 欧洲三大工人运动 马克思主义诞生</p> <p>20世纪 中国洋务企业、民族工业初步发展 西方国家逐渐建设新城</p> <p>生活方式的变化：城市化发展、交通运输业起步、乡村的改变、时间观念增强、初等教育不断推广、工人劳动时间长、工作与生活环境恶劣</p>

问题式预习

一、机器大生产与工厂制度

1. 机器大生产

(1)条件：工业革命前，英国分散的手工工场已经向集中的手工工场发展，在一定程度上实现了生产专业化。^[1]

(2)出现：18世纪60年代以来，以改良蒸汽机为代表的一系列技术革命，引发了从手工劳动到机器大生产的巨大变革。

2. 工厂制度

(1)工厂出现：机器大生产带来劳作方式和生产关系的深刻变革。工厂出现了，改变了手工作坊零碎分散的生产状态。^[2]

(2)制度的形成：随着工厂的出现，工厂制度逐渐形成。

(3)工厂制度的特点有①②④⑤（填序号）

- ①工人实行倒班制
- ②原料由工厂统一供应、合理调配
- ③实行八小时工作制
- ④工厂主制定了严格的规章制度
- ⑤广泛应用生产流水线，整个生产过程处于工厂主的监督管理之下

(4)影响：工厂制度带来生产组织和管理形式的巨变，有利于科学管理、提高生产效率，从而产生更大的经济效益。

3. 工厂制度引入中国^[3]

洋务派	19世纪中后期，清朝洋务派创办了江南机器制造总局、福州船政局等一系列近代企业，引进了西方的工厂制度，进行机器大生产
民族资本家	张謇、范旭东等一批民族资本家主张实业救国，开办工厂并借鉴西方工厂的管理经验，中国民族工业初步发展起来

[1] 第一次工业革命的重大成果

工业革命开始的标志

蒸汽机的广泛应用是工业革命的标志

蒸汽时代

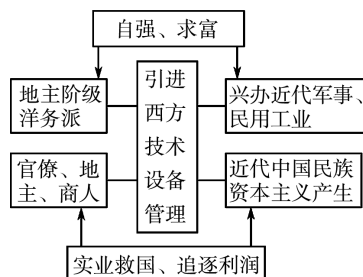
[2] 从作坊、工场到工厂

分散的手工作坊(世代传承)

从分散走向集中的手工工场(彻底的雇佣关系)

机器大生产(集中劳动)

[3] 中国近代大机器生产和工厂制度



二、工业革命后生活方式的变化^[4]

1. 城市化的发展,改变了人们的生活空间。

人口猛增——建设滞后——环境恶劣——建设新城。

2. 交通运输业进步,人们出行便利。^[5]

运河开凿——铁路建设——形成水陆运输网。

3. 乡村面貌改变,农业现代化水平提高。

(1) 农业机械日益普及,普遍建立了大农场,农业现代化水平提高。

(2) 大量人口走出田园,开阔了眼界。

4. 生活节奏加快,时间观念增强。^[6]

工厂制度和新式交通工具出现后,准时准点成为现代生活准则。

5. 初等教育推广,文化素质提升。

(1) 原因:机器生产代替手工劳动;城市化发展。

(2) 表现

① 19 世纪,西方国家不断通过立法与财政支持推行初等教育。

② 20 世纪,中国“癸卯学制”推行以来,出现了大量中、小学堂。

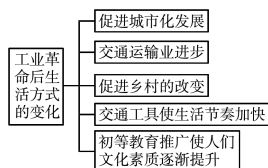
6. 给民众的生活带来消极影响。^[7]

(1) 工业革命给人们的生活带来的消极影响有哪些?

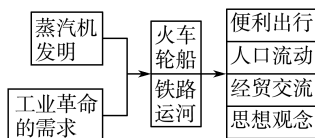
工人劳动时间过长,工作与生活环境恶劣;传染病与职业病严重危害产业工人的健康。

(2) 结果:19 世纪,欧洲社会主义运动风起云涌,促进了马克思主义的诞生,产业工人待遇有所改善。

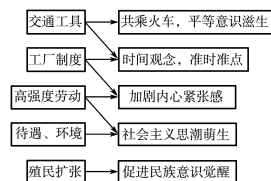
[4] 工业革命后生活方式的变化



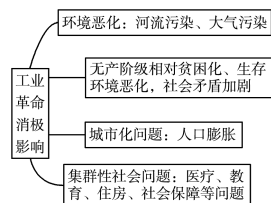
[5] 第一次工业革命后的交通运输



[6] 生活观念与思想意识的变化



[7] 工业革命的消极影响



任务型课堂

任务一 工业革命与工厂制度

[探究活动]

材料一 1844 年出版的詹姆士·利奇所写的《一位曼彻斯特工人所揭露的关于工厂的无可否认的事实》,记载了一个工厂的规章制度,其中有这样几条:

第一条:每天早晨机器开动十分钟后,工厂大门即行关闭,自该时起到早餐前,任何织工均不得入厂。在此时间内织工缺工者按其管理的织机数目每台罚款 3 便士。

第二条:在其他时间内,织工在机器转动时缺工者,按其管理的机器数目每台每小时罚款 3 便士,织工未得监工允许擅自离开车间者也罚款 3 便士。

第九条:所有梭子、刷子、注油器、轮子、窗户等如有损坏概由织工赔偿。

……

第十六条:损坏轮子者,视轮子大小,每个罚款 1

先令至 2 先令 6 便士。任何织工在上班时间一经发现离开工作岗位,罚款 6 便士……

——摘编自宋严萍《英国工业革命时期的工厂管理及特点探究》

(1) 根据材料一,概括英国工厂制度的特点。

提示:生产区和生活区严格分离;具有严格的管理制度;工人被异化为机器的奴隶。

材料二 英国工业革命时期,随着工厂制度的确立,现代工厂的管理制度也逐渐形成。工厂主制定了严格的规章制度,并且通过罚款、解雇和体罚等强制措施迫使工人服从,从而保证了工厂的纪律。他们还运用复式簿记的方式实现了对生产成本和企业利润的核算;通过对产品质量的把关,确立了对生产过程的监督;通过制定恰当的销售方案,促进了市场的开发,这些都直接促使了工厂管理制度的建立。

——摘编自宋严萍《英国工业革命时期的工厂管理及特点探究》

(2)根据材料二,分析近代工厂制对资本主义经济发展的主要推动作用。

提示:加强了规章制度的建设,推动了工厂管理制度的建立;强化了对生产过程的管理,促进了产品质量与生产效率的提高;注重制定销售方案,促进了市场的开发。

[评价活动]

(1)(2022·广东卷)18世纪后期,英国机器费用昂贵,工厂主想方设法让工人尽可能多干活。原来在工作中习以为常的唱歌、打瞌睡、喝酒、嬉戏等行为一概被禁止。这可以用来说明当时 ()

- A.机器出现使工业结构发生根本变革
- B.生产方式的转变推动了社会分化
- C.蒸汽时代手工工人的生活境遇恶化
- D.物价上涨制约了工业革命的发展

B 解析:材料体现了“机器的使用”和“工厂的规定”使得工人的工作内容变得单一,从而推动了社会分化,B项正确;材料没有体现工业结构的变化,排除A项;材料体现的是工人的工作变化而非生活境遇,排除C项;材料没有体现物价上涨,排除D项。

(2)下图为1890年张之洞创办的湖北汉阳铁厂。该企业 ()



- A.完全由私人投资兴办
- B.是工业革命扩展的产物
- C.注重产品的社会效益
- D.已使用电力进行生产

B 解析:结合所学知识可知,汉阳铁厂是洋务运动中创办的民用企业,由官府投资,并不注重产品的社会效益,从西方国家引用机器设备进行生产,是工业革命扩展的产物,B项正确,排除A、C两项;汉阳铁厂的能源是煤,并非电力,排除D项。

任务总结

工厂制的特点和作用

1.特点

- (1)机械动力替代了人工劳动,生产效率大大提高。
- (2)形成规模化生产,生产、销售实行专业化分工,市场范围迅速扩大。
- (3)形成了较为完整的管理系统,按产品或工艺分成了生产车间、工段和班组,出现了职能化组织结构。

2.作用

- (1)促进了经济发展,使人们的生活方式发生了显著变化,人类由农业社会迈向工业社会。
- (2)企业组织发生了重大变化,企业从业主制转向合伙制,合伙制得到迅速发展,并成为主要的组织形式。

任务二 工业革命后生活方式的变化

[探究活动]

材料一 下面为16世纪至19世纪前期英国城乡人口统计表。

时期	农村人口数	城市人口数
16世纪	337.5万	112.5万
19世纪前期	400万左右	800万左右

——摘编自《英国经济史》

(1)材料一反映了英国城乡人口发生了怎样的变化?说明工业革命产生了怎样的影响?

提示:变化:农村人口增长缓慢,城市人口增长迅速。影响:工业革命后城市化进程加快。

材料二 下面为英国艺术家威廉·希斯的漫画《怪物汤》。



备注:漫画描绘了19世纪一位贵妇看到放大的泰晤士河水滴后的惊恐状态。

(2)材料二反映了什么现象?国内有学者指出,工业革命时期英国患了“城市病”,请结合所学知识简单论证。

提示:现象:水污染严重,环境污染加剧。论证:这种观点是正确的。在工业革命时期,英国环境污染日益严重,尤以城市为甚,水源污染、空气污染、粉尘污染、噪声污染、住宅条件恶劣、卫生状态恶化、传染病流行,严重制约城市化的进程。

[评价活动]

(1)1860年普鲁士儿童入学率达97.5%,文盲率仅5.52%。同时代其他比较先进的资本主义国家不仅通过政策使自由劳动力在数量上大量增加,而且使劳动者在素质上有了本质的提高。据此可知 ()

A.资产阶级代议制的确立推动教育的发展

- B.普鲁士在第二次工业革命中扮演重要角色
C.劳动者素质的提升有利于新技术的应用
D.世界市场的形成促进了劳动者素质提高

C 解析:根据材料可知,普鲁士非常重视教育,儿童入学率高达 97.5%,这种基础教育的发展使劳动者的素质有了本质的提高,从而有利于新技术的迅速应用,C 项正确;材料所述发生在德国建立资本主义代议制之前,排除 A 项;材料内容与第二次工业革命及资本主义世界市场的形成无关,排除 B、D 两项。

(2)在 19 世纪的英国,人们普遍认为那些在工业革命中发家致富的资本家们大多数是“自我塑造之人”。据学者统计发现,资本家的出身大多是中等阶层或者至少是下层社会的中层,但也有部分工匠经过努力最终转化为资本家。由此可知,工业革命 ()

- A.加快了社会阶层的流动
B.掩盖了日益加剧的社会矛盾
C.改善了工人的劳动条件
D.促进了科学与技术紧密结合

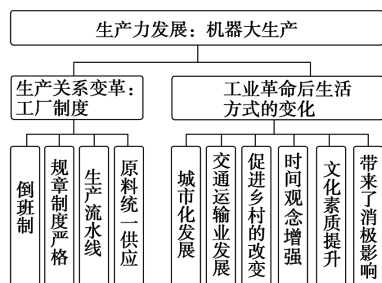
A 解析:工业革命中,部分社会中下层经过自己的努力成为资本家,这说明工业革命促进了社会阶层流动,A 项正确;B 项与题意无关,排除;题干未涉及工人劳动条件的改善,排除 C 项;D 项是第二次工业革命的特点,排除。

任务总结

工业化对城市化的影响

- 1.工业化促进农业的发展,满足了城市人口的粮食需求。
- 2.工业化带动了第二、第三产业的发展,提供了大量就业岗位。
- 3.工业化推动交通运输业的发展,加快各种资源向城市集中。
- 4.工业化也给城市的发展带来一系列问题,如住房紧张、交通不畅、环境污染等。

提质归纳



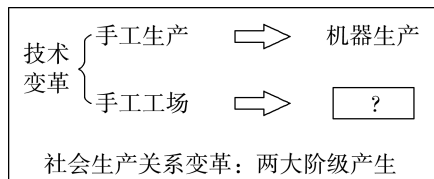
- 1.机器大生产推动工厂制度出现,极大地提高了生产效率。
- 2.伴随着洋务运动和民族资本主义的产生,工厂制度传播到中国,中国开始了工业化进程。
- 3.工业革命使人类由农业社会过渡到工业社会,社会生活的各个方面都发生了巨大的变化。

课后素养评价(五) 工业革命与工厂制度

基础性·能力运用

知识点 1 机器大生产与工厂制度

- 1.下图是某同学的学习课件,其中“?”处应该填入的内容是 ()



- A.蒸汽动力
B.现代工厂
C.工厂制度
D.血汗工厂

B 解析:材料“机器生产”“两大阶级产生”反映了第一次工业革命,结合所学知识可知,工业革命使生产组织形式发生变化,手工工场逐渐被现代工厂取代,故 B 项正确;A、C、D 三项均不符合题意,排除。

- 2.“工场手工业最完善的产物之一,是生产劳动工具本身,特别是生产当时已经采用的复杂的机械装置的工场……工场手工业分工的这一产物,又生产出机器。”材料旨在说明 ()

- A.工场手工业的实质是机器大生产
B.工场手工业孕育出了机器大生产
C.工场手工业是机器大生产的产物
D.机器大生产是社会大分工的产物

B 解析:根据题干“是生产劳动工具本身,特别是生产当时已经采用的复杂的机械装置的工场……工场手工业分工的这一产物,又生产出机器”可知,材料旨在说明工场手工业孕育出了机器大生产,故选 B 项。A、C、D 三项在材料中均未体现,排除。

- 3.从 18 世纪起,欧洲主要国家因为“纺织机器、采矿、炼铁设备及交通工具的改造或发明”,所以“19 世纪

的人口大量集中到城市”。这段叙述从“因为”到“所以”之间,至少要填充以下哪一论述,才能使前后因果关系更完整 ()

- A.垄断组织的产生
B.新型工厂制度的产生
C.自由放任经济政策的推行
D.传统精密制造业吸引投资意愿

B 解析:通过对“18世纪起”“欧洲”“纺织机器……交通工具”等信息分析可知,材料描述的是第一次工业革命。由于工厂的大批兴建,新型工厂制度产生,使得大量农业人口进入城市,故选B项。A项为第二次工业革命的产物,故排除;自由放任经济政策的推行导致的结果是自由经营、自由竞争、自由贸易,与人口集中到城市无关,故排除C项;D项“传统精密制造业”与材料强调的新兴行业不符,故排除。

- 4.亚当·斯密在《国富论》(1776年)中曾有如下描述:“一个人抽出金属丝,另一个人拉直,第三个人切断,第四个人削尖,第五个人打磨……用这种方法,做一枚别针被分为18个单独的操作程序。”这主要反映了 ()

- A.万能蒸汽机极大提高了社会生产力
B.工人独立完成生产的能力大幅下降
C.手工工场中生产的复杂化和低效率
D.工厂制度下对劳动过程的合理组织

D 解析:根据材料“1776年”“做一枚别针被分为18个单独的操作程序”可知,工厂制度下分工更加精细,这有利于提高生产效率和工人的生产能力,故B、C两项错误,D项正确;题干反映的仍是人工劳动,且瓦特改良蒸汽机是在18世纪80年代,故A项错误。

- 5.19世纪中期以来,中国人向西方寻求当时洋务派所说的“机船矿路”,“机”主要指兵器,“船”主要指战船,“矿”主要指煤矿,“路”主要指铁路。据此可知 ()

- A.近代民族工业重工业占主导
B.工业文明推动中国的近代化
C.民族资本主义工业发展迅速
D.清政府开始接受西方的文明

B 解析:根据材料并结合知识可知,19世纪中期以后,中国人向西方寻求的“机船矿路”都是西方工业文明的成果,这些成果的应用推动了中国的近代化发展,故选B项;在近代民族工业中占主导的是轻工业而不是重工业,排除A项;洋务派的“机船矿路”属于政府投资,且没有明确其经济性质,无法得

出是否属于“民族资本主义工业”,排除C项;材料没有明确清政府的态度,排除D项。

知识点2 工业革命后生活方式的变化

- 6.1880年,英国政府规定5—10岁的儿童必须接受义务教育;1893年,义务教育的年龄提高到11岁;1918年,英国将义务教育年龄规定为5—14岁,并规定有条件的地区,可以将年龄提到15岁。这反映了当时英国 ()

- A.机器大生产的需求
B.福利国家的建立
C.代议制民主的发展
D.初等教育的产生

A 解析:根据材料并结合所学知识可知,工业革命后,为了适应大机器生产的需要,对劳动力的文化素养要求不断提升,英国逐渐提高义务教育的年龄,故选A项;资本主义福利国家在第二次世界大战后逐步建立,排除B项;材料不涉及代议制民主,排除C项;初等教育在这一时期得到发展而不是产生,逻辑错误,排除D项。

- 7.下表所列数字的变化,反映了英国工业革命 ()
英国棉纺织业动力织布机台数变化表(单位:万台)

年份	1813年	1820年	1829年	1833年	1850年	1861年
台数	0.24	1.4	5.5	10	25	40

- A.改变了世界格局
B.密切了国际交流
C.完成了城市化进程
D.提高了社会生产力

D 解析:表格数据反映了英国棉纺织业动力织布机台数呈上升趋势,体现了棉纺织业生产能力的提升,本质上反映出社会生产力的提高,故选D项。

- 8.1863年,英格兰足球协会建立,越来越多的男性群体特别是工人阶层开始关注足球。城市交通的改善特别是蒸汽火车的出现,使这项运动得以推广和普及。由此可见,足球运动的发展 ()

- A.有助于缓和社会矛盾
B.得益于工业社会到来
C.取决于交通领域变革
D.推动了英国社会转型

B 解析:19世纪中后期,随着英国工业革命的开展,工人阶层逐渐壮大,交通和通信技术也不断进步,这些因素推动了足球运动的推广和普及,所以足球运动的发展得益于工业社会的到来,B项正确;材料没有体现足球运动能缓和社会矛盾,排除A项;交通领域的变革促进了足球运动的推广和普及,但足球运动的发展并不取决于交通领域的变革,排除C项;足球运动“推动了英国社会转型”表述错误,排除D项。

综合性·创新提升

9. 1771年,英国人阿克莱特在德文特河上的克罗姆福特建立了近代的第一家水力纺纱厂,但是工厂的选址却受到了水源的限制,只能建在靠河的地方,并且离城镇很远。此类工厂的建立 ()

- A. 对生产动力的变革提出新要求
- B. 是科学理论突破的直接产物
- C. 标志着人类开始进入蒸汽时代
- D. 促进了近代城市的快速发展

A 解析:根据材料“但是工厂的选址却受到了水源的限制,只能建在靠河的地方,并且离城镇很远”可知,自然力作动力的缺陷明显,需要新的动力来源,故选A项;建水力纺纱厂不需要科学理念的突破,只是经验知识的积累,排除B项;材料体现的是水力的弊端,没有体现进入蒸汽时代,排除C项;根据“只能建在靠河的地方,并且离城镇很远”可知,对城市的发展作用很小,排除D项。

10. 下表为英国近代人口结构变化简表(局部)。出现这一变化的主要原因是当时英国 ()

年代	1700年	1801年	1851年
总人口(万人)	506	866	2 088
城市人口(万人)	85	238	1 119
城市化率	16.8%	27.5%	53.6%

- A. 民主政治的发展完善
- B. 生产方式的巨大变革
- C. 海外殖民活动的扩展
- D. 城市居住环境的改善

B 解析:根据材料表格内容及时间并结合所学知识可知,工业革命后英国生产方式发生巨大变化,进而推动英国城市化进程,故选B项;A、C两项与材料无关,排除;第一次工业革命时期,城市居民的居住环境并没有明显改善,反而引发很多社会问题,排除D项。

11. 1831—1839年,英国农村地区的死亡率约为18.2%,而城市高达26.2%,尤其是新兴的工业城市死亡率更高,1831—1841年,伯明翰每千人的死亡率从14.6%上升到27.2%;曼彻斯特从30.2%上升到33.8%。这一现象反映的社会状况 ()

- A. 源于城市化带来的公共卫生危机
- B. 由恶劣的手工工场工作环境导致

- C. 提升了工业资产阶级的政治地位
- D. 为马克思主义诞生提供理论基础

A 解析:根据材料可知,19世纪三四十年代,新兴工业城市的人口死亡率大大增加,结合所学工业革命的史实可知,这源于工业化带来的城市化问题,即公共卫生危机,故选A项;19世纪三四十年代处于工业革命时期,不是手工工场,而是工厂,排除B项;材料与工业资产阶级政治地位无关,排除C项;马克思主义诞生的理论基础是英国古典政治经济学、德国古典哲学和英法空想社会主义,排除D项。

12. 英国史学家哈里森说:“无须过多地想象我们就可以理解,为什么在19世纪40年代,中等阶级会觉得他们生活在一座被贫困的海洋所环绕的小岛上……正如他们自己不止一次所说的,穷人随时都在你的身边。”对材料理解正确的是 ()

- A. 工业革命使贫富分化加剧
- B. 自然灾害后,社会财富萎缩
- C. 英国社会的阶级关系稳定
- D. 政局动荡下,贫民涌入英国

A 解析:结合所学知识可知,19世纪40年代,工业革命后,英国中等阶级即资产阶级身边,贫困的穷人随处可见,反映的是工业化加剧了英国社会的贫富分化,A项正确;19世纪中期,英国已成为工业国,自然灾害对社会财富的影响力下降,排除B项;英国社会的阶级关系稳定与“穷人随时都在”不符,排除C项;19世纪英国并未出现政局动荡和大量贫民涌入的现象,排除D项。

13. 19世纪40年代,英国工人中流行的一首歌曲唱道:“有位残忍无情的国王,超出了诗人的想象;一位暴君自天而降,白人奴隶都熟知,此无情的国王就是蒸汽机。”这从侧面反映出,当时英国 ()

- A. 生产工具改进强化了等级观念
- B. 工业革命造成阶级分化和对立
- C. 工人阶级觉醒并登上历史舞台
- D. 工人运动急需科学理论的指导

D 解析:根据材料可知,19世纪40年代,英国工人流行歌曲中将蒸汽机视为无情的国王,因此可以判断出在工业革命的推动下,工人阶级的利益受到破坏,他们表达出维护自身利益的需求,D项正确;材料只能反映生产工具的改进,不能反映等

级观念的强化,排除 A 项;B 项表述符合史实,但是材料主要表达出工业革命中工人阶级遭受剥削,他们想维护自身利益,排除 B 项;C 项表述符合史实,但材料无法体现,排除。

14. 阅读下列材料,回答问题。

材料一 衣冠楚楚的绅士和淑女与衣衫褴褛的下层民众同挤一列火车,还得到处给人让路。保守人士惊呼,铁路会带来某种“平民化的危险”。民主人士拍手称赞:“我看到这列火车真高兴,我想封建制度是永远一去不返了。”

材料二 1835 年,法国思想家托克维尔对英国工业城市曼彻斯特评论道:“从这污秽的阴沟里泛出了人类最伟大的溪流,肥沃了整个世界,从这肮脏的下水道中流出了纯正的金子。人性在这里获得了最为充分的发展,也达到了最为野蛮的状态;文明在这儿创造了奇迹,而文明人在这儿却几乎变成了野蛮人。”

(1) 根据材料一分析,铁路运输的出现和发展产生了哪些重要影响?

(2) 根据材料二并结合工业革命的相关知识,谈谈你对这段话的理解。

答案:(1) 影响:加剧了整个社会流动的速度和规模,对当时的社会关系造成了冲击。

(2) 托克维尔从积极性和消极性两个方面评论工业革命:一方面,工业革命的成果推动了英国和世界的进步;另一方面,资产阶级对工人的压迫,资本主义国家对其他国家的侵略,使其进步性蒙上了阴影。

解析:第(1)问,从社会交流、社会关系角度分析。第(2)问,注意用一分为二的观点从积极和消极两方面分析。

15. 阅读材料,回答问题。

材料 下面的插图反映了英国一家纺织厂的内部环境……画面上的工人——男工、女工和童工

们——显然都很贫穷。在画面后方,站着严厉的资产阶级雇主,他正与另一个资本家谈论着什么。该图描绘了英国工业革命的几个主要元素。



——摘编自丹尼斯·舍曼等著
《世界文明史》

结合所学知识,对材料中所反映的工业革命的几个“元素”予以阐释。

答案:图片中的机器设备反映了工业革命时期的大机器生产,这带来了劳作方式和生产关系的深刻变革,机器生产取代了手工劳动,使生产力获得了大幅提高。

纺织厂反映了工业革命时期的工厂制度,工厂制度带来生产组织和管理形式的巨变,有利于科学管理、提高生产效率。

贫穷的工人——男工、女工和童工们以及严厉的雇主等描述,反映了英国工业革命时期的阶级矛盾和贫富分化,工人阶级受到资本家残酷的剥削,生活条件并未伴随社会生产力进步而获得明显改善,促使工人运动的兴起。

解析:根据材料中的图片,第一景象是机器,这一元素体现了工业革命时期的大机器生产,这带来了劳作方式和生产关系的深刻变革;另外一个景象是“工人——男工、女工和童工们”反映了工业革命时期的工厂制度;第三景象“显然都很贫穷。在画面后方,站着严厉的资产阶级雇主,他正与另一个资本家谈论着什么”可以看出工人和雇主的差别,反映了英国工业革命时期的阶级矛盾和贫富分化。再结合所学知识分别具体说明即可。

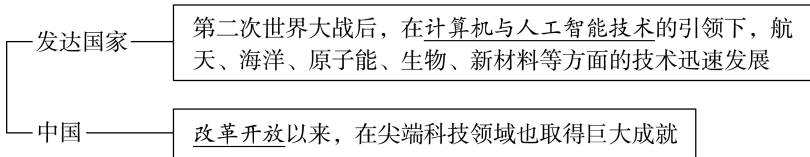
第6课 现代科技进步与人类社会发展

任务 目标	1. 认识人工智能技术等对人们劳作方式及生活方式的影响。	
	2. 理解劳动人民对历史的推动作用,以及生产方式的变革对人类社会发展所具有的革命性意义。	
时空 定位	<p style="text-align: center;">现代科学技术的发展</p> <p style="text-align: center;">生产力的巨大飞跃、劳作方式改变、现代企业管理制度发展、思维方式变化</p> <p style="text-align: center;">现代科技进步的革命性意义</p>	

问题式预习

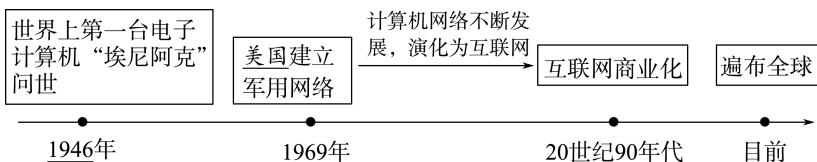
一、现代科学技术的发展^[1]

1. 概况



2. 表现

(1) 计算机技术^[2]



(2) 人工智能^[3] (判断正误)

① 人工智能是通过计算机模拟人的思维解决实际问题的技术,属于计算机技术的一个分支。 (✓)

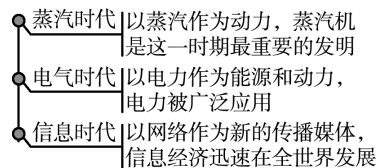
② 20世纪60年代,机器模拟智能被美国科学家提上日程;如今,“无人仓库”“无人码头”“无人工厂”纷纷出现,人工智能技术应用到各个领域,极大改变了人们的生产生活。 (✗)

③ 人工智能涵盖机器人制造、语音及图像识别、自然语言处理等领域。 (✓)

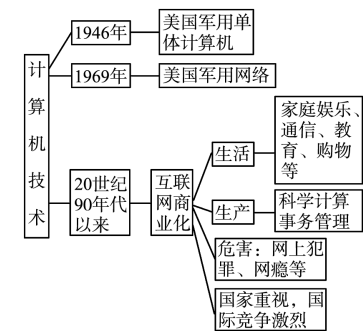
(3) 航天技术

成就	① 1957年苏联发射世界上第一颗人造地球卫星 ② 俄罗斯、美国、法国、中国等国家已研发出多种类型的运载火箭,成功发射大量航天器 ③ 在太空中建立了严密的地球测控网
影响	对现代国防与经济发展产生了巨大影响

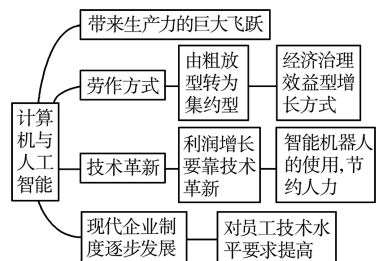
[1] 科技发展的三个时代



[2] 计算机技术的发展



[3] 计算机与人工智能发展的意义



(4)海洋技术

20世纪60年代——美国深潜器曾在水下数千米处发现了海洋生物群落，并且首次潜入世界大洋中最深的马里亚纳海沟。

1997年——中国自主研发的无缆水下深潜机器人成功潜入水下6 000米处进行科学试验，这标志着中国海洋技术已跻身世界先进行列。

2020年——中国的“奋斗者号”载人潜水器在马里亚纳海沟成功坐底，创造了10 909米的中国载人深潜新纪录，标志着中国在大深度载人深潜领域达到世界领先水平。

(5)新材料技术：高分子材料、纳米材料、生态环境材料、生物医用材料

等新材料被广泛应用到生产生活中。

二、现代科技进步的革命性意义

1. 社会生产

- (1)生产力：带来了生产力的巨大飞跃。
- (2)劳作方式：粗放型→集约型；劳动密集型→技术密集型。
- (3)企业管理：以市场为导向、充分发挥技术优势、有效调动员工积极性的现代企业管理制度逐步发展起来。

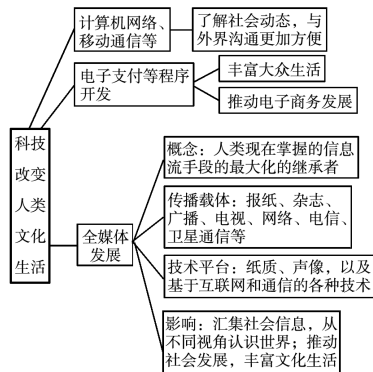
2. 现代科技进步给人类的文化生活带来哪些影响？^[4]

方便沟通：计算机网络、移动通信等技术迅猛发展，使人们可以了解社会动态，与外界沟通更加方便。丰富生活：各种应用程序的开发，促进了人们的通信交流，丰富了大众的文化生活，推动了电子商务的发展。认识世界：全媒体不断发展，汇集各种渠道的信息，为人们认识世界提供了不同的视角。

3. 人类视野

积极	交通和通信技术的进步使地球成为“地球村” 网络的普及促进了信息的交流，丰富了人类的知识，推动了社会的进步
消极	现代科技应用不当，也会带来负面影响 ^[5]

[4] 科技促进人类文化生活的变化



[5] 现代信息技术的负面影响

- (1)垃圾信息和网络安全问题影响着国家、公民的经济安全。
- (2)虚拟世界给人们，特别是青少年带来一定的负面影响。
- (3)人际关系日益淡漠。
- (4)个人信息安全受到威胁。

任务型课堂

任务一 现代科学技术的发展

[探究活动]

材料一 20 世纪的科学革命为技术革命打下了坚实的基础；物理学革命为原子能、电子激光技术的发展开辟了道路；化学革命为分子设计和开发新材料打下了坚实的基础；在物理学和化学革命的推动下，生物学也发生了革命性的变化；与此同时，交叉学科和边缘学科大量兴起。各门科学之间的关系日益密切，形成一个统一整体，以至任何一项重大的科学发现和发明，都不再是单一学科发展的结果，科学事业也不再是少数人的事业，而成为社会性的巨大事业。

新技术的发明和应用大大提高了工业劳动生产率，1946 年至 1970 年，资本主义世界工业生产增长

了大约 4 倍。同时，海陆空立体交叉交通运输网络形成，加强了世界各地之间的经济联系。随着高科技的发展，出现了许多新兴产业部门，如：信息技术产业已被人们从第三产业中独立出来，作为第四产业。科技革命造成的新的技术水平，使一个企业、一个国家很少能单独全面开发新产品，因此必须进行产品零部件开发的国际合作。

——摘编自王春明《科技革命的历史轨迹及对世界经济的影响》

(1)根据材料一，概括 20 世纪以来科技革命的主要特点。

提示：科学革命和技术革命紧密结合，相互促进；学科间的综合性加强，大量新兴学科兴起(或交叉学科、综合学科兴起)；科技研究的社会化趋势明显。

材料二 20 世纪 40 年代以来各国的科技成果

时间	国家	科技成果
1945 年	美国	原子弹爆炸
1946 年	美国	电子计算机诞生
1957 年	苏联	第一颗人造卫星上天
1964 年	中国	第一颗原子弹爆炸成功
1972 年	美国	重组 DNA 生物基因工程成功
1973 年	中国	育成杂交水稻“南优 2 号”
1977 年	日本	超大规模集成电路投入使用
1981 年	美国	第一架航天飞机升空
2022 年	中国	空间站建造和运营关键技术获全面突破

(2) 根据材料二并结合所学知识, 概括 20 世纪 40 年代以来科技发展的特点, 并分析其原因。

提示: 特点: 以高新科技为主; 美国和苏联科技优势突出; 中国奋起直追。原因: 科学理论的重大突破; 第二次世界大战的影响和推动; 美苏战后争霸的推动; 政府对科技的重视。

[评价活动]

(1) (2022·浙江卷) 2016—2017 年, 围棋人工智能程序“阿尔法围棋”(AlphaGo) 击败了众多世界围棋顶尖棋手。2021 年 12 月, 超导量子芯片“天目 1 号”“莫干 1 号”首发, 它们可应用于经典计算机解决不了的前沿问题。由此可知 ()

- A. 人类的智力水平已不如电子计算机
B. 计算机程序发展已对人类构成威胁
C. 电子计算机推进了人类信息文明发展
D. 计算机系统可以代替人类各种智力活动

C 解析: 电子计算机的发展, 推进了人类信息文明发展, 故 C 项正确; A 项表述错误, 排除; 计算机程序是人类制定的, B 项说法夸大了计算机的作用, 排除; 计算机程序是人类制定的, 计算机系统不能代替人类各种智力活动, 排除 D 项。

(2) 2022 年, 全球太空经济总量达 4 640 亿美元, 商业卫星占卫星总量的比例从冷战时期的 4% 到 2022 年的 78%, 而且一些商业卫星的性能已达到甚至超过了军用卫星的水平。商业航天从传统的通信、导航、遥感应用卫星领域, 拓展到载人航天、空间探测、在轨服务等多个领域。这表明 ()

- A. 现代科技孕育了新的经济增长点
B. 科技革命推动经济全球化
C. 航天技术威胁各国国家安全
D. 现代科技各领域互相渗透

A 解析: 材料说明太空经济发展潜力大, 发展快, 领域广, 孕育经济新增长点, A 项正确; 材料并未体现科技对经济全球化的影响, 排除 B 项; 材料并未涉及国家安全问题, 排除 C 项; 材料仅涉及航天科技, 并不能说明各领域互相渗透, 排除 D 项。

任务总结 ■■■■

新科技革命的特点

1. 科学技术在推动生产力的发展方面起到了越来越重要的作用, 科学技术转化为直接生产力的速度加快。
2. 科学和技术密切结合, 相互促进。随着科学实验手段的不断进步, 科研探索的领域也在不断开阔。
3. 科学技术各个领域之间的联系加强: 一方面, 学科越来越多, 分工越来越细, 研究越来越深入化; 另一方面, 学科之间的联系越来越密切, 相互联系渗透的程度越来越深, 科学研究朝着综合性方向发展。

任务二 现代科技进步的革命性意义

[探究活动]

材料一 科技是国之利器, 国家赖以力强, 企业赖以赢, 人民生活赖以好。中国要强, 中国人民生活要好, 必须有强大科技。新时期、新形势、新任务, 要求我们在科技创新方面有新理念、新设计、新战略。

——习近平在全国科技创新大会、两院院士大会、中国科协第九次全国代表大会上的讲话

(1) 根据材料一并结合所学知识, 就科技创新与经济发展的关系, 谈谈你对上述讲话的认识。

提示: 认识: 科技是第一生产力; 科技创新促进经济发展; 经济发展反过来推动科技进步; 当今世界, 国家间的竞争是以经济和科技为核心的综合国力的竞争; 要大力发展科学技术, 增强国际竞争力。

材料二 20 世纪四五十年代以来, 原子能、电子计算机、微电子技术、航天技术、分子生物学和遗传工程等领域取得重大突破, 标志着新的科学技术革命的到来。它产生了一大批新型工业, 第三产业迅速发展。最具划时代意义的是电子计算机的迅速发展和互联网的广泛运用, 这意味着人类社会已经进入信息时代。新科技革命也带来了一种新型经济——知识经济。知识经济发达程度的高低已成为各国综合国力竞争中成败的关键所在。

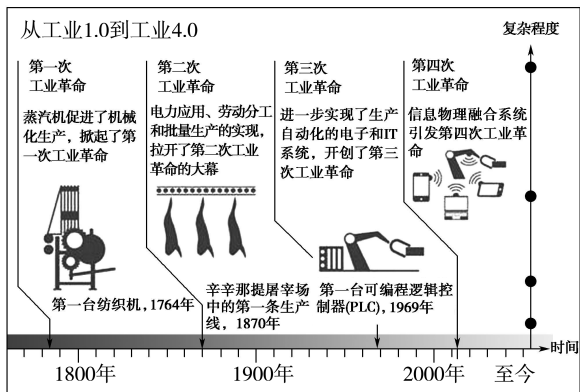
(2) 有学者认为“科技创新引发经济结构变化”。

请结合材料简单论证这一观点。

提示:这一观点具有一定的合理性。新科技革命使第三产业迅速发展并出现了知识经济。第一次工业革命的科技创新使机器生产占据主导地位,工业经济逐步占据主导地位。第二次工业革命使经济结构中重工业比重增加。

[评价活动]

(1)党的二十大报告指出,科技是第一生产力,人才是第一资源,创新是第一动力。对下图信息的解读,表述正确的是 ()



- A.科技发展带来生产方式变化
- B.科学发挥最重要的作用
- C.劳动者的劳动强度越来越大
- D.信息化普及贯穿全过程

A 解析:由图片信息可知,第一次工业革命使蒸汽动力成为主导,第二次工业革命使电力成为主导,第三次工业革命使计算机控制成为主导,第四次工业革命使信息物理融合系统成为主导。由此可知,科技发展带来生产方式变化,故 A 项正确;科学发挥最重要的作用、劳动者的智慧越来越高不符合材料信息主旨,故 B、C 两项错误;第一次和第二次工业革命没有信息化,故 D 项错误。

(2)2023年3月,美国某公司研发的深度人工智能应用引发热议,有人称其为生产力工具,也有人因其能够代写论文而感到恐慌。根据美国某银行预测,2025年以前,人工智能“每年产生的创造性破坏的影响”可能会达到 14 万亿—33 万亿美元。由此可见 (B)

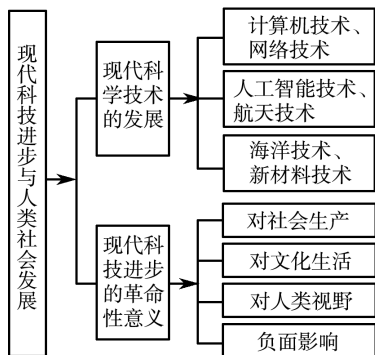
- A.人工智能将取代人在生产活动中的创造力
- B.科技革命在提高生产力的同时带来新挑战
- C.人工智能创造生产力的同时又破坏生产力
- D.人类尚未做好迎接新一轮科技革命的准备

任务总结

第三次科技革命与战后资本主义经济的发展

- 1.20世纪50—70年代,资本主义经济迅速发展,被称为资本主义发展的“黄金时代”。欧美发达国家开始第三次科技革命;二战后资本主义经济体系确立,使得世界经济朝着体系化、制度化方向发展;资本主义国家经济政策进行了调整。
- 2.第三次科技革命推动了服务业的发展,产业结构中服务业比重上升。
- 3.20世纪90年代,以美国为代表的“新经济”“知识经济”迅速发展。从20世纪90年代初开始,在信息技术革命和经济全球化浪潮的推动下,美国经济出现了长达10年的持续增长。

► 提质归纳



- 1.第二次世界大战后,计算机与人工智能技术、航天技术、海洋技术、原子能、生物技术、新材料技术迅速发展,科学技术的重要作用愈发突显。
- 2.伴随着现代科技的进步,劳作方式由粗放型转化为集约型,现代企业管理制度逐步发展起来。
- 3.现代科技进步极大改变了人们的生活方式,人类的文化生活出现新模式,人类视野也产生了新变化。

课后素养评价(六) 现代科技进步与人类社会发展

基础性·能力运用

知识点 1 现代科学技术的发展

1. 20 世纪的一项科技成果不仅为自动化和控制论的建立奠定了基础,而且被广泛应用到数据处理、自动控制、信息传播、教学科研等领域。这项成果是 ()

- A. 电影
B. 电视
C. 电子计算机
D. 有线电话

C 解析:根据“被广泛应用到数据处理、自动控制、信息传播、教学科研等领域”可知,该项科技成果是电子计算机,C 项正确;A、B、D 三项都不能进行数据处理,故排除。

2. “第二次世界大战期间,美国研制了原子弹并用于实战;1946 年美国投入使用的第一台电子计算机,最初是用来计算炮弹弹道的;德国人研制成功的远程液体燃料火箭,是用于空袭英国的。”以上史实说明 ()

- A. 科技革命是战争爆发的导火索
B. 科技是决定战争胜负的关键
C. 第二次世界大战加速了新科技革命的到来
D. 新科技革命加速了第二次世界大战的爆发

C 解析:根据“美国投入使用的第一台电子计算机,最初是用来计算炮弹弹道的;德国人研制成功的远程液体燃料火箭,是用于空袭英国的”可知,第二次世界大战加速了新科技革命的到来,故选 C 项。

3. 近年来,一些餐厅出现了智能送餐机器人,它们具有自动送餐、空盘回收、菜品介绍等功能,代替或者部分代替了餐厅服务员的工作。这一现象的出现反映了 ()

- A. 现代高技术产业的发展
B. 物流业工作效率的提高
C. 餐饮业用工成本的降低
D. 现代科技的双刃剑特征

A 解析:智能机器人的研制和使用是高技术产业发展的表现,A 项正确;材料与物流业发展无关,排除 B 项;材料无法得出餐饮业用工成本降低的说法,排除 C 项;材料未涉及科技发展的消极性一面,排除 D 项。

4. 阅读下图,空间交通管理概念发展的背景是 ()



- A. 世界市场的形成
B. 航天技术的发展
C. 电子商务的普及
D. 欧洲一体化发展

B 解析:材料“避免航天器在发射轨和星际飞行中的碰撞”“欧洲太空局发表‘实施欧洲外空交通管理制度’”等强调的是空间技术,即航天技术,故选 B 项;A、C、D 三项均与材料无关,排除。

知识点 2 现代科技进步的革命性意义

5. 1928 年,英国细菌学家弗莱明发现青霉素。1940 年,提取青霉素的方法被发明。1942 年,青霉素得以批量生产,成为第二次世界大战中重要的救命药品。上述材料反映出 ()

- A. 化工产业开始逐步兴起
B. 科研活动产生巨大的社会效益
C. 战争是科技进步的主因
D. 科技成果的转化机制成熟完备

B 解析:根据材料“1942 年,青霉素得以批量生产,成为第二次世界大战中重要的救命药品”可知,科研成果转化为了现实的社会效益,故选 B 项;青霉素的生产属于医药产业,而不是化工产业,排除 A 项;材料没有涉及战争与科研之间的关系,排除 C 项;题干内容着重点在于叙述科技研发对社会的积极作用,并没有述及其“转化机制”问题,排除 D 项。

6. 1981—2010 年,美国中产阶级在这 30 年中收入水平基本处于停滞状态。据美国民间机构统计,2010 年美国中产阶级的平均年收入较 2000 年下降了 7%;但也有调查显示,美国中产阶级在这 30 年间,仍然感到生活质量有所提升。出现这一反差的重

要原因是 ()

- A. 资本主义固有矛盾得到解决
- B. 世界货币体系受到美国控制
- C. 科技进步降低了生活的成本
- D. 美国福利政策的覆盖面扩大

C 解析:根据材料可知,由于受科技水平提升的影响,商品日益具有更高的性价比,这使得美国的中产阶级能够在收入水平几乎没有增长的情况下,获得生活品质的提升,C项正确;A项史实错误,美国至今未能解决资本主义的固有矛盾,排除;20世纪70年代,布雷顿森林体系解体后,虽然美元仍是主流国际储备货币,但美国对国际货币体系的控制削弱,而非完全受到美国的控制,排除B项;20世纪80年代,主要资本主义国家减少福利开支,排除D项。

7. 人工智能(AI)是计算机信息科学的一个分支,利用计算机模拟人类的智力活动。人工智能的应用,让

机器代替人类进行单纯重复的工作或危险和劳动条件恶劣的工作,既能减轻劳动强度,又能避免工伤事故。这表明信息技术 ()

- A. 大大提高了工作效率、改善了工作环境
- B. 避免了工伤事故的发生
- C. 给从事单纯重复劳动者带来失业风险
- D. 提升了人类的智力水平

A 解析:从题干中可以看出人工智能可以让机器代替人类进行某些工作,既能减轻工人的劳动强度,又能避免工伤事故,从而提高工作效率、改善工作环境,故A项正确;题干强调的是人工智能代替人类从事部分劳动条件恶劣的工作可以避免工伤事故,但并不是说可以避免所有的工伤事故,故B项错误;人工智能的使用与否取决于人类,并不会给劳动者带来失业风险,故C项错误;题干强调人工智能只是能取代人类从事部分工作,并不能提升人类的智力水平,故D项错误。

综合性·创新提升

8. 1731年,德国人彼特依托当地的稀有金属矿产和制刀剑传统,外加30多道工序,创立了自己的品牌。1867年,该品牌成立现代化钢材铸造车间,1939年,其独有的低温冰锻技术研发成功。由材料可知,该品牌长盛不衰的原因是 ()

- A. 注重品质,坚持技术创新
- B. 物美价廉,广受市场欢迎
- C. 采用现代化机器大生产
- D. 国家统一助力企业发展

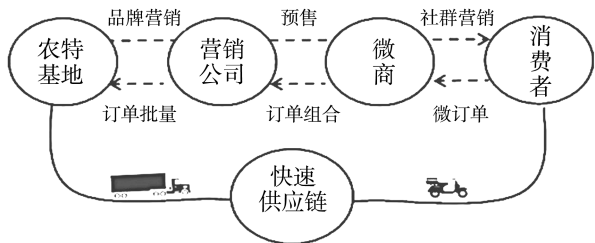
A 解析:由材料可知,该品牌创立伊始就有很强的品牌意识,注重工艺和设备的与时俱进,坚持更新设备、研发技术等,这说明该品牌长盛不衰的原因是注重品质、坚持技术创新,A项正确;材料并未体现该品牌具有物美价廉的特点,排除B项;采用现代化机器大生产只是部分信息,并非材料主旨,排除C项;D项与材料信息无关,排除。

9. “它的重要意义不仅在于可以传输能量,而且在于它可以传递信息。从它开始踏上近代技术舞台的时候起,就同时显示了它为现代社会充当动脉和神经的双重职能。”材料反映的科技成就 ()

- A. 推动人类进入“蒸汽时代”和“铁路时代”
- B. 促进了计算机和互联网技术的发展
- C. 推动了电力工业和电器产品的发展
- D. 促进了石油化工和交通运输的发展

C 解析:根据材料“不仅在于可以传输能量,而且在于它可以传递信息”“为现代社会充当动脉和神经的双重职能”并结合所学可知,这一重大科技成就就是电力的发明和应用,其推动了电力工业和电器产品的发展,C项正确。

10. 近年来,在政府的引导下,浙江出现了如下图所示的特色农产品基地及产业链。这主要得益于 ()



- A. 环境治理和气候变化
- B. 河流疏浚和交通便利
- C. 改革开放和土地流转
- D. 互联网和农业的结合

D 解析:根据图片信息“营销公司”“微商”可知,浙江地区的特色农产品基地及产业链高度强调农业生产与互联网营销技术的结合,即通过互联网平台为消费者与农业生产基地之间搭建市场销售平台,故选D项;图片中的产业链重点强调的是市场营销,与环境治理无必然关系,排除A项;材

料中的产业链主要依托的是互联网平台,而不是传统的道路交通运输网,排除B项;材料中的产业链所面向的消费群体主要是国内人群,与改革开放无必然关系,排除C项。

11. 随着人工智能技术的发展,制造业生产“智能化”成为发展新趋势,经济增长方式得到优化。与此同时,人工智能也引发了就业隐忧,“自动化”生产将造成技术性失业,对中低技能劳动者产生挤出效应。据此推知,现代科技进步 ()

A. 影响了劳动力的需求
B. 推动了生产力的跃进
C. 改变了社会生活方式
D. 降低了产业要素成本

A 解析:根据材料“‘自动化’生产将造成技术性失业,对中低技能劳动者产生挤出效应”并结合所学知识可知,机器设备的大量引入将很大程度上取代中低技能劳动者,影响和改变了劳动力市场需求及就业结构,A项正确。

12. 有人说:“21世纪,不是一场技术的革命,也不是一场产品的革命,而是一场观念的革命……用电脑延伸人脑,用邮件延伸人腿,用语音延伸人嘴;光的速度、零的距离、海的容量,瞬间传导全世界。”材料意在说明互联网 ()

A. 推动了科学技术的深入发展
B. 重新阐释了传统的价值观念
C. 代替了传统产业和已有产品
D. 深刻改变了人们的交流方式

D 解析:根据材料可知,互联网不仅是技术和产品的革命,更是观念的革命,是对人们传统的交往和交流方式进行的革命性革新,故选D项;互联网推动了人们交流和交往的方式,而不是科学技术的深入发展,排除A项;重新阐释了传统的价值观念与“用电脑延伸人脑……瞬间传导全世界”不符,排除B项;“代替了”说法错误,排除C项。

13. 阅读下列材料,回答问题。

材料一 2001年11月20日,美国一家世界上最大的药房问世。该药房采用了大量信息技术,其中包括一台高精度的机械手,按处方配药、分类、贴标签等一系列动作精度达到了99.997%的水平,处理能力为每周处理处方80万件,明显优于人工操作。

材料二 信息技术已成为过去10年里经济上取得的更快的生产周期、更高水准的产品质量和低通货膨胀等特点的主要贡献力量。

材料三 1949年5月,第一代电子计算机诞生。电子计算机除了解决复杂的数学计算外,还为人

们进行大量信息储存、加工与处理提供了强有力的手段,它部分取代了人的脑力劳动,也实现了“用机器操纵机器”生产自动化,计算机在科学、商业、工业,甚至在缝纫机、微波炉等家庭用具上日益普遍应用,电子计算机是20世纪最重大的发明之一。

(1)材料一、二所表现的是哪一次技术革命的成果?该技术革命的核心是什么?在哪些领域取得了重大突破?

(2)根据材料三并结合所学知识,简述电子计算机等科技成果的发明,除推动了社会生活的现代化外,对世界还产生了哪些影响。

答案:(1)技术革命:第三次科技革命。

核心:电子计算机的广泛使用。

领域:原子能、计算机、航天技术、生物工程等。

(2)影响:极大地提高了劳动生产率;推动了第三产业产生并发展迅速;计算机技术的迅速发展和广泛应用,给各国经济的发展带来了机遇和挑战。

解析:第(1)问第一小问,根据“该药房采用了大量信息技术”等可知是第三次科技革命;第二、三小问,结合所学知识回答即可。第(2)问,结合材料和所学知识,分别从生产力、产业结构、计算机技术以及对各国经济发展的机遇和挑战等角度回答。

14. 阅读材料,回答问题。

材料

发明	概况
风筝、飞机	相传墨子用木头制作了一个风筝,称为“木鸢”。宋代的《清明上河图》中绘有人们放风筝的情形。13世纪时,意大利旅行家马可·波罗将风筝带回欧洲。美国的莱特兄弟制作了双翼飞机造型的盒装风筝,用来实验在飞行状态下的飞机控制原理,从而帮助他们实现了飞行梦,人类从此开启了飞翔时代
听诊器	1816年,法国医生雷奈克找人制作了一根空心木管,后将其分为两段,并以螺纹旋转连接,这就是世界上的第一个听诊器。由于听诊器的发明,雷奈克能诊断出许多胸腔疾病
移动支付工具	1998年12月,马斯克和其他两位合伙人共同创立了备受全球亿万用户追捧的国际贸易支付工具,即时支付,即时到账。2003年,中国的第三方支付平台上线,即时支付在中国迅速普及

提取表中信息,围绕“科技与生活”自拟论题,并结合所学知识就所拟论题进行简要阐述。(要求:明确写出所拟论题,阐述须有史实依据)

答案:示例

论题:科技源于生活并服务于生活。

阐述:春秋时期的墨子通过对生活的观察,制作了“木鸢”。第二次工业革命期间,莱特兄弟利用风筝原理进行实验,后又造出了人类历史上第一架飞机,为后来航天事业的发展作出了卓越贡献。19世纪初,法国医生雷奈克发明了听诊器。随着信息技术的发展,国际贸易支付工具应运而生,推动了国际贸易的发展。第三方支付平台的出现,改变了人们的支付方式,给人们的生活带来巨大

便利。

总之,科技发明来源于生活,反过来又促进了人类社会的发展,改变了人类的生活。

解析:首先,通过对人类历史上的科技发明对人类生活和时代变化的影响进行分析,得到论题:科技是源于生活并服务于人们的生活。然后,结合材料和所学知识对上述的观点进行论述,在论证的过程中注意每项发明出现的时代背景。最后,得出结论:科技发明来源于生活,反过来又促进了人类社会的发展,改变了人类的生活。

易错强化练(二) 生产工具与劳作方式

练易错

易错点 1 | 农业工具的变化和劳作方式的发展

[防范要诀]

- 1.商周时期,出现了青铜农具,但并未在农业上大规模使用,冶铸的青铜器主要用于祭祀和战争。战国时期铁农具广泛用于农业生产。
- 2.自然经济最本质的属性是物质生产的自给自足,和商品经济相对独立;小农经济最本质的属性是家庭经营,经营规模狭小;自耕农经济是小农经济的重要组成部分。
- 3.小农经济的基本特征是自给自足,其中“足”并非富足,而是指自耕农的生产目的是满足自家的基本生活需要和交纳赋税,生产的东西很少在市场上进行交换。

[对点集训]

- 1.郭宝钧在《中国青铜器时代》中提道:商周的青铜冶炼业很发达,制造水平很高,为什么青铜农具数量很少呢……铜器在古代是贵重的“美金”是原因之一且是重要原因。这反映了商周青铜农具数量少的直接原因是 ()
 - A.青铜器制作技术不成熟
 - B.青铜器相对比较昂贵
 - C.铜矿比较少且开采困难
 - D.铁农具已经开始推广

B 解析:根据材料“铜器在古代是贵重的‘美金’是原因之一且是重要原因”可知,商周时期青铜农具数量少的直接原因是青铜器相对比较昂贵,B项正确;青铜器制作技术不成熟与材料“商周的青铜冶炼业很发达,制造水平很高”不符,排除A项;“铜矿比较少且开采困难”不是直接原因,排除C项;铁农具出现在春秋战国时期,排除D项。
- 2.魏晋时期,北人以宗族乡党为单位,峻险阨,杜蹊

径,修壁坞,树藩障,筑坞以自守。“坞”的劳动方式是 ()

- A.农业家庭式劳作
- B.农业庄园式劳作
- C.手工业家庭式劳作
- D.手工业作坊式劳作

B 解析:根据“北人以宗族乡党为单位”“筑坞以自守”可知,“坞”的劳动方式属于宗族式的集体劳动,即农业庄园式的劳作,故选B项;“北人以宗族乡党为单位”与家庭式劳作不符,排除A项;“计丈尺”与“手工业”不符,排除C、D两项。

易错点 2 | 工业革命与工厂制度

[防范要诀]

- 1.工业革命又叫产业革命,是资本主义发展史上的重要阶段,它使资本主义由工场手工业阶段过渡到机器大工业阶段。它是生产领域的一场大变革,又是社会关系方面的一场革命。
- 2.工场以手工劳动为主,以分散的家庭生产为组织形式;工厂实行大机器,集中生产,分工细致,人成为机器的附庸。

[对点集训]

- 3.有人描述19世纪初英国的情景时说,妇女们曾从黎明到深夜整天不断地使用纺车,如今已被弃置屋隅。那些打着拍子砰然作响的手织机也多半闲置。这说明 ()
 - A.生产领域出现革命性变化
 - B.工业革命推动妇女解放
 - C.重工业成为国民经济主导
 - D.家庭手工业已不复存在

A 解析:根据材料可知,随着工业革命的开展,机器日益增多,出现新的生产组织形式——工厂,传统的手工工场和家庭手工业逐渐被淘汰,材料反映的是工业革命带来的生产领域的革命性变化,A项正确;B、C两项材料中未反映,排除;D项说法过于

绝对,且不符合史实,排除。

易错点 3 | 新科技革命与现代社会发展

[防范要诀]

1. 新科技革命的特点表现为科技在推动生产力的发展方面起着越来越重要的作用,科技转化为直接生产力的速度加快;科学和技术密切配合,相互促进;科学技术和各个领域之间相互渗透。
2. 新科技革命使劳动者的地位提升,使人从直接生产者参加生产日益转到控制整个生产过程,即为生产作准备、设计、规划和根据规定的程序维持生产的运转;劳动者的素质和技能不断提高。

[对点集训]

4. 英国内城问题,即所谓英国内城困境,出现于 20 世纪 50 年代,表现为大量制造业工厂关闭,大批住宅房屋被遗弃,城市中心人口大量迁移到城镇或城市边缘地带的小城镇,城市环境质量严重下降等。据此可知,当时英国 ()

- A. 内城遭到彻底废弃
- B. 工业结构发生转变
- C. 人才外流十分严重
- D. 城市交通根本改变

B 解析: 根据材料信息可知,英国内城困境指大量制造业工厂关闭,城市中心人口迁移到小城镇,这是由于 20 世纪 50 年代英国制造业衰落,高新技术产业发展,是工业结构转变的结果,故选 B 项;“彻底”一词表述过于绝对,排除 A 项;材料反映城市中心人口迁移到城镇地区,不属于人才外流现象,排除 C 项;“根本”一词过于绝对,排除 D 项。

5. 1965—1996 年,发达国家每创造 100 美元国民生产总值所消耗的能源降低了约 87%,发展中国家降低了约 44%。出现这一现象的主要原因是 ()

- A. 国际分工的形成
- B. 区域经济集团化的发展
- C. 两极格局的解体
- D. 第三次科技革命的推动

D 解析: 依据所学知识可知,20 世纪四五十年代以来,人类在原子能、计算机、航天技术、生物工程等领域取得重大突破,标志着第三次科技革命的到来。题干现象是受第三次科技革命的影响,故选 D 项。

练疑难

6. 公元前 15—前 14 世纪,赫梯人已经开始大规模使用铁器,凭借强大的军事实力占领了米坦尼的大部分领土,并和埃及争夺叙利亚。之后亚述人在征服赫梯人之后,迅速吸收了赫梯人的铁器技术,一度占领了整个近东地区。这反映了 ()

- A. 生产力进步推动文明扩张

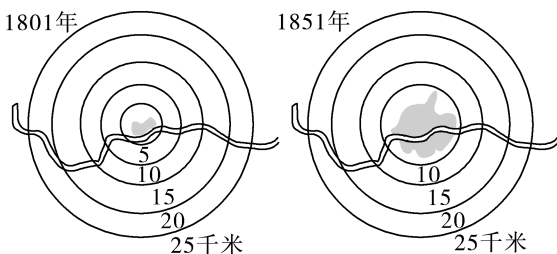
B. 文明传播导致了战争频发

C. 铁器生产决定了军事实力

D. 对外征服促进了经济交流

A 解析: 根据材料可知,赫梯人、亚述人因使用了先进的生产工具(铁器)而迅速发展壮大,并进行对外扩张,反映出生产力进步推动文明扩张,故选 A 项;材料强调生产力发展的影响,而不是文明传播的影响,排除 B 项;“决定”说法过于绝对,排除 C 项;材料强调生产力发展推动对外征服,不涉及对外征服的影响,排除 D 项。

7. 下图为伦敦城市地域的扩展示意图。这一变化出现的原因是 ()



- A. 早期殖民扩张
- B. 工业革命
- C. 贸易中心转移
- D. 阶级对立

B 解析: 18 世纪中后期到 19 世纪上半期,英国开展了工业革命。瓦特改良蒸汽机克服了自然条件的限制,工厂逐渐集中到城市,促使城市地域不断扩大,故 B 项正确。

8. 1789 年,英国诗人威廉·布莱克在《扫烟囱的小男孩》中描述道:“我母亲死的时候,我还小,我父亲把我卖给了别人,我当时还不大喊得清‘扫呀,扫呀’,就这样白天扫你们的烟囱,晚上在烟灰里睡觉。”诗人意在抨击 ()

- A. 资本主义生产方式的罪恶
- B. 阶级矛盾尖锐对立的现实
- C. 社会贫富差距拉大的现象
- D. 工业化中人性关怀的缺失

D 解析: 材料描写了工业革命期间男孩悲惨的生活境遇,由此抨击了工业化中人性关怀的缺失, D 项正确;材料主体是诗人对小男孩境遇的描述,并非指向资本主义生产方式,排除 A 项;材料未涉及阶级矛盾,排除 B 项;材料中没有数据证明贫富分化,排除 C 项。

9. 《全球通史》中写道:“一个世纪以前,工业革命将大批劳动力吸引到大机器和能源所在地:工厂里面。今天,相反的趋势在进行当中,现代通信革命允许人们在任何地方创造思想和处理信息。”带来这一变化的主要原因是 ()

- A. 内燃机车和现代交通工具的发明和应用
- B. 电话、无线电技术的发明和应用

C. 电子计算机与网络技术的发明和发展

D. 电影、电视的出现和影视艺术的发展

C 解析:材料“现代通信革命允许人们在任何地方创造思想和处理信息”反映了现代电子计算机与网络技术的巨大作用,故C项正确。

10.“直通乌镇”全球互联网大赛作为世界互联网大会重要版块之一,是一个聚焦数字经济的国际性赛事。2022年,大赛设置数字医疗、数字“双碳”、人工智能、工业互联网、网联汽车、网络安全、数字共富七大专题赛,探索互联网发展的新技术、新模式、新业态,在全球范围内高质量推动互联网产业精准对接,为全球互联网共治共荣和数字经济蓬勃发展贡献大会力量。这反映出 ()

A. 科学与技术紧密结合

B. 社会服务体系日渐完善

C. 科技全球化趋势加强

D. 科技进步改变社会生活

D 解析:根据“数字医疗、数字‘双碳’、人工智能、工业互联网、网联汽车、网络安全、数字共富”“高质量推动互联网产业”可知,互联网技术促进社会经济发展,改变社会生活,D项正确;材料无法体现科学与技术紧密结合,排除A项;材料强调互联网技术发展的影响,并未强调社会服务体系、科技全球化,排除B、C两项。

11. 阅读材料,回答问题。

材料

元素	用途
铁	铁可用于制作农具和兵器;纯铁可用于制造发电机和电动机的铁芯;钢铁可以制造机器和使用于建筑行业
硅	富含有机硅酸盐的黏土可以制造陶器或瓷器;硅晶体是制造太阳能电池板和各类芯片的必需材料
碳	提供宝贵的能量来源(煤炭和石油);古代中国已使用煤作为燃料

——摘编自孙亚飞《元素与人类文明》

文明进步的过程,其实就是人类更好地使用不同元素的过程。选取材料中任何一种元素,结合所学知识对上述观点加以解释。(要求:至少列举两个史实,史论结合)

答案:示例一

元素:铁元素

解释:春秋战国时期,冶铁技术出现,铁制农具开始使用,推动了经济发展和社会转型。18世纪60年代以来,随着机器的制造和使用,生产力出现了前所未有的大发展,人类先后迈入“蒸汽时代”和“电气时代”,促进了资本主义的发展。人类对铁元素的利用推动生产工具的革新,促进人类文明的进步。

示例二

元素:硅元素

解释:距今约1万年前的新石器时代早期,先民就已大量使用陶器。宋代制瓷技术有重要改进,中国瓷器大量外销,成为中国文明新的物质象征。第二次世界大战以来,硅晶体成为制造各类芯片的必需材料,促进信息技术的发展,人类社会进入信息时代。硅元素利用水平的不断提高,为人类经济和科学技术的发展提供了必要条件,推动了人类文明的进步。

示例三

元素:碳元素

解释:北宋时期煤的开采量很大,都城东京居民已普遍使用煤作燃料。燃料的改进大大提高了金属冶炼的产量和质量。近代以来,煤炭被用作蒸汽机的动力燃料,推动“蒸汽时代”的到来;第二次工业革命后,石油化工业获得发展,内燃机的发明和使用,人类进入“电气时代”。人类对碳元素的利用水平不断提高,促进生产能源的多样化,改变了人们劳作方式,推动了人类文明的发展。

解析:根据材料表格内容可知,其主要论述了铁、硅、碳三种元素是如何促进人类文明发展进程的。结合题干内容可知,其主题是“文明进步的过程,其实就是人类更好地使用不同元素的过程”,也就是说,由于人类不断地使用各种元素,人类文明也不断地发展和进步。据此可知,在论述过程中,着重点在于论述“元素是如何使人类文明不断进步的”。材料表格内容中,主要述及了铁、硅、碳三种元素,在具体论述过程中,按照题干中的要求“选取材料中任何一种元素”。最后,在论述的结尾部分,进行总结深化。

单元活动构建

生产工具与劳作方式

【主题性概述】

农业产生之前,人类已学会用打制的石器来收割或碾磨野生作物。进入新石器时代以后,随着农具的改进,农业生产效率进一步提高。随着生产力的提高,人们的劳作方式也发生相应改变。进入工业社会以后,规模化的大机器生产随之出现,由此形成的工厂制度深刻改变了人们的劳作方式与生活方式。尤其是在科学技术飞速发展、人工智能技术被广泛应用后,现代人的劳作方式与生活方式更是出现了前所未有的变化。

构建任务一 中国古代的农耕经济

「学术性观点」

观点一 春秋战国时期,金属农具的应用、推广及大量出现,与当时的社会历史条件有着必然的联系。据统计和考证,《山海经》里著名的铁山之中,“秦地即占10处之多”,河南、山西都有铜矿。战国早期,出现用退火热处理方法获得的展性铸铁(可锻铸铁),并出现“一范两器”的范具。随着铁制农具种类的丰富和形制、功能的创造,农民希望掌握新型工具从事和发展农业生产。战国时期,列国诸侯相继变法,铁农具的制造生产在各国“富国强兵”的变法改革中有着举足轻重的位置。

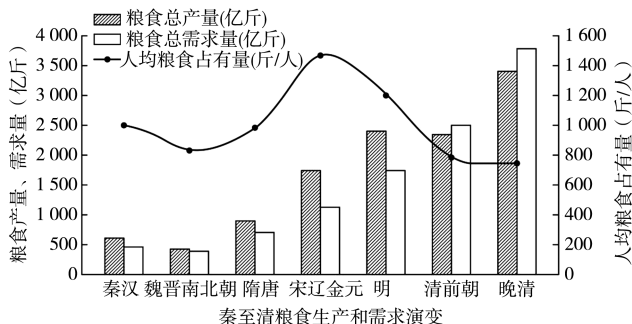
——摘编自杨玄《春秋战国时期黄河流域的金属农具研究》

观点二 自秦汉以来,凭借着“小农业与家庭手工业相结合”的高密度小农经济,中国创造出举世瞩目的灿烂文化,并在很长时间内都遥遥领先于西方世界。小农经济作为一种经济形态和经济组织,构成中国古代、近代的基本社会经济单位,它具有很高的经济效益和很低的运作成本,是符合中国国情的产物。但是,小农经济又不是孤立于中国“大生态环境”之外的事物,它不得不受到外在自然及社会环境的根本制约。

——摘编自林刚《中国近代工业与小农经济》

「开放性活动」

情境材料:(2022·湖南卷,节选)



注:按传统社会人均年需求原粮696市斤计算

——改编自李小云等《中国人地关系的历史演变过程及影响机制》

问题:根据材料并结合所学知识,任选图中某一时段,围绕“粮食生产与社会生活”展开论述。(要求:史论结合,论证充分,表述清晰)

解答:

示例

论题:明清高产农作物的引进一定程度上缓解了人口增长的压力。

阐述:明清时期中国的农耕经济继续向前发展,但随着人口的快速增长,出现了相应的社会问题,比如人地矛盾的紧张,农民的粮食短缺等,而新航路开辟,促进了食物物种的大交换,给中国带来了玉米、马铃薯等高产农作物,这些农作物的引进,促进了粮食的生产,丰富了食物种类,改善了饮食结构,促进了经济的发展,在一定程度上缓解了人口增长的压力。

「常规性活动」

1.西汉农学家氾胜之指出,“凡耕之本,在于趣时”。

“二月注雨(大雨),可种芋”“种麻,预调和田。二月下旬,三月上旬,傍雨种之”“三月榆莢时雨,高地强土可种禾”。这表明当时 ()

- A.精耕细作技术有所发展
- B.农业生态环境大为改善
- C.农学著作重视理论概括
- D.农产品商品化程度提高

A 解析:根据材料“二月注雨(大雨),可种芋”“种麻,预调和田。二月下旬,三月上旬,傍雨种之”“三月榆莢时雨,高地强土可种禾”可知,氾胜之强调因时因地种植芋、麻、禾、豆,这体现了精耕细作技术有所发展,A项正确;材料并未反映当时的农业生态环境,排除B项;《氾胜之书》总结了农耕实践经验,并非理论概括,排除C项;氾胜之未提及农产品与市场的联系,无法判定其农产品商品化程度,排除D项。

2.《耒耜经》是晚唐陆龟蒙写的一篇短文，他在文中描述了一种农具：犁铧用以起土；犁壁用于翻土；犁箭和犁评用以调节耕地深浅；犁辕短而弯曲；犁盘可以转动。据此判断，文中描述的农具是（ ）

- A. 曲辕犁
- B. 耒耜
- C. 耦犁
- D. 耨车

A 解析：根据材料“犁铧用以起土……犁盘可以转动”可知，该农具是一种耕犁，而且构件完备复杂，犁辕短而弯曲，结合所学知识可知，这是发明于江南地区的曲辕犁，A项正确。

3.汉代的夫余文化遗存（在今吉林省）榆树老河深遗址中，出土了铁镢 27 件、铁凿 4 件、铁镬 8 件、铁镰 13 件，铁制农业生产工具在老河深大、中、小型墓中均有出土。经学者比对，这些铁制农具与汉代中原地区的农具完全相同。这表明汉代（ ）

- A. 农耕生产区域的扩展
- B. 铁犁牛耕的广泛使用
- C. 存在大地主田庄生产
- D. 跨区域长途贸易兴盛

A 解析：根据材料可知，出土于吉林榆树老河深遗址的铁制农具与汉代中原地区的农具完全相同，这说明汉代中原地区的农耕生产方式扩展至东北地区，A项正确；材料仅说明东北地区铁器使用情况，并未涉及牛耕的信息，同时也未说明其他地区铁犁牛耕的使用，B项夸大了范围，排除；材料无法说明当时东北地区出现了大地主田庄生产组织形式，排除C项；跨区域长途贸易兴盛是在明清时期，排除D项。

4.下表所示为魏晋南北朝时期设置的管理养牛的官职。这些官职的出现主要得益于（ ）

	曹魏	西晋	东晋	北魏	北齐	北周
驾部	驾部郎	驾部尚书	驾部郎	驾部尚书	驾部郎中	驾部中大夫
太仆	太仆卿	太仆卿	或置或省	太仆卿	太仆卿	太仆卿
牧官	牧官都尉	牧官都尉	牧官都尉	驼牛都尉	驼牛令	驼牛令

- A. 经济重心南移的完成
- B. 商品经济的不断发展
- C. 先进生产技术的传播
- D. 南北民族交融的促进

C 解析：根据材料表格并结合所学知识可知，魏晋南北朝时期政府重视养牛，这主要是因为铁犁牛耕技术的推广，耕牛在农业中的地位日益重要，C项正确；经济重心南移完成是在南宋时期，排除A项；这些官职的出现与商品经济的发展和南北民族交融无关，排除B、D两项。

「活动后结论」

得出你的结论：_____

构建任务二 工业革命及其影响

「学术性观点」

观点一 从13世纪到17世纪，亚欧大陆上的政治、制度、科学、技术、经济、社会发生着微妙的变化，似乎都在“沉默中”为工业革命的破壳而出作着准备。第一次工业革命的最早受益者是欧洲，欧洲国家通过工业革命实现了工业化，成为称霸全球的殖民者。但是，工业革命的孕育者是包括欧洲在内的全球经济体系，美洲的金钱、市场和原材料，亚洲的生产、市场、贸易和辗转流传的东方文明，非洲的劳动力和原材料，古希腊和古罗马的文明遗风，都是工业革命的“助产士”。亚洲、非洲和美洲帮助欧洲实现了崛起，同时也成为被盘剥的殖民地或半殖民地。

——摘编自余东华《工业革命的驱动因素——对人类工业文明演化的多维思考》

观点二 工业革命焕发出的巨大生产力，不仅使英国走进了富裕的现代社会，而且对社会生活的诸多方面都产生了深刻影响。对妇女而言，工业革命使妇女以自由、独立的身份进入社会，发挥自己的作用，将以前从未离开过家庭的妇女从这狭小的天地中解脱了出来……工业革命从根本上提高了英国妇女的地位，为她们争取真正的男女平等奠定了坚如磐石的基础。英国妇女地位的实质性提高，是以她们作为个人直接参加广泛的社会劳动为前提的……大工业也扩大了女工的活动范围与社会圈子，锻炼了她们各方面的能力，增加了她们的阅历，开阔了她们的政治眼界，从而使她们大有收益。

——摘编自尹丽曼《论工业革命时期英国妇女的社会地位》

「开放性活动」

情境材料:工业革命和工业化是近代史上的重要历史现象和事件,学者对两者存在不同的看法:

一类观点	<p>1.工业革命使英国从农业国变为工业国</p> <p>2.到20世纪初,日本就基本上实现了由手工业生产到机器大工业生产的工业革命,成了以棉纺织业为主、主要轻重工业都已建立并有一定发展的资本主义工业国</p> <p>3.19世纪30年代末至80年代初,德国进行了工业革命,由一个落后的农业国发展成为先进的工业国</p>
不同观点	<p>1.1851年,“农业还是英国最大的行业”。1861年,英国城市人口已占总人口的62.3%,农村人口则只占37.7%。英国实现了资本主义工业化,成为世界上第一个工业国</p> <p>2.美国工业革命在19世纪60年代初基本完成。1859年,在美国工农业生产总额中,农业占62.5%,工业只占37.5%。1860年,农村人口仍占绝大多数。从1884年起,工业所创净产值已超过农业,美国的工业化在19世纪80年代实现</p> <p>3.德国19世纪80年代初基本完成工业革命。1890年,农村人口占57.5%,城市人口占42.5%,1900年,农村人口占45.6%,城市人口占54.4%,1910年,农村人口占40%,城市人口占60%。20世纪初,德国成为仅次于美国的世界第二工业国</p> <p>4.日本工业革命在20世纪初基本完成。1914年,工矿业产值占49.5%,农业(包括水产业)产值占50.5%,到1919年,前者达61.1%,后者则为38.9%。1920年前后,日本成为工业国</p>

——摘编自许永璋《有关工业革命史研究的几个问题》

问题:对于工业革命和工业化的认识,不同学者有不同的见解。请任选角度,自拟论题,结合材料,并运用所学知识加以论证。(要求:观点明确,史论结合,表述清晰)

解答:

示例

论题:工业革命的完成并不等于工业化的实现。

论证:工业革命是由技术变革引起的新产品、新模式出现,而工业化是工业产出上升和工业就业提升的结果。从欧美国家工业革命和工业化的进程看,工业革命并不等于工业化。当一个国家的大机器工业基本

上代替了手工业的时候,这个国家工业生产的比重不一定已超过农业生产的比重。关于工业化的标准,一般来说,是看它的大机器工业在整个国民经济中是否居于统治(或优势)地位,主要表现为工业生产所占的比重超过农业生产;同时,也反映在城市人口(工业人口)的增加和农村人口(农业人口)的减少上。如英国,虽然在19世纪40年代已完成工业革命,但1851年时,“农业还是英国最大的行业”。1861年,英国城市人口已远超农村人口,英国才真正实现工业化。美国工业革命在19世纪60年代初基本完成,但从1884年起,其工业产值超过农业,工业化才实现。德国19世纪80年代初基本完成工业革命,但直到1910年,城市人口大大超过农村人口,才实现工业化。

结论:从以上史实可知,从工业革命的完成到工业化的实现,还需要一段时间。工业化的过程中包含着工业革命的过程,工业革命是工业化过程中的第一个阶段,或者说是工业化的前期。所以工业革命的完成并不等于工业化的实现。

「常规性活动」

1.19世纪以前,习惯于干农活的人们根据季节、日出、日落的变化和气候波动决定自己的劳动日程。19世纪中后期,工厂的汽笛轰鸣从早到晚,产业工人一般每周工作6天,每天工作12至14小时,整整一天里,工人的步伐都要跟上机器单调的运转。这一变化植根于 ()

- A.全球气候的变暖
- B.工业革命的开展
- C.阶级矛盾的激化
- D.自然环境的破坏

B 解析:根据材料可知,19世纪以前,人们往往根据季节、日出、日落的变化和气候波动来决定自己的劳动日程,但这种局面在19世纪中后期得以改变,产业工人的工作日程都得围绕机器运转,这是因为工业革命的开展,机器大生产代替了手工操作,B项正确;全球气候变暖与这一变化没有直接联系,排除A项;材料与阶级矛盾无关,排除C项;自然环境的破坏与工人围绕机器运转没有直接联系,排除D项。

2.1500年,100个英国农户家庭只能供养106户家庭(包括他们自己),农业劳动人口占总人口的74%。到了1801年,这一数字上升到136户,而此时农业劳动人口只占总人口的36%。这一变化主要是由于()

- A.民主政体的有效保证
- B.生产关系的巨大变革
- C.殖民扩张政策的成熟
- D.工业革命的有力推动

D 解析:根据材料可知,1500—1801年农业劳动人口占总人口的比例降低,但100个英国农户家庭供养家庭数量上涨,这反映了农业生产力的进步,这是因为工业革命的有力推动,D项正确;民主政体不会直接推动生产力的发展,排除A项;生产关系的巨大变革是由于生产力的进步,也是工业革命有力推动的结果,排除B项;殖民扩张政策的成熟与材料内容无关,排除C项。

3.18世纪末19世纪初,在英国,根据财富数量排列的职业团体堆积重叠,且彼此之间的相互交叉十分严重,以致没有办法在整个社会金字塔上画出水平等级线来;而在法国,人们可以清楚地看出一种三级结构的存在:贵族、资产阶级和平民。据此可得出的结论是,当时()

- A.法国革命运动未能动摇贵族的地位
- B.英国工业革命推动了社会阶层的流动
- C.工业革命加速了法国等级制度的瓦解
- D.英国贫富分化现象得到有效的解决

B 解析:根据材料“在英国,根据财富数量排列的职业团体堆积重叠,且彼此之间的相互交叉十分严重,以致没有办法在整个社会金字塔上画出水平等级线来”可知,英国工业革命促进了社会阶层的流动,B项正确;法国大革命摧毁了法国的封建势力,排除A项;材料并未体现工业革命对法国等级制度

的影响,排除C项;英国工业革命加剧了社会的两极分化,而不是解决,排除D项。

4.1830年,英国正式启用第一条商业铁路。因为火车比马车快太多,所以各地时间的微小差异就造成了巨大困扰。1880年,英国首次立法规定全国的时刻表都须以格林尼治时间为准,这就要求人们依据人工的时钟而非依据当地日升日落的周期生活。这段材料重在说明()

- A.工业革命带来社会生活的变化
- B.技术发展对人类生活有所制约
- C.时间的精确成为日常生活的必要
- D.统一的时间有利于国家管理

A 解析:根据材料“商业铁路”“人工的时钟”等可知,由于铁路的启用,人们对时间的要求发生了变化,这体现了工业革命带来社会生活的变化,故A项正确;材料中体现的是技术发展对人类生活的改变,并非制约,故B项错误;材料无法证明时间的精确成为生活的必要,故C项错误;材料反映出统一的时间是为了顺应经济和社会发展的需要,没有体现出统一的时间有利于国家管理,故D项错误。

「活动后结论」

得出你的结论: _____

第二单元质量评估 生产工具与劳作方式

(时间:90分钟 分值:100分)

一、选择题(本题包括15小题,每小题3分,共45分)

1.《诗经·周颂·臣工》言:“命我众人:庠乃钱镈,奄观铎艾。”据学者考证,“钱”是有金属锋刃的耕具,形状类似于铲,是主要用于除草的工具。《说文解

字》曰:“铎,获禾短镰也。”这说明了当时()

- A.政府重视农业祭祀礼仪
- B.改进生产工具的必要性
- C.出现耕织结合生产形式

D.金属农具已应用于生产

D 解析:根据材料“‘钱’是有金属锋刃的耕具,形状类似于铲,是主要用于除草的工具”“‘铤,获禾短镰也”可知,金属农具已应用于农业生产,故选D项;材料未强调政府与农业祭祀礼仪的关系,排除A项;材料反映“钱”“铤”都是用于农业生产的金属农具,并未说明有改进的必要,排除B项;材料并无纺织的信息,排除C项。

2.明代松江府大地主潘允端的《玉华堂日记》中,反映土地租佃关系的记事有4条。在日记中,关于垦田、挑泥、种麦等往往有发给“工本”和“工银”的记载。他的田庄产品除自用外,也有一部分投放市场。该日记可以佐证 ()

- A.农村雇佣劳动基本普及
B.地主剥削程度有所减轻
C.地主收入依赖家庭副业
D.农业生产经营方式多样

D 解析:“土地租佃关系的记事有4条”“关于垦田、挑泥、种麦等往往有发给‘工本’和‘工银’的记载”“产品除自用外,也有一部分投放市场”表明这一时期农业生产领域有租佃、雇佣、面向市场等多种生产经营方式,故选D项;A、B、C三项材料均无法体现,排除。

3.在生活于两河流域的苏美尔人的文学作品中,常出现这样的词句:“猖獗的洪水呀,没人能和它对抗,它使苍天动摇,使大地颤抖……庄稼成熟了,猖獗的洪水来将它淹没。”为了保证农业生产的正常进行,当地统治者采取的措施是 ()

- A.修建水利工程,维护灌溉系统
B.颁布《汉谟拉比法典》,规定土地所有权
C.推行重农抑商政策
D.利用对太阳神的崇拜组织人力抗洪救灾

A 解析:由材料信息并结合所学可知,两河流域的苏美尔人深受洪水泛滥之害,为了保证农业生产的正常进行,当地统治者采取的措施是修建水利工程,维护灌溉系统,A项正确;中国古代统治者长期推行重农抑商政策,排除C项;B、D两项均与材料主旨无关,排除。

4.有文献记载:钢铁是杂炼生(生铁)镵(熟铁)作刀镰者。此文献提到的金属冶炼技术出现于 ()

- A.春秋战国时期 B.两汉时期
C.魏晋南北朝时期 D.隋唐时期

C 解析:材料所说冶炼方法是灌钢法,这一冶炼技术出现在魏晋南北朝时期,故选C项。

5.下表是汉代有关农业生产的文献记述。据此可认定的历史事实是 ()

记述	出处
是故身率妻子,戮力耕桑,灌园治产,以给公上	《汉书·杨恽传》
因释耕于垄上,而妻子耘于前。	《后汉书·庞公传》
立春东耕,为土象人,男女各二人。	《论衡》

- A.汉代铁犁牛耕技术已出现
B.男耕女织生产形式开始确立
C.汉代精耕细作农业的成熟
D.家庭农业生产模式已经形成

D 解析:根据材料“是故身率妻子,戮力耕桑,灌园治产”“因释耕于垄上,而妻子耘于前”“男女各二人”可得出汉代的家庭农业以夫妻为主,并且已经形成一种固定模式,D项正确;材料中反映的是家庭农业模式的形成,没有体现铁犁牛耕技术,排除A项;材料中的妻子也参加农业劳动,并不是反映男耕女织,排除B项;材料中只是反映家庭农业模式的形成,没有反映对土地如何耕作,排除C项。

6.“在各个方面,有血有肉的工匠都被赶出他的作坊,让位给一个速度更快的、没有生命的工匠。梭子从织工的手指间掉落,落入到穿梭更快的铁指当中。”材料反映出 ()

- A.纺织业生产方式发生改变
B.英国纺织业日益走向衰落
C.纺织工匠的技能日益落后
D.蒸汽机得到了广泛的应用

A 解析:材料“让位给一个速度更快的、没有生命的工匠。梭子从织工的手指间掉落,落入到穿梭更快的铁指当中”体现了纺织业的生产方式得到了改进,纺织业得到发展,故选A项。

7.下表所示为两位英国学者对近代工厂制的认识。两位学者都认为近代工厂制的兴起 ()

近代工厂制……包含了资本的使用、工人的集中劳动的分工以及监管的运用……工厂的经济优势主要体现为使用了能加快工作速度的机器,使用了能带动机器高速运转的动力	西顿《约克郡的羊毛和羊毛工业》
--	-----------------

续表

工厂制度倒是机械化的必然结果。一套由若干相依成分所组成的、带有一个总动力的设备,只能安设在一个地方,而它的运转是由一批受过训练的人员操控的。这个地方就是工厂,工厂是不允许有别的定义的	保尔·芒图 《十八世纪产业革命——英国近代大工业初期的概况》
---	-----------------------------------

- A.是技术革新的产物
B.加速了欧洲工业化的发展
C.依赖于廉价劳动力
D.导致了工人被机器异化的命运

A 解析:根据材料中“工厂的经济优势主要体现在使用了能加快工作速度的机器,使用了能带动机器高速运转的动力”“工厂制度倒是机械化的必然结果”可知,两位学者都认为运用机器设备进行生产是近代工厂制的核心,机器生产的前提是技术变革,故选 A 项;材料没有体现加速欧洲工业化的发展和工人被机器异化的内容,排除 B、D 两项;两位学者都认为近代工厂制兴起是技术革新的产物,并不是依赖于廉价劳动力,排除 C 项。

- 8.下表反映的是 1750—1830 年英国的手表年销量状况,这表明英国 ()

年份	销量
1750 年	12.7 万只
1800 年	26.4 万只
1830 年	66.5 万只

- A.生产领域出现革命性变化
B.工业革命增强了民众的时间观念
C.社会的贫富差距逐步缩小
D.自由主义理论推动了经济发展

B 解析:根据材料并结合所学可知,伴随着英国工业革命的进行,尤其是工厂制度及蒸汽机车等交通工具出现以后,人们必须守时,准时准点成为生活准则,人们的时间观念增强,因此出现英国手表年销量猛增的现象,说明工业革命增强了民众的时间观念,B 项正确;材料未涉及生产领域出现革命性变化,排除 A 项;工业革命扩大了社会的贫富差距,排除 C 项;材料与自由主义理论无关,排除 D 项。

- 9.20 世纪 20 年代初,上海大隆机器厂能够生产织布机;1928 年,该厂开始大量制造织布机;到 1937 年时,大隆机器厂生产的纺织机械已经令英商怡和纱

厂的大班“极为注意”——“诚不料中国之大隆厂,竟有如是之优良出品也”。材料表明 ()

- A.中国的重工业获得了飞速发展
B.中国机器制造业能与列强竞争
C.国民政府保护民族机器制造业
D.中国近代机器生产得到发展

D 解析:上海大隆机器厂由“能够生产织布机”到“大量制造织布机”,连英商怡和纱厂的大班都称其“优良出品”,结合所学可知,这体现了中国近代机器生产的发展,D 项正确;该厂发展不能说明中国重工业获得了“飞速”发展,且不符合史实,排除 A 项;在中国近代大背景下,“机器制造业能与列强竞争”与史实不符,排除 B 项;材料信息与政府政策无关,排除 C 项。

- 10.1870 年,英国推行国民教育改革,规定实行非宗教的强制初等教育,5—12 岁的儿童必须入学。1876 年规定父兄有送子弟入学的义务,1880 年规定初等教育为强迫教育,1891 年实行初等教育免费制度,1893 年规定 11 岁以前儿童必须受学校教育等。上述做法 ()

- A.是英国民众强烈要求政府重视发展教育的结果
B.是资本主义生产方式发展的必然结果
C.导致英国生产中出现大量雇佣童工现象
D.推动英国教育比世界其他国家发展快

B 解析:材料主旨为英国鼓励和重视儿童教育,发展教育能够为经济发展培养所需人才,B 项正确;政府重视发展教育是资本主义经济发展的结果,并非民众的意愿,排除 A 项;儿童入学接受教育会减少雇佣童工现象的发生,排除 C 项;材料中的做法会推动英国教育的发展,但不能说明比其他国家速度快,排除 D 项。

- 11.1890 年,英国上院特别委员会的报告中说,裁缝业分成了许多不同的部门,一个程序甚至说有 25 道分工。一个会烫外套的人不一定会烫背心,而烫背心的人烫起裤子来也同样不称职。这样,机器与劳动分工使工人成为那套工序的附属物,再也不可能像以往那样有希望成为独立的劳动者,或上升为手工作坊主。这反映出 ()

- A.工业革命强化了社会等级观念
B.工业革命改变了生产方式
C.工业革命影响了社会阶层关系
D.机器主宰人们的社会生产

C 解析:根据材料并结合所学知识可知,受工业革命的影响,劳动者分工更加细密,工人成为机器的附属物,逐渐失去独立劳动者的地位,从而使劳动者的依附性增强,影响社会阶层关系,C项正确;材料未涉及社会等级观念,排除A项;“工业革命改变了生产方式”与材料主旨不符,排除B项;“机器主宰人们的社会生产”的说法过于表面,且忽视了机器和人的关系,排除D项。

12.一位史学家说:“它是人类智力解放的里程碑,不仅是人的四肢的延伸,而且还是人脑的延伸,以至于部分地代替人的脑力劳动。”材料反映的是第三次科技革命中的 ()

- A.计算机技术 B.航天技术
C.生物工程技术 D.原子能技术

A 解析:根据材料“它是人类智力解放的里程碑,不仅是人的四肢的延伸,而且还是人脑的延伸,以至于部分地代替人的脑力劳动”可知,这位史学家说的是计算机技术的应用,计算机技术是第三次科技革命的核心,可以部分地代替人的脑力劳动,故选A项。

13.20世纪五六十年代,美国对国内的产业结构进行了重大调整,将钢铁、纺织等传统产业转移到日本和联邦德国,国内则主要致力于集成电路、精密机械、精细化工、家用电器和汽车等资本和技术密集型产业的发展。这一重大调整 ()

- A.加速了全球科技重心的转移
B.推动资本主义世界市场的最终形成
C.主要得益于国际形势的缓和
D.直接诱导了第三次科技革命的发生

A 解析:根据材料可知,20世纪五六十年代以来,美国抓住第三次科技革命成果,对国内产业结构进行升级调整及转移,发展高新技术,说明全球科技中心发生转移,A项正确;第二次工业革命推动资本主义世界市场的最终形成,排除B项;当时处于美苏两极对峙时期,国际形势日趋紧张,排除C项;材料体现的是美国抓住第三次科技革命的有利时机,并非诱导,排除D项。

14.由于现代化的通信设施和发达的大众传媒,为人们关心了解和监督政治提供了条件和可能。现代交通工具和通信工具的广泛使用,使公民的政治生活在一定程度上不受空间的制约,很大程度上减少了因地域因素影响政治生活的正常进行。这体现了 ()

- A.地域因素影响政治生活的正常进行
B.公民的政治生活不会受空间的制约
C.现代科学技术推动民主政治的发展
D.现代化的通信设施和大众传媒发达

C 解析:根据材料可知,现代科学技术有助于公民更好地参与政治生活,即推动了民主政治的发展,故选C项;题干体现的是现代科技使得地域因素对政治生活的正常进行,排除A项;由“很大程度上减少了因地域因素影响政治生活的正常进行”可知,地域因素对公民的政治生活还是有一定影响的,排除B项;题干体现的是现代化的通信设施和大众传媒发达对公民政治生活的帮助和促进作用,而不仅仅是现代化通信设施和大众传媒的发达,排除D项。

15.作为计算机技术的分支,人工智能正在融入金融、医疗、教育、农业、零售等各行各业,如7×24小时的智能客服服务、无人便利店、智能家居控制系统、已在几个城市合法上路的自动驾驶汽车等。人工智能的发展不仅是科技的变革,也是社会的变革。这表明人工智能 ()

- A.打破了经济发展的困局
B.加剧了生产和资本的集中
C.削弱了经济全球化趋势
D.深刻地改变了人们的生活

D 解析:根据材料可知,人工智能融入各行各业,广泛应用到各个领域,对人们的消费、家居、通行等生活带来了便利,故选D项;A、B两项材料均未涉及,排除;“削弱了”不符合史实,应为“促进了”,排除C项。

二、非选择题(本题包括4小题,第16题13分,第17题16分,第18题16分,第19题10分,共55分)

16.(13分)阅读下列材料,回答问题。

材料一 铁器逐步推广到各个生产领域,特别是农业生产领域大量铁制农具的使用引来了农业生产技术的一场革命。

——摘编自《国史概要》



二牛抬杠(北方地区)

图1



唐曲辕犁(又称江东犁),操作较为灵便,特别适于在土质黏重、田块较小的江南水田使用

图2

材料二 明清时期人口大幅度增加的过程中,牛耕大量退出,唐宋时期代表先进生产力的江东犁,到明清时已被铁搭(铁搭,农具名,有4至6个略向里弯的铁齿,用于刨土)取代。铁搭用人,而江东犁用牛。《天工开物》记载:“吴郡力田者,以锄代耜,不藉牛力。愚见贫农之家,会计牛值与水草之资,窃盗死病之变,不若人力亦便。”

——摘编自《太湖地区农业史》

(1)根据材料一中的图1和图2,将两者联系起来,说明中国古代农耕文明发展过程中的一些变化。(5分)

(2)根据材料二,说明明清时期耕作方面变化的表现及原因。结合所学知识分析该变化可能产生的直接影响。(8分)

答案:(1)农耕技术逐步普及,耕作技术不断进步,犁的改进更适合地区土质特点和耕作的需要。

(2)表现:牛耕大量退出,江东犁被铁搭取代,人力取代畜力。原因:明清时期人口大量增加;使用牛耕成本高。影响:耕作技术上出现倒退,农业难有突破;农业占用大量劳动力,不利于资本主义萌芽的成长。

解析:第(1)问,据材料一“铁器逐步推广到各个生产领域,特别是农业生产领域大量铁制农具的使用引来了农业生产技术的一场革命”可知,铁器逐步推广到各个生产领域;据东汉“二牛抬杠”(北方地区)到唐代曲辕犁(江南水田)可知,犁耕区域不断扩大,技术不断进步。第(2)问第一小问,据材料二“人口大幅度增加,牛耕大量退出”“铁搭用人,而江东犁用牛”“计牛值与水草之资,窃盗死病之变,不若人力亦便”等信息分析概括。第二小问,可从当时人口变化和入地关系以及畜力成本等角度分析。第三小问,要注意从经济形态和政治制度的深层角度分析。

17.(16分)阅读下列材料,回答问题。

材料一



图1 第一台计算机



图2 指甲大小的计算机零件



图3 美国“小男孩”原子弹



图4 “阿波罗”登月



图5 儿童在使用计算机

材料二 在互联网时代,许多工作的办公地点可以选择在家中,这大大提高了工作的效率。商店可以根据网上的求购信息,及时把货物送到消费者家中。教师可以通过各种教学录像、电视教育和人工智能课程来指导学生的学习。

(1)材料一反映了第三次科技革命哪些方面的成果?从图1到图2反映了第三次科技革命的什么特点?(4分)

(2)结合原子弹的研制和使用,说明现代战争与科技发展之间的关系。(6分)

(3)根据材料二,归纳互联网给人类社会带来的影响。(3分)

(4)综合上述材料并结合你的生活实践,谈谈第三次科技革命给人们带来哪些深远影响。(3分)

答案:(1)成果:原子能技术、航天技术、电子计算机技术。特点:新技术更新换代的速度快。

(2)关系:战争推动科技发展,而新科技成果在战争中的使用将对战争胜负起着越来越重要的作用;新式武器在战争中的使用使战争破坏性越来越大,给人类带来的灾难越来越严重。

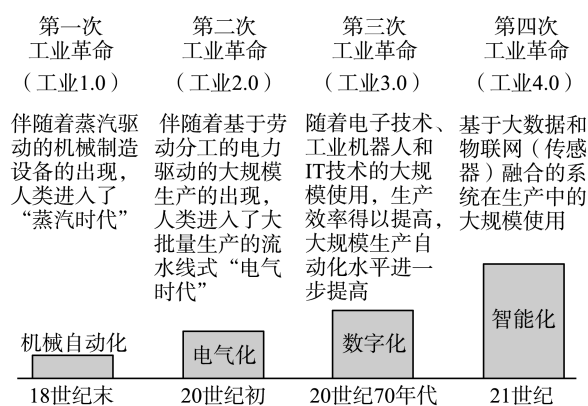
(3)影响:引发了工作方式的革命;给人类的生活带来了革命性变化;为教育提供了更大的发展空间。

(4)影响:第三次科技革命使人类的衣、食、住、行、用发生重大变化。

解析:第(1)问,注意结合材料一提供的图片信息从科技领域分析,特点是更新速度快。第(2)问,应辩证看待科技与战争的关系,即从利弊两方面来回答。第(3)问,紧扣材料分析即可。第(4)问,可从衣、食、住、行等方面回答。

18.(16分)阅读材料,回答问题。

材料 从工业1.0到工业4.0的变化



(1)根据材料和所学知识,指出前两次工业革命各自主要起始国、生产组织形式的变化及对经济全球化的影响。(6分)

(2)根据材料和所学知识,指出工业 3.0 中美国等西方国家经济运行机制发生的变化。(2分)

(3)四次工业革命也深刻影响了中国。请各举一例说明四次工业革命给中国带来的积极影响。(8分)

答案:(1)第一次工业革命:起始国——英国;生产组织形式——出现了现代工厂制;对经济全球化影响——通过商品输出和掠夺原料,促使资本主义世界市场初步形成。第二次工业革命:起始国——主要是美国和德国;生产组织形式——出现了垄断组织;对经济全球化影响——通过资本输出和瓜分世界,促使资本主义世界市场最终形成。

(2)变化:美国等西方国家采取了从加强到减少国家对经济干预的体制的变迁。

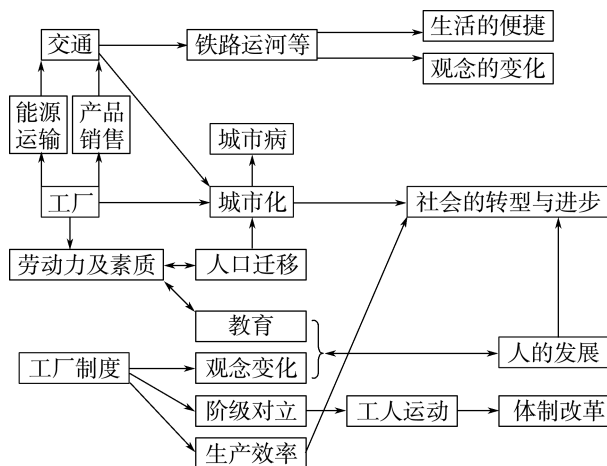
(3)影响:第一次工业革命期间,清政府掀起洋务运动,开启了中国的近代化历程;第二次工业革命期间,中国的民族资产阶级登上历史舞台,掀起了戊戌变法等政治运动;第三次工业革命期间,中国积极进行航空航天技术的研究,成功发射了中国第一颗人造地球卫星;第四次科技革命到来之际,中国提出了“中国制造 2025”,大力发展人工智能技术。

解析:第(1)问,实际上是考查前两次工业革命的区别,根据所学知识回答即可。第(2)问,根据所学知识,可从 20 世纪 70 年代后美国等西方国家逐渐从加强到减少国家对经济干预的角度来回答。第(3)问,根据所学联系史实和时政进行

回答。

19.(10分)工厂和工厂制度

材料



根据图示和所学知识,围绕“工厂和工厂制度”对人类社会某一个方面的影响进行论述。(要求:观点明确,史论结合,逻辑清晰)

答案:示例

论点:工业革命推动城市化进程。

论述:工业革命后,由于工厂制度需要大量劳动力,农村人口向城市流动加快;城市人口增多,城市规模扩大,城市交通、居住环境改善,大量新兴城市出现;以农业与乡村为主体的经济体制变成以工业与城市为主体的经济体制,城市化进程加快;但同时也产生了一系列城市问题,如人口拥挤,城市环境污染迅速增加等。

解析:首先,根据材料的结构图可以看出,位于中心的是城市化,而从箭头指向来看,是工业革命推动了城市化,由此得出观点:工业革命推动城市化进程。然后,进行论证,结合结构图中的要素分析工业革命如何推动并加快城市化的。最后,结合所学知识,分析城市化带来的问题。

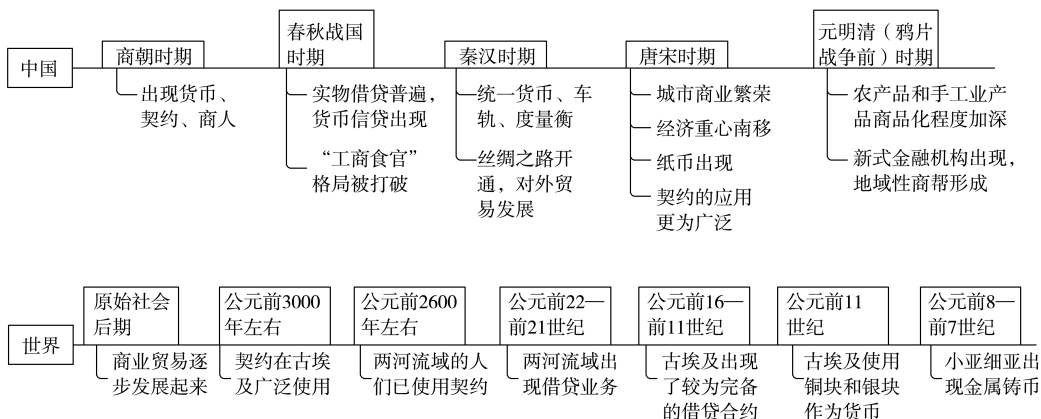
第三单元

商业贸易与日常生活

第7课 古代的商业贸易

- 任务目标**
- 1.了解商业贸易的起源和古代的商业活动与贸易通道。
 - 2.知道货币、信贷、商业契约等在日常生活中的角色。

时空定位



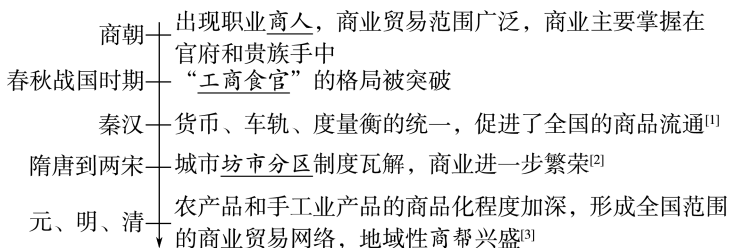
问题式预习

一、商业贸易的起源与发展

1.中国古代商业贸易起源于何时？商业贸易出现的条件是什么？

- (1)时间：原始社会后期。
- (2)条件：随着社会分工、产品剩余及私有制的产生，出现了交换。

2.古代中国的国内贸易



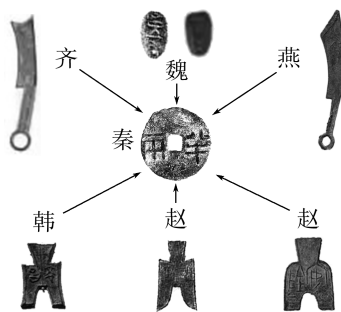
3.古代世界的商业活动

古埃及：④；古希腊：②⑧；古罗马：①⑤；拜占庭帝国：③；阿拉伯：⑥⑦

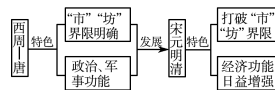
（填序号）

- ①海外贸易航线四通八达
- ②形成若干个商业贸易中心
- ③一度垄断商路
- ④国家控制对外贸易
- ⑤商贸繁荣
- ⑥在亚、非、欧之间从事中介贸易
- ⑦活动范围遍及世界各主要文明区域
- ⑧海外贸易活跃

[1]秦统一货币



[2]城市职能与“市”“坊”的演变



[3]晋商代表——日昇昌



日昇昌票号创建于道光四年（公元1824年），总号坐落于山西平遥古城西大街的繁华地段，分号达30多处，遍布全国大中城市、商埠重镇，远及欧美、东南亚等国，以“汇通天下”著称于世。

4. 古代中国的对外贸易

丝绸之路 ^[4]	是古代贯通亚、欧、北非的重要贸易通道。商人们通过它将中国的丝绸等运往中亚、西亚、欧洲和北非,同时将欧洲和中亚等地的奇珍异宝引进中国
海上贸易	唐宋以后,海上贸易兴盛,中国商船远达波斯湾、阿拉伯海和红海沿岸地区。出口的商品有丝绸、瓷器、纸张、茶叶等。官府在东南沿海一带设立市舶司,掌管对外贸易
朝贡贸易 ^[5]	明清时期,对朝贡国家、路线、港口、船只数目、贡品种类等均有严格规定,清政府在广州设置公行,统揽对外贸易事务

5. 商业贸易的影响:促进了不同地区、不同国家之间的交流,大大丰富了人们的物质生活和精神生活。

二、货币、信贷、商业契约

1. 货币^[6]

(1) 产生与发展

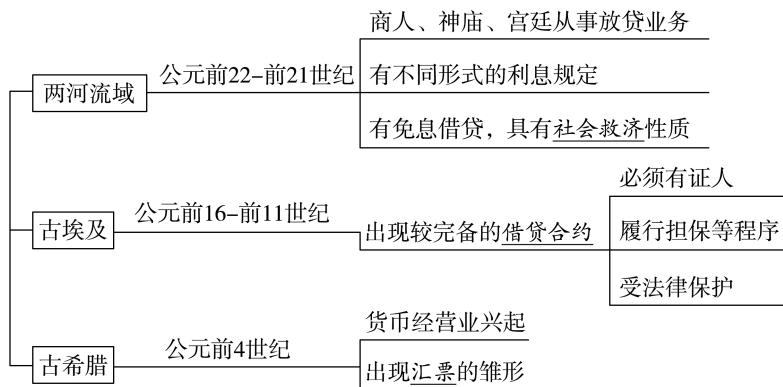
- ① 中国早在商朝就用贝等天然物作为货币。
- ② 公元前 11 世纪,古埃及开始用铜块和银块作为货币。
- ③ 公元前 8—前 7 世纪,小亚细亚出现金属铸币。

(2) 货币的作用有哪些?

便利了商品交换和流通,并成为财富的象征;促使商业的功能由最初的互补余缺向逐利增财转化。

2. 信贷

(1) 古代世界



(2) 古代中国(连线)

- | | | |
|--------|----|-------------------------------------|
| ① 商周 | —— | a. 已经有了借贷纠纷的记载 |
| ② 春秋时期 | —— | b. 由存贷款发展到汇兑,出现了“飞钱” ^[7] |
| ③ 唐代 | —— | c. 实物借贷形式已比较普遍,出现了货币信贷 |
| ④ 宋代 | —— | d. 钱铺等新式金融机构盛行 |
| ⑤ 明代 | —— | e. 资本性借贷发展,出现本票性质的庄票 |
| ⑥ 清代 | —— | f. 交子、会子等纸币开始使用 |

3. 商业契约

(1) 古代世界

- ① 古埃及:公元前 3000 年左右,契约广泛使用,并受到法律保护。
- ② 两河流域:公元前 2600 年左右,人们已经使用契约。古巴比伦时期订立契约是普遍现象。

(2) 古代中国^[8]

- ① 商周时期:出现了契约。
- ② 汉朝以后:凡涉及买卖、租佃、借贷等财产关系和收养、雇佣、立嗣等人身关系的事宜,当事人之间几乎都要订立契约。
- ③ 唐宋以后:契约的应用更加广泛。

[4] 古代两条丝绸之路



★ 长安 → 敦煌 → 今新疆地区 → 今中亚地区 → 大秦(古罗马)

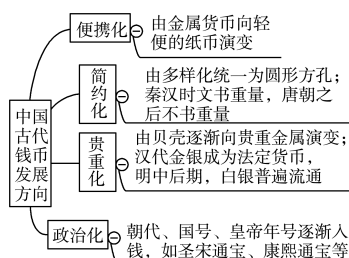


★ 泉州、广州 → 今斯里兰卡 → 波斯湾、红海 → 今非洲坦桑尼亚

[5] 朝贡贸易

目的	宣扬国威,提高中国在国际的地位和威望
特点	“厚往薄来”“倍蓰其价”
实质	中国自然经济的反映

[6] 中国古代货币及演变趋势

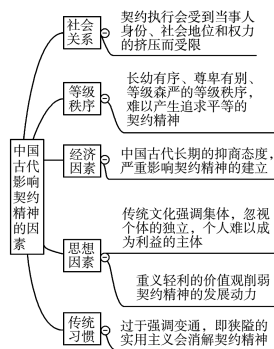


[7] “飞钱”



“飞钱”出现于唐宪宗年间,由于商人外出经商携带大量铜钱有诸多不便,便先到官方开具一张凭证,上面记载着地方和钱币的数目,之后持凭证去异地提款购货,此凭证即“飞钱”。“飞钱”实质上只是一种汇兑业务,它本身不介入流通,不行使货币的职能,不是真正意义上的纸币。

[8] 中国古代影响契约精神的因素



任务型课堂

任务一 中国古代的商业与贸易

[探究活动]

材料一 汉代开辟了陆上丝绸之路和海上丝绸之路。《汉书·地理志》记载,汉代商人的海上贸易已包括了全部南海诸国和整个印度洋区域,并延伸到西亚乃至欧洲。东晋南朝时期,北方战乱,南方政权对海外诸国的贸易呈逐渐上升趋势,“航海岁至,逾于前代矣”。隋唐时期全国统一,陆路丝绸商路除沿袭汉魏时的南路、北路外又增加新路,并出现了登州、扬州、明州、广州、泉州等著名港口,唐朝在广州设市舶使管理海外贸易,广州“江中有婆罗门、波斯、昆仑(泛指东南亚)等舶,不计其数,并载香药、珍宝,积载如山”。两宋时期,北方少数民族政权强大,宋政府对海上贸易采取支持、鼓励的态度,广州、明州、泉州是重要海港,政府设“市舶司”。“市舶务”专管进出港手续,严禁走私贸易。与宋朝有海上贸易往来关系的国家多达60个以上。海外贸易有效弥补了财政的不足,刺激了国内商业和商品生产的发展。

——摘编自齐涛《中国古代经济史》

(1)根据材料一,归纳从汉朝到宋代中国对外贸易的特点。

提示:特点:交通发达(或陆海丝绸之路发达);范围广泛(或远及西亚、南亚、欧洲、非洲);政策开放,政府设机构管理(或设“市舶司”管理);对外贸易受社会环境的影响较大。

材料二 明清两朝不仅与亚洲各国,而且与欧美一些国家也发生了贸易联系,如1758—1767年的贸易总值为288 045 650(两),而1828—1837年增至784 864 050(两)。明清时期的对外贸易政策总的趋势是内向保守的,以禁为主,但对外贸易从未间断,有的时期还出现了重大发展。据统计,1764年,欧美诸国对华海上贸易总值为白银5 545 847两,1805年达23 517 102两,近40年间增长了3.2倍,中国对外贸易常处于出超地位。

(2)根据材料二并结合所学知识,概括明清时期对外贸易的特征。

提示:特征:数量大、范围广;贸易政策呈现保守趋势;中外贸易中,中国居主导地位,以出超为主;以朝贡贸易为主。

[评价活动]

(1)汉代在长安和洛阳都设有专门的集贸市场,并在集贸市场里建有一个两层楼高的官署,在这里办公的官员主要负责维持市场秩序、征收商业税、按月制定标准的商品价格和批准买卖契约。据此可知,汉代

()

- A.重商主义盛行 B.义利观已根本改变
C.农本思想弱化 D.商业活动比较活跃

D 解析:汉代延续秦朝做法,厉行重农抑商政策,传统的义利观未发生根本改变,A、B、C三项均与史实不符,排除;汉代政府设置专门官员管理城市集贸市场,职责明确,由此可知,当时商业活动比较活跃,D项正确。

(2)郑和下西洋后,亚非许多国家先后派遣使节来明朝进行朝贡贸易,在朝贡贸易的带动下,民间商贸活动日益繁荣起来,给政府带来不少收入。对这一点,两广巡抚林富说:“粤中公私诸费,多资商税,番舶不至,则公私皆窘。”据此可知,当时

- ()
A.政府鼓励民间对外贸易
B.商税是明政府主要财源
C.朝贡贸易影响政府财政
D.明朝官员腐败现象严重

C 解析:根据材料可知,朝贡贸易带动了民间商贸活动,给政府带来了不少收入,广东巡抚的话也证明了这一点,即朝贡贸易影响政府财政,C项正确;明朝实行海禁政策,严格限制对外贸易,排除A项;农业税收才是政府主要财源,排除B项;材料没有涉及明朝官员腐败的相关信息,排除D项。

任务总结

古代中国商业贸易发展的三次高潮

战国时期	商人势力成长,很多大、中都会成为商业贸易的中心
唐宋时期	从唐朝后期开始,粮食、茶叶、瓷器等逐渐成为商品贸易的大宗;北宋以后,南方经济不断发展,日用品贸易兴起,商品结构发生变化
明清时期	明中后期以后,经济作物的广泛种植、农副产品商品化程度的加深、专业化程度的提高等都成为商业发展的新因素

任务二 古代货币和契约的发展

[探究活动]

材料一 延寿五年戊子岁三月十八日,赵善众从孙廻伯、范庆悦二人边买五城辛场中舍地……钱即日毕,舍地即日付,舍方二人方。东诣张容奴分垣,南诣善众场地分垣,西共赵海相坞舍分垣,北共张延守坞舍分垣。肆在之内,长不还,短不与,车行人盗[道]依旧通。若后右[有]人河[呵]盗倍(认名)者,仰本主了。三主和同立券。券城[成]之后,各不得反悔。悔

者壹罚二入不悔者。民右[有]私要,要行二主,各自署名为信。

——摘编自《高昌延寿五年(628年)赵善众买舍地契》

(1)材料一反映出什么信息?

提示:允许土地自由买卖,强调了契约的重要性,说明该地区可能产生过大量类似的经济纠纷。

材料二 “白银时代”为何会最终奠定于明代前中期,内在的驱动机制到底为何?总结来说,学界对此问题的解答不外乎以下几点:经济发达的江南、东南等地区产出的手工制品大量出口导致中国的外贸出现大量顺差;明代历时漫长的赋役财政改革的结果是贡赋体制日益嵌入白银的运作,规模渐趋庞大,形成了贡赋纳银体制;明初政府发行的宝钞是不兑换纸币,发行制度存在严重缺陷,导致其贬值急速,迅速走向崩解。

——摘编自邱永志《元明变迁视角下明代货币白银化的体制促因》

(2)有学者认为明朝时期出现了“货币白银化”的趋势,其他货币趋向消亡。请简要论证此观点是否正确。

提示:这种观点是正确的。明朝时期,由于生产力的发展、商品经济的发展及市场格局的演变,海外白银大量内流,加之原有货币制度的缺陷、白银作为货币本身的优势和国家赋税改革的推动,导致白银在民间和官方大量流通,其他货币趋向消亡,所以出现了白银货币化的趋势。

[评价活动]

(1)北宋中期,“蜀民以铁钱重,私为券,谓之交子,以便贸易,富民十六户主之。其后,富者稍衰,不能偿所负,争讼数起”。这表明交子 ()

- A.具有民间交易凭证功能
- B.产生于民间的商业纠纷
- C.提高了富商的社会地位
- D.促进了经济重心的南移

A 解析:根据材料“私为券,谓之交子,以便贸易”可知,交子是民间发行的具有交易功能的纸币,A项正确。纸币的产生是商品经济发展的结果,并非在纠纷中产生,排除B项;C、D两项材料中未体现,排除。

(2)为保障财物的流转,罗马法中先后出现了口头契约与诺成契约。口头契约指当事人用特定的语言经问答而订立的契约,如在仪式或言辞上稍有差错,契约便不成立。诺成契约指当事人表达出双方同意的信息,无须经过特定的仪式而订立的契约。这一转变 ()

- A.有效避免了交易的欺诈
- B.适应了商品经济的发展
- C.推动罗马法学高度成熟
- D.沉重打击了贵族特权

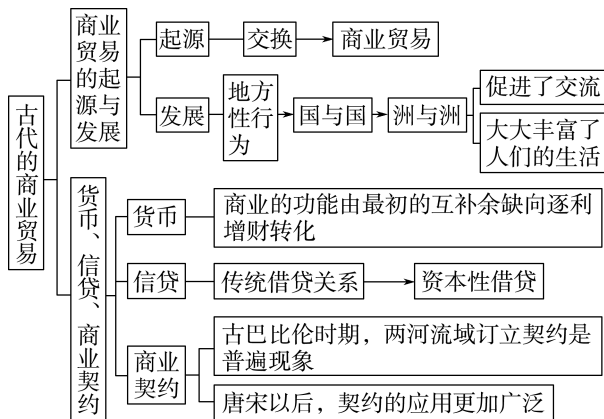
B 解析:由材料可知,罗马法对于订立契约的形式进行了较大的简化,便利了商业往来,从而适应了商品经济发展,故选B项。这一转变无法避免交易欺诈,排除A项;C项说法夸张,不符合史实,排除;这一变化与贵族特权无必然联系,排除D项。

任务总结

中国古代货币制度的特点

- 信用性纸币制度的早产、贵金属流通的不发达,是中国古代货币制度演化区别于古代与近代西方的两个重要特征。
- 多元货币体系存在。货币的各种职能在中国古代并不集于一体。铜钱、白银和纸币在中国古代许多朝代同时存在,但有时某些货币形态并不作为流通货币,而是储藏手段。
- 货币形态最终归向贵金属。两宋时期纸币的形成本质上就是商品性和信用性关系调整的产物。但是其后政府信用性的膨胀和商品性、信用性关系的失衡以及外部经济环境的变化,导致中国古代币制最终还是向贵金属流通归复。

提质归纳



- 古埃及的商业主要由国家控制;古希腊形成了若干个商业贸易中心;古罗马的对外贸易十分发达。
- 拜占庭帝国一度垄断了中国丝绸等东方奢侈品在欧洲市场的贸易;阿拉伯商人的活动范围遍及世界各主要文明区域。
- 中国的丝绸之路是古代贯通亚、欧、北非的重要贸易通道。
- 货币、信贷、契约等事物的出现和发展既是商业发展的结果,也是推动商业进一步发展的因素。

课后素养评价(七) 古代的商业贸易

基础性·能力运用

知识点 1 商业贸易的起源与发展

1. 中唐诗人白居易有诗云:“皋桥夜沽酒,灯火是谁家。”晚唐诗人杜荀鹤也有“夜市桥边火,春风寺外船”的诗句。据此推测,在唐朝 ()

- A. 诗人都很关注夜市 B. 夜市出现娱乐场所
C. 商品交易方式多元 D. 坊市制度已有突破

D 解析:根据材料可知,唐朝中后期已经出现夜市,即在时间上突破了坊市制度,故选 D 项;“诗人都很关注夜市”说法过于绝对,排除 A 项;材料与娱乐场所无关,排除 B 项;“商品交易方式多元”与材料信息无关,排除 C 项。

2. 《汉谟拉比法典》是目前所知世界上第一部比较完整的成文法典,这部法典中与商务有关的条文几乎占总条数的一半,如关于商业损失补偿风险分担机制的规定等。这反映了古巴比伦 ()

- A. 商业历史悠久
B. 对外贸易发达
C. 政府垄断了商业活动
D. 商业非常繁荣

D 解析:法律是政治、经济的反映,古巴比伦商品经济繁荣,是国家法律重视商业的主要原因, D 项正确。

3. 一部史学著作把作为著述主题的一条通道比喻为连接“整个世界的中枢神经系统”,该书大致按时序排列的目录(部分)如下。从以下目录分析,这条通道是 ()

第二章	第四章	第六章
信仰之路	变革之路	皮毛之路
第九章	第十一章	第十九章
铁蹄之路	黄金之路	小麦之路

- A. 蒙古西征之路 B. 丝绸之路
C. 华人下南洋之路 D. 通往东方的新航路

B 解析:根据材料“信仰”“变革”“皮毛”“铁蹄”“黄金”“小麦”可知,该通道最终实现了由最初的政治目的转变成了经济目的,具有明显的经济功能,结合所学知识分析,丝绸之路最初是为了联合大月氏夹击匈奴,具有政治目的,后期成为沟通东西的要道,具备极强的经济功能,故选 B 项;蒙古西征是为了扩张领土,不具备经济功能,排除 A 项;华人下南洋是为了发展经济,不涉及信仰和政治,排除 C 项;新航路开辟是西方资本主义国家进行资本原始积累的手段,主要出于经济目的,与“变革”无关,排除 D 项。

知识点 2 货币、信贷、商业契约

4. 《晋书》中记载:“钱之为体,有乾坤之象,内则其方,外则其圆。其积如山,其流如川。动静有时,行藏有节。市井便易,不患耗折。”下图中与之相符的是 ()



A



B



C



D

D 解析:根据材料“内则其方,外则其圆”可知描述的是圆形方孔钱, D 项符合题意。

5. “货币与信贷之间有明确的界线。信贷是交换两种在时间上有先后的财物或劳务:我为你效劳,你以后偿还。”根据该定义,下列属于“信贷”工具的是 ()

- A. 唐朝石染典买马契
B. 唐朝郾县贺思敬庸调布
C. 清朝天祥钱庄庄票
D. 国民政府金圆券、银圆券

C 解析:由材料可知,信贷强调的是财物或者劳务交换具有时间上的先后顺序,据此可知,清朝天祥钱庄庄票相当于现金的票据,类似于贷款,先从钱庄获取庄票,用此消费,然后偿还本息,存在时间上的先后,故选 C 项;唐朝石染典买马契属于买马时的契约,不属于信贷范畴,排除 A 项;唐朝郾县贺思敬庸调布属于缴纳的庸调,是一种服役的方式,不属于信贷范畴,排除 B 项;国民政府金圆券、银圆券属于政府发行的货币,不具有信贷的职能,排除 D 项。

6. 公元前 3000 年左右,古埃及人凡是转让重要财产,都要在地方或中央官署达成书面契约,由书记官登记、备案,以证明财产的所有权。这表明,古埃及 ()

- A. 商业经营领域扩大 B. 商业管理制度完备
C. 生活方式发生改变 D. 商业契约已经出现

D 解析:材料反映了古埃及人凡是转让重要财产都要订立契约以证明财产所有权,这说明早在古埃及时期商业契约就已经出现,故选 D 项;材料反映的是商业契约的出现,不能说明商业经营领域的扩大和商业管理制度的完备,排除 A、B 两项;材料并未体现古埃及生活方式发生改变,排除 C 项。

综合性·创新提升

7. 下图是在中国北魏墓葬中出土的拜占庭帝国时期的金币,从1897年中国境内出土第一枚拜占庭帝国的金币算起,迄今为止,各地累计出土已有50多枚。据此可知 ()



拜占庭帝国时期的金币

- A. 南北朝时期中国与拜占庭帝国有商贸往来
B. 拜占庭帝国的金币在中国市场上可以自由流通
C. 在丝绸之路的贸易中金币的交换最为兴盛
D. 东西方的商贸往来改变了中国的货币形态

A 解析:北魏时期的墓葬中出土了拜占庭帝国时期的金币,这说明当时中国与拜占庭帝国有商贸往来,故选A项;仅凭材料信息,无法判断拜占庭金币在中国市场上可以自由流通,排除B项;材料没有比较信息,无法得出“最为兴盛”的结论,排除C项;“改变”说法错误,排除D项。

8. 根据国外陶瓷考古发现,宋代瓷器在亚洲的日本、朝鲜、印度等地,非洲的埃及、苏丹、埃塞俄比亚甚至远到津巴布韦都有不等数量出土,其中尤以日本、菲律宾发现最多。这主要说明 ()

- A. 宋代制瓷技术高超
B. 宋代对外交往频繁
C. 宋与埃及直接往来
D. 海上丝路范围广大

D 解析:根据材料可知,宋代瓷器在亚非均有出土,表明宋代瓷器的运销范围广大,即宋代海上丝绸之路的范围广大,故选D项;材料强调的是瓷器的销售范围,与瓷器的质量没有直接联系,排除A项;对外交往频繁只是表象,排除B项;材料并未体现宋与埃及直接往来,排除C项。

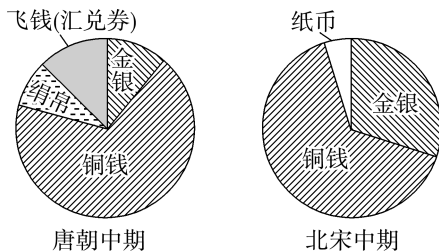
9. 唐宋有关借贷契约法律对索债方式没有过多限制,甚至默许暴力抢夺方式。而清代法律规范了追债行为,并对追债过程中采取抢夺手段予以严厉打击,更加注重保护借贷方人身权利和财产权利。这一变化 ()

- A. 维护了地主阶级利益
B. 说明清朝抑商政策松动
C. 有利于稳定社会秩序
D. 反映清朝法制已经完善

C 解析:材料体现唐宋到清朝借贷契约法律的进

步,规范了借贷行为,有利于稳定社会秩序,故C项正确;材料中放贷人并不等于地主阶级,不能体现唐宋更加注重维护地主阶级的利益,排除A项;材料无法体现出抑商政策的松动,排除B项;D项说法过于绝对,排除。

10. 下图为唐朝和北宋洛阳地区货币使用所占比重变化示意图。对两者变化解读最准确的是 ()



- A. 表明金银开采数量增加
B. 表明政府铸币量迅速提高
C. 说明纸币使用范围有限
D. 受商业贸易发展状况影响

D 解析:唐朝使用的绢帛到宋代已经消失,这是受商业贸易发展状况的影响,实物交换退出历史舞台,故选D项。由示意图可以看出,北宋洛阳地区使用金银比重增加,这并不能说明当时金银开采数量增加,故A项错误;北宋中期的铜钱使用所占比重与唐朝中期相比并没有明显变化,无法说明政府铸币量迅速提高,故B项错误;材料无法体现当时纸币使用范围有限,故C项错误。

11. 罗马帝国时期,金融交易场所设立在由国家出资建造的广场上,成群的人拥挤在这里,买进和卖出包税公司的股票和债券,进行各种各样的现金和信用交易。据此推知,当时的罗马帝国 ()

- A. 金融业比较发达
B. 是世界贸易中心
C. 商业契约应用普遍
D. 国家垄断金融行业

A 解析:罗马帝国时期已经建立起专门的金融交易场所,且交易品种、人员众多,由此可知,当时罗马帝国的金融业比较发达,A项正确;材料不能说明罗马帝国是“世界贸易中心”,B项错误;“商业契约应用普遍”在材料中没有体现,C项错误;材料不能说明罗马帝国的金融行业被国家垄断,D项错误。

12. 阅读下列材料,回答问题。

材料一 长安城实行严格的“坊”“市”隔离制度。政府规定:凡市,当以午时击鼓二百声而众以会,日入前七刻击钲三百声而众以散。”市内除了唐人

外,还有许多高鼻深目的波斯人、大食人,以及日本人、高丽人。回鹘衣装、胡旋舞、高丽乐等深受唐人喜爱,广为流行。

——摘编自《唐前期长安城的商业》

材料二 其余坊巷市井,买卖关扑,酒楼歌馆,直至四鼓后方静,而五鼓朝马将动,其有趁卖早市者,复起开张。无论四时皆然。

——耐得翁《都城纪胜》

梦里曾作南柯守,少时元是东陵侯。今朝半醉归草市,指点青帘上酒楼。

——陆游《杂赋》

材料三 闽省土窄人稠,五谷稀少,故边海之民皆以船为家,以海为田,以贩番为命……一旦禁之,则利源阻塞,生计萧条;情困计穷,势必啸聚。

——摘编自《明神宗实录》

(1)根据材料一,归纳唐朝前期长安的城市特点。
(2)根据材料二,指出宋代“市”的发展表现。结合所学知识,说明这种发展反映了宋代政府对商业的政策有何调整。

(3)指出材料三中造成“边海之民”生活变化的政策。根据材料三并结合所学知识,分析该政策在当时产生的影响。

答案:(1)特点:坊市分离;市的交易时间受到限制;国际大都会;文化多元。

(2)表现:“市”突破了时间和空间的限制;草市具备比较完备的饮食服务设施。调整:政府对商业活动的限制有所放松。

(3)政策:“海禁”政策。影响:阻碍对外贸易,延缓了资本主义萌芽的发展;导致沿海居民生活困顿,激化社会矛盾。

解析:第(1)问,根据材料“严格的‘坊’‘市’隔离制度”“市当以午时击鼓二百下,而众以会”“回鹘衣装、胡旋舞、高丽乐等深受唐人喜爱”归纳。第(2)问第一小问,根据“其余坊巷市井,买卖关扑”“今朝半醉归草市”概括。第二小问,重农抑商政策是中国古代统治者采用的基本经济政策,宋代商业的发展说明政府对商业活动的限制有所放松。第(3)问第一小问,根据材料三“一旦禁之”可知是“海禁”政策。第二小问,结合所学知识回答“海禁”政策带来的影响。

13. 阅读材料,回答问题。

材料 十二都十保胡荫,承祖父户下有田壹号,坐落本都玖保(鱼鳞图册)玉宇柒佰捌拾壹号田,取捌分四厘捌毫。其田东至路,西至李资滚等田,南

胡祖寿田,北汪彦伦田。土名亭子头。

今来为无谷支用,同叔母朱氏商议,自情愿将前项壹号内田,尽行立契出卖与王猷干名下,面议时值价谷壹拾秤,其价当成契日一并交收足讫。

其田今从出卖之后,一听买人自行闻官受税,收苗管业。如有四至不明及重叠交易,内外人占栏,并是出产人自行抵挡,不及买人之事。

所有上手来脚,与别产相连,缴付未便,日后要用,本家索出参照不词。今恐人心无凭,立此卖契文书为用。

建文二年(注:1400年)九月日

出产人胡荫(押)

契叔母朱氏(押)

见人王猷干(押)

叔胡隆舟(押)

依口代书人吴志高(押)

今领契内价谷并收足讫。同年月日再批。
(押)

——选自卜正民《纵乐的困惑:明代的商业与文化》

(1)根据材料并结合所学知识,分析材料中契约文书的价值。

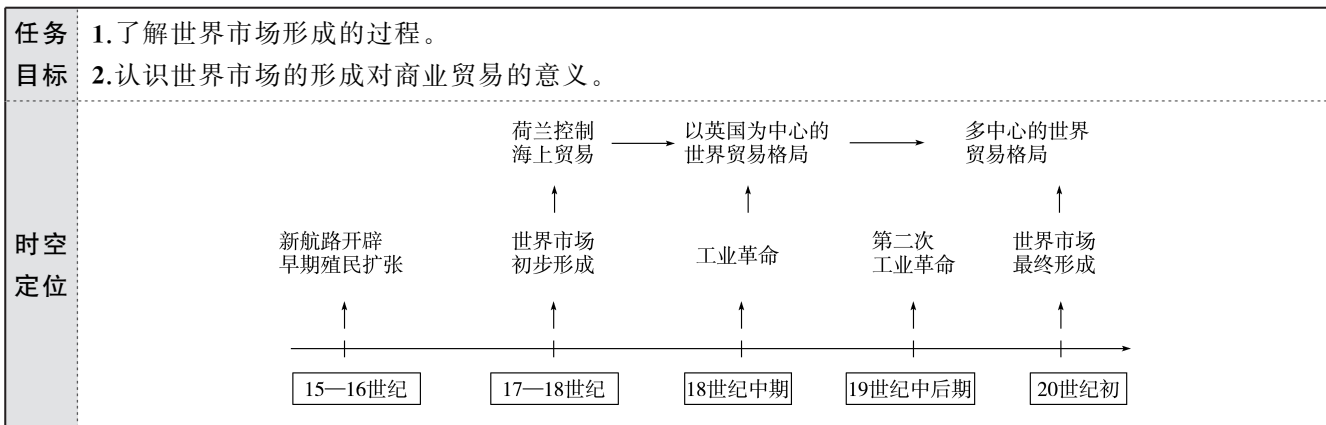
(2)围绕材料提供的信息,对明朝前期的契约文书进行合理解读。

答案:(1)契约文书是当时土地所有者拥有土地的凭证。拥有契约文书,土地所有者可以最大限度地保证对生产资料的支配权。契约文书属于文献史料和一手史料,具有较高的史料价值。可以作为史料用于研究明朝初期土地的买卖情况,土地占有等情况。同时在使用中需要结合其他史料和多种史料相互佐证和补充。

(2)明朝前期土地买卖中,确权的主要方式是契约文书。徽州地区商品经济发达,土地买卖更加频繁,因而保留下来的明朝地契最多。有为他人代写契约文书的人,满足了人们录写文字的需要。土地可以继承,土地买卖需征得亲属的同意。契约文书最后的签字画押,如果是叔母签字,说明明朝前期部分普通妇女也会写字。上述史料有较高价值,有利于研究明朝前期的土地制度和社会状况。

解析:第(1)问从材料中契约文书的作用、内容及使用情况分析。第(2)问结合材料相关信息和所学知识,可从契约文书的作用、对当时社会现象的反映及史料价值等角度进行解读分析。

第8课 世界市场与商业贸易



问题式预习

一、世界市场的形成^[1,2]

进程	时间	事件	影响	方式
初步形成	15—16 世纪	新航路开辟	欧洲同世界各地建立起商业联系	荷、法、英等欧洲国家争夺殖民地
	17—18 世纪	早期殖民扩张		
基本形成	18 世纪中期—19 世纪中期	工业革命	资产阶级在亚洲、非洲、拉丁美洲等地建立殖民地和半殖民地,把越来越多的地区纳入资本主义世界市场之中	倾销商品,掠夺原料
最终形成	19 世纪中后期—20 世纪初	第二次工业革命	世界基本被瓜分完毕,亚非拉绝大多数国家和地区被迫加入资本主义世界经济体系	资本输出,瓜分世界

二、近代商业贸易的变化

1. 背景:新航路的开辟及欧洲人的殖民扩张,促进了商业贸易的发展。

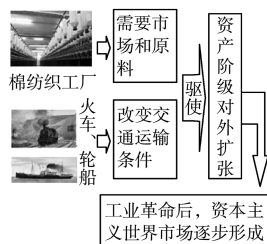
2. 表现^[3]

(1)新航路开辟后,欧洲和亚洲的贸易中心发生了哪些变化?

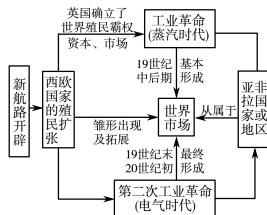
①欧洲:贸易中心从地中海转移到大西洋沿岸。

②亚洲:16—17 世纪,欧洲殖民者来到南亚、东南亚、东亚,建立殖民地或定居点,展开激烈的商业竞争,形成新的亚洲贸易中心。果阿、澳门、长崎、马尼拉等地成为国际贸易的枢纽。

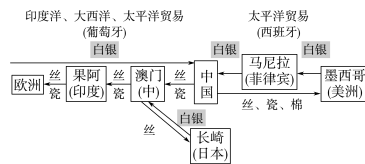
[1] 世界市场形成的促进因素



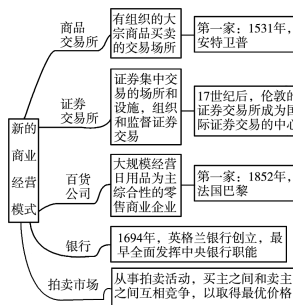
[2] 世界市场的形成



[3] 丝—银贸易



[4] 商业经营模式变化



(2)商业经营方式的变化

①近代世界商业经营方式的变化^[4]

经营方式	主要史实
商品交易所	1531年,最早的一家商品交易所在 <u>安特卫普</u> 开业。此后,阿姆斯特丹出现了粮食交易所,伦敦办起了综合交易所
银行	16世纪,威尼斯和热那亚的商人创立了银行,为从事国际贸易的商人提供资金和信用。1694年, <u>英格兰银行</u> 创立,是最早全面发挥中央银行各项职能的银行
证券交易所	17世纪后, <u>伦敦</u> 的证券交易所成为国际证券交易的中心
百货公司	1852年,世界第一家百货公司在法国 <u>巴黎</u> 开业
有限责任公司	1892年,德国出现有限责任公司
股份制贸易公司	为了有效地垄断对外贸易,英、法、荷等国建立起一种新型股份制贸易公司 ^[5]

②近代中国商业经营方式的变化:从西方引入近代银行、股份制企业和股票、证券交易机构、百货公司等。^[6](判断正误)

A.1865年,英国在上海开办汇丰银行,并在香港设立分行。(×)

B.1897年,盛宣怀在上海创办的中国通商银行,是中国人自办的第一家银行。(✓)

C.19世纪70年代,随着官督商办和官商合办的民用股份制企业出现,股票也开始走向市场。(✓)

D.为了适应股票交易的需要,上海出现了最早专营股票的证券机构——上海平准股票公司。(✓)

E.1898年,香港成立第一家大型百货公司——先施百货公司,之后在广州、上海等地也出现了类似的百货公司。(×)

(3)商品种类的变化

①商品贸易:烟草、咖啡、可可和茶叶等纷纷进入欧洲市场。香料成为大众化商品。

②奴隶贸易:新航路开辟后,奴隶成为贸易商品。16世纪初,葡萄牙、西班牙和荷兰支配了早期的奴隶贸易。^[7]

③鸦片贸易:18世纪后期,英国开始向中国走私鸦片。

(4)国际贸易格局的变化(连线)

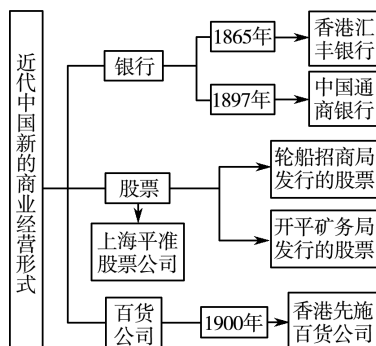
- ①17世纪 — a.美、德等新兴工业国家兴起,世界贸易形成了多中心的新格局
- ②19世纪中期 — b.英国成为“世界工厂”和世界贸易中心^[8]
- ③19世纪末20世纪初 — c.英国通过各种手段打击荷兰,夺取了其在北美的殖民地,逐渐控制了海上贸易

[5]荷兰东印度公司

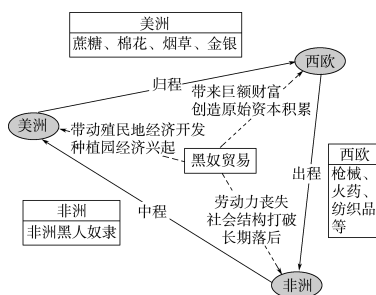


荷兰东印度公司是世界上第一家跨国公司,也是第一个发行股票的公司,于1602年3月20日在荷兰建立,总部设在阿姆斯特丹。荷兰东印度公司可以自组佣兵、发行货币,并被获准与其他国家订立正式条约,拥有实行殖民统治的权力。

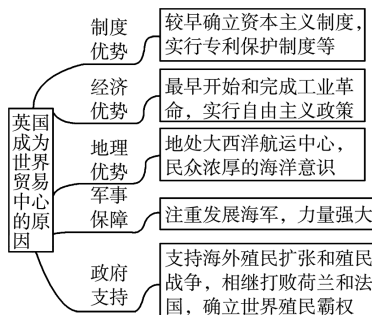
[6]近代中国新的商业经营形式



[7]黑奴贸易



[8]英国成为世界贸易中心的原因



任务型课堂

任务一 世界市场的形成

[探究活动]

材料一 15世纪末各种大发现所造成的新的世界市场的贸易需求……美洲金银产地的发现,原住民的被剿灭、被奴役和被埋葬于矿井,对东印度开始进行的征服和掠夺,非洲变成商业性地猎获黑人的场所——这一切标志着资本主义生产时代的曙光。这些田园诗式的过程是原始积累的主要因素。接踵而来的是欧洲各国以地球为战场而进行的商业战争。

——马克思《资本论》

(1)根据材料一,概括新航路开辟和早期殖民扩张掠夺的影响。

提示:为资本主义发展提供了资本原始积累;给殖民地人民带来了深重的灾难;促进了欧洲资本主义经济的发展;引发了早期殖民争霸战争。

材料二 工业革命推动资本主义世界市场基本形成。随着英国世界殖民霸主地位的确立,广阔的殖民地为其带来巨大的市场和商业利润,工场手工业不能满足市场的需要,在18世纪下半期以蒸汽机应用为标志的工业革命兴起了。机器大生产的产品远远超出国内市场的容量,需要更广阔的国际市场,工厂生产需要的原料多来自世界各地。同时工业革命也为工业资产阶级提供了便捷的交通手段及轰开落后地区大门的坚船利炮。在工业革命推动下,资产阶级的全球扩张把整个世界联系为一个整体。

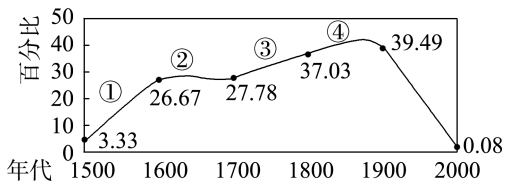
——摘编自何兰《资本主义世界市场的形成及殖民体系研究》

(2)有学者认为“20世纪初整个世界联系为一个整体”。根据材料二并结合所学知识,简要论证这一观点。

提示:这一观点具有合理性。20世纪初,伴随着第二次工业革命的进行,出现了人口的大规模流动与融合,世界动植物物种的广泛交流,世界经济伴随着国际劳动分工向广度和深度发展,生产的社会化程度提高,因此“20世纪初整个世界联系为一个整体”。

[评价活动]

(1)下面是全球殖民地占陆地(南极除外)面积的比例变化情况图。下列关于该图的说法正确的是()



- A. 在①阶段英国击败西班牙成为海上霸主
B. 在②段殖民扩张的主要是西班牙、葡萄牙
C. 在③阶段美国成为新崛起的世界殖民大国
D. 在④阶段殖民扩张使世界市场逐步形成

D 解析:1588年,英国海军击败西班牙的无敌舰队,但并没有确立起自己的海上霸主地位,A项错误。1600—1700年,殖民扩张的主角是荷兰,当时荷兰被称为“海上马车夫”,B项错误。1700—1800年是英国发展的阶段,英国确立了自己的殖民霸主地位,并且进行了工业革命,C项错误。1800—1900年两次工业革命逐步完成,世界市场逐步形成,D项正确。

(2)据下表可知,19世纪70年代至20世纪初()

时间	状况
1870—1910年	全球船舶的总吨位由1 680万吨上升到2 620万吨
1870—1913年	全世界铁路总长度由21万千米增加到110.2万千米
1870—1913年	世界贸易总额增加了3.2倍

- A. 世界各地的经济联系日益密切
B. 第二次工业革命在各国同时开展
C. 资本主义世界市场已基本成型
D. 欧美国家对亚非拉加大投资力度

A 解析:根据材料数据可知,随着第二次工业革命的开展,资本主义世界市场最终形成,世界各地的联系日益加强,故选A项。材料没有涉及多国同时进行第二次工业革命,排除B项;资本主义世界市场基本成型是在第一次工业革命时期,排除C项;材料没有涉及欧美国家对亚非拉国家的投资,排除D项。

任务总结

世界市场形成的基本特点

1. 整体性:世界各地逐渐连为一体。
2. 扩张性:由资本主义固有属性决定。
3. 不平等性:西方资本主义国家残酷掠夺殖民地供自己发展。
4. 进步性:顺应近代世界经济发展的必然趋势,客观上促进了人类进步。

任务二 近代商业贸易的创新变化

[探究活动]

材料一 1897年5月27日,经过盛宣怀一段时间的筹备,中国人自办的第一家银行——中国通商银行在上海正式成立。银行股份全属华股,总董全是华人,其构成不是封建官僚就是买办商人,实行“权归总董,利归股商”。它的内部章程制度完全仿照英商汇丰银行章程来拟订,用洋人为大班,掌握业务经营上的实权。它以上海总行为中心,积极开展业务。

中国通商银行(上海总行)各类放款

占其放款总额百分比

年份	国内工商业、 交通业及其他	钱庄	外国 洋行	外国在华 银行	合计
1897年底	70	14	12	4	100
1898年底	51	11	38	0	100
1899年底	85	0	15	0	100

——摘编自《中国第一家银行——中国通商银行的初创时期(1897—1911年)》

(1)根据材料一,概括中国通商银行的特点并作出简要评价。

提示:特点:实行股份制;带有封建买办色彩;实行西方银行管理制度;洋人掌握经营实权,具有半殖民地烙印。评价:促进了金融领域近代化;偏重工商业、交通领域的投资,推动了国家近代化和资本主义工商业的发展;用人体制具有落后性;对西方国家具有依赖性。

材料二 随着中世纪后期西欧商业的快速发展,跨地区贸易规模上升极快,催生了商业银行的产生和商业信用票据的出现。在殖民扩张活动中,英国的冒险家为解决资金问题和分散风险,通过民间参股融资的方式,建立起“股份有限公司”,并发展起股票市场。这不仅保证了商人有其独立经营海洋贸易的空间,也为英国后来的工业革命作好了公司组织形式上的准备。在金融体系支撑下的海洋贸易很大程度上改变了英国的政治势力格局,新兴的富有商人成为

17世纪进一步制度变革的主力军。

——摘编自陈志武《金融的逻辑》

(2)有学者指出“商业金融创新是近代西方强大的制度因素”。根据材料二并结合相关史实,简要论证这一观点。

提示:这一观点具有合理性。中世纪后,在西方近代社会中,商业金融体制不断创新,如证券交易所、商业银行、股份有限公司先后出现,这些制度创新促进了西方海外贸易的发展,为工业革命作了准备,促进了资产阶级力量的壮大,为资本主义制度革新奠定了基础,据此可知,商业金融创新是近代西方强大的制度因素。

[评价活动]

(1)“17世纪的新兴势力——尼德兰、瑞典、英国、法国都在北部。一些成长神速的城市也一样——阿姆斯特丹、巴黎、伦敦。相比之下,地中海显得停滞不前……16、17世纪在欧洲北部做生意比在欧洲南部有着无可争议的优势。”出现这种现象主要是由于 (D)

- A.工业资本取代商业资本
- B.垄断性贸易公司的建立
- C.英国确立世界殖民霸权
- D.欧洲贸易中心发生转移

(2)根据下图信息可知,16—19世纪 ()

1531年,最早的一家商品交易所在安特卫普开业。
1602年,荷兰东印度公司成立。
1694年,英格兰银行创立,是最早全面发挥中央银行各项职能的银行。
1852年,世界第一家百货公司在法国巴黎开业。

- A.商品流通种类日益增加
- B.商业经营方式发生变化
- C.世界市场规模不断扩大
- D.国际贸易格局发生改变

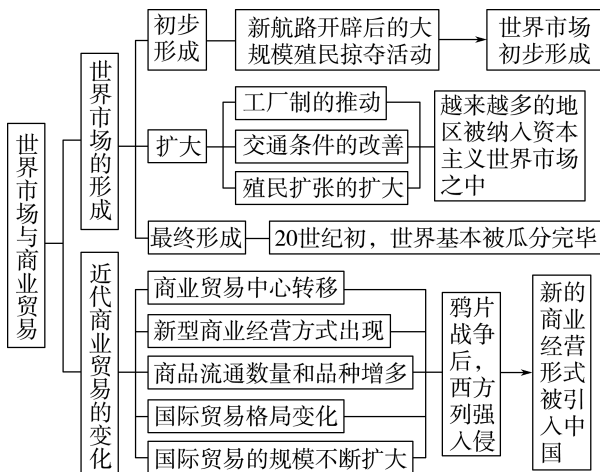
B 解析:从材料中的商品交易所、东印度公司、银行等内容可得出,随着资本主义的发展,商业经营方式不断发生变化,形式多样,B项正确;材料没有体现商品流通,也没有涉及市场扩大,更与贸易格局无关,排除A、C、D三项。

任务总结

16—20 世纪初世界商业贸易的变化

时间	商业贸易的变化	
	西方	中国
新航路开辟至 16 世纪	商品种类增加、商业重心转移、经营形式变化	海外贸易扩大,白银货币化
殖民扩张 17—18 世纪	股份制贸易公司、证券交易与股票市场	闭关自守,海外贸易缩小
第一次工业革命	海外市场拓展、大量商品输出	沦为商品倾销市场与原料产地
第二次工业革命	垄断组织出现、开始资本输出	现代银行、股份制企业与股票市场、百货公司陆续出现

► 提质归纳



1. 新航路开辟后世界市场初步形成,工业革命后进一步扩展,第二次工业革命后世界市场最终形成。
2. 近代以来,贸易中心、商业经营方式、商品种类和世界贸易格局都发生了重大变化。

课后素养评价(八) 世界市场与商业贸易

基础性·能力运用

知识点 1 世界市场的形成

1. 15 世纪末 16 世纪初的远洋航行,甩开了横亘东西的奥斯曼帝国,开辟了欧洲与亚洲贸易交通的新通道,终结了欧洲与东方陆路隔绝的状态。其产生的影响是 ()

- A. 重新联结传统商路
B. 国际劳动分工格局形成
C. 世界市场快速形成
D. 推动世界从分散走向整体

D 解析: 根据材料并结合所学可知,开辟新航路是为了取代传统商路,而非重新联结,排除 A 项;B 项是工业革命的产物,故排除;新航路的开辟打破了各地的孤立状态,使亚洲、欧洲、非洲和美洲联系在一起,促使世界走向整体,并促进了这些地区间的联系,使世界市场开始形成,故 D 项正确,C 项错误。

2. 16、17 世纪,建立在全球商品交换基础上的社会分工逐渐形成;美洲和东欧提供自然资源,非洲提供奴隶和劳动力,亚洲制造日常消费品和奢侈品,西欧则主要从事运输业、金融业和制造业。由此可见,当时 ()

- A. 亚洲经济地位依然较高
B. 资本主义世界市场初具规模

C. 西欧与东欧的矛盾尖锐

D. 资本主义生产关系成为主流

B 解析: 根据材料“建立在全球商品交换基础上的社会分工逐渐形成”并结合所学知识可知,16、17 世纪经过新航路开辟和早期殖民扩张,资本主义世界市场初具规模,故选 B 项。A、C、D 三项在材料中未体现,故排除。

3. 19 世纪末 20 世纪初,资本输出成为国际经济往来的主要特征,商品输出的作用与意义已退居次席。主要发达国家倾向于以资本输出的手段来开辟商品的销售市场,不再依靠对本国商品的倾销。这一变化的产生主要得益于 ()

- A. 信贷及商业契约的规范化
B. 列强对亚非各国的瓜分
C. 英国殖民霸主地位的丧失
D. 第二次工业革命的推进

D 解析: 根据材料并结合所学可知,第二次工业革命期间,欧美国家生产力快速发展,对外殖民扩张由以商品输出为主转变为以资本输出为主,D 项正确;材料与“信贷及商业契约的规范化”无关,排除 A 项;列强对亚非各国的瓜分是第二次工业革命的

影响,排除B项;第二次工业革命时期英国并未丧失殖民霸主地位,且与材料无关,排除C项。

- 4.以英国史学家巴勒克拉夫为代表的全球史观将1500年和1900年定为世界近现代史的分界点。这反映了()

A.资本主义世界市场形成的历程
B.欧洲由兴盛走向衰落的漫长过程
C.资本主义制度产生、发展的历程
D.近代史上野蛮和文明进程的交织

A 解析:根据题干所述,英国史学家从全球史观的角度出发,将1500年和1900年定为世界近现代史的分界点,反映了资本主义世界市场从开始形成到最终形成的历程,故A项正确。

知识点2 近代商业贸易的变化

- 5.下列三幅图片是近代上海历史发展过程中的真实记录,它们可以用来佐证()



先施百货公司



通商银行大楼



江南机器制造总局

A.上海是旧中国的经济中心
B.中国经济领域的新变化
C.开埠通商是经济发展保障
D.中国民族资本主义诞生

B 解析:根据图片“百货公司”“江南机器制造总局”并结合所学可知,近代以来,伴随着西方列强入侵,本国民族企业不断发展,投资银行的建立以及洋务企业的兴办,均带动中国经济领域发生新的变化,故选B项;材料没有说明其他地区的经济发展情况与上海地区的比较,排除A项;开埠通商仅是经济发展的因素之一而非保障,逻辑错误,排除C项;材料并不仅涉及民族企业,还涉及洋务企业,排除D项。

- 6.“16世纪以后,由于奥斯曼帝国的扩张,传统地中海国家成了新航线图上的边远地区。新的贸易港口成为更有活力的金融、贸易和生产中心。”材料所指的新的贸易港口可能是()

A.热那亚
B.威尼斯
C.阿姆斯特丹
D.君士坦丁堡

C 解析:16世纪以后,由于奥斯曼帝国的扩张,以地中海为中心的传统商路受阻,西欧国家纷纷开辟新航路,大西洋沿岸城市成为更有活力的金融、贸易和生产中心,如阿姆斯特丹等,故选C项;意大利的热那亚位于地中海沿岸,排除A项;意大利的威尼斯位于地中海沿岸,排除B项;君士坦丁堡位于巴尔干半岛东端,扼黑海门户,排除D项。

- 7.16世纪初,从中国运往葡属印度市场分销的中药材土茯苓价格奇高,几乎只有权贵才能消费;到16世纪末期,销往该地的土茯苓价格下降,普通民众皆可消费。引起这一变化的主要因素是()

A.东西方贸易渠道的拓展
B.中医药在欧洲得到普及
C.社会等级观念逐渐淡化
D.价格革命改变消费结构

A 解析:16世纪末期,随着新航路的开辟,东西方贸易渠道增多,销往印度市场的土茯苓数量增多,成为大宗商品,导致价格下降,普通民众皆可消费,A项正确;B项中的“普及”表述过于绝对,排除;材料并未涉及社会等级观念的内容,排除C项;土茯苓供应量增加属于商业革命的内容,而非价格革命,排除D项。

- 8.在欧洲消费者开始关注咖啡之际,英、荷东印度公司除了维持在也门或印度的商站,以便收购咖啡运回欧洲,还在世界范围内发展规模日益扩大的咖啡种植。这说明英、荷东印度公司()

A.调整了商业经营战略
B.深受非洲咖啡种植的冲击
C.垄断欧洲的咖啡贸易
D.主要在欧洲市场销售咖啡

A 解析:由材料可知,英、荷东印度公司调整了商业经营战略,不仅仅从事商业贸易,还增加了殖民地的商品生产,故选A项;题干并未提到非洲咖啡种植的冲击,排除B项;C、D两项材料未体现,排除。

综合性·创新提升

- 9.17世纪初期的欧洲,砂糖和茶都是在药店里出售的贵重药品。19世纪,英国城市工人的早餐普遍包含红茶、砂糖。这些变化说明()

A.海外贸易减小了社会贫富分化
B.世界市场的形成丰富了人们的物质生活
C.殖民扩张助推了各地消费升级

D.工业革命消除了地区性饮食差异

B 解析:根据题干可知,从17世纪初期到19世纪,中国的茶叶、巴西的砂糖在欧洲逐渐普及,这是因为16世纪以后新航路开辟,世界市场开始形成,商品流通不断发展,说明世界市场丰富了人们的物质生活,故选B项;材料未涉及社会贫富差距的变化,排除A项;“17世纪初期的欧洲”只能说明殖民扩张让一部分地方消费水平提高,这不具有普适性,排除C项;“19世纪,英国城市工人的早餐普遍包含红茶、砂糖”体现了英国消费水平的变化,而中国、巴西的消费水平依旧很低,排除D项。

10.1784年,美国政府首次派遣商船(“中国皇后号”)赴中国进行贸易,这次航行为美国人带来了不小的利润。此后,美国多次突破英国的经济封锁,派商船来华进行贸易。美国此举 ()

- A.有利于中国放弃海禁政策
- B.旨在探索太平洋的新航路
- C.推动了全球贸易网的发展
- D.使中国对外贸易出现逆差

C 解析:美国独立后横渡太平洋,发展与中国的直接贸易,这丰富了太平洋贸易航线,推动了全球贸易网的发展,故选C项;此举并未使中国改变海禁政策,排除A项;探索横穿太平洋的新航线并不是美国政府的目的,排除B项;当时中国在对外正当贸易中,总体上有较大顺差,排除D项。

11.开业于1909年的塞尔福里奇百货大楼是伦敦第一座按销售需求来建设的百货大楼,中央供暖、餐厅、休息室、电气照明、自动电梯一应俱全,大楼分成100个售货区,设有图书室、休息室、茶室等。这体现了 ()

- A.城市管理水平提高
- B.城市经济功能增强
- C.商业经营理念变革
- D.商品种类日益丰富

C 解析:根据材料可知,1909年伦敦出现按销售需求建设的百货大楼,建筑内部功能齐全,这体现商业经营理念的变革,故选C项;A、B、D三项均与材料信息无关,排除。

12.随着欧洲大陆国家开始工业化,其国内的工业生产替代了进口,英国出口的商品在欧洲大陆的市场份额日益下降。到1913年,英国已经基本失去美国市场,当时美国占英国商品出口市场中的份额仅为5%。这反映出 ()

- A.英国失去了世界经济大国地位
- B.工业革命开始向英国以外扩展
- C.英国失去了欧洲和美洲的市场
- D.工业革命推动国际贸易格局变迁

D 解析:题干表明,随着工业革命的开展,欧洲大陆国家和美国以自身的工业制造品替代英国商品,使英国在欧洲大陆和美洲的市场严重萎缩,体现出工业革命推动了国际贸易格局的变迁,故D项正确。

13.阅读下列材料,回答问题。

材料一 17世纪中期,英国人喝茶仿效中国人的做法,冲的很淡,人们饮茶在很大程度上是因为它有所谓的药效。富有特色的英式下午茶产生于18世纪50年代。“那些贵妇们轮流提供午后茶和咖啡。”就全世界范围而言,午后茶成为一种隆重而固定的礼仪,应该归功于英国贝德福特公爵夫人安妮(1788—1861年)。当时人们食用丰盛的早餐和没有仆人照料的简单的午餐,直到晚上8点才开始使用正式的晚餐,晚餐后在会客室饮茶,按照他们的饮茶习惯增加了牛奶和糖。19世纪中期,饮茶的习惯普及起来,普通人也开始在午后饮茶。

——摘编自施茜《从中国功夫茶到英式下午茶

——宜兴紫砂壶在欧洲的传播与流变》

材料二 16世纪开始,大航海时代的来临,推动了东西方贸易的发展,也推动了欧洲的饮茶热潮以及茶叶贸易。在巨大的利润驱使下,茶叶成为英国东印度公司的主要商品。进入19世纪,印度茶叶种植面积的扩大,19世纪末印度已实现揉茶、切茶、焙茶、筛茶、装茶等各个环节的机械化。机器的出现,又反过来推动了茶园的扩张,输入英国的印度茶逐步超过了中国茶。

——摘编自武斌《近代欧洲的茶叶贸易与中国茶文化的西传》等

(1)根据材料一指出英国人的饮茶习惯发生了怎样的变化。

(2)请根据上述材料并结合所学知识列一个近代世界茶文化发展解说提纲。(先明确提纲主题,主题要围绕世界近代的重大事件,观点明确,逻辑清晰)

答案:(1)变化:由药用至日常饮用;由上流社会向下层普通民众普及;形成英国独特的饮茶习惯。

(2)示例:世界市场与近代茶文化。

新航路开辟后,伴随着世界市场的发展,茶叶开始

在全球范围内交流和传播。中国茶传入西方并为西方人所喜爱。随着欧洲人的殖民扩张，印度茶崛起。进入19世纪，随着工业革命的开展，茶叶的生产也走上了机械化的道路，促进了世界茶文化的繁荣。19世纪中期英国成为世界贸易中心，饮茶习惯在英国的普及，形成了极富地域特色的“下午茶”。茶叶的交流与传播改变了人们的饮食习惯，丰富了世界各地人们的物质文化生活。

解析：第(1)问，根据材料“人们饮茶在很大程度上是因为它有所谓的药效”“就全世界范围而言，午后茶成为一种隆重而固定的礼仪，应该归功于英国贝德福特公爵夫人安妮”“19世纪中期，饮茶的习惯普及起来，普通人也开始在午后饮茶”等信息进行概括。第(2)问，本问属于开放性设问。首先，结合材料和所学知识，围绕世界近代茶文化的发展在材料中提取一个主题，例如根据材料二“16世纪开始，大航海时代的来临，推动了东西方贸易的发展，也推动了欧洲的饮茶热潮以及茶叶贸易”“进入19世纪，印度茶叶种植面积的扩大”和材料一“19世纪中期，饮茶的习惯普及起来，普通人也开始在午后饮茶”可知，近代茶文化的传播与世界市场密切相关，进而将解说主题确定为：世界市场与近代茶文化。其次，根据提取的主题，从新航路开辟、欧洲殖民扩张、工业革命、英国成为世界霸主等角度阐明这些事件对茶叶种植和茶文化的影响。最后，进行总结升华，强调茶文化的传播对世界人民生活的影响。

14. 阅读材料，回答问题。

材料 大工业建立了由美洲的发现所准备好的世界市场。世界市场使商业、航海业和陆路交通得到了巨大的发展。这种发展又反过来促进了工业的扩展，同时，随着工业、商业、航海业和铁路的扩展，资产阶级也在统一程度上发展起来，增加自己的资本，把中世纪遗留下来的一切阶级排挤到后面去……资产阶级，由于开拓了世界市场，使一切国家的生产和消费都成为世界性的了……新的工业的建立已经成为一切文明民族的生命攸关的问题；这些工业所加工的，已经不是本地的原料，而

是来自极其遥远的地区的原料；它们的产品不仅供本国消费，而且同时供世界各地的消费。

——马克思、恩格斯《共产党宣言》

根据材料并结合所学知识，谈谈对世界市场与国际贸易关系的认识。（要求：观点明确，史论结合，事实准确，逻辑得当）

答案：示例

论点：世界市场促进商业贸易的发展，商业贸易推动世界市场的形成。

论述：随着新航路开辟、早期殖民扩张、第一次工业革命、第二次工业革命世界市场的不断扩展，欧洲列强将广大的亚非拉地区纳入其殖民统治，这就使欧洲与外界经济联系的范围空前扩大，商业资本获得了无比广阔的活动场所，商品销售的市场空前扩大，遍布世界各地；与此同时，欧洲商路中心从地中海沿岸转移到大西洋沿岸，商品种类日益丰富、数量急剧增多，在欧亚两洲市场上，出现了原产于美洲的烟草、可可、玉米、番茄、马铃薯等新物种；亚洲出产的大米、蔗糖、茶叶和非洲的咖啡等也大量涌入欧洲、美洲市场；来自东方的香料更是大量涌入欧洲国家，结果使欧洲市场上的商品结构也随之发生了变化，如香料这样一些历来只供贵族富豪享用的高级奢侈品，逐渐成为普通人消费的大众商品。葡萄牙、西班牙和荷兰、英国相继崛起，成为海上强国，改变了世界贸易格局。商业贸易的发展又反过来进一步推动了世界市场的发展、扩张。二者相互联系，彼此影响，联系更加紧密。

解析：本题为开放性试题，答案言之成理即可。如根据材料“大工业建立了由美洲的发现所准备好的世界市场”“这种发展又反过来促进了工业的扩展”及设问限制“世界市场与国际贸易的关系”可拟定论点：世界市场促进商业贸易的发展，商业贸易推动世界市场的形成。关于阐释可从世界市场的形成过程、世界市场形成的表现及西方国家扩张对世界市场的影响等角度去分析二者的关系，最后进行归纳总结。

第9课 20世纪以来人类的经济与生活

任务目标	1. 了解 20 世纪以来世界贸易、金融的变化历程。 2. 认识 20 世纪以来世界贸易、金融的变化对人类生活的影响。
时空定位	<p>1921年 1933年 1936年 1944年 1947年 1978年 20世纪90年代 1995年</p> <p>新经济政策实施 罗斯福新政实施 苏联模式确立 布雷顿森林体系建立 《关税与贸易总协定》达成 中国实施改革开放 电子商务兴起 世界贸易组织成立</p>

问题式预习

一、世界经济的发展

1. 资本主义国家

时间	原因	表现	国家	影响
第一次世界大战后 (1929—1933年) ^[1]	资本主义制度的基本矛盾	1929—1933年经济危机: 银行倒闭、企业破产、市场萧条、生产锐减, 失业人数激增 ^[2]	美国	通过罗斯福新政扭转危机
			德、日、意	走上法西斯道路, 发动了第二次世界大战
第二次世界大战后 ^[3]	将政府宏观调控与市场调节结合起来; 第三次科技革命的推动	经济快速增长; 新兴产业发展, 传统产业升级, 极大地提高了生产效率	各主要资本主义国家	并未解决生产社会化和生产资料资本主义私人占有之间的矛盾, 世界范围内贫富分化加剧, 经济危机时有发生

2. 苏联及东欧社会主义国家的发展

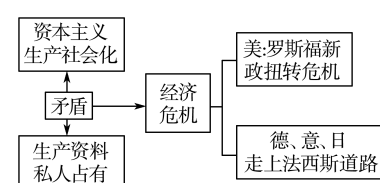
(1) 第一次世界大战后的苏联^[4]

①背景: 第一次世界大战后期, 俄国爆发十月革命, 建立世界上第一个社会主义国家, 1922年苏联成立。

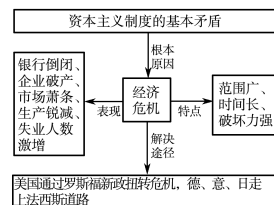
②成就: 新经济政策使社会经济得到恢复; 斯大林逐渐建立起高度集中的计划经济体制, 集中力量发展重工业。

(2) 第二次世界大战后的苏联及东欧社会主义国家: 20世纪五六十年代经济发展进程中, 指令性计划和官僚化管理效率低下、运转不灵等问题越来越突出, 改革陷入困境。1989年, 东欧发生剧变; 1991年, 苏联解体。

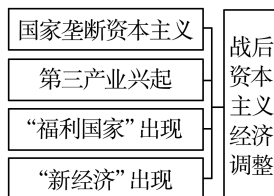
[1] 第一次世界大战后资本主义的发展



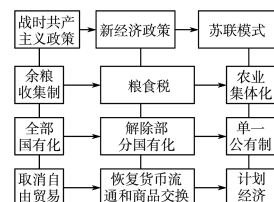
[2] 1929—1933年经济危机



[3] 第二次世界大战后资本主义经济的调整



[4] 苏联社会主义经济建设模式的探索



3. 中国^[5]

中华人民共和国成立 | 进行了社会主义革命和建设的曲折探索, 奠定了中国现代化的工业基础

1978年 | 召开中共十一届三中全会, 实现了伟大的历史转折

改革开放后 | 建立起社会主义市场经济体制, 成功开辟出中国特色社会主义道路, 经济飞速发展

4. 发展中国家

(1) 表现: 将经济独立作为首要目标, 通过发展国有经济与制订经济计划加速自身的工业化进程。20世纪60年代至70年代前期, 一些国家的经济实现了高速发展。

(2) 发展中国家面临哪些问题?

由于自身经济结构存在问题, 加上西方发达国家贸易保护主义抬头, 发展中国家经济发展道路仍然充满挑战。

5. 21 世纪的世界经济与中国

(1) 总体特征: 经济全球化深入发展, 各国相互联系和依存日益加深; 世界经济的不稳定性、不确定性突出, 增长动能不足, 贫富分化严重。

(2) 中国的对策: 坚持对外开放, 倡议推动“一带一路”国际合作。^[6]

二、国际贸易与人类生活

1. 国际贸易体系的形成与发展

(1) 背景: 从19世纪70年代到第二次世界大战, 贸易保护主义盛行阻碍国际贸易发展; 世界经济萧条, 人民生活困难。

(2) 《关税与贸易总协定》(1947年): 其宗旨是③; 影响是②。(填序号)

(3) 世界贸易组织(1995年): 其目的是①; 影响是④。(填序号)

① 实现贸易自由化, 建立更具活力和永久性的多边贸易体制

② 各缔约国通过谈判, 削减关税和其他贸易壁垒, 取消国际贸易中的歧视待遇, 促进了国际贸易的发展

③ 提高生活水平、保证充分就业、保证实际收入和有效需求的持续增长

④ 降低了相关产品和服务的费用, 刺激了有效需求, 提高了生活水平

(4) 中国加入世贸组织(2001年): 标志着中国对外开放进入了一个新的阶段。^[7]

2. 贸易形式的变化

(1) 商品贸易同国际投资、技术贸易、劳务承包等结合在一起, 实现了更多样的经济合作方式。

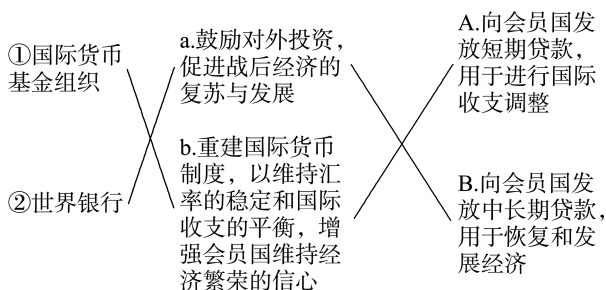
(2) 现代信息技术的发展改变了传统的交易手段。

三、国际金融与人类生活

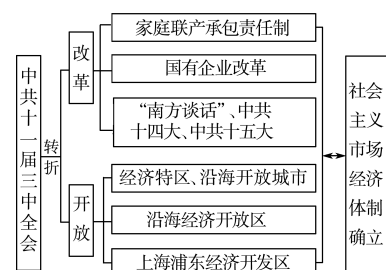
1. 第二次世界大战后国际货币金融体系的建立——布雷顿森林体系^[8,9]

(1) 建立: 第二次世界大战后, 在美国主导下, 布雷顿森林体系建立。

(2) 两大国际金融机构(连线)



[5] 中共十一届三中全会后中国的改革开放



[6] “一带一路”倡议



[7] 中国加入世贸组织的历程

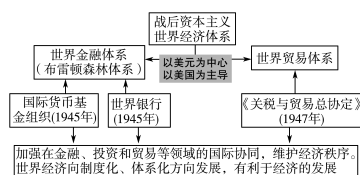
第一阶段: 从20世纪80年代初到1986年7月, 主要是酝酿和准备“复关”事宜。

第二阶段: 1987年2月到1992年10月, 主要是审议中国经贸体制。

第三阶段: 1992年10月到2001年9月, “复关”“入世”议定书内容的实质性谈判, 即双边市场准入谈判。

第四阶段: 2001年9月到2001年11月, 中国“入世”法律文件的起草、审议和批准。

[8] 第二次世界大战后形成的资本主义世界经济体系



2. 国际金融的发展(判断正误)

(1)20世纪80年代以来,资本流动全球化、金融市场一体化和金融机构全球扩张成为经济全球化进程中的主导趋势。(×)

(2)作为迅速崛起的新兴经济体,中国在国际金融中的影响力逐步提升,推进人民币国际化,倡议设立亚洲基础设施投资银行,人民币成为主要的国际储备货币之一。(√)

(3)现代国际金融具有一定的风险,一旦失控容易引发全球性的金融危机。(√)

[9]布雷顿森林体系的内容



美元与黄金直接挂钩:1盎司(0.888 671克)黄金=35美元,其他会员国货币与美元挂钩,同美元保持固定汇率关系。

实质:以美元为中心的世界货币体系。

任务型课堂

任务一 20世纪以来世界经济的发展

[探究活动]

材料一 为了巩固农民经济和提高其生产率……应当以实物税代替余粮收集制这种国家收集粮食、原料和饲料的方法……如果不在工业和农业之间实行系统的商品交换或产品交换,无产阶级和农民在从资本主义和社会主义的过渡时期就不可能建立正确的关系,就不可能建立十分瞩目的经济联盟。

——摘编自齐世荣主编《世界通史资料选辑》

(1)材料一表明苏俄对以往哪一经济政策进行了调整?概括其调整的目的。

提示:经济政策:余粮收集制(或战时共产主义政策)。目的:提高农业生产,巩固工农联盟。

材料二 罗斯福并不比胡佛更懂得宏观经济学的奥妙,更不能未卜先知;他和胡佛一样都信奉“自由经济”,而不像一些人所想象的那样是一个凯恩斯主义者。罗斯福比胡佛优秀的地方主要在于不是抱着自由主义的教条不放,而是千方百计去减轻灾难,顺时而变。用他自己的话来说,就是“做点什么总比什么都不做好”。

——摘编自杨目等《罗斯福“新政”:评价及启示》

(2)有人据此认为罗斯福与胡佛是一样的“自由经济”奉行者。请结合材料二和相关知识简要论证这一观点。

提示:这种认识是片面的。罗斯福新政以前,资本主义国家大多盛行自由经济政策;也正是自由经济政策才致使20世纪30年代经济危机没能得到及时的遏制;罗斯福尽管在新政中保持了资本主义自由企业制度,但并没有完全奉行自由经济政策,而是以国家干预经济的方式来恢复经济的发展;因此罗斯福所创立的国家干预经济发展模式是一种对资本主义经济发展模式的大胆创新。

材料三 计划经济不等于社会主义,资本主义也有计划;市场经济不等于资本主义,社会主义也有市场。计划和市场都是经济手段。

——邓小平

(3)结合20世纪以来世界经济的发展的有关史实说明“资本主义也有计划”“社会主义也有市场”这一观点。

提示:美国罗斯福新政采用了国家干预经济的方法扭转了经济危机,第二次世界大战后被西方国家广泛采用。苏联则实行新经济政策,利用市场机制发展经济,并取得成功。因此,资本主义也有计划,社会主义也有市场。

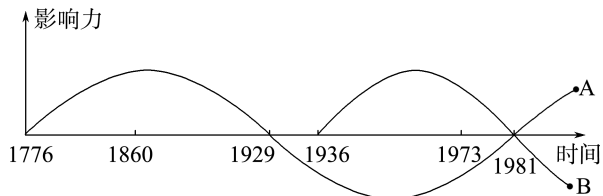
[评价活动]

(1)“每一双皮鞋或每一件内衣,都要由中央调配”“计划就是法令”。这说明斯大林时期经济体制的特点是()

- A.多种所有制经济并存 B.高度集中的计划经济
C.扩大国营企业自主权 D.计划和市场经济结合

B 解析:苏联模式实行高度集中的计划经济,国家可以按照统一计划调配人力、物力和财力。从材料中的“每一双皮鞋或每一件内衣,都要由中央调配”和“计划就是法令”来看,斯大林时期经济体制的特点是高度集中的计划经济,故选B项,排除D项。苏联模式在经济体制方面实行单一的公有制,排除A项;在高度集中的计划经济体制下,企业没有自主权,排除C项。

(2)下图是近代以来主要资本主义国家主流经济理论影响力演变曲线图。据此判断正确的是()



- A.罗斯福新政是在A理论指导下进行的
B.B理论是资本主义经济危机爆发的根源
C.B理论崇尚自由放任政策
D.A理论在20世纪80年代复苏的重要原因是经济“滞胀”

任务总结

资本主义经济政策的调整

1. 重商主义:盛行于16—17世纪西欧资本原始积累时期的一种经济理论。主张政府管制生产和商业活动、垄断外贸、提高关税。
2. 自由放任:产生于第一次工业革命时期。主张减少政府在经济事务中的操控,让市场机制发挥调节资源的作用。
3. 凯恩斯主义:产生于经济大危机时期,第二次世界大战后资本主义国家普遍流行。主张国家大规模干预经济。
4. 新自由主义:产生于20世纪70年代的经济“滞胀”时期。主张减少国家对经济的干预,出售国有企业,缩减福利开支。

任务二 20世纪以来的世界贸易与金融

[探究活动]

材料一 1929年经济大危机爆发后,金本位制崩溃。资本主义世界货币失去了统一的标准和基础,国际货币关系陷入日益动荡和混乱的状态。第二次世界大战后确立了以美元为中心的国际货币体系,即布雷顿森林体系。布雷顿森林体系确定35美元兑换1盎司黄金的固定比值,各国货币与美元挂钩。美元实际上等同于黄金,取得了在资本主义世界货币体系中的霸权地位。

——摘编自姜春明、佟家栋主编
《世界经济概论(第六版)》

(1)根据材料一并结合所学知识,指出布雷顿森林体系确立的原因,并概括该体系的特点。

提示:原因:金本位制崩溃;吸取经济危机和第二次世界大战的教训;恢复战后经济的需要;第二次世界大战后世界力量对比发生变化。特点:实行固定汇率制;以美元为中心;由美国主导。

材料二 关贸总协定和世界贸易组织的总部都设在瑞士日内瓦。1947年,美国、中国等23个国家签署《关税与贸易总协定》,其宗旨是降低关税,减少贸易壁垒,实现国际贸易自由化。1995年,世界贸易组织成立,取代关贸总协定。关贸总协定以“临时适用的多边贸易协定”形式存在,而世界贸易组织是常设国际组织。前者只处理货物贸易问题,解决争端,缺乏法律性的强制措施;后者还处理服务贸易及与贸易有关的知识产权问题,其裁决具有自动执行的效力和明确时间表。

(2)根据材料二并结合所学知识,概述《关税与贸易总协定》签署的背景。与关贸总协定相比,说明世界贸易组织发展的表现。

提示:背景:贸易保护主义的危害;二战后世界经济恢复和发展的需要。表现:以常设国际组织取代多边协定;管理和处理的范围更广泛;运作更加规范化和法制化。

[评价活动]

(1)协助会员国建立经常性交易的多边支付制度,消除妨碍世界贸易的外汇管制;在有适当保证的条件下,临时提供普通资金,使其有信心利用此机会纠正国际收支的失调,而不采取危害本国或国际繁荣的措施。以上材料 ()

- A.反映了世界贸易组织成立的目的
- B.揭示了国际复兴开发银行的宗旨
- C.指出了《关税与贸易总协定》签订的必要性
- D.说明了国际货币基金组织的任务

D 解析:根据材料可知,该组织具有调节会员国国际收支不平衡的职能,故该组织是国际货币基金组织,故选D项。

(2)据世界贸易组织统计,1995年发达国家在有形产品贸易中的比重是73%左右,发展中国家仅占27%,而到2015年,发达国家占51%,发展中国家占49%。这表明 ()

- A.发达国家经济利益受到较大损失
- B.发达国家在国际分工中受到重大冲击
- C.发展中国家经济利益成比例增加
- D.发展中国家参与国际分工的程度加深

D 解析:根据材料可知,发展中国家在有形产品贸易中的比重由1995年的27%变为2015年的49%,这说明发展中国家在世界贸易中占的比重增多,参与国际分工的程度加深,D项正确。发达国家有形产品贸易所占比重的下降,不能说明其经济利益受到较大损失或其在国际分工中受到重大冲击,故A、B两项错误;发展中国家有形产品贸易所占比重的上升不能说明其经济利益增加,C项错误。

任务总结

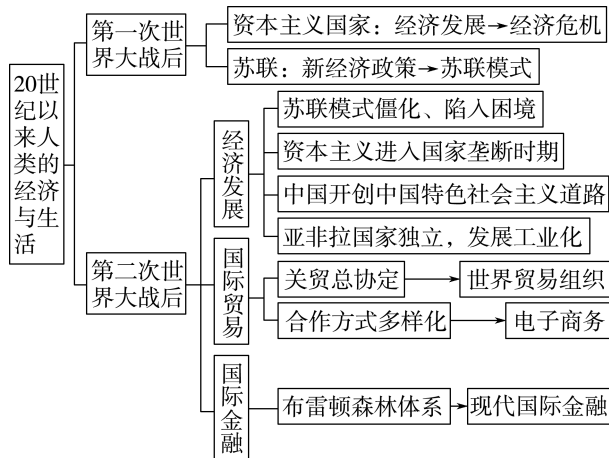
布雷顿森林体系的影响

1. 积极影响

- (1)使国际货币金融体系有了统一的标准和基础,暂时结束了金融领域的混乱局面,维持二战后世界货币体系的正常运转。
- (2)扩大了世界贸易。
- (3)客观上起到扩大世界购买力的作用。
- (4)建立固定汇率制,有利于世界贸易的发展和国际资本的流动,为世界经济的恢复和发展创造了条件。

2. 消极影响:加强了美国在国际金融领域的特权和支配地位,加强了美国称霸世界的实力。

► 提质归纳



- 20世纪初，资本主义国家政治经济发展的不平衡和重新瓜分世界的斗争最终引发了第一次世界大战。
- 第二次世界大战后，资本主义国家通过将政府宏观调控与市场调节结合的方式，实现了经济的快速增长。
- 国际性贸易组织的出现是世界经济发展的必然结果。
- 布雷顿森林体系的建立给国际金融与经济发展带来了积极影响。但这一体系具有强化美元和美国对世界金融支配地位的作用。

课后素养评价(九) 20世纪以来人类的经济与生活

基础性·能力运用

知识点1 世界经济的发展

1.“新经济政策一执行，混乱和饥荒马上就开始平息下去了，城市恢复了生机，市场上的商店又开始有了产品的供应了，物价也随之下降。”材料反映新经济政策的影响是 ()

- A.促进了经济的迅速恢复
- B.取得了国内战争的胜利
- C.迅速实现了苏联工业化
- D.推动了农业集体化进程

A 解析：由材料“城市恢复了生机，市场上的商店又开始有了产品的供应了”可知，新经济政策促进了经济的恢复发展，故选A项。

2.1935年8月，美国加重对高收入者和大公司的课税，把5万美元以上收入的附加税提高为31%，把50万美元以上收入的附加税提高为75%，还增加了财产税和赠款税，公司缴纳的税额也有所增加。这些措施旨在 ()

- A.建立福利国家
- B.限制私人垄断
- C.加强政权力量
- D.克服经济危机

D 解析：材料时间“1935年”正值“罗斯福新政”时期，此时主要目的是缩小贫富差距，缓和经济危机带来的社会矛盾，D项正确；“建立福利国家”是在第二次世界大战后，排除A项；B、C两项均与材料主旨不符，排除。

3.有经济学家认为，按照国际工业经济一般的衡量标准，中国从1953年到1991年，用38年时间就达到或接近了工业化中期阶段的水平。这主要是因为中国在这一时期 ()

- A.经济建设不断推进

B.对外开放日益扩大

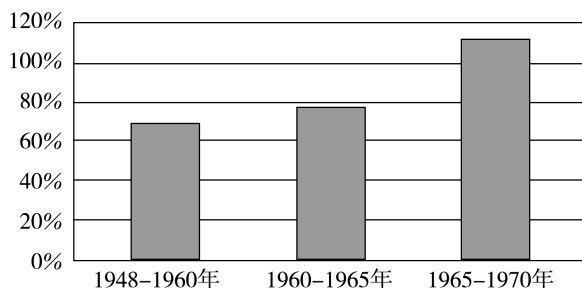
C.市场经济逐步完善

D.城乡差别显著缩小

A 解析：1953年我国开始实施“一五”计划，奠定了社会主义工业化的基础，1956年开始经历了十年全面建设社会主义时期，1978年底进入改革开放新时期，经济建设全面展开，这些均是经济建设不断推进的表现，促进了中国工业化的发展，故选A项；我国的对外开放开始于1980年，不符合题干“从1953年”这一时间范围，排除B项；社会主义市场经济体制是在1992年正式开始确立的，排除C项；城乡差别侧重于城市和乡村之间的发展差异，不符合题意，排除D项。

知识点2 国际贸易与人类生活

4.下图为1948—1970年世界出口贸易总额年均增长率示意图。世界贸易呈现这一发展态势的主要因素是 ()



- A.世界贸易体系化发展
- B.新兴独立国家的推动
- C.世界多极化趋势加强
- D.冷战格局的逐渐瓦解

A 解析:根据材料并结合所学可知,随着国际货币基金组织、国际复兴开发银行、关贸总协定的建立,世界经济朝着制度化、体系化的方向发展,在此世界经济体系的推动下世界经济迅速发展,故选A项;新兴独立国家大量出现是在20世纪60年代,大多数力量比较弱小,不是推动世界贸易发展态势的原因,排除B项;20世纪50—60年代,世界多极化产生,世界多极化趋势加强是在两极格局瓦解后,排除C项;冷战格局的瓦解是在20世纪90年代,排除D项。

5. WTO(世界贸易组织)被称为“经济联合国”,它所制定的规则已成为当今重要的国际经贸惯例。据此可知,中国加入WTO ()

- A. 加速了我国经济体制改革
- B. 完善了国际合作的新平台
- C. 有利于减少国际贸易歧视
- D. 促进了世界贸易形式变化

C 解析:根据材料可知,中国加入WTO,使中国经济在全球化进程中获得参与与制定规则和竞争的有利位置,有利于减少国际贸易歧视,增加中国产品的出口,故选C项;加入WTO属于对外开放,排除A项;“完善”说法过于绝对,排除B项;材料与世界贸易形式变化无关,排除D项。

知识点3 国际金融与人类生活

6. 1953—1963年,世界贸易的年平均增长率为6.1%,1963—1973年的年平均增长率达到8.9%。下列对

1953—1973年世界贸易发展的原因,分析正确的是 ()

- A. 布雷顿森林体系稳定了国际金融
- B. 世界贸易组织大力发展服务贸易
- C. 中国积极参与《关税与贸易总协定》
- D. 电子商务极大地提高了商业效率

A 解析:第二次世界大战后建立了以美元为中心的布雷顿森林体系,稳定了国际金融秩序,促进了第二次世界大战后国际贸易的发展,故选A项;世界贸易组织建立于1995年,与材料时间不符,排除B项;中国从20世纪80年代申请恢复关贸总协定缔约国地位,与材料时间不符,排除C项;电子商务开始发展的时间主要是20世纪70年代,与材料时间不符,排除D项。

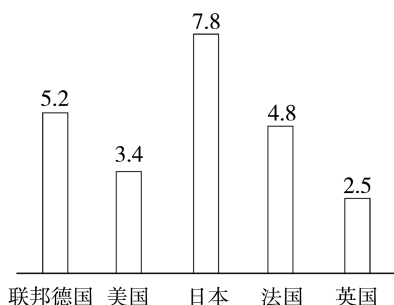
7. 如今,电子金融与网络金融日益普及。美国W银行的网上房屋贷款批复业务只需50秒;而美国M银行的网上贷款业务25秒即可办妥。这反映出网络金融的特征是 ()

- A. 高效性和经济性
- B. 安全性
- C. 协调性
- D. 整体性

A 解析:在网络金融环境中,人们不再受地域的限制,客户能以非常简捷的方式完成过去较为繁杂的商务活动,材料中“50秒”“25秒”反映了网络金融具有高效性和经济性的特征,故A项正确。

综合性·创新提升

8. 下图呈现的是“1951—1981年主要资本主义国家国民生产总值年均增长率(单位:%)”(以1950年为基数)。以下解读正确的是 ()



- A. 日本因发展速度最快而成为新的世界霸主
- B. 政府进行宏观调控是经济增长的重要原因
- C. 各国发展不平衡源于缺少国际协调合作
- D. 这体现了两极格局的崩溃和多极化的发展

B 解析:根据材料可知,第二次世界大战后,各主要资本主义国家通过经济计划、财政政策、货币政策、收入政策以及福利政策等,将政府宏观调控与市场调节结合起来,实现了经济的快速增长,故选B项;虽然日本增长率最快,但世界霸主仍是美国,排除A项;各国经济发展不平衡是多种因素综合作用的结果,且此时形成了资本主义世界经济体系,加强了国际的协调合作,排除C项;1991年,苏联解体标志着两极格局瓦解,排除D项。

9. 发展中国家要从国际货币基金组织和世界银行获得紧急贷款或其他信贷必须进行特别的改革——开放市场、消除投资管制、由世界市场来决定利息和利率、缩小公共部门的规模、取消补贴等。这一改革要求 ()

- A.促进了发展中国家区域合作互联互通
 B.有利于建立公正合理的国际经济秩序
 C.提高了发展中国家融入全球化的风险
 D.推动了美国主导的贸易机构全球扩张

C 解析:根据材料可知,发展中国家必须进行相应改革才能获得国际货币基金组织和世界银行的帮助,而改革的内容不利于发展中国家保护自身,这提高了发展中国家融入全球化的风险,故选C项;材料反映的是发展中国家融入世界,不是区域合作,排除A项;这一改革不利于发展中国家经济平稳发展,不利于建立公正合理的国际经济秩序,排除B项;国际货币基金组织和世界银行是金融组织,不是贸易机构,排除D项。

- 10.1934年,美国国会通过“对外贸易区法案”提出的非歧视最惠国原则,后来成为1947年关贸总协定的基本原则。这反映出 ()

- A.国际金融体系的建立
 B.世界贸易自由化的实现
 C.国家力量的发展变化
 D.世界多极化趋势的出现

C 解析:第二次世界大战后美国成为资本主义世界的霸主,力图建立以自身为核心的贸易体系,所以使得战后非歧视最惠国原则成为关贸总协定的基本原则,故选C项;布雷顿森林体系的建立标志着战后国际金融体系的建立,排除A项;《关税与贸易总协定》只是一个临时性的多边贸易协定,而且美国在当时的世界贸易体系中占据着主导地位,二者都不利于世界贸易自由化的实现,排除B项;20世纪六七十年代,欧洲、日本和第三世界国家的兴起反映了世界多极化趋势的出现,排除D项。

- 11.20世纪90年代,电子商务逐渐兴起,它突破了时空限制,极大地提高了商业效率,降低了相关成本,便利了人们的生活。电子商务兴起的前提条件是 ()

- A.国际投资的发展
 B.现代信息技术的发展
 C.工业革命的深入
 D.便利的交通

B 解析:现代信息技术的发展改变了传统的交易手段,推动了电子商务的兴起,人们利用互联网技术和通信技术等进行商品、技术和服务交换,故选B项。

- 12.2022年美联储在6月、7月以及9月连续3次加息75个基点,利率由1.75%达到了3.25%,这加剧了跨境资本流动,导致美元快速回流美国;欧元、英镑、日元等经济体货币贬值压力加大,部分新兴经济体深陷债务危机。这主要反映了 ()

- A.世界经济危机周而复始
 B.世界金融体系亟须调整
 C.新兴经济体经济基础薄弱
 D.布雷顿森林体系彻底崩溃

B 解析:根据材料可知,随着美元加息,加剧跨境资本流动,导致美元快速回流美国;欧元、英镑、日元等经济体货币贬值压力加大,部分新兴经济体深陷债务危机,这说明了世界金融体系尚不完善,亟须调整,B项正确;材料没有体现世界经济危机周而复始,排除A项;材料反映的新兴经济体经济受到外部因素的影响,排除C项;1973年布雷顿森林体系已经彻底崩溃,排除D项。

- 13.阅读下列材料,回答问题。

材料一 在布雷顿森林体系以前两次世界大战之间的20年中,国际货币体系分裂成几个相互竞争的货币集团,各国货币竞相贬值,动荡不安……呈现出一种无政府状态。20世纪30年代世界经济危机和第二次世界大战后,各国的经济政治实力发生了重大变化,美国登上了资本主义世界盟主地位,美元的国际地位因其国际黄金储备的巨大实力而空前稳固。这就使建立一个以美元为支柱的有利于美国对外经济扩张的国际货币体系成为可能。

材料二 无论在华盛顿还是海外,人们对布雷顿森林体系服务美国长远利益的初衷已不再有任何疑问,然而其他国家的领导人打消了疑虑,接受这样的思想;这个体系造福美国的同时也造福世界。

——摘编自《布雷顿森林体系70年之痒》

- (1)根据材料一,概括布雷顿森林体系形成的历史背景。这一体系的主要特征是什么?
 (2)结合所学知识,指出布雷顿森林体系的主要内容。如何理解材料二中“这个体系造福美国的同时也造福世界”?

答案:(1)历史背景:第二次世界大战前国际金融领域处于一种无序状态;第二次世界大战后各国经济政治实力发生重大变化(或第二次世界大战后美国成为资本主义世界的盟主,实力空前强大);美国对外经济扩张,企图掌握世界经济霸权。

特征:以美元为中心的资本主义世界货币体系。

(2)内容:建立以美元为中心的世界货币体系(或美元与黄金挂钩,国际货币基金组织成员方货币与美元挂钩)。理解:确立美国经济霸主地位(有利美国经济扩张)的同时,(稳定世界经济秩序)促进世界贸易的发展。

解析:第(1)问第一小问,根据材料一“国际货币体系分裂成几个相互竞争的货币集团,各国货币竞相贬值,动荡不安”“20世纪30年代”“美国登上了资本主义世界盟主地位”分析作答。第二小问,材料一“这就使建立一个以美元为支柱的有利于美国对外经济扩张的国际货币体系成为可能”说明该体系是以美元为中心的资本主义世界货币体系。第(2)问第一小问,结合所学知识直接作答即可。第二小问,从对美国经济和世界经済的影响方面回答。

14. 阅读下列材料,回答问题。

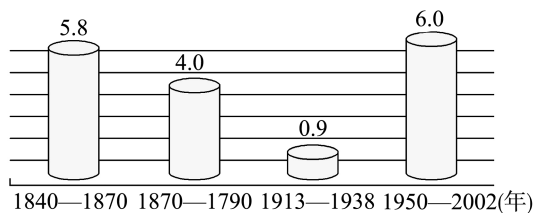
材料一 20世纪二三十年代的危机更加助长了本已严重的贸易保护主义浪潮,各国间的关税大战愈演愈烈……国际贸易进一步趋于萎缩,而这反过来又加深了危机本身。深刻的教训,促使各国开始认识到在生产国际化日益发展的背景下,广泛开展国际协调与合作的必要性。1947年4月,在美国倡导下成立关税与贸易总协定。

——摘编自杨启善《关贸总协定与复关对策研究》

材料二 关贸总协定从未得到成员国立法机构的批准,它是一个临时性的多边贸易机构,其中也没有建立组织的条款。世界贸易组织及其协议是永久性的。作为一个国际组织,世界贸易组织具有良好的法律基础,因其成员已经批准世界贸易组织协议,而且协议本身规定了世界贸易组织如何运作。

材料三 1840—2002年世界贸易年均增长率

(单位:%)



(1)根据材料一并结合所学知识,分析关贸总协定成立的背景。

(2)根据材料二,分析世界贸易组织与关贸总协定相比有何特点。结合所学知识,指出二者在宗旨和基本原则方面又有何相同点。

(3)综合上述材料并结合所学知识,你认为经济规则的制定与完善对世界贸易有何影响?

答案:(1)背景:贸易保护主义阻碍了国际贸易的发展;经济危机的教训;世界市场的发展;布雷顿森林体系的建立;美国对外经济扩张的要求。

(2)特点:常设性(永久性)的机构,具有法律强制性。相同:原则上,开放市场、非歧视性;宗旨上,实现世界贸易自由化。

(3)影响:使规范化、法制化的国际贸易体制得以确立;使世界贸易更加健康有序;推动了世界贸易的发展,加速了经济全球化。

解析:第(1)问,结合所学知识对材料一逐句概括归纳即可。第(2)问第一小问,根据材料二“临时性的”“没有建立组织的条款”“永久性的”“有良好的法律基础”等关键信息对比归纳。第二小问,结合所学知识概括二者的相同点。第(3)问,材料一、二主要论及关贸总协定到世界贸易组织规则的制定,材料三主要说明世界贸易的增长,从这两个角度归纳影响。

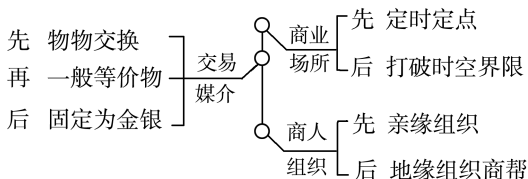
易错强化练(三) 商业贸易与日常生活

练易错

易错点1 | 商业贸易的起源与发展

[防范要诀]

1. 古代商业的发展



2. 朝贡贸易体现了一种中国政府与海外诸国官方的进贡和回赐关系。朝贡贸易往往不计经济效益,有时会耗费国家大量财力。但朝贡贸易为中国引进了许多异域珍宝,开阔了中国人的眼界,同时加强了中国与周边国家的经济文化交流,发展了中国与其他国家的友好关系。

3. 中国古代的海外贸易并非一直领先世界。中国古代由于奉行“重农抑商”政策,对外贸易受到严重影

响,虽然早在汉朝时期就开辟了陆地与海上丝绸之路,但多为政府主导。特别是明清又推行“海禁”与闭关自守的政策,使中国的海外贸易更加萎缩。

【对点集训】

1. 公元前 217 年,某商人在宛(今河南南阳)交易时使用蚁鼻钱(楚国货币),被当地官府依据《金布律》处罚。这表明 ()

- A. 秦半两钱过重使用不便
- B. 蚁鼻钱比秦半两钱值钱
- C. 蚁鼻钱非当时法定货币
- D. 秦半两钱未在楚地流通

C 解析:公元前 217 年秦已经统一了全国,并以秦半两钱作为全国通用的法定货币,因而蚁鼻钱在当时为非法定货币,故选 C 项。

2. 汉代时,从西域输入内地的货物虽然较多,但“殊方异物,四面而至”却只“盈于后宫”“充于黄门”,并没有真正流入民间社会。据此可知,当时 ()

- A. 丝路贸易具有官方性质
- B. 民间贸易规模较小
- C. 自然经济具有排外特点
- D. 区域贸易范围有限

A 解析:根据材料可知,通过丝绸之路从西域输入内地的货物,并没有真正流入民间社会,而是流入皇宫,这说明丝路贸易具有官方性质,故选 A 项;材料没有涉及民间贸易的规模,排除 B 项;自然经济与材料丝路贸易不符,排除 C 项;材料强调区域贸易的特点,而不是范围,排除 D 项。

3. 乾隆二十二年(1757 年)上谕中称:“向来洋船俱由广东收口,经粤海关稽查征税,其浙省之宁波不过偶然一至”“将来止许在广东收泊交易,不得再赴宁波”。这种做法 ()

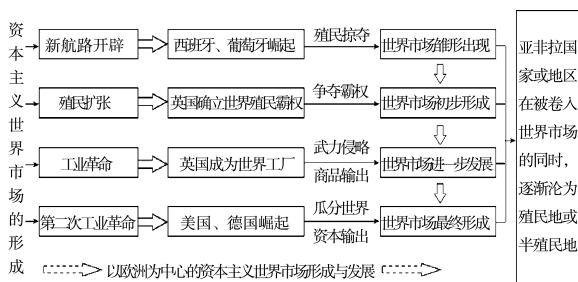
- A. 使中国逐渐落后于世界潮流
- B. 保护了国家独立和安全
- C. 促进了中国海外市场的开拓
- D. 大大加快了资本的原始积累

A 解析:材料“向来洋船俱由广东收口,经粤海关稽查征税,其浙省之宁波不过偶然一至”“将来止许在广东收泊交易,不得再赴宁波”,反映的是清朝的闭关自守的政策。该政策阻碍了商品经济和资本主义萌芽的发展,使中国逐渐落后于世界潮流,故 A 项正确。

易错点 2 | 世界市场的形成

【防范要诀】

1. 近代资本主义世界市场的形成过程



2. 正确区分世界市场的内涵

(1) 资本主义世界市场指在世界范围内通过对外贸易联系起来的各国市场的总和。

(2) 资本主义世界市场既包括资本主义国家国内市场,也包括资本主义国家控制的殖民地半殖民地市场。

【对点集训】

4. 17 世纪 30—50 年代,欧洲主要蔗糖供应地巴西因卷入战争,导致欧洲市场蔗糖供应不足,糖价上涨,荷兰人趁机把中国蔗糖输入欧洲,多时竟至 300 万磅,中国蔗糖的盈利额有时高达 7.65 倍。这一时期中国蔗糖盈利的主要原因是 ()

- A. 世界市场的扩大
- B. 荷兰殖民扩张的影响
- C. 巴西发生了战争
- D. 全球贸易体系的形成

A 解析:根据材料“荷兰人趁机把中国蔗糖输入欧洲……盈利额有时高达 7.65 倍”可知,随着新航路的开辟,世界市场扩大,中国蔗糖得以大量进入欧洲,获得高额利润,故选 A 项;当时中国蔗糖输入欧洲主要是荷兰东印度公司与中国贸易的结果,排除 B 项;巴西发生战争是次要原因,而不是主要原因,排除 C 项;此时全球贸易体系尚未形成,排除 D 项。

5. 下表为拉丁美洲国家 1930—1934 年外贸变化情况(与 1925—1929 年相比的平均增长率变化,单位:%)。这表明拉丁美洲国家 ()

国家	出口量	贸易比价	进口能力
阿根廷	-8	-20	-27
墨西哥	-25	-43	-55
智利	-33	-38	-28
拉丁美洲	-8.8	-24.3	-31.3

- A.殖民地经济脆弱性增强
B.独立运动破坏了对外贸易环境
C.对外贸易逆差不断扩大
D.对国际市场具有较强的依附性

D 解析:根据材料可知,拉丁美洲国家的出口量连年减少,贸易比价低,进口能力弱,在国际贸易中并不占据有利位置,对国际市场具有较强的依附性,D项正确;当时墨西哥已独立,不是殖民地,排除A项;B项与史实不符,排除;材料未体现贸易逆差扩大,排除C项。

练疑难

- 6.唐长安城中设有东、西两市,市下设有,如肉行、绢行、药行、鼓行、铁行等。由此可见,唐都长安 ()

- A.商业活动不再受官府监管
B.商品交易打破了空间限制
C.城市的政治功能日益减弱
D.商品交易市场专业化明显

D 解析:唐朝时,市坊分离,经营时间也有严格限制,政府严格监管,A、B两项排除;C项在材料中没有体现,且与史实不符,排除;材料“市下设有,如肉行、绢行、药行、鼓行、铁行等”说明当时商品交易市场专业化明显,故选D项。

- 7.近代欧洲,商品、粮食等各种类型乃至综合交易所先后在荷兰、英国成立;意大利、英国先后创立银行,接受存款和提供贷款;17世纪,伦敦的证券交易所成为国际证券交易的中心;法国和德国相继开办百货公司和有限责任公司;东印度公司等新型股份制贸易公司在英国和荷兰成立。由此反映出 ()

- A.近代商业经营方式发生重大变化
B.大西洋沿岸成为新的欧洲贸易中心
C.欧洲的贸易与金融发展相互促进
D.东印度公司加快殖民掠夺和资本原始积累

A 解析:根据材料可知,近代欧洲出现综合交易所、银行、证券交易所、百货公司和股份制贸易公司等,结合所学可知,新航路开辟后使欧洲发生商业革命,新的商业经营方式的出现,A项正确;B、C、D三项材料中均未涉及,排除。

- 8.“19世纪下半叶,不断扩大产品销路的需要驱使资产阶级奔走于全球各地……这些工业所加工的,已经不是本地的原料,而是来自极其遥远的地区的原料;它的产品不仅供本国消费,而且同时供世界各地消费。”上述状况反映了 ()

- A.环球航行的探索
B.资本主义萌芽的发展

- C.殖民扩张的开始
D.世界市场的形成

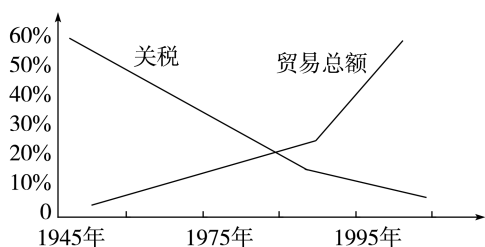
D 解析:材料“扩大产品销路”“资产阶级奔走于全球各地”“原料”“供世界各地消费”等反映了商品、人力、原料在世界市场上的流动,结合所学可知随着第二次工业革命的开展,世界市场形成,故选D项。

- 9.1947年,在美国的推动下,23个国家签署了《关税与贸易总协定》,取消了阻碍自由贸易的制约性贸易准则。美国这样做旨在 ()

- A.构建符合自身利益的贸易体系
B.加快世界一体化的进程
C.应对来自苏联方面的巨大挑战
D.解决国际上的经济争端

A 解析:第二次世界大战之后,美国拥有强大的经济实力,积极倡导建立国际贸易组织,以有利于其商品输出,于是,在美国的推动下,23个国家于1947年签署了《关税与贸易总协定》,故选A项;题干内容仅述及世界贸易的相关内容,并不能扩大为“世界一体化”,排除B项;《关税与贸易总协定》的签署与“苏联的挑战”无关,排除C项;《关税与贸易总协定》能够解决国家之间的贸易争端问题,但这并不是美国的根本目的,排除D项。

- 10.下图是第二次世界大战后世界关税平均水平和世界贸易总额变化趋势图,这种总体趋势出现的主要原因是 ()



- A.国际政治格局的变化
B.文化交流的国际化
C.跨国公司的迅猛发展
D.国际协调机制的加强

D 解析:由趋势图可以看出,第二次世界大战后关税不断下降,这需要各国相互协调,1947年签署的《关税与贸易总协定》起到重要作用,反映的是国际合作机制的加强,故选D项;材料反映的是战后经济的发展状况,不是政治格局,排除A项;材料只能反映世界贸易的发展,而不能直接反映文化交流,排除B项;跨国公司的发展与世界贸易的增长存在关系,但不是唯一关系,排除C项。

单元活动构建

商业贸易与日常生活

【主题性概述】

人类社会的商贸活动最初只是地方性行为,后扩大到国与国、洲与洲之间。丝绸之路是连接亚、欧、北非的商贸通道。货币、信贷、商业契约的出现是商品经济发达的表现,便利了商品交换,扩展了商贸活动的领域。新航路开辟后,随着资本主义在全球的扩张,世界市场逐步形成。商贸活动的内容、形式都发生了巨大变化。两次世界大战后,贸易、金融现代化加速,极大地提高了商贸效率,但也增大了金融风险。

构建任务一 中国古代商业贸易的发展

「学术性观点」

观点一 宋代城市功能由单一的维护封建统治的堡垒功能,日趋走向多样化,它的社会、商业贸易、文化消费等功能日益显露出来。最明显的就是城市生活由原来只为统治集团、贵族官僚服务开始面向下层,面向一般市民生活需求。史载,“今闾阎之卑,倡优之贱,男子服带犀玉,妇人涂饰金珠,尚多僭侈,未合古制”。城市突破了居民区和商业区的区分,中世纪前期的城市管理制度“坊市制”被十分发达的“厢坊制”取代,到了南宋中叶,不少城市又演变为“隅巷(坊)制”,坊不再是封闭式的居民区,实际上是商业与居住混杂在一起的街区。南方以自然经济区域为范围,以经济发展为驱动力,推动交通、人文方面的发展,形成一个个独具风格和特色的多功能城市,走上了经济型城市的发展道路。正是这场宋代的“城市革命”,推动了封建城市规划的变革,中国城市的发展开始了多元化的道路。

——摘编自吴刚《中国古代的城市生活》

观点二 在中国古代,交换物品的场所被称作“市”,通常设在人们经常集聚的地方。商朝就已经出现了专门从事商品交换的商人,商业贸易的范围遍及商朝统治区域以及周边的地区。这时,商业主要掌握在官府和贵族手里。春秋战国时期,“工商食官”的格局才被打破。秦汉时期,货币、车轨、度量衡的统一,促进了全国的商品流通。从隋唐到两宋,随着商品经济的发展,经济重心逐渐南移,坊市分区制度逐步瓦解,城市商业进一步繁荣,出现了纸币。元明清时期,农产品、手工业产品商品化程度提高,经济作物种植面积扩大,钱庄、票号等金融机构出现,地域性商帮形成。

——摘编自《看得见的中国史》

「开放性活动」

情境材料:宋代商品经济的发展是中国封建社会一次伟大的变革。

领域	基本特征
纸币的出现	纸币的流通是宋代商品经济发展的一个重要标志。宋代建立货币制度对我国商品经济的发展有着至关重要的作用。当时货币种类较多,如铜钱、纸币等,各地经济情况不同,使用的钱币也不同,导致货币流通具有地域性
同业行会组织的形成	宋代行会行规的形成一般由于两种原因,一种是自然形成,一种是政府制定相关法令,行会缺乏规范的管理体系,导致贫富差距较大,各阶级利益有差别,因此,行会管理存在一定的困难。行会是宋代商品经济发展的必然产物,主要是商家为了保证自身利益而形成的封建管理组织
坊市制度逐渐合并	宋代城市建设打破了传统的坊里制度,随着商业贸易活动日渐频繁,临街设置商铺的商户逐渐增加。市民的居住区和商铺相邻或连在一起,城市店铺较多,很多经营产品类似的店铺设置在一起。早市、夜市逐渐兴起,店铺营业时间较为宽松,使商业异常繁荣,为宋代经济发展创造了很高的利润,城市的格局也逐渐形成规模

——摘编自李柯辛《宋代商品经济发展特征研究》

问题:根据材料并结合所学知识,围绕材料中的观点(局部或整体),自拟一个具体论题,并运用相关史实予以阐释。(要求:观点明确,持论有据,论证充分,表述清晰)

解答:

论题:宋代是我国古代商业发展的黄金时代。

阐释:两宋时期,农业和手工业得到了长足发展,在此

基础上,商业更是空前繁荣;工商业的发展加速了城镇化进程,城镇数量大幅增加,市民阶层不断扩大,城市管理打破了自汉唐以来严格的市坊制度,商业活动完全突破了时空限制,出现了早市和夜市,城市商业气息愈加浓厚,经济职能空前加强;商品经济的发展推动了交子、会子等纸币的出现,引发货币制度的重大变革;宋朝政府高度重视海外贸易的发展,海外贸易税收甚至成为国库的重要财源,广州成为重要的外贸港口;海外贸易的兴盛也推动了东南沿海地区持续开发,使我国经济重心持续南移,至南宋时期,江南地区已成为国家的经济重心。

综上所述,宋朝商品经济非常繁荣,其发展规模与水平达到了空前的高度。

「常规性活动」

1.江苏某博物馆举办了中国古代历史图片展,在某一展厅出现了下面所示的三幅图片。这个展厅的主题最合适的是 ()



宋代纸币铜版拓片



宋代货郎图



宋代市舶司遗址

- A.宋代民族大交融
- B.海外贸易十分发达
- C.经济重心的南移
- D.宋代商业贸易繁盛

D 解析:题干涉及的图片反映了宋代商品经济发展情况,诸如乡村经济、货币以及海外贸易,这些图片证明宋代商业较为繁荣,D项正确;民族交融在图片中没有体现,排除A项;B项只是图片中的一个方面,片面解读材料,排除;题干中图片不能显示经济重心南移的情况,排除C项。

2.以下是统编版历史教科书中关于“交子”的表述,据此可以判断 ()

教科书	关于“交子”的表述
七年级下册	商贸的繁荣也促进了货币交易量的增长,但长期以来市场上流通的是金属货币,携带很不方便。北宋初期,四川地区出现“交子”
《中外历史纲要(上)》	商品流通规模的扩大,使得货币需求量剧增。北宋钱币铸造量最多时高出唐朝十多倍,并开始出现纸币——交子

教科书	关于“交子”的表述
选择性必修1 《国家制度与社会治理》	由于铜钱本身价值低下,民间又有许多铜钱被囤积或销毁重铸器皿,所以铜钱流通量仍然不足,无法满足商业贸易发展的需要,出现“钱荒”。在这样的背景下,北宋诞生了世界上最早的纸币,称为“交子”

- A.交子的出现是商业贸易发展的产物
- B.交子的出现是因为携带铜钱不方便
- C.交子的出现是因为铜钱流通量不足
- D.交子是北宋发行信用货币的尝试

A 解析:根据材料“商贸的繁荣也促进了货币交易量的增长”“商品流通规模扩大,使得货币需求量剧增”“铜钱流通量仍然不足,无法满足商业贸易发展的需要”等信息可知,交子出现是商业贸易发展的产物,A项正确;B、C两项也是交子出现的原因,但表述不够全面,排除;材料涉及的是商业发展对交子出现的推动作用,不能得出交子是北宋发行信用货币的尝试,排除D项。

3.江苏吴江盛泽在明弘治初还是一个普通的村落;嘉靖间“居民百家”“以绫绸为业,始称为市”;明末“市上两岸绸丝牙行,约有千百余家”;清康熙中期则发展到“居民有万余家”;乾隆时,“盖其繁阜喧盛,实为邑中诸镇之第一”。此现象从侧面反映了明清时期 ()

- A.市镇经济的发展极为迅速
- B.商业活动规模进一步扩大
- C.市镇的功能得到不断完善
- D.全国性商业贸易网络形成

A 解析:根据“居民百家”“以绫绸为业,始称为市”“盖其繁阜喧盛,实为邑中诸镇之第一”等信息可知,明清时期商品经济发达,城市经济繁荣,专业性市镇兴起并发展起来,A项正确;材料强调的不是商业规模,排除B项;材料没有体现市镇的功能变化,也不能说明商业网络的形成,排除C、D两项。

4.“明成祖朱棣时期,扩建了元代大运河的副线……南北间的商业贸易也在京师和大运河的发展下带动起来了。长江流域和其他南方地区的商业同样获得了发展。例如,当时徽商遍布天下,他们从事各种生意,如贩卖瓷都景德镇的瓷器、各地的茶叶和丝绸、食盐、木材以及食品等等。”对此理解正确的是 ()

- A.政治中心转移带动了长途贸易发展

- B.南方经济对北方的依赖程度加深
C.大运河发展是商帮形成的直接原因
D.商业发展导致了自然经济的瓦解

A 解析:根据材料“明成祖朱棣时期,扩建了元代大运河的副线……南北间的商业贸易也在京师和大运河的发展下带动起来了”并结合所学知识可知,明成祖朱棣迁都北京,扩建元代大运河的副线,促进了商业贸易的发展,A项正确;根据材料“长江流域和其他南方地区的商业同样获得了发展”可知,南方经济也在发展,且材料中并未涉及南方经

济对北方的依赖,排除B项;材料未涉及商帮形成的原因,排除C项;明朝自然经济并未瓦解,且仍占据统治地位,排除D项。

「活动后结论」

得出你的结论: _____

构建任务二 经济全球化的发展

「学术性观点」

观点一 中国坚持对外开放的基本国策,坚定奉行互利共赢的开放战略,不断以中国新发展为世界提供新机遇,推动建设开放型世界经济,更好惠及各国人民。中国坚持经济全球化正确方向,推动贸易和投资自由化便利化,推进双边、区域和多边合作,促进国际宏观经济政策协调,共同营造有利于发展的国际环境,共同培育全球发展新动能,反对保护主义,反对“筑墙设垒”“脱钩断链”,反对单边制裁、极限施压。中国愿加大对全球发展合作的资源投入,致力于缩小南北差距,坚定支持和帮助广大发展中国家加快发展。

——习近平在中国共产党第二十次全国代表大会上的报告

观点二 2008年国际金融危机爆发后,经济全球化进入调整期,经济全球化主要呈现出以下新特点。经济全球化的推进速度明显下降。经济全球化的内容与格局发生变化。全球治理体系加速调整。

经济全球化适应生产力在全球优化布局的内在要求,历史潮流不可阻挡。我们要在准确判断经济全球化走势的基础上,有针对性地调整对外开放战略,抓住新机遇,应对新挑战,在经济全球化进程中趋利避害。

——摘编自隆国强《经济全球化的新特点新趋势》

「开放性活动」

情境材料:15—18世纪,曾被烙上“野蛮印第安人作物”的烟草,率先成为一条经济纽带,将世界各地的市场联结在一起。以烟草为代表的北美殖民地种植业迅速扩张,催生了跨大西洋的奴隶贸易,烟草在这一时期被称作“邪恶的植物”。

19世纪工业革命到来之后,烟草在机械化生产的改造下,重塑为代表西方世界的优雅礼仪、现代都市生活方式,以及工业文明的标准化全球商品,再一

次席卷世界各个角落。20世纪前叶,在帝国主义建构的世界经济体系中,卷烟在遭受侵略、命运多舛的地区,成为代表西方文明的大众消费品。在中国,以卷烟为代表的“洋货”深刻地影响着人们对西方文明的认识,吸食“洋烟”成为一种“文明”的新实践。然而,伴随现代科学研究对吸烟危害性的发现与证实,吸烟从文明之巅,跌落到野蛮之谷,又沦为不文明的行为,吸烟与控烟的较量持续至今。

——摘编自陈雪《野蛮与文明:烟草及其所经历的全球化》

问题:根据材料并结合世界近现代史的史实,围绕“烟草”这一主题提炼观点并进行论述。(要求:观点明确,史论结合,史实准确,逻辑严密,条理清晰)

解答:

观点:烟草作为一种全球化的商品,对其看法的转变是社会发展的缩影。

论述:新航路开辟以后,西方殖民者入侵美洲,烟草与美洲文明一样,被殖民者打上了野蛮的标签,显示出殖民地种族主义者的傲慢心态。与奴隶贸易相联系,北美大规模种植的烟草也被打上“邪恶的植物”的标签,实际上反映的是殖民主义的罪恶。

随着工业革命的进行,世界殖民体系逐渐形成,全球化进程加快,西方殖民者对全球的侵略扩张进一步加强。作为全球化媒介的烟草,被打上工业化的先进标签,对落后地区来说,烟草成了代表西方文明的大众消费品,对烟草的认可也被认为是对西方文明的认可。现代社会,随着科技的进步,吸烟的危害被证实。从西方社会开始,一场反烟草的行动逐渐在全球形成,吸烟遭遇“去文明化”的作用力,这反映了历史的进步。

烟草本身是一种商品,对其看法的变化经历了一个曲折过程。这既与西方殖民侵略有关,也与烟草本身的危害有关。

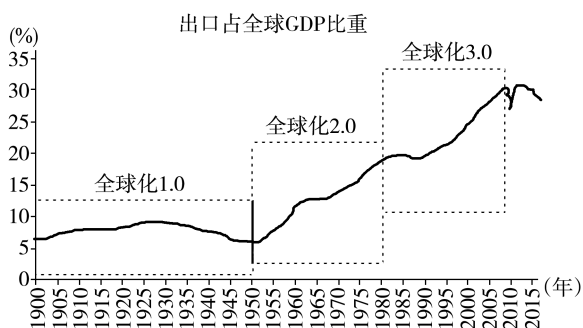
「常规性活动」

1. 据统计,1990—1998年,各类国际组织以平均每年净增2 500个的速度发展,至1998年底,国际组织总数已高达48 350个,比1990年增长了81%。国际组织的这一发展态势 ()

- A. 表明各国主权面临严峻挑战
- B. 说明世界经济新秩序已建立
- C. 使各国达成全球合作的共识
- D. 与经济全球化潮流相互促进

D 解析:根据材料可知,1990—1998年,各类国际组织数量大幅增长,这源于世界经济全球化的发展,反之国际组织的发展也会促进经济全球化的发展,D项正确;国际组织的发展与国家主权并不一定存在冲突,排除A项;世界经济新秩序仍在调整发展阶段,尚未建立,排除B项;“使各国达成全球合作的共识”说法过于绝对,排除C项。

2. 阅读经济全球化1.0—3.0的示意图。该图反映出经济全球化 ()



- A. 随着世界市场的拓展而迅速发展
- B. 对世界产生的影响日益增强
- C. 与三次科技革命是相互促进关系
- D. 是世界经济发展的主要趋势

B 解析:根据经济全球化1.0—3.0的示意图可知,经济全球化是生产要素的全球优化配置与市场开放不断发展,对世界产生的影响日益增强,B项正确;A项材料无法体现,排除;材料无法体现第一次工业革命的信息,排除C项;第二次世界大战后,经济全球化是世界经济发展的主要趋势,D项不能整体反映图示信息,排除。

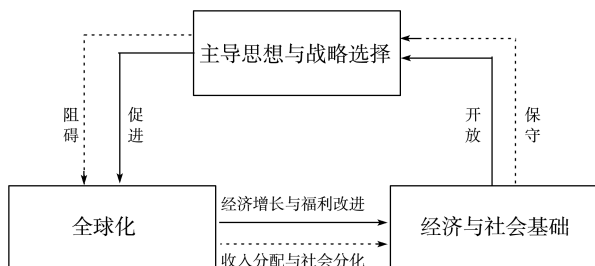
3. 有学者认为,迄今为止的经济全球化仅仅是资本的全球化,而非普惠各国的全球化。西方资本的大规模跨国流动将世界的生产和交换活动连为一体,但是从世界性的生产和交换活动中产生的经济利益,却没有在全球合理分配。这一观点旨在强调经济全球化 ()

- A. 是不可阻挡的世界潮流
- B. 给世界各国都提供了发展机遇

- C. 使各国的经济相互依存
- D. 带来全球经济发展不平衡问题

D 解析:根据材料“非普惠各国的全球化”“世界性的生产和交换活动中产生的经济利益,却没有在全球合理分配”可知,经济全球化并不是普惠性的全球化,这说明经济全球化并未实现全球经济平衡,D项正确;经济全球化是不可阻挡的世界潮流与材料主旨不符,排除A项;“给世界各国都提供了发展机遇”表述不准确,排除B项;“使各国的经济相互依存”不符合材料主旨,排除C项。

4. 有学者认为在全球化过程中带来效应的差异,会影响人们对全球化的心态,进而影响主导思想与战略选择。下图是该学者绘制的“全球化、经济基础与思想谱系的逻辑关系与动态演化图”。



全球化、经济基础与思想谱系的逻辑关系与动态演化图

对此图解读正确的是 ()

- A. 主导思想与战略选择决定全球化程度
- B. 发达国家对全球化持更加开放的态度
- C. 推进全球化应建立更公正的国际秩序
- D. 各国共同享有全球化带来的收益福利

C 解析:根据材料“全球化、经济基础与思想谱系的逻辑关系与动态演化图”并结合所学知识可知,在全球化与社会经济基础和战略思想选择之间,当全球化给参与者带来经济增长和福利改进时,参与者会对全球化持更加开放的态度,从而在思想和战略上会更加积极融入全球化,当全球化引发参与者内部社会分化严重,参与者会对全球化持更加保守的态度,从而阻碍全球化的推进,因此要推进全球化应该建立更加公正合理的秩序,让更多参与者从中获利,C项正确;决定全球化程度的是社会生产力发展水平,而非主导思想与战略选择,排除A项;材料未涉及发达国家对经济全球化的态度,排除B项;全球化的福利并非各国共同享有,排除D项。

「活动后结论」

得出你的结论: _____

第三单元质量评估

商业贸易与日常生活

(时间:90分钟 分值:100分)

一、选择题(本题包括15小题,每小题3分,共45分)

1.这一时期,“工商食官”的格局被突破,独立于政府之外的商人阶级得以形成,其地位也得到提高。这一时期是 ()

- A.商朝时期 B.西周时期
C.战国时期 D.秦汉时期

C 解析:根据所学知识可知,在战国时期,“工商食官”的格局被突破,即官府控制商业的局面被打破,故选C项。

2.《史记》记载:“汉兴,海内为一,开关梁,弛山泽之禁,是以富商大贾周流天下,交易之物莫不通。”这段记载说明 ()

- A.汉代实行重商主义政策
B.工商业成为汉代社会基础
C.国家统一促进商业发展
D.统治者实行重农抑商政策

C 解析:材料“海内为一,开关梁,弛山泽之禁,是以富商大贾周流天下,交易之物莫不通”说明国家统一促进了商业发展,故选C项。A项不符合古代经济政策;B项材料中没有反映;D项不符合材料主旨。

3.“十里长街市井连,月明桥上看神仙”,“夜市千灯照碧云,高楼红袖客纷纷”。这些诗句表明唐朝中期以后的商业活动 ()

- A.有时间限制
B.商业区和住宅区分离
C.有地点限制
D.时间和地点不再被严格管制

D 解析:根据材料“十里长街市井连”“夜市千灯”可知,商业活动的时间和地点不再被严格管制,D正确,排除A、C;材料没有体现商业区和住宅区分离,排除B。

4.飞钱又称“便换”,是中国早期的汇兑业务。元和七年(812年),唐宪宗下令,飞钱业务由户部、度支、盐铁三司统一经营,收取手续费10%,即每贯(一贯一千文)付费一百文。由材料可知,飞钱 ()

- A.降低了铜钱的需求,缓和了铸币的不足
B.是中国古代纸币的一种形式
C.可以减少商人长途携带大量货币的不便
D.可以适当增加政府的财政收入

D 解析:由题干材料信息“飞钱业务由户部、度支、盐铁三司统一经营,收取手续费10%”可知,这可以适当增加政府财政收入,故选D项。A、B、C三项在材料中没有体现,故排除。

5.汉代田契《曹仲成买地铅券》记载了光和元年(178年)十二月十五日,曹仲成从同县男子陈胡奴手中“买田六亩,亩千五百,并直九千,钱即日毕”的信息。这可用于说明汉代 ()

- A.契约订立注重程序规范
B.土地兼并现象严重
C.交换活动重视契约凭证
D.政府强化经济管控

C 解析:根据题干可知,在汉代田契《曹仲成买地铅券》中,非常明确地标明了交易的双方、时间、数量、价格等具体信息,据此可知,汉代的交换活动非常重视契约的凭证作用,故选C项;材料没有提及该田契的“程序规范”,排除A项;田契属于买卖双方的自愿行为,与“土地兼并”无关,排除B项;材料中涉及的都是买卖双方的相关内容,没有提及政府的相关信息,排除D项。

6.古代腓尼基人的商业贸易很少进行狭义的输入或输出,而是在各地寻找原料进行生产加工,然后再把生产的货物分配到与其有商业关系的各国,从中获取更大的利益。这反映出古代腓尼基人 ()

- A.确立了商业霸权
B.进行一般贩运贸易
C.残酷掠夺殖民地
D.创新了商业的形式

D 解析:根据材料“很少进行……而是在各地”可知,当时腓尼基人创新了商业形式,故B项错误,D项正确;A项材料依据不足;C项材料信息无法体现。

7. 下表反映了 ()

国别	代表	主张
古希腊	亚里士多德	提出交换正义的概念。交换正义是人们进行交易的行为准则
古罗马	盖尤斯	把债划分为契约与私权两大类
荷兰	格劳秀斯	传播了经院学者的契约理论:恪守契约是至上性的原则
英国	霍布斯	国家起源于契约
德国	康德	通过国家契约建立欧洲的统一与和平及全世界的统一与和平

- A. 契约精神是古今市场经济的本质特征
 B. 契约内涵随着时代发展而不断拓展和丰富
 C. 契约精神自古以来就是西方的主流思想
 D. 契约是关于国家和国家权力起源的学说

B 解析:材料反映了不同时期欧洲思想家的契约思想,说明契约内涵随着时代发展不断拓展丰富,故 B 项正确;材料中的契约思想并非都是经济领域的,排除 A 项;材料无法体现契约精神自古以来就是西方的主流思想,排除 C 项;D 项不能全面反映材料信息,排除。

8. 英国东印度公司创建于 1600 年,是一家由 100 多个持股人组成的股份公司。英国女王伊丽莎白一世授予该公司皇家特许状,给予它垄断“东印度”贸易的特权甚至为了利益发动战争的权利。由此可见,东印度公司 ()

- A. 是典型的资本主义性质的垄断组织
 B. 对外贸易的政治目的大于经济目的
 C. 体现了国家意志与商业利益的结合
 D. 由政府主导建立但由商人自主经营

C 解析:根据材料可知,东印度股份制贸易公司由国家授权,在“东印度”进行垄断贸易、殖民掠夺,体现了国家意志与商业利益的结合,故选 C 项;垄断组织出现于第二次工业革命时期,与材料时间不符,排除 A 项;“给予它垄断‘东印度’贸易的特权甚至为了利益发动战争的权利”说明经济目的大于政治目的,排除 B 项;“是一家由 100 多个持股人组成的股份公司”说明东印度公司由商人主导建立,排除 D 项。

9. 19 世纪后期西方某杂志上刊登了一幅漫画《英国章鱼:只吃黄金》,画中章鱼的触角从英国伸向了世界各大洲。下列对此说明正确的是 ()

- A. 反映了英国极力推行武力扩张的政策

- B. 讽刺了英国人只喜欢黄金的贪婪欲望
 C. 反映了英国工业革命成果对外的传播
 D. 揭示了世界市场与“世界工厂”的互动关系

D 解析:注意时间是“19 世纪后期”。英国的触角“伸向了世界各大洲”,说明世界市场为英国工业革命提供了原料和市场,反过来又推动了世界市场的发展,故选 D 项。

10. 近代早期欧洲的企业家组成私人公司,希望从商业贸易活动中获利。19 世纪五六十年代,英法政府颁行股份公司法,股份公司迅速成为工业社会中最普遍的企业组织形式。这表明 ()

- A. 近代早期欧洲企业以股份制为主
 B. 股份制企业私有制属性逐步改变
 C. 政府立法推动垄断组织大量出现
 D. 生产力推动企业组织形式的变革

D 解析:A 项与材料中的“近代早期欧洲的企业家组成私人公司”不符,排除;股份制企业的私有制属性没有改变,B 项错误;垄断组织大量出现是在第二次工业革命期间,与材料中的时间信息不符,排除 C 项;19 世纪五六十年代,随着工业革命的完成,欧洲一些国家通过组建股份公司进行工业生产,这是生产力发展的结果和要求。因此材料反映的是生产力的发展推动企业组织形式的变革,故 D 项正确。

11. 按照中国传统的观念,银钱账目被视为商业机密。上海轮船招商局在管理中,不仅将账目造册刊印,任凭有股权之人随时到局查阅,而且还在每年结账后于《申报》等媒体上公布账略。这一变化 ()

- A. 增强了国人兴办实业的信心
 B. 受到了西方经营模式的影响
 C. 抵御了西方列强的经济侵略
 D. 适应了民间股票交易的需要

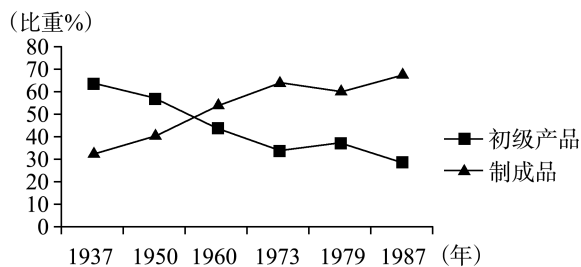
B 解析:根据材料可知,当时上海轮船招商局采用了西方股份制经营,即通过公开账目来募集资金,故选 B 项;上海轮船招商局属于洋务企业,而且当时股份制经营只在洋务企业和外资企业中出现,与国人兴办实业关系不大,排除 A 项;洋务企业的开办在一定程度上有利于抵御西方列强的经济侵略,但 C 项说法过于绝对,排除;材料并未说明上海轮船招商局的股权结构,而且上海轮船招商局主要由清政府控制,基本不用于民间交易,排除 D 项。

12. 第二次世界大战后, 资本主义国家中“国有化”“经济发展计划”等名词不断出现, 与此同时, 政府通过财政支出等手段直接采购私人企业产品, 政府的职能发生了深刻的变化。这表明当时资本主义国家 ()

- A. 国家垄断资本主义模式盛行
B. 政府采取自由主义经济政策
C. 采取混合经济的模式走出“滞胀”
D. 逐步走上计划经济的发展模式

A 解析: 根据“第二次世界大战后, 资本主义国家中‘国有化’‘经济发展计划’等名词不断出现”“政府的职能发生了深刻的变化”并结合所学可知, 第二次世界大战后, 资本主义国家发展国家垄断资本主义, 加大对经济的干预, 增强了政府的经济职能, 故 A 正确; B 与材料信息相悖, 排除; 20 世纪 70 年代出现“滞胀”现象, 资本主义国家发展混合经济, 时间与题干不符, C 错误; 资本主义国家加强对经济的干预, 并不是发展计划经济, D 错误。

13. 下图反映了 20 世纪 30 年代至 80 年代世界初级产品和制成品在国际贸易中的比重变化。从中可以推知 ()



- A. 第二次世界大战后世界经济发展不平衡加剧
B. 国际组织促进世界贸易稳定增长
C. 初级产品占世界贸易的比重持续下降
D. 技术革命使国际贸易结构发生了变化

D 解析: 图示反映了在国际贸易中初级产品比重不断减少, 制成品比重不断上升, 体现了科技革命导致国际贸易结构发生变化, 故 D 项正确。国际贸易中产品种类比重的变化不能说明经济的不平衡, 故 A 项错误。图示没有涉及国际组织, 故 B 项错误。C 项反映了初级产品的变化, 但没有体现制成品的变化, 表述不全面, 排除。

14. 下表是美国贸易禁运国家名单(部分)。据表可推知, 美国贸易禁运政策 ()

时间	1951年	1962年	1965年	1975年	1980年	1996年
国家	朝鲜	古巴	巴基斯坦	土耳其	伊朗	利比亚

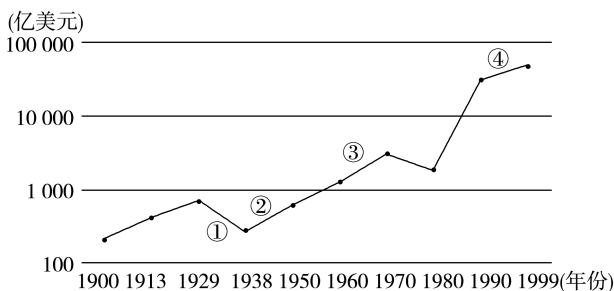
- A. 配合了冷战战略的实施
B. 缓解了国内“滞胀”危机

C. 破坏了布雷顿森林体系

D. 加剧了地区紧张局势

D 解析: 根据材料并结合所学知识可知, 美国对一些国家采取贸易禁运措施都是在地区冲突的时候, 如对朝鲜禁运是在朝鲜战争时期, 对古巴禁运是在古巴导弹危机时期。由此可推知, 美国贸易禁运政策加剧了地区紧张局势, D 项正确; 1996 年时冷战已经结束, 所以美国贸易禁运政策不全是为了配合冷战战略的实施, 排除 A 项; “滞胀”危机发生在 20 世纪 70 年代, 与材料事件不完全符合, 排除 B 项; 布雷顿森林体系是国际金融体系, 与美国贸易禁运政策无关, 排除 C 项。

15. 观察下面的 20 世纪世界贸易额变化折线图。对不同阶段影响因素的分析, 正确的是 ()



- A. ①: 威斯特伐利亚体系内矛盾重重
B. ②: 全球初步建立直接的商业联系
C. ③: 股份制公司大规模出现和发展
D. ④: 冷战结束和世界贸易组织成立

D 解析: ④处于 1990—1999 年, 这一时期世界贸易额迅速增长, 与 1991 年苏联解体, 冷战结束, 1995 年世界贸易组织成立, 推动了世界贸易的发展有关, 故选 D 项; ①处于 1929—1938 年, 这一时期世界贸易额下降, 主要是由于经济危机的爆发, 而且威斯特伐利亚体系在 19 世纪初就已经解体, 排除 A 项; ②处于 1938—1950 年, 而全球初步建立直接的商业联系是在新航路开辟后, 排除 B 项; ③处于 1960—1970 年, 而股份制公司大规模出现和发展是在两次工业革命时期, 排除 C 项。

二、非选择题(本题包括 4 小题, 第 16 题 12 分, 第 17 题 12 分, 第 18 题 18 分, 第 19 题 13 分, 共 55 分)

16. (12 分) 阅读下列材料, 回答问题。

材料一 平遥票号日昇昌名扬九州, 享誉全球……首开中国票号业先河, 成为中国银行业的“乡下鼻祖”, 使全国性的货币流通形式发生了质的变化, 促进了清代中叶以后商品经济的迅速发展。

——摘编自王夷典《日昇昌票号》

材料二 明清时期城市商业组织上有新的变化。唐宋的飞钱、便换, 至此形成票号、钱庄。行、团等

行业组织发展成会馆、公所。这种行会性组织对本组织之外新设店铺有严格的限制——需有人作保,交纳很多的银两作公费,并宴请同业,否则不准设店营业,对内控制也较强,规定了行规,违反行规者开会议罚,对外争议由本行“董事”出面交涉。所有这些特点都标志着城市商业已发展到一个更高更新的水平。

——摘编自吴慧《中国古代商业》

(1)根据材料一,用一句话概括日昇昌票号的历史地位,并结合所学知识,简述其创立的背景。(6分)

(2)根据材料二,概括明清时期城市商业组织出现的“新的变化”。(6分)

答案:(1)地位:中国最早的私人金融机构。背景:清代商品经济的发展;晋商等大商帮形成跨地区经营商业系统;现银交易的不便。

(2)变化:形成票号、钱庄;行业性组织发展成行会性组织;行会有规范的管理、运作程序;行会的垄断色彩浓厚。

解析:第(1)问第一小问,根据材料一“开中国票号业先河,成为中国银行业的‘乡下鼻祖’”得出答案;第二小问,结合所学知识得出答案。第(2)问,根据材料二“唐宋的飞钱、便换,至此形成票号、钱庄”“行、团等行业组织发展成会馆、公所。这种行会性组织对本组织之外新设店铺有严格的限制——需有人作保,交纳很多的银两作公费,并宴请同业,否则不准设店营业”等信息概括回答。

17.(12分)阅读材料,回答问题。

材料 20世纪自由贸易的发展演变

时间	事件
1918年	美国总统威尔逊提出建立一战后世界和平的纲领,其中包括取消一切贸易壁垒、国际贸易计划均等
1941年	美、英发表《大西洋宪章》,宣布所有国家都应在平等的基础上进行贸易。后该原则被26个国家签署的《联合国宣言》确认
1946—1948年	美国向联合国提议,成立一个以自由贸易为原则的国际贸易组织。23个国家参加的关贸总协定生效,重要目标是削减关税和消除贸易壁垒,实现贸易自由化等
1995年	世界贸易组织成立,其宗旨和原则与关贸总协定基本一致

——摘编自金卫星《从“门户开放”到世界贸易组织

——20世纪美国全球扩张战略的历史轨迹》

(1)根据材料并结合所学知识,简析第二次世界大战后美国提议创建国际贸易组织的目的。(4分)

(2)根据材料并结合所学知识,说明自由贸易在20世纪的发展趋势和作用。(8分)

答案:(1)目的:避免重蹈经济危机的覆辙,促进美国经济的发展;确立美国在国际贸易中的主导权。

(2)趋势:从少数国家提倡到大多数国家接受;从原则理念发展到制度体系(或制度化或法制化或规范化或体系化,任答一个即可)。作用:消除贸易壁垒,促进世界贸易发展,推动经济全球化;促进各国经济增长。(任答两点均可)

18.(18分)阅读下列材料,回答问题。

材料一 苏联史研究专家闻一在他的著作《凯歌悲壮》里,把苏俄(联)的历史分为五个时期:凯歌年代、退却年代、剥夺年代、战争年代和战后年代。他认为1921—1927年是苏俄(联)历史上的“退却年代”,20世纪30年代是苏联历史上的“剥夺年代”。1934年,法国作家罗曼·罗兰到苏联访问之后写下了《莫斯科日记》,书中写道:“目前这些政策包含着某种消极的东西,这是不可避免的。我丝毫不怀疑,世界更美好的未来是与苏联的胜利连在一起的。”

材料二 他是一个精明的统治者,在驾驭政府与时代方面有无与伦比的胆略和才能,又由于他在内政方面的巨大建树和在与法西斯斗争中的不朽功绩,而被世人公认为同华盛顿、林肯相比肩的美国历史上最伟大的总统之一。是他,把美国人民从苦难和经济大萧条中拯救出来,扩大了中央政府的权力,首创干预经济生活的先例。

材料三 在20世纪80年代初期的中国领导层看来,中国1977年全年的农业成就是不能满足本国需要的,其失误在于计划不周和管理不力,在于农民缺乏努力工作和发挥积极性的动力。毛泽东及其同僚依靠组织方式上的变化,通过大规模的劳力动员,以实现农业奇迹;邓小平及其同僚同样依赖改变组织方式——只是两种组织变化十分不同——来提高农业生产率。

——摘编自费正清《剑桥中华人民共和国史》

(1)材料一中的“退却年代”指什么?你如何理解罗曼·罗兰所说苏联20世纪30年代这些政策“包含着某种消极的东西”?(6分)

(2)材料二中的“他”对资本主义发展模式的突出贡献是什么?请用全球史观评价“他”的贡献。(6分)

(3)根据材料三并结合所学知识,指出以后一种

“组织方式”为开端,我国的经济体制作出了怎样的政策调整,取得了什么成就。(6分)

答案:(1)“退却年代”:实行新经济政策,部分恢复发展资本主义。理解:在苏联高度集中的计划经济体制下,片面发展重工业导致国民经济比例严重失调;人民生活水平提高缓慢,农民的利益牺牲太多。

(2)贡献:开创了国家干预经济的新模式。评价:为其他资本主义国家所借鉴,第二次世界大战后,资本主义国家普遍推行国家干预经济发展的政策。

(3)调整:进行经济体制改革;建立起社会主义市场经济体制。成就:中国经济飞速发展,2010年,中国经济总量超越日本成为仅次于美国的世界第二大经济体。

解析:第(1)问,“退却年代”指的是实行新经济政策,部分恢复发展资本主义;罗曼·罗兰认为“苏联模式”下优先发展重工业,导致国民经济比例失调,据此结合“苏联模式”总结回答。第(2)问第一小问,根据材料二“是他,把美国人民从苦难和经济大萧条中拯救出来,扩大了中央政府的权力,首创干预经济生活的先例”并结合所学知识可知,“他”指的是罗斯福,罗斯福新政开创了国家干预经济的新模式;第二小问,结合国家干预经济模式的深远影响进行分析。第(3)问第一小问,后一种“组织方式”指的是农村经济体制改革,联系1992年确立经济体制改革目标,改革高度集中的计划经济,建立社会主义市场经济等知识回答;第二小问,结合改革开放后中国经济发展的相关知识归纳即可。

19.(13分)阅读材料,回答问题。

材料 纵观世界近代史,世界市场的产生和形成过程,正是国际贸易从西欧,从环地中海区域逐渐扩展到非洲、亚洲、南北美洲及大洋洲的历史。15世纪末16世纪初,新航路的开辟,揭开了国际贸易向世界规模发展的序幕。地理大发现使国际贸易发生革命性突破——欧洲商业革命。国际市场的规模日益扩大为世界市场。18世纪60年代,一场产业革命从英国迅速扩散到欧陆和北美,机器大工业把所有地方性的小市场联合成为一个世界市场。欧洲的资产阶级,尤其英国人奔走于世界

各地,到处扩张、到处创业、到处建立联系,进一步开拓了世界市场。19世纪晚期20世纪初,世界市场最终确立。所以,世界市场是国际市场的总和,是国际贸易发展到全球规模的结果。国际贸易的存在与发展是世界市场形成的基础和历史前提。随着世界市场的形成,“历史就在愈来愈大的程度上成为全世界的历史”。

——摘编自孙明《概述近代世界市场的形成及其经济意义》

根据材料并结合所学知识,就材料整体或其中任意一点拟定一个论题,并予以阐述。(要求:观点明确,史论结合,表述清晰,不能重复材料)

答案:示例

论题:世界市场的形成和发展具有阶段性特征。

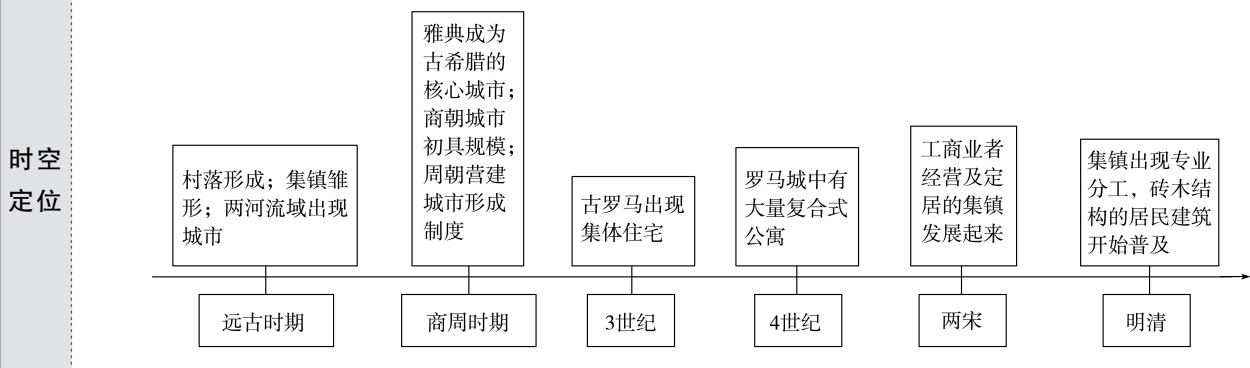
阐述:16—18世纪中期,在新航路开辟的影响下,世界打破了相互割裂状态,国际贸易范围空前扩大;欧洲商人和殖民者直接同世界各地建立起商业联系,世界市场初步形成。18世纪中期至19世纪六七十年代,在工业革命的推动下,资本主义列强向殖民地和半殖民地地区大量输出工业品,掠夺工业原料,使亚非拉更多国家沦为殖民地、半殖民地,成为资本主义经济的附庸。19世纪末20世纪初,在第二次工业革命的推动下,资本主义列强瓜分世界完毕,奴役和控制了世界上大部分土地和人民,世界经济连成整体,世界市场最终形成。因此,世界市场是逐步形成和不断发展的,具有阶段性特征。

解析:紧扣设问、明确方向,围绕世界市场拟定一个论题,然后结合所学的近代史中关于世界市场的知识进行阐述。据材料“纵观世界近代史,世界市场的产生和形成过程,正是国际贸易从西欧,从环地中海区域逐渐扩展到非洲、亚洲、南北美洲及大洋洲的历史”“15世纪末16世纪初……18世纪60年代……19世纪晚期20世纪初,世界市场最终确立”等信息,可得出论题:世界市场形成发展具有阶段性特征。阐述时,结合所学知识,从新航路开辟、工业革命、第二次工业革命三个阶段来描述世界市场的发展过程。最后,简明扼要地概括:世界市场是逐步形成和不断发展的,具有阶段性特征。做到既呼应论题,又升华论题。

第四单元 村落、城镇与居住环境

第10课 古代的村落、集镇和城市

- 任务目标**
1. 了解人类居住条件的变迁及各地民居的差异及其特征。
 2. 了解古代的村落、集镇和城市形成的原因及影响。



问题式预习

一、村落的产生

1. 人类居住形式的演变：穴居—巢居—半穴居—地面筑屋。^[1]

2. 村落

原因	农业出现以后，人们筑屋定居，形成村落 ^[2]
表现	最早出现在两河流域。埃及的尼罗河流域、印度的印度河和恒河流域、中国的黄河、长江和辽河流域等，也存在着大量的原始村落遗址
特点	村落建有住宅、仓廩、地窖和公共活动场所等
影响	为人们的定居、繁衍和防卫提供了条件和保障，也为人们进行集体活动提供了便利

二、集镇的出现

1. 集镇的兴起^[3]

(1) 原因：社会生产力的发展。

(2) 形成：原始社会末期，手工业与农业分离，手工业者开始在便于交换的地方集聚，形成了古代集镇的雏形。商人和手工业者在聚居的地方筑垒设防，形成集镇。

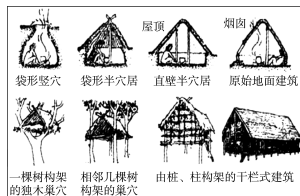
2. 中国古代的集镇^[4]

(1) 形成：主要是为军事目的而设。

(2) 发展(连线)

- | | |
|-----|------------------------------|
| ①两宋 | a. 漕运和海运发达，运河沿岸兴起了很多工商业集镇 |
| ②元朝 | b. 集镇进一步发展并出现专业分工 |
| ③明清 | c. 工商业者经营及定居的集镇发展起来，促进了市场的繁荣 |

[1] 人类居住形式的演变



[2] 村落的形成与自然因素的关系

自然因素中的气候、河流、水源，人文因素中的政治、军事、宗教、交通农业生产方式等都会影响村落的形成。先民在建造村落时，充分考虑了地形、气候、采光等条件，其中地形条件是影响村落的最主要因素。

三、城市的产生

1.产生:约公元前3500—前3100年,两河流域苏美尔人生活的地区形成了一些居民中心,几个较大的居民中心结成城市。

2.定义:城市是一定区域内政治权力、军事防御、经济活动、宗教祭祀的中心场所。

3.中国古代的城市

- 布局——宫殿区、手工业区和商业区、居民区
- 发展——
 - 商朝:城市已初具规模,统治者的宫殿和宗庙位于城市的中心
 - 周朝:营建城市形成制度,城邑分为三等,即天子王城、诸侯都邑、卿大夫的采邑,各有定制

4.西方古代的城市(连线)^[5]

- ①古希腊 — a.城市道路系统和供水排水系统,成为后来西方城市建设标准
- ②古罗马 — b.出现了一些以手工业者和商人为核心的新型城市和城镇
- ③欧洲中古时期 — c.城市布局中已反映出行政、防御、宗教和商业的功能

四、世界各地的民居

1.影响因素:居住地的自然环境、社会经济水平和文化习俗。

2.主要的民居概况^[6]

(1)两河流域:人们用黏土和芦苇混合制成的土坯建造房屋,用木材作栋梁。由前庭、前室、主室构成。

(2)古埃及:大多数建筑用泥和木材修建。房屋具有防晒保温功能,有些房屋会留些小洞或小窗,庭院是家庭活动的场所,院落的周围有柱廊。

(3)古代中国:巢居和穴居是最早的两大类型。

①巢居多营建于南方,后发展为干栏式民居。穴居多营建于北方,后逐渐升至地面,形成地上建筑。

②自先秦以来,中国民居的设计遵循严格的等级观念和礼仪制度。住宅的布局讲求对称,主次分明,院落有序。民居普遍采用木构抬梁结构。

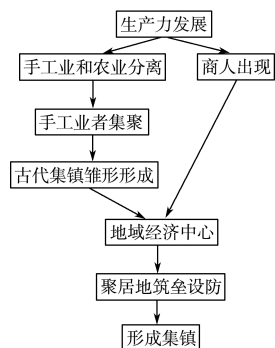
③明朝时,砖木结构的民居建筑开始普及。现存的明清民居类型主要有窑洞、四合院、徽派民居、福建土楼等。

(4)古希腊罗马的民居有何特点?

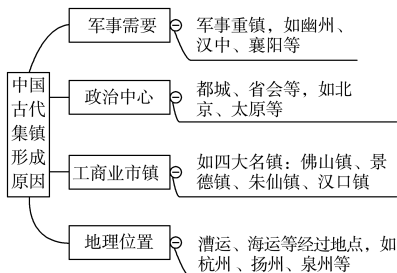
带有列柱围廊的中庭是民居的核心。古罗马住宅以木、石、砖为主要材料,后来混凝土逐渐得到普及。混凝土、拱券和希腊柱式相结合,成为古罗马建筑最主要的特征。3世纪时,古罗马出现集体住宅、复合式公寓,对后世影响深远。

(5)美洲:北美大平原的印第安人住在圆锥形的帐篷中;亚马孙雨林的印第安人住在圆形的公共居所中。

[3]集镇的出現



[4]中国古代集镇形成的原因



[5]中古时期欧洲城市的特点

(1)多为自发形成,很少有按规划建设建造的。

(2)城市中围绕着公共广场组织各类设施以及狭小、不规则的道路网结构。

(3)手工业、商业兴起和繁荣,一些城市形成自治市。

(4)公共建筑占据城市空间的主导地位。

[6]世界各地民居特色与自然環境

(1)东南亚炎热多雨地区,为了更好地通风散热、隔潮,多建墙体单薄、屋顶坡度大的高架屋。

(2)西亚终年炎热干燥,为了减少热量的传递和风沙的入侵,多建窗小平顶的碉堡房。

(3)寒冷的北极地区,为了抵御严寒,其民居为冰屋。

(4)黄土高原地区,当地居民依据黄土的直立性质,挖掘了冬暖夏凉适宜居住的窑洞。

任务型课堂

任务一 古代中西方城市的比较

[探究活动]

材料一 汉长安城是当时世界上规模最大的都城,选建在宽阔的关中平原上,一共有12座城门,一门三道,中间的门道专供天子使用,行人左出右入,城内的道路规整,布局与形制按照《周礼·考工记》的儒家礼制思想设计营造。汉长安城的礼制建筑位于南郊,有宗庙、辟雍和社稷遗址等。统治中心位于中、南部,市场、民间手工作坊和闾里集中在城北。东市、西市具有重要的商业功能,城门管理严格,主要服务于达官贵族。汉长安城布局上所表现出的崇方思想、择中观念、规整的城门配置制度、棋盘式道路网,以及“前朝后市”和“左祖右社”的布局等在中国古代都城发展过程中有着典型意义,对后代都城的营建影响深远。

——摘编自徐卫民《汉长安与古罗马城政治功能比较研究》

(1)根据材料一并结合所学知识,概括汉代长安城的特点及其形成因素。

提示:特点:规模大,规划整齐,布局合理;以政治功能为主;体现集权和统治秩序;规范化、制度化管理。因素:中央集权制度;儒家思想和宗法观念;自然地理条件;小农经济。

材料二 古罗马城的建设经历了王政时代、共和国时代、帝国时代三个阶段。共和国时期,为了防止外敌入侵,罗马人不仅将罗马城进一步扩大,修建了周长10千米,厚近4米、高7米多的城墙,并建造了坚固的城门、塔楼、碉堡等工程。公元前1世纪,罗马城已经拥有100万的人口,无论从地理上还是从政治上,都是罗马帝国的中心。罗马城内工商业发展迅速,金融、行会、高利贷业也有很大发展。当时手工业作坊密布于城市街区,手工行业达数十种。从帝国建立到公元180年左右,为歌颂权力、炫耀财富、表彰功绩,建造了一大批凯旋门、纪功柱和以皇帝命名的广场、神庙,此外,剧场、圆形剧场与浴场等亦趋于规模宏大与豪华富丽。罗马帝国的皇帝好大喜功,建造了越来越宏伟的建筑,也导致罗马帝国逐渐走上了衰败之路。

——摘编自迈克尔·格兰特《罗马史》等

(2)根据材料二并结合所学知识,指出与汉代长安城相比古罗马城的不同之处。

提示:建设周期更长;商业功能突出;体现出罗马皇帝好大喜功、喜好奢靡。

[评价活动]

(1)北宋东京以坊巷为骨架的城市面貌颇具特色,皇城正南的御路两旁有御廊,允许商人交易,州桥以东、以西和御街店铺林立,潘楼街亦然。这反映了()

- A.商业区奢靡之风盛行
B.市已突破了时间的限制
C.主要街道成为繁华商业街
D.市开始发展为常设的商业区

C 解析:材料显示,北宋东京城中主干道两旁有御廊,允许商人交易,州桥以东、以西和御街店铺林立,潘楼街亦然,这说明当时商业围绕主干道展开,形成商业街,C项正确;材料并未反映当时的社会风气,排除A项;材料反映的是北宋城市突破了空间限制,排除B项;D项中的“开始”表述错误,排除。

(2)从公元前8世纪初开始的200多年间,由于人口增多,希腊的众多城邦组织本邦的部分居民向外迁移,另立家园,建立起140多座新的城邦,奠定了古代希腊的广阔疆域。这些行动()

- A.形成了“众星捧月”的政治格局
B.扩大了地中海贸易圈
C.具有殖民扩张、争夺霸权的特征
D.瓦解了城邦民主政治

B 解析:A项在材料中未体现,故排除;新城邦拓展了古希腊的疆域,扩大了对外贸易的范围,故B项正确;材料没有体现古希腊的对外移民具有争夺霸权的特征,故排除C项;海外城邦的建立并没有瓦解城邦民主政治,故排除D项。

任务总结

中国古代与中世纪西欧城市差异的原因

- 1.中国古代城市建立在自给自足的小农经济基础之上,一般不是以社会分工和工商业发展为前提,而是以政治需要为条件,由封建国家有计划地建立起来的;而西欧城市则建立在商品经济较为发达和社会分工较为明确的基础之上。
- 2.在中世纪的西欧,大多没有形成绝对的专制君权;而中国古代建立起强大的中央集权制度。

任务二 世界民居文化风格的多样化

[探究活动]

材料一 中国传统民居的一个显著特点是基本上均采取以庭院为核心的内向性布局,且虽经几千年沿袭发展,却恒久未变。庭院空间得到如此器重,显然是与中国特有的传统风俗和更深的文化底蕴分不开的。实质上中国建筑中的传统院落空间就是中国传统文化的一个载体,其中所蕴含的丰富的生态思想在中国民居文化中占据着重要地位。

——摘编自石开琴《浅析中国古代民居的
建筑结构的特点》

(1)根据材料一并结合所学知识,概括中国古代民居的特点。

提示:中国传统民居注重以庭院为核心的内向性布局;受儒学的影响,民居的设计遵循严格的等级观念和长幼有序的礼仪制度;中国传统民居是中国传统文化的载体;中国的传统民居建筑形式多样,反映出丰富多彩的民族文化,凝聚着民情、民俗和乡土气息,也散发着儒家文化的精神气质。

材料二 古罗马人沿袭亚平宁半岛上伊特鲁里亚人的建筑技术(主要是拱券技术),继承古希腊建筑成就,在建筑形制、技术和艺术方面广泛创新的一种建筑风格。在公元1—3世纪为极盛时期,古罗马世俗建筑的形制相当成熟,与功能结合得很好,多层公寓常用标准单元,能满足各种复杂的功能要求,能够覆盖复杂的内部空间,拱券结构在古罗马建筑中得到了大力推广,此外,古罗马建筑的木结构技术已有相当水平。

——摘编自林茵、李想主编
《外国建筑艺术辞典》

(2)根据材料二并结合所学知识,归纳概括古罗马在建筑方面取得的成就,并分析其产生的影响。

提示:成就:在继承古希腊建筑成就的基础上形成了自己的建筑风格;建筑形制成熟,多层公寓的出现,满足了人们的住房需求;拱券结构在建筑中得以推广,成为古罗马建筑的特征。影响:古罗马的建筑风格在日后欧洲的建筑史上留下浓厚一笔;多层公寓成为集体公寓式楼房的原始形态,对后世的建筑影响深远。

[评价活动]

(1)(2022·海南卷)船型屋是海南黎族先民的住所。其形如倒扣木船,通常高2.5米左右,“屋宇以

竹为棚,下居牲畜,人处其上”。人们用树皮捆绑梁柱固定房架,以细长树枝或竹片编成网状骨架,上覆茅草制成屋顶,在前后墙壁涂上泥巴建成房屋主体。这说明船型屋的建造取决于 ()

- A.人们的审美观念 B.经济发展水平
C.集体劳作的形式 D.传统文化习俗

B 解析:根据材料“人们用树皮捆绑梁柱固定房架,以细长树枝或竹片编成网状骨架,上覆茅草制成屋顶,在前后墙壁涂上泥巴建成房屋主体”可知,经济决定文化,海南黎族先民由于生产力水平较低下,他们只能就地取材,建造船型屋这种简陋的住所,B项正确;人们的审美观念属于主观因素,而题干问的是决定因素,排除A项;集体劳作的形式有助于推动船型屋的建造,但不是决定性因素,排除C项;传统文化习俗只是对船型屋的建造产生一定影响,排除D项。

(2)下图所示是古罗马复合式公寓模型。这一类型建筑在古罗马大量出现的主要原因是 ()



- A.古希腊文化的影响
B.适应气候类型的特点
C.工商业发展的需要
D.缓解人口剧增的需要

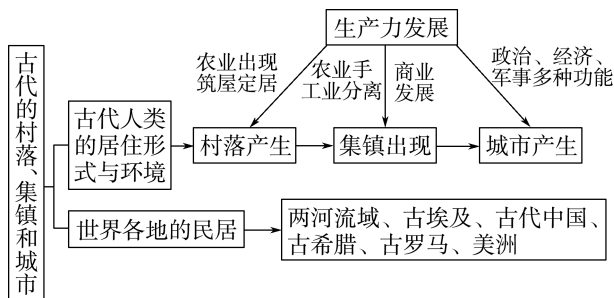
D 解析:复合式公寓的出现缓解了古罗马人口剧增的压力,故选D项;A、B、C三项都不是主要原因,排除。

任务总结

古代世界各地民居及特色

- 1.重视环境,因地制宜,就地取材,多处阳光地段,是全世界地方性民居的建筑特色。
- 2.世界各地的房屋多是以天然材料修建的,天然材料的运用构成地方性民居的主要特征。
- 3.世界各地的乡土民居还反映当地居民的文化习俗,并融汇于地方性的自然生态环境之中,民居的地域性特征表现出民族、文化、传统和社会习俗等诸多要素,例如传统的四合院多反映方正严明的哲理思想和秩序,表现出建筑群体组合中渐进的层次、向心的朝内院的家族组合体,堂屋是家庭生活的核心。

► 提质归纳



1. 人类进入文明之前经历了从穴居、巢居、半穴居到

地面筑屋的演变。农业产生以后,人类逐渐形成村落。

2. 古代的城镇分为工商业集镇、军事型集镇、行政型集镇,这三种类型的集镇在一定的条件下会发生转化。

3. 城市是一定区域内政治、军事、经济和文化活动的中心。

4. 世界各地的民居因地而异,各具特色,反映了其所在地的自然环境、社会经济发展水平与文化习俗的特点。

课后素养评价(十) 古代的村落、集镇和城市

基础性·能力运用

知识点 1 村落的产生

1. 早期的村落一般位于大河流域或者临近水源适合人类发展的地区,这说明 ()

- A. 地理环境影响村落位置
- B. 采集经济是主要的经济
- C. 渔猎是古人主要的活动
- D. 社会经济决定村落选址

A 解析: 根据材料“早期的村落一般位于大河流域或者临近水源适合人类发展的地区”可知,地理环境影响村落位置,故选 A 项。B、C、D 三项叙述符合史实,但与材料主旨不符,排除。

2. 下列关于原始村落的说法,正确的是 ()

- A. 原始村落以血缘关系为纽带
- B. 原始村落的形成受政治因素影响
- C. 原始村落在食物采集时期出现
- D. 原始村落的分布由地理环境决定

A 解析: 原始村落产生于氏族公社阶段,具有浓厚的血缘关系,故选 A 项;早期村落与政治因素关系不大,排除 B 项;原始村落出现在食物生产时期,排除 C 项;村落形成、发展由生产力水平决定,受地理环境影响,排除 D 项。

知识点 2 集镇的出现

3. 明初,苏州府的吴江县震泽镇有“千百家”;到了乾隆年间,“居民且三千家”“栋宇鳞次,百货俱集,以贸易为事者,往来无虚日”。由此可见,清初 ()

- A. 农村集镇发展迅速
- B. 经济重心开始南移

C. 城市功能不断完善

D. 农耕文明渐趋衰落

A 解析: 据材料“到了乾隆年间,‘居民且三千家’‘栋宇鳞次,百货俱集,以贸易为事者,往来无虚日’”可以看出,清初江南市镇居民数量多、规模大,商业繁荣,故选 A 项。古代经济重心南移始于魏晋南北朝时期,排除 B 项;材料不能体现除经济以外的其他功能,排除 C 项;材料不能体现农耕文明的衰落,排除 D 项。

知识点 3 城市的产生

4. 《东京梦华录》卷三“防火”条目,详细介绍了包括望火楼在内的北宋东京消防组织系统:“每坊巷三百步许,有军巡铺屋一所……又于高处砖砌望火楼,楼上有人卓望。下有官屋数间,屯驻军兵百余人。”这反映了东京城 ()

- A. 坊市制度被打破
- B. 城市职能的发展
- C. 火灾现象较严重
- D. 政府管控的加强

B 解析: 根据材料“每坊巷三百步许,有军巡铺屋一所……又于高处砖砌望火楼,楼上有人卓望。下有官屋数间,屯驻军兵百余人”可知,随着城市商品经济的发展,城市规模不断扩大,城市的管理也要相应地调整,涉及城市消防的事宜受到重视,说明城市的职能有所变化,更加完善, B 项正确;材料体现的是城市消防,与坊市制度无关,排除 A 项;仅据城市中的消防建设,并不能证明火灾一定严重,排

除 C 项；材料体现的是政府的职能，而不是对城市的管控，排除 D 项。

5. 昌昌古城位于南美洲，属于古印第安文明。城市里有上万座建筑，主体为土砖；其中有若干城堡，城堡内一般有复杂的水道系统，院墙有精美图案装饰；城堡外为普通居民区。该古城建设 ()

- A. 蕴含了农耕文明的理念
- B. 凸显了阶级社会的等级观念
- C. 突出了城市的经济功能
- D. 适应了复杂多变的气候环境

B 解析：根据材料“有若干城堡，城堡内一般有复杂的水道系统，院墙有精美图案装饰；城堡外为普通居民区”可知，昌昌古城城堡内是统治阶层的区域，而城堡外是普通居民区，凸显了阶级社会的等级观念，B 项正确；古城建设中布局无法反映农耕文明，排除 A 项；城堡突出的是军事和政治功能，并未涉及经济功能，排除 C 项；仅从材料无法得出该古城所处地区的气候特点，排除 D 项。

知识点 4 世界各地的民居

6. 中国古代的四合院中，正房房屋的开间进深都较大，台基较高，多为长辈居住，东西厢房开间进深较小，台基也较矮，常为晚辈居住，后院有一排较为矮小的房屋，叫作后罩房，多为女佣人居住，或为库

房、杂间。这一居住格局 ()

- A. 体现了传统社会敬天保民的思想
- B. 深受严格的宗法等级观念的影响
- C. 成为小农经济下普遍的建筑样式
- D. 反映了封建体制下家国同构特点

B 解析：根据材料可知，中国古代四合院的院落方正、正房、后院、东西厢房布局规范，结合所学中国古代民居的史实可知，这一居住格局深受宗法等级观念的影响，故选 B 项。

7. 受当地雨水稀少、缺乏木材资源的制约，人们用黏土和芦苇混合制成的砖块建造房屋。这里的“人们”指的是 ()

- A. 古西亚人
- B. 古埃及人
- C. 古希腊人
- D. 古罗马人

A 解析：两河流域雨水稀少，没有森林，缺乏木材，所以当地人们（古西亚人）用黏土和芦苇混合制成的砖块建造房屋，故选 A 项；古埃及大多数房屋用泥和木材修建，不符合题干中的“缺乏木材资源”这一条件，排除 B 项；古希腊住宅多用木、石、砖为主要材料，与题干信息不符，排除 C 项；古罗马住宅多用木、石、砖为主要材料，后来发展为混凝土为主要建材，与题干信息不符，排除 D 项。

综合性·创新提升

8. 明中期汉水改道后，汉口逐渐转变为良港，各处商民集聚，逐渐成为“甲于全楚”的商业巨镇。清朝中期以后，汉口镇形成了白布街、棉花街等专业街肆，汉口堡等防卫设施渐次拆除。这一变化反映了 ()

- A. 商业分工趋于弱化
- B. 汉口交通条件的改善
- C. 抑商政策日益松弛
- D. 集镇经济功能的增强

D 解析：根据材料可知，汉口的集镇经济功能增强，军事职能相对减少，故选 D 项；材料反映商业分工强化而非弱化，排除 A 项；材料仅涉及汉口经济职能的强化，没有明确交通情况和经济政策的变化，排除 B、C 两项。

9. 古代希腊城市呈现出非对称分散式的群体空间布局，并且建设广场、剧院；而中国古代城市一般严整规矩，中轴线明显，公共空间有限。这种差别反映了二者 ()

- A. 经济水平的高低
- B. 艺术品位的不同
- C. 国家形态的区别
- D. 政治文明的差异

D 解析：根据材料可知，开放的空间适应了古希腊民主政治的要求，中国公共空间有限是与等级森严的封建伦理文化相对应的，体现了封建皇权对社会空间的严密监控，故选 D 项；中西城市公共空间的差别适应了各自政治文明，与经济水平的高低无关，排除 A 项；艺术品位是一个人的艺术价值观、审美观、人生观的综合体现，与材料无关，排除 B 项；国家形态与材料无关，排除 C 项。

10. 出现在古罗马时代的公寓墙上的一则广告：“从7月1日起，店铺及其附带的前廊、楼上的公寓和宽敞的居室将被出租，打算承租的人可与格纳埃乌斯·阿雷乌斯·尼基迪乌斯·梅乌斯的奴隶普利姆斯商约。”由此可见，当时的罗马（ ）

- A. 有复合式公寓的建筑形态
- B. 买卖房屋有一定的程序
- C. 城市管道系统比较完备
- D. 限制了贵族的权力滥用

解析：根据材料“店铺及其附带的前廊、楼上的公寓和宽敞的居室”可知，当时罗马有复合式公寓的建筑形态，故选A项；题干中仅是一个租赁房屋的广告，排除B项；材料与城市管理系统无必然关联，排除C项；材料与贵族权力是否滥用无关，排除D项。

11. 阅读下列材料，回答问题。

材料一 自春秋战国至唐代，国家和政府设市于都邑之中，市处于城中特定位置，以墙垣围住并与民居隔开，设有市师、肆长、质人等分掌市内各项事务。《唐六典》记载：“凡市，以日午，击鼓三百声而众以会，日入前七刻，击钲三百声而众以散。”

——摘编自韩国磐《中国古代的市和市井市肆》

材料二 宋代的商业繁荣是建立在农业和手工业迅速发展、生产的专业化和产品的商品化程度大为提高的基础上的。宋代城市的数量和规模都较

前代有较大幅度的扩展，城市人口大量增加。

——摘编自史仲文、胡晓林《中国全史》

(1) 根据材料一，概括春秋战国至隋唐时期市的特点。

(2) 根据材料二并结合所学知识，概括宋代城市商业繁荣的主要原因。

(3) 综合上述材料，简述中国古代城市的发展趋势。

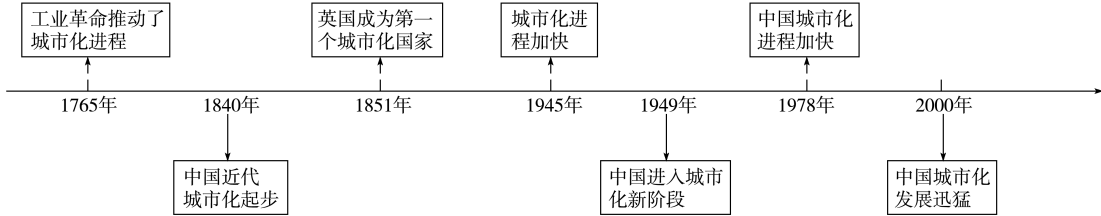
答案：(1) 特点：由政府设置于城中；与居民区分开；重视对市场的管理。

(2) 主要原因：农耕经济的发展；政府宽松的商业经济政策。

(3) 发展趋势：传统的政治性城市逐渐向商业性城市发展；城市人口不断增加，城市规模不断扩大；随着商品经济发展，人们生活和思想观念不断变化。

解析：第(1)问，根据材料一“国家和政府设市于都邑之中”得出由政府设置于城中；根据材料“以墙垣围住并与民居隔开”得出与居民区分开；根据材料“设有市师、肆长、质人等分掌市内各项事务”得出重视对市场的管理。第(2)问，从农业和手工业的发展、商业环境等角度归纳。第(3)问，结合古代城市发展的规律，从经济功能的增强、人口增加、城市规模扩大和思想观念的变化等角度分析归纳。

第 11 课 近代以来的城市化进程

任务目标 1. 了解近代以来中西方城市化的进程和影响。 2. 理解城市化的利弊, 理性分析城市化所面临的问题。	时空定位 
--	---

问题式预习

一、城市化的演进

1. 开启: 工业革命后, 工业生产逐渐向城市集中, 乡村人口向城市转移。^[1]

2. 表现

(1) 西方

1851年 英国成为当时世界上第一个城市人口超过50%的国家。
 第二次世界大战后 发达国家城市化水平进一步提高, 发展中国家城市化速度加快。
 城市化成为衡量国家现代化水平的重要标志。

(2) 中国^[2]

① 鸦片战争后, 近代化性质的工商业城市陆续出现、发展、壮大, 中国近代城市化的进程开启。

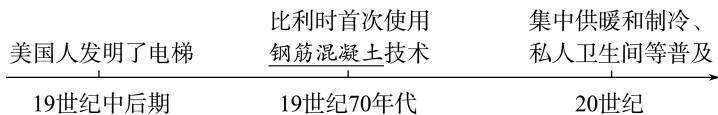
② 中华人民共和国成立后, 城市化进入新阶段。

③ 1978年后, 中国城市化进程加快。

④ 21世纪以来, 中国城市化迅猛发展。

二、居住条件的改善

1. 建筑技术的革新



2. 第二次世界大战后, 居住条件改善为人们提供了哪些便捷的生活服务?^[3]

城市中的社区服务蓬勃发展, 社区功能日益完善。仓储式商场、超市、购物中心等纷纷出现。娱乐休闲场所等设施增多, 城市绿化面积越来越大。图书馆、博物馆、影剧院、体育场馆增多, 居民的文化娱乐生活更加多样。

三、基础设施的发展^[4]

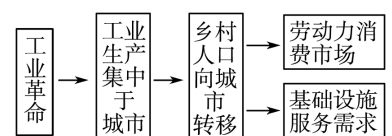
1. 西方发达国家的基础设施建设(判断正误)

(1) 19世纪以来, 城市基础设施建设不断完善。钢铁管道用于水网建设, 自来水与排水系统逐渐普及。 (✓)

(2) 20世纪初, 煤气灯、电灯相继出现, 电报、电话也逐渐普及。 (✗)

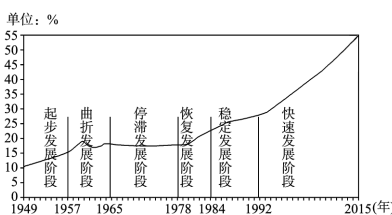
(3) 20世纪初, 电车、汽车、自行车得到普及, 第一条地铁线在伦敦问世,

[1] 工业革命推动城市化

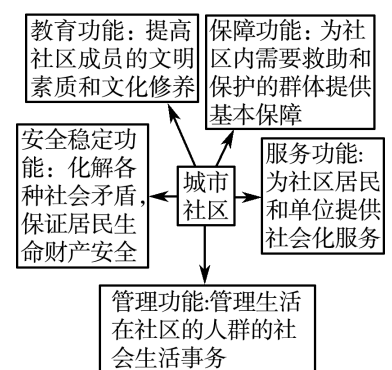


城市化是工业革命的必然结果; 城市化是衡量国家现代化水平的重要标志。

[2] 当代中国的城市化进程



[3] 城市社区的功能



[4] 公共设施建设对社会生活的意义

(1) 公共设施建设有利于促进人民生活水平的提高, 增加民众的幸福指数, 为国民经济又好又快

柏林、纽约等城市开始将铁路高架桥纳入交通网络，城市交通呈现多样化、立体化趋势。

2. 中国城市基础设施建设

(1) 近代：主要集中在一些经济相对发达的城市，尤其是通商口岸，水平有限，发展很不平衡。

(2) 中华人民共和国成立后，尤其是改革开放以来，城市的基础设施建设不断改进。

四、城市化进程中的问题^[5]

环境	工业废气污染、城市饮用水源严重污染、汽车尾气污染
经济	贫富分化加剧，少数资本家聚集起大量财富，工人阶级生活条件恶劣，缺乏基本的生活设施和干净水源
交通	私人汽车普及，导致交通拥堵严重
社会	犯罪率上升、失业者增加等社会问题也日益突出

发展作出卓越贡献。

(2) 公共设施建设为公众的工作、生活、学习和交流提供服务，同时还能美化和改善城市环境，提升城市整体形象，发扬城市地域文化，让城市家园更加美好。

[5] 当今城市治理新思路

(1) 严格控制大城市规模，分散大城市职能，建设新区和卫星城，努力推进郊区城市化，以缓解城市中心区的压力。

(2) 对城市进行合理规划，加强对城市的管理。

(3) 建设和发展生态城市。

任务型课堂

任务一 西方国家城市化发展的原因和特点

[探究活动]

材料一 16—19 世纪英国城市人口占总人口比例表

年份(年)	1520	1600	1670	1700	1750	1801	1851
城市人口占总人口比例(%)	5.25	8.25	13.5	17.0	21.0	27.5	51.0

——摘编自谷廷方《重评圈地运动与英国城市化》

(1) 根据材料一，概括英国这一时期城市化的特点，并结合所学知识分析其原因。

提示：特点：城市化进程不断加快。原因：圈地运动的推行；资本主义经济的发展；工业革命的开展；经济结构的变动；生活观念的改变；城市生活的吸引；等等。

材料二 19 世纪 50 年代以后，伦敦出现了改善住房的团体，致力于为工人建造廉价住房，但收效甚微。从 19 世纪 60 年代开始，产生了由建筑商乔治·皮鲍迪和悉尼·沃特娄发起的“模范住宅”运动。由于在伦敦中心不可能人人自己有一幢房屋，而且工人也负担不起，因而他们大约同时(1861—1862 年)开始建造成排的杂院房屋……从 1860 年开始，英国政府共制定和实施了托雷斯法、克罗斯法等 6 项住房法。1890 年议会修改并通过了新的工人阶级住房法，“授权地方政府占有土地，建造或者改造一些建筑

以适合工人阶级居住；公共工程借贷管理局被授权为此目的而垫款”。

——摘编自吴铁稳、张亚东《19 世纪中叶至一战前夕伦敦工人的住房状况》

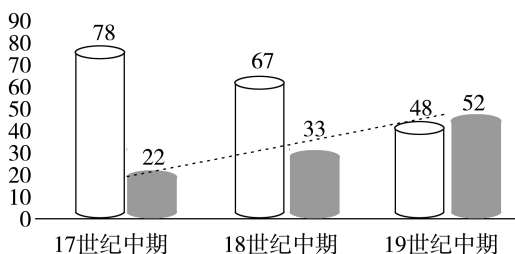
(2) 根据材料二并结合所学知识，分析上述现象出现的原因，列举民间和政府为解决上述现象而分别采取的措施。

提示：原因：工业革命后，工厂数量迅速增加，农村人口大量涌入城市。措施：民间致力于建造廉价住房，建筑商发起“模范住宅”运动；政府立法规范房地产建设，扩大地方权力，支持地方房地产建设。

[评价活动]

(1) 下图为 17—19 世纪英国城市和农村人口比重示意图。这反映了当时英国 ()

□ 农村人口百分比% ■ 城市人口百分比%
····· 线性(城市人口百分比%)



- A. 城乡差距逐步缩小
- B. 农村人口迅速减少
- C. 城市化的进程加快
- D. 工业革命正在开展

C 解析:依据图示可以看出,17—19 世纪英国农村人口比重在下降,城市人口比重以及城市人口百分比在上升,城市人口总体呈现上升的趋势,体现了英国的城市化进程加快,C 项正确;图示反映的是城乡差距逐渐的扩大,排除 A 项;“迅速”表述错误,排除 B 项;工业革命是 18 世纪 60 年代开始,排除 D 项。

(2)下表是第二次世界大战后西方国家的新城开发统计表。据此可知,这些新城的开发 ()

时期	国家	新城数量(个)	城市	新城数量(个)
1946—1980 年	英国	32	伦敦	11
1965—1994 年	法国	9	巴黎	5
1950—1976 年	瑞典	11	斯德哥尔摩	6
1955—1976 年	荷兰	15	兰斯塔德地区	13

- A.说明了逆城市化成为新趋势
B.缓解了中心城市的压力
C.促进了城市基础设施的完善
D.改善了人们的居住环境

B 解析:依据表格信息并结合所学可知,第二次世界大战后西方国家的新城开发数量增多,这使得人口逐渐由中心城市向外扩散,有利于缓解中心城市的压力,B 项正确;新城开发城市数量增多说明城市化进程加快,而不是“逆城市化”,排除 A 项;材料只涉及新城开发数量,没有体现城市基础设施的建设情况,也不能反映居住环境改善,排除 C、D 两项。

任务总结

英国的工业革命与城市化的关系

- 1.工业化推动城市化:18 世纪下半叶,随着英国工业革命的展开,瓦特对蒸汽机的改进和完善,使工厂逐渐集中到城市,越来越多的人从乡村走向城市,对城市的设施与服务提出了更高的要求,从而促进了城市化的发展。
- 2.城市化又推动工业化:随着城市人口的增多,为工业的发展提供了所需的劳动力与消费市场,从而进一步刺激了工业化的发展。

任务二 中国近代的城市化

[探究活动]

材料一 近代中国的城市化有着一系列的局限。一方面,由于城市变革更多的属于外力冲击下的被动过程,缺乏足够的内在动力和自主性,加上持续动荡的社会环境,因而始终徘徊于传统与近代之间,只能说是“半截子”近代化;另一方面,近代因素在中国社会的渗透和扩散,在地域空间上很不平衡。东部沿海地区与西部内陆地区,南方地区与北方地区,口岸地区与非口岸地区,在近代化形式和发展水平方面存在很大差异。更进一步讲,中国近代的城市化某种程度上是一种外力强制的移植,必然与中国社会产生一系列的矛盾和冲突。

——摘编自陈国灿《中国城市化道路的历史透视和现实思考》

(1)根据材料一并结合所学知识,分析近代中国城市化存在的明显不足及其原因。

提示:不足:城市化介于传统与现代之间,具有不彻底性;城市化空间分布不平衡(或发展水平不平衡);中国社会存在一系列矛盾和冲突。原因:中国传统农耕经济占据统治地位;西方列强的侵略;持续动荡的社会环境;中国社会发展不平衡。

材料二

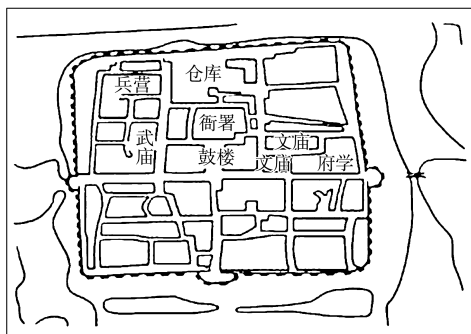


图 1 中国古代城市的基本布局

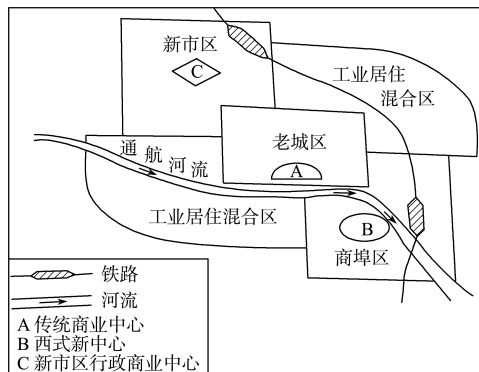


图 2 中国近代城市空间结构的基本模式

(2)比较图 1 和图 2,提炼出一个观点,并结合所学知识予以说明。(要求:观点合理、明确,史论结合,表述清晰)

提示: 示例一

观点:中国古代城市与近代城市功能不同。
说明:古代城市主要发挥政治、军事功能,图 1 主要有衙署、武庙、兵营、城墙、护城河等。近代城市主要发挥经济生活功能,图 2 主要有工业居住混合区、商埠区与居民生活的老城区和新市区。
结论:随着历史的发展,古代和近代城市的功能发生了重大变化。

示例二

观点:中国古代城市与近代城市城建思想不同。
说明:古代城市主要体现统治性与秩序性。图 1 主要有衙署、武庙、兵营、城墙与护城河,体现了统治性;官府居中,布局方正,街巷井然,则体现了秩序性。近代城市主要体现商业化与世俗化。图 2 有很大的商埠区,有主要是市民居住并包含商业中心的老城区与新市区,以及向城外延伸的工业居住混合区,体现了浓郁的近代城市商业气息和市民世俗生活特点。
结论:随着历史的发展,古代和近代城建思想发生了根本性变化。

[评价活动]

(1)鸦片战争后,近代中国城市化进程开始。各个时期城镇人口占总人口比重分别为:1843 年 5.1%,1894 年 6.0%,1949 年 10.6%。据此可知,中国近代城市化发展的特征是 ()

- A.受西方工业文明影响
- B.得益于民族工业的发展
- C.低速推进
- D.分布在沿江、沿海地区

C 解析:中国近代城镇人口经历 100 多年的发展,从 5.1% 增长到 10.6%,且前 50 年里,城镇人口比例提高不足 1%,由此可知,中国近代城市化发展特征是低速推进,C 项正确。

(2)下面是近代中国城市人口总数及城市化率简表。

时间(年)	全国总人数(万)	城市人口数(万)	城市化率(%)
1840	41 281	2 768	6.7
1893	33 671	2 769	8.2
1920	44 715	4 742	10.6
1931	46 884	5 106	10.9
1936	46 962	5 281	11.2

时间(年)	全国总人数(万)	城市人口数(万)	城市化率(%)
1949	54 167	5 765	10.6

下列关于近代中国城市化说法正确的是 ()

- A.城市化进程持续加快
- B.民族资本主义发展是主要推动力量
- C.政权更迭推动城市化
- D.自然经济严重阻碍了城市化的进程

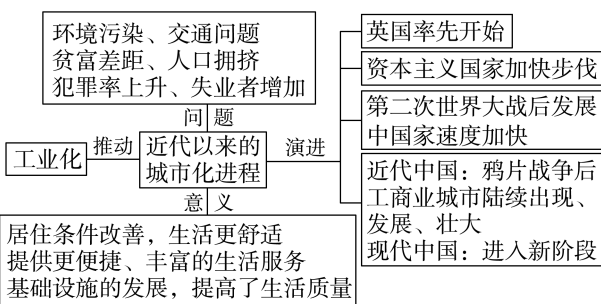
D 解析:根据表格信息可以看出,中国近代的城市化率提升缓慢,结合所学知识可知,这是因为自给自足的自然经济将大量人口固定在农村,阻碍了城市化的进程,D 项正确;“持续加快”表述错误,排除 A 项;仅根据表格数据无法得知推动力量,排除 B 项;材料信息并未体现政权更迭,排除 C 项。

任务总结

近代中国城市化的特征

- 1.近代中国的城市化进程根植于半殖民地半封建社会的特殊历史背景下。
- 2.商业化先于工业化导致城市工业难以吸收过剩劳动力,城市对农业人口的吸引力有限。
- 3.在自然灾害和传统小农经济瓦解的夹击下,农民被迫涌入城市谋生,带来消极的城市化效应。

► 提质归纳



- 1.工业革命后,英国、美国等资本主义国家率先走上了现代城市化道路,英国成为世界上第一个城市化国家。
- 2.第二次工业革命后,发达国家的城市化水平进一步提高,发展中国家在赢得民族独立后城市化速度也不断加快。
- 3.中国在改革开放后,城市化进程迅猛发展。
- 4.在城市化过程中,城市的基础设施不断发展、完善,人们的居住条件也不断改善,同时也出现了环境污染、交通拥堵等各类问题。

课后素养评价(十一) 近代以来的城市化进程

基础性·能力运用

知识点 1 城市化的演进

1. 美国学者巴里·伯格多尔在其著作《1750—1890 年的欧洲建筑》中描绘道：“巴黎……也配套建设了放射状的新道路……超过 165 公里的新街道宽敞、笔直，并配有入行道、排水系统、照明设备和新种植的树木……私人建筑、公寓住宅增加了 6 倍。”这反映出当时的巴黎 ()

- A. 摆脱了城市发展带来的困境
- B. 工业革命推动城市化发展
- C. 工业革命带来城市化新问题
- D. 工业革命促进了人口增长

B 解析：根据材料“1750—1890 年”以及巴黎的基础设施的建设情况等可以看出，这反映的是工业革命促进了城市化的进程，从而推动了城市的发展，B 项正确；A、C、D 三项材料中均未涉及，排除。

2. 当前，中国已形成了一批国际化大都市，城市化水平较高，部分达到发达国家水平，如上海、北京、广州等。这主要得益于 ()

- A. 中外交往的密切
- B. 国家政策的引导
- C. 民营企业的崛起
- D. 国企改革的深化

B 解析：材料主要表达了中国城市化水平较高，中国城市的发展主要得益于国家政策的正确性，B 项正确；中外交往、民营企业的崛起和国企改革的深化都是因为国家政策引导的体现，排除 A、C、D 三项。

知识点 2 居住条件的改善

3. 城市的发展使得市民居住条件得以改善，下列技术的革新能够提高城市人口居住面积的是 ()

- A. 电梯的使用
- B. 钢筋混凝土技术的运用
- C. 供暖和制冷技术的普及
- D. 私人卫生间的使用

B 解析：建筑技术的革新使得城市住宅发生了巨大变化，使用钢筋混凝土建造的高层住宅，能高效地利用土地，提高居住面积，故选 B 项。

4. 近代以来，随着城市化进程的加快以及各种城市用地需求的递增，城市房地产业发展速度势必加快。城市房地产业的发展 ()

- A. 改善了人们的居住条件
- B. 加快了城市基础设施建设
- C. 缩小了城市和农村的差距
- D. 彻底解决人们的住房需求

A 解析：房地产业的发展使得城市住宅发生巨大变化，改善了人们的居住条件，故 A 项正确；房地产业主要涉及城市的住房居住问题，与城市基础设施的建设关系不大，故 B 项错误；房地产业的兴起与发展不能缩小城市和农村的差距，故 C 项错误；随着城市化的发展，贫富分化不断加强，收入少的人群购房依旧困难，因而无法从根本上解决人们的住房新要求，排除 D 项。

知识点 3 基础设施的发展

5. 1865 年，上海南京路开始使用煤气灯。有人记载煤气灯照明的情形：“铁管遍埋，银花齐吐，当未设电灯时代，固足以傲不夜城也。”据此可知 ()

- A. 工业化推动城市基础设施的完善
- B. 第二次工业革命加快了城市化进程
- C. 电灯创造了新的城市夜生活方式
- D. 上海是中国最早实现城市化的地区

A 解析：19 世纪 60 年代，煤气灯在上海使用，说明当时上海城市的基础设施有所完善，故选 A 项；煤气灯是第一次工业革命时期发明的，排除 B 项；材料是煤气灯，而非电灯，排除 C 项；材料没涉及城市化，排除 D 项。

6. 第二次世界大战后，美国地产商与零售商开始在城市郊区建造集购物、休闲、餐饮、娱乐等功能于一体的购物中心。随着城市化的发展，这一新的商业组织形式逐步推广到世界各地。这一新的商业组织形式得以推广的直接原因是 ()

- A. 高速公路修建与汽车普及
- B. 城市郊区环境优美污染少
- C. 利润丰厚与企业盲目扩展
- D. 人口逐步向城市郊区聚集

A 解析：根据材料并结合所学知识可知，第二次世界大战后，随着美国经济的发展，城市基础设施日益完善，尤其是高速公路的修建与汽车的普及，大大便利了人们的生产与生活，因此美国地产商与零售商开始在城市郊区建造购物中心，故 A 项正确；B、C 两项不是直接原因，排除；人口向城市郊区的聚集是“结果”，而不是“原因”，排除 D 项。

知识点4 城市化进程中的问题

7.“在我们生活的这个时代,贫民窟是日益增长的犯罪和暴力的中心。”由此可知,当代的城市发展

()

- A.导致失业率大为提高
- B.存在着社会危机隐患
- C.是工业化的必然产物
- D.制约了市民生活改善

B 解析:根据“贫民窟是日益增长的犯罪和暴力的中心”可知,城市化的快速发展导致了贫富差距进一步扩大,存在着社会危机隐患,B项正确;材料与失业率无关,排除A项;材料论述的是城市化发展带来的影响,而非城市化形成的原因,排除C项;城市化发展有利于提高市民生活水平,排除D项。

8.20世纪三四十年代,分布在住宅区附近的机器工厂成为上海居民投诉最多的对象。留声机、广播等新

事物的流行,带来的噪音问题也日益严重。这表明上海

()

- A.政府管理职能相对欠缺
- B.城市内部阶级矛盾尖锐
- C.社会经济秩序出现混乱
- D.城市化的弊端日益显现

D 解析:根据题干可知,在20世纪三四十年代的上海,因为机器工厂严重打扰了附近居民的日常生活,机器工厂成为居民投诉最多的对象;因为留声机、广播等新事物的流行产生的噪音打扰到了别人的日常生活,种种现象充分表明城市化的弊端日益显现,故选D项;材料并未提及政府的管理职能,排除A项;材料反映的现象不属于阶级矛盾的范畴,排除B项;投诉与纠纷的大量出现,属于社会现象,与经济秩序无关,排除C项。

综合性·创新提升

9.下表为近代前期中国城市化比率统计表(单位:%)。据此判断,该时期

()

	中国北部	中国西北	长江上游	长江中游	长江下游	两广地区	云贵地区	均值
1843年	4.2	4.9	4.1	4.5	7.4	7.0	4.0	5.2
1893年	4.8	5.4	4.7	5.2	10.6	8.7	4.5	6.3

- A.地域间差异不断缩小
- B.江南地区城市化发展较快
- C.近代化运动效果显著
- D.北方明显落后于长江流域

B 解析:材料表明1843—1893年长江下游城市化率领先其他地区,说明江南地区城市化发展较快,故选B项;从材料中1843—1893年城市化率的数值比较来看,地域间差异整体上是比较大的,不能体现出差异缩小,故A项错误;材料表明中国城市化比率总体较低,说明近代化运动效果不明显,故C项错误;长江上游和中游的城市化比例也不高,看不出北方明显落后于长江流域的特征,故D项错误。

10.1950—1970年,居住在都市中心的拉丁美洲人从39.3%增加到53.5%。农村和小城镇人口在1950—1960年的10年间增加了19%,而都市人口却增加了67%。20世纪80年代,拉美城市人

口可与欧洲(73%)和北美(74%)相媲美。这种现象的出现

()

- A.主要受国际移民潮影响
- B.加剧了社会发展的不平衡性
- C.限制了社会的阶层流动
- D.促成了城市基础设施的完善

B 解析:根据材料“农村和小城镇人口在1950—1960年的10年间增加了19%,而都市人口却增加了67%”可知,第二次世界大战后,拉美地区城市化进程加快,城市人口不断增多,农村和小城镇人口增长较少,城乡差距拉大,加剧了社会发展的不平衡性,故选B项;第二次世界大战后的移民主要是由发展中国家流入发达国家,故拉美地区是人口迁出地,排除A项;大量农村人口流入城市加快了城市化,推动了阶层流动,排除C项;城市化发展要求完善城市基础设施建设,但不一定会促成城市基础设施建设,排除D项。

11.1848年,英国通过了《公共卫生法》。1855年,伦敦开始了下水道现代化工程建设。到19世纪60年代,欧洲各城市初步建成了自来水和地下排污系统。欧洲国家的这些举措

()

- A.解决了城市化进程中的问题
- B.适应了工业社会发展的需要
- C.摒弃了自由放任的经济政策
- D.推动了社会阶级结构的变化

续表

国家	概况
美国	存在纽约、芝加哥、费城等城市在 20 世纪初人口已超过百万,其他城市人口增长也很迅猛。人口激增,城市房屋已无法满足需求,致使现有的住宅十分拥挤。城市长期奉行自由放任政策,没有长远规划,工厂区和住宅区混杂在一起。20 世纪 20 年代汽车开始涌入城市街道,随着汽车的增多,交通拥挤带来空气污染和噪声

——摘编自齐爽《英国城市化发展研究》、刘建芳

《美国城市化进程中的城市问题及对策》

根据材料并结合所学知识,针对城市化过程中存在的任意一个问题,分析原因,并提出你的解决方案。

答案:示例

问题:环境问题。

原因:工业革命的深入;资本家加大对利润的追求;城市人口进一步增加;人们环保意识差;城市治理能力不足;新式交通工具出现。

解决方案:使用清洁能源和可再生能源;加大环保宣传力度;提升城市治理水平;合理控制城市人口数量;加强国际合作;充分利用科技手段进行环境治理;学习不同国家的治理经验。

解析:根据材料“‘环境保护’一词仍是一个新奇的词汇”“住宅规划得很不好,一堆乱七八糟的三四层的高房子,街道狭窄、弯曲,到处是一堆堆的垃圾和煤灰,从门口倒出来的污水就积存在臭水洼里”得出问题:环境问题。抓住材料中的时空信息,19 世纪初—20 世纪中后期、英美城市,紧扣环境问题这一主旨,结合所学知识,从材料中找寻造成环境问题的原因,从政治、经济、思想等方面分析。最后,从技术、宣传、管理、国际合作等方面提出解决方案。

B 解析:根据材料可知,工业革命以来的欧洲国家逐渐重视城市公共卫生医疗体系建设,有利于解决工业革命导致的城市化快速发展的一系列医疗卫生问题,故选 B 项;公共卫生医疗问题只是城市化过程中诸多问题中的一类,排除 A 项;经济危机时期,欧美国家逐步放弃了自由放任的经济政策,与材料时间不符,排除 C 项;城市公共卫生医疗体系服务的是所有城市公共群体,而不是只针对某一部分社会阶级群体,排除 D 项。

12. 阅读材料,回答问题。

材料 19 世纪初—20 世纪中后期的英美城市化问题概况

国家	概况
英国	对于 19 世纪早期的英国人来说,对利润的狂热与追逐被当作了一种时尚,“环境保护”一词仍是一个新奇的词汇。没有利益的驱动下,没有人愿意为了公共环境而损失自己的利润。功利主义者在很长一段时期内不但把美术和宗教看作装饰品,把行政管理也看作装饰品(可有可无)。在争夺财富的早期,根本没有警察、医疗、教育以及水和食品的检查监督。19 世纪中期,从伦敦著名的“乌鸦窝”圣吉斯开始,这个聚集地年复一年的变大,住宅规划得很不好,一堆乱七八糟的三四层的高房子,街道狭窄、弯曲,到处是一堆堆的垃圾和煤灰,从门口倒出来的污水就积存在臭水洼里。而住在这里的是穷人中最穷的人,是工资最低的工人。1961—1981 年,英国的曼彻斯特因过于拥挤,人口大量外迁,老龄化日益严重,纺织业日趋衰落。20 世纪后期,城市中心被废弃的工业区包围,几个大面积的旧贫民区仍然

易错强化练(四) 村落、城镇与居住环境

练易错

易错点 1 | 古代的村落、集镇和城市

【防范要诀】

1. 村落是具有相当数量和规模的居民聚居点,它为人们的定居、繁衍和防卫提供了条件和保障,也为人们进行集体活动提供了便利。
2. 商人和手工业者为了保护其财富和人身安全,在聚居的地方筑垒设防,形成了集镇。集镇的出现最初与政治、军事密切相关,随着商品经济的发展,集镇的出现更多与经济的发展和繁荣有关,并促进市场的繁荣。

3. 城市是一定区域内政治权力、军事防御、经济活动、宗教祭祀的中心场所。因而城市具有防御、行政和商业等多种功能。

【对点集训】

1. 秦都咸阳宫殿建筑区有较为完善的陶水管道、排水池以及散水等遗物遗迹;汉代长安城内的宫殿、官署、邸第、里居等有众多井台,普遍饮用井水;秦汉时期的厕所有“厕”“圜”“涵”“清”“轩”“更衣之室”等众多名称。这反映秦汉时期 ()
A. 国家组织能力增强

- B.城市的生活服务设施丰富
C.居民卫生意识提高
D.政府重视民众的日常生活

B 解析:根据材料可知,秦都城咸阳以及汉朝都城长安在城市建设及其配套设施建设上比较全面,厕所就有众多的名称,说明秦汉时期城市的生活服务设施比较丰富,B项正确;A、D两项材料中未体现,排除;“居民卫生意识提高”与材料主旨不符,排除C项。

2.唐长安内外城共二十门,没有俗称。北宋东京里外城共二十二门,有十七个城门有俗名,多以所通往的重要地区命名。南宋临安城有些城门甚至以民谚相呼应,如东青门的俗名为菜市门。唐至宋城门的

- 变化反映了当时 ()
A.坊市制度已被打破
B.市民生活日益丰富
C.城市经济功能增强
D.工商业市镇的兴起

C 解析:根据材料并结合所学可知,宋朝以来受商品经济发展影响,市民阶层壮大,城市的经济职能突出,因此出现“甚至以民谚相呼应”的城门俗名现象,故选C项;材料仅涉及城门名称的变化,没有明确城市内坊市间的功能规划演变情况,排除A项;材料没有明确市民生活的具体表现,排除B项;工商业市镇的兴起在明清时期而非唐宋,与史实不符,排除D项。

易错点2 | 近代以来的城市化进程

[防范要诀]

- 1.近代的城市化是从工业革命开始的,工业化推动城市化的发展。
- 2.随着城市化的不断发展,人类居住条件以及城市公共设施也在不断完善。
- 3.城市化进程中出现了诸多问题,对人们的生活造成很大影响。在城市化进程中,要理性对待。

[对点集训]

3.1833年,英国兴起城市公园运动,强烈建议为人口密集、居住条件恶劣的地区提供公共散步场所,以此改善下层人民的身心健康,但并未引起英国政府的重视。到19世纪后半期,英国政府通过《开阔空地法案》,城市公园成为市政建设的重要内容。该现象反映了当时英国 ()

- A.城市治理能力有所提升
B.工人阶级力量日益壮大
C.城市无序扩张有所放缓
D.保护环境成为社会共识

A 解析:根据材料可知,1833年,英国兴起的旨在要求改善下层人民生活状况的城市公园运动并未引起英国政府的重视;随着工业革命的不断推进,英国城市化进程不断加快,工业文明下人们对健康生活的追求日益提升,英国政府的城市治理能力也有所提升,到19世纪后半期,英国政府通过《开阔空地法案》,城市公园成为市政建设的重要内容,A项正确;材料未涉及工人阶级力量日益壮大,排除B项;材料未体现“城市无序扩张有所放缓”,排除C项;材料强调的是英国政府对城市公园运动的态度,“保护环境成为社会共识”与材料主旨不符,排除D项。

4.下表为天津城市建设大事记。这体现了当时天津

()

时间	大事
1892年	自来水公司建成
1896年	大清邮政设立办公楼
1900年	平安公园完工,以绿化为主,园内设景物
1906年	外商在天津开办电车电灯公司

- A.城市建设规模宏大 B.城市基础设施完备
C.殖民地化程度加深 D.社会生活的近代化

D 解析:材料中的自来水公司、邮政、公园和电车电灯公司,这些设备属于城市生活必备的公共服务设施,它们的开办说明天津在城市化进程中人们社会生活的近代化,故D项正确;材料中未涉及城市建设的规模大小,排除A项;“城市基础设施完备”表述过于绝对,排除B项;材料中未涉及殖民地化,排除C项。

5.1889年,有学者指出:“英国多数大城市里,古老的特征正在迅速消失;历史悠久的房屋被推倒作为适应现代需要的建筑基地,一切都在现代化;但在乡村,一切依旧。”这反映出英国 ()

- A.工业革命尚未波及乡村
B.城市化对传统文明的冲击
C.人们对工业文明的抵制
D.工业文明摧毁了小农经济

B 解析:根据“古老的特征正在迅速消失”“一切都

在现代化”等信息可知,在工业革命的推动下,传统文明日益受到城市发展的冲击,故选B项;A项与史实不符,排除;材料中并没有体现人们对工业文明的抵制,排除C项;D项说法与材料“在乡村,一切依旧”矛盾,排除。

练疑难

6.据相关资料统计,明代弘治年间福建顺昌县只有4处集市,嘉靖时增至8处;建宁县的集市更从原来的1个增至9个。这反映了当时福建 ()

- A.政府放松对市场的控制
- B.弃农经商者增多
- C.农产品商品化趋势明显
- D.手工业规模扩大

C 解析:明嘉靖时集市增多,说明商业发展,大量农产品和手工业产品投放市场,故选C项;材料信息无法说明政府放松了对市场的控制,排除A项;材料没有体现“弃农经商”现象,排除B项;材料现象不能说明手工业生产规模的状况,排除D项。

7.位于土耳其的恰塔尔·休于可能是人类最早建立的城市,距今有8 000年之久。这座城中有1 000多座土砖砌的房屋,人口超过6 000人。其房屋规格统一,屋内有木梯、炉灶,供坐卧的平台,还有不少人家的墙壁上有装饰壁画、灰泥浮雕和兽头。据此可知,该城市 ()

- A.不存在贫富阶级差异
- B.为军事目的而设立
- C.手工业发展领先世界
- D.生活环境较为稳定

D 解析:根据材料“城中有1 000多座土砖砌的房屋,人口超过6 000人”“屋内有木梯、炉灶,供坐卧的平台”等可知,该城市人们定居生活,比较稳定,故选D项;材料“不少人家的墙壁上有装饰壁画、灰泥浮雕和兽头”,说明当时该城市内是存在贫富阶级差距的,排除A项;B项材料中未体现,排除;题干中没有与其他地方进行比较,不能得出“手工业发展领先世界”的结论,排除C项。

8.20世纪30年代末,广东已形成以广州为中心的轻工外贸城市区和潮汕平原城镇群,城市商贸相对发达而工业基础较弱。近代广东的城市发展 ()

- A.是中国近代城市化的普遍模式
- B.呈现半殖民地半封建性的特征

C.缘于政府主导的资源开发战略

D.反映通商口岸城市的均衡发展

B 解析:根据材料“城市商贸相对发达而工业基础较弱”并结合所学可知,广东这种商贸发达而工业基础薄弱的城市发展状况,与半殖民地半封建的社会性质有关,故选B项;“普遍”表述过于绝对,排除A项;广州在近代是通商口岸,受到列强侵略影响,与政府资源开发战略无关,排除C项;通商口岸城市并不均衡发展,排除D项。

9.下面是1851年西欧主要国家与中国城市和农村人口统计表。中西方在城市化上的差异主要表明 ()

国家	总人口(单位:万人)	农村人口百分比	城市人口百分比
英国	约1 800	48%	52%
法国	约3 600	75%	25%
中国	约43 200	89%	11%

- A.在城市化上,工业文明明显优于农业文明
- B.中西方在城市化上走上了明显不同的道路
- C.在城市化上,西方是主动的,中国是被动的
- D.中西方农村人口对城市化的态度不同

A 解析:根据题干可知,1851年中国的城市化水平明显低于西方国家。结合所学可知,当时中国是落后的农业国,工业化水平低,直接影响了城市化水平,这主要表明了工业文明对城市化的推动作用远远强于农业文明,A项正确。

10.1914年,北京市政府发布通告,向民众介绍了公园的概念:找一块清净宽敞的所在,开辟出来,再能有天然的丘壑,多年的林木,加以人工设备,专在有益人群游玩。市民精神日渐活泼,市民身体日益健康。由此开始,北京市开辟了多家公园。这可以用来说明近代中国 ()

- A.政治革命推动了市政建设
- B.城市化进程体现了时代进步
- C.公民的政治地位得到提高
- D.科学的生活理念已深入人心

B 解析:根据材料可知,北京修建多家公园供市民休闲娱乐、强身健体,体现了时代进步性,故选B项;近代由于受到了西方观念的影响,公共空间形态逐渐转型,因此公园的建立与政治革命的推动作用不大,排除A项;公民的政治地位与材料主旨

不符,排除 C 项;“深入人心”的表述错误,排除 D 项。

11. 下面为 21 世纪初德国城市统计表。据此可知

()

城市规模	城市数量	占总人口的比例
100 万人以上的大城市	3 个	约 7.7%
50 万—100 万人的大城市	9 个	约 6.7%
10 万—50 万人的中等城市	71 个	约 18.5%
2 000—10 万人的小城市	1 982 个	约 58.3%

- A. 德国城市化进程逐渐放缓
B. 德国人口主要集中在大城市
C. 德国出现了逆城市化现象
D. 德国城市化以中小城市为主

D 解析:根据材料“2 000—10 万人的小城市数量有 1 982 个,约占 58.3%”可知,21 世纪初德国城市化以中小城市为主,D 项正确;材料体现不出德国城市化进程的速度,排除 A 项;德国人口主要集中在大城市与图表信息不符,排除 B 项;C 项材料未体现,排除。

12. 阅读材料,回答问题。

材料 在西方,大工业造成了近代大城市、新城市的产生,其主流是工业城市。由于城市数量、城市人口和用地规模等带来了越来越多的社会问题、环境问题,诞生了近代城市规划。英国于 1848 年颁布了《公共卫生法》,其标志着近代城市规划的兴起。自此,中央政府通过立法对地方政府履行职能的情况进行监督并在必要时予以强制执行,地方政府则在相关法案授权和中央财政支持下开展城市规划实践。

中国近代城市化是西方商人来华、农民进城经商的城市化,其主流是商业城市,并仅限于几个开埠城市,如上海、天津、汉口、广州等。即使有工业带来的城市化,也仅限于外资工业、军事工业。与西方的新城市开发规划比较,中国即使同一城

市的新市区规划也互不相干,无城市的整体性可言。无论是欧美租界、还是日本人的铁路附属地以及中国人的商埠区(济南市)、新市中心区(上海市)规划建设,虽然具有不同形式和表达方式,但都体现出各自心目中的政治意图和对欧美城市意象的追求及向往,包括古典的、近代的、殖民式的等。

——摘编自李百浩《中西近代城市规划比较综述》等

阅读材料,提取信息,结合所学,阐释城市化所折射出的中、西时代特征。要求:依据材料和题目要求提出一个论点,依据论点进行论述(分别概括近代中、西城市化的特点,分析原因),最后进行总述。

答案:示例

论点:近代城市化进程反映中西工业化的发展历程。

论述:从 18 世纪中期到 19 世纪下半叶,西方资本主义国家相继完成工业化进程,西方城市也迅速发展。近代西方城市化的发展主要是工业城市的发展。工业资产阶级逐渐获取统治地位,政府缓和社会矛盾进行立法改革。城市化过程出现许多公共问题,政府通过立法监督地方政府来改善城市问题,促成城市规划的兴起和发展。从 1840 年鸦片战争以来,西方列强打开中国国门,强迫清政府签订一系列不平等条约,近代中国城市的发展与割地、开辟通商口岸和租界有直接关系,在这些地区兴办了一些外国企业和洋务工业,影响城市的发展。我国出现了半殖民地、殖民地的城市,虽然部分改变了中国古代城市结构,但城市发展服务于列强的政治、经济侵略。近代中国城市发展极不平衡,主要局限在通商口岸城市和城市的租界内,城市规划出于列强政治意图且表现为风格杂乱多样,没有照顾到中国人的审美需求。综上,近代中西城市化进程表现迥异,折射出中西方近代工业发展的不同历程。

单元活动构建

村落、城镇与居住环境

【主题性概述】

随着农业的出现,人类开始筑屋定居,逐渐形成了具有相当规模和数量的聚居点——村落。在村落居民交换物品的过程中集市逐渐形成。集市发展到一定程度,形成集镇。随着居住人口的增多,以及防卫或商贸的需要,城市出现。近代以来,工业革命的发展推动了城市化的进程,人口不断向城市集中,城市的居住条件和生活环境不断改善,大大便利了人们的生活,但同时环境污染、交通拥堵等问题也日益加剧。

构建任务一 中国城市的发展

「学术性观点」

观点一 宋代以前在城市行政管理上长期存在的坊市分隔制度,便是基于行政管理上的方便考虑的。宋代随着民众侵街现象的发生,城市不再只是单一的政治、军事中心,还成为经济、文化中心,城市的面貌越来越具有浓厚的经济色彩。据学者统计,北宋全境拥有10万户的城市有40多个,到宋徽宗时上升到50多个,数量超过汉唐数倍,以工商为业的城市居民成分与日俱增。环城草市扩大了原有城市的规模和范围,创出了中国古代城市摆脱坊市分离的新道路。城市商品经济的发展和财富的增长,商品意识也在迅速向社会生活的各个角落渗透,这使宋代带有明显消费性和商品化色彩的城市文化娱乐活动日益兴盛起来,成为一种普遍的文化存在。宋代租佃关系盛行,农民有了相当大的人身自由。城市中的大批手工业者、商人、小业主,构成了宋朝的中产阶级。他们经济富足,又有自己独立的价值追求。市民富裕闲暇生活及审美趣味和生活情趣促成了宋朝文化高度繁荣。海内外一些史学家认为中国古代城市在宋代已经背离了传统格局而进入了真正的“城市革命”时期。

——摘编自郭学信《论宋代城市发展的时代特征》

观点二 近代以来在西方的影响下,各地沿海通商口岸如天津、上海先后建设了城市自来水供水系统。20世纪初,北京供水不足问题进一步引起各方人士重视。1908年,北京连续发生火灾,清政府寻求防火方法,袁世凯称自来水为解决之道并获得政府支持。因国力衰微,政府财政状况捉襟见肘,自来水公司只得采取招商集股的方式筹集资金,随后发行300万元股票。又因技术落后无力自产,供水设备只得向外国购

买,但外国公司只计自身利益,对中国的自来水系统建设不负责任,建设过程很快出了问题。在铺设安装水管时,部分宗室以管线可能会经过其祖坟为理由阻挠,甚至将官司打到了宗人府。

——摘编自张凯昭《民生之首:清末民初北京的自来水系统》

「开放性活动」

情境材料:中国古代城市的发展经历了产生、发展与繁荣三个阶段,在每个阶段中又呈现出截然不同的特征。我国城市出现较早,在野蛮时期向文明时期过渡时,就产生了城市萌芽。夏商周时期,随着奴隶制度的产生,真正的城市也开始产生。春秋战国时期,群雄争霸,城市的数量突增,或作为军事要地存在,或作为经济政治中心存在。唐朝中后期开始,城市开启了漫长的变革之路,这种变化从唐朝开始,一直延续到宋朝。明清时期,我国古代城市的发展进入成熟期,出现了以大城市为中心,向四周衍生发展的城市群,同时,也出现了诸多以手工业为基础的小型城市。对中国古代城市发展规律特征的探索,能够为现代化的城市建设提供有效的参考与借鉴。

——摘编自高志春《我国古代城市发展及经济特征——以唐宋为例》

问题:根据材料并结合所学中国古代史的知识,就材料整体或其中任意一点自拟一个论题,并予以阐述。(要求:论题明确,持论有据,论证充分,表述清晰)

解答:

示例

论题:唐宋时期是我国城市发展最为迅速的时期,也是最关键的时期。

阐述:唐宋时期,商品经济繁荣,早期的坊市制度已不能适应民众的需求。在宋代,城市突破了时间和空间

的限制,城市的经济职能加强,进一步促进了商业的发展与繁荣,出现了坊市合一的新型城市格局。唐宋时期城市中的居民人数迅速增长,从事工商行业的人数占比也有所提高。城市人口的迅速增长带动了城市内工商业的发展和市镇的兴盛。

总之,城市的发展是历史的必然结果,历朝历代的城市都有新的变化与发展,尤其在唐宋时期城市发展尤为迅速。

「常规性活动」

1.坊里制是中国古代城市演变中的重要形式,其萌生的时间最早可以追溯到黄帝时代,由“邑”发展而来,西周时出现“里”,秦汉时为“闾里”,直到隋唐时期才称呼为“坊里”。其封闭的街区形态成了政治统治的突出表现。坊里制的发展过程反映了 ()

- A.坊里制是中国古代城市最主要的形式
- B.坊里制是商品经济市民阶层发展的产物
- C.坊里制实际上是农业土地划分的延续
- D.坊里制的模式突显了人文和经济的发展

C 解析:坊里制不仅将城市划分成网格状的空间,而且对每个空间都做了适当安置与有效管理,实际上是农业土地划分的延续,故选 C 项;A 项材料信息无法体现,排除;隋唐时期的坊里制目的是维护城市的安全与军事需要,在一定程度上制约了城市商业活动的开展,其政治性远大于经济性,排除 B 项;坊墙坊门造成的出行障碍已经无法适应城市的商业活动需求,限制了人与人之间的交流,不利于人文和经济的发展,排除 D 项。

2.战国以前的中国城市只是政权中心,随着经济的发展,至汉朝已有许多商业名都。在这些名都之外,汉朝还有 1 500 多个大小不一的城镇,这些城镇与名都一样都有供商业贸易的“市”。这一现象说明 ()

- A.汉朝商业有了较大发展
- B.古代城市大多为政治中心
- C.汉朝开始出现商业名都
- D.古代经济结构已发生变化

A 解析:根据材料可知,汉朝已有众多商业名都与可以进行商业贸易的城镇,说明汉朝商业有了较大发展,A 项正确;“古代城市大多为政治中心”的说

法不符合史实,排除 B 项;材料不能说明商业名都在汉朝“开始出现”,排除 C 项;结合所学知识可知,汉朝经济结构未发生改变,排除 D 项。

3.下表是《中国城市发展史论集》中有关中国古代城市化率变化情况的统计。据此可知,影响唐宋城市化率较高的主要因素是 ()

朝代	战国	西汉	唐	南宋	清(1820 年)
城市化率	15.9%	17.5%	20.8%	22.0%	26.9%

- A.国家统一
- B.商业经济的发展
- C.重农抑商政策
- D.经济重心南移完成

B 解析:由于商品经济的发展,城市人口不断增加,所以城市化率不断提高,故选 B 项;南宋没有实现国家统一,排除 A 项;结合所学可知,重农抑商政策限制工商业的发展,不利于城市化进程,排除 C 项;经济重心南移在材料中没有体现,排除 D 项。

4.宋太宗时期,东京开始出现侵街现象,临街摆摊、坊中开铺屡屡发生,致使京城街巷狭小。宋真宗咸平五年(1002 年),因街坊侵街现象严重,“诏开封府街司约远近置籍立表,令民自今无复侵占”。然而诏令犹如一纸空文,权豪大户侵街现象仍是屡禁不止。这一现象说明 ()

- A.草市的繁盛促进城市功能的完善
- B.商品经济的发展冲击着城市管理制度
- C.中国古代城市管理制度上的欠缺和疏漏
- D.豪强地主势力的发展冲击着市坊制度

B 解析:根据材料“东京开始出现侵街现象”“因街坊侵街现象严重”“权豪大户侵街现象仍是屡禁不止”可知,宋代由于商品经济的发展,对城市的管理制度提出了挑战,故选 B 项;草市是农村集市,材料中未涉及,A 项排除;材料中的现象是商品经济发展的必然结果,不是城市管理制度上的欠缺和疏漏造成的影响,排除 C 项;材料未涉及豪强地主势力的影响,排除 D 项。

「活动后结论」

得出你的结论: _____

构建任务二 工业革命与城市化

「学术性观点」

观点一 近代西方工业化社会的形成,有力地改变了西方社会中传统的社会状况和生活结构,使有史以来的以农业为主要职业和以农民为主体的社会结构,出现一个大的转变。农村人口大量地向城市迁徙,祖祖辈辈从事于农业生产的农民,迅速地转向各种工商业工作,新兴的工业城市不断涌现。工业革命推动了近代城市化进程的到来,因此,城市化是近代工业化社会形成的一个重要标志。

——摘编自郝宏桂《城市化与近代西方的社会变迁》

观点二 19世纪前期,美国经济中心一直在东北部和东英格兰一带……随着工业革命的深入开展,西部地区逐步发展起来,而且西部地区的城市化是一种跳跃式的发展,一小批中小城镇迅速发展成为一个有联系而完整的城市经济体系,形成了以城市为中心的经济体系。

第一次工业革命使美国城市化处于初步形成阶段,这一时期以纽约为中心初步形成一个城市体系,对周围地区形成巨大的吸引力和辐射力,从而带动整个地区乃至全国的经济发展和繁荣。到了第二次工业革命时期,此时的城市化的起点已不是从零开始,而是建立在东部工业的纵深发展和第一次工业革命的基础上,起点高。此时的城市工业企业一开始就是大规模企业,能够更多地利用新技术、新产品。

——摘编自赵明杰《浅析美国的工业革命与城市化进程》

「开放性活动」

情境材料:在探讨英国工业革命与城市化进程的课题上,某中学历史兴趣小组在阅读钱乘旦主编的《英国通史》第五卷《光辉岁月——19世纪英国》时节选了以下内容:

城市化与工业化是孪生姐妹,但城市的急速发展也引发了“城市病”……工业革命中,英国人全神贯注地发展经济、追逐利润,对身边的世界——城市和环境不闻不问,于是城市建设和经济发展严重脱节,英国患上了“城市病”。

当时的城市完全没有“规划”,是无拘无束“自由”发展的产物……城市污染严重,河流污染也造成严重

的卫生问题,影响着城市的发展……为改变这种情况,伦敦当局着手建立一个现代下水道系统,1876年的河流污染防治法是英国历史上第一部防治河流污染的国家立法,也是世界上第一部水环境保护法……此后,浴室、医院、公园、供电、有轨电车等公共设施也渐由市政管理和经营,公用事业逐步摆脱私营体制单纯牟利的动机,转变成为市民服务的“公用事业”。与此同时,城市规划与改造工作也开始了……通过以上这些措施,英国的城市面貌逐步发生改变,因此,“城市病”已得到初步控制。

问题:结合材料与所学世界史的相关知识,给历史兴趣小组拟定一个主题,围绕因果关系进行简要论述。(要求:明确写出所拟主题,论述需围绕因果关系)

解答:

示例

主题:英国工业革命下的“城市病”与市政改革。

论述:工业革命推动了城市化进程,而城市化的急速发展也引发了“城市病”。工业革命中“城市病”的根本原因,一是在工业化和城市化进程中出现了资源分配的极度失调,造成严重的地区差异和贫富不均;二是英国在市场经济的信条下执行自由放任主义,造成政府对社会问题不作为,纵容并加剧了“城市病”,使其不断累积并长期延续。因此治理“城市病”,一方面,要尽可能缩小社会差距,构筑和谐社会;另一方面,需要政府管理到位,承担应尽的社会责任。这就需要改变根深蒂固的自由放任思想偏见,把放任自流变成政府干预,市政改革就是在这个背景下出现的。

「常规性活动」

1.19世纪80年代,伦敦人口约为90万,巴黎人口约为60万,柏林人口约为17万。到20世纪初,这些城市人口分别增至约470万、约360万及270万左右。另有16座欧洲城市的人口超过50万。人口的变化反映出 ()

- A.工业革命促成了工业生产结构的调整
- B.人文精神推动了城乡人口的合理流动
- C.政治制度的变革是城市化的决定因素
- D.工业化的迅速发展加快了城市化进程

D 解析:根据材料“20世纪初,这些城市人口分别增至约470万、约360万及270万左右”结合所学知识可知,随着工业革命的发展,城市化也在飞速

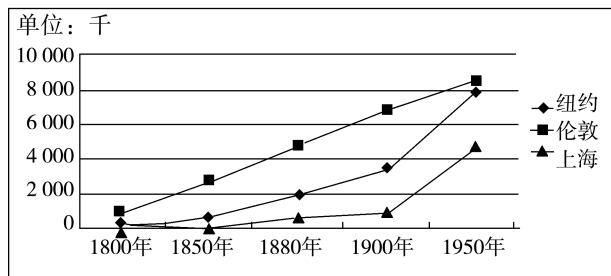
发展,因此欧洲一些大城市的人口迅速增加,D项正确;材料反映的是城市化,与工业生产结构的调整无关,排除A项;工业革命推动了城乡人口的流动,与人文精神无关,排除B项;城市化的决定因素是工业革命与经济发展水平,不是政治制度,排除C项。

2.1935年,英国政府组建田园城市审核评估委员会,提出开发“卫星新城”的政策建议;1940年,英国政府一专门委员会出台报告指出,应疏散伦敦中心区的工业和人口;1943年编制的《伦敦郡规划》,从交通、住房及市郊化等方面为伦敦的重建提出了解决方案。这些政策建议的出现说明英国 ()

- A.工业化带来的“城市病”比较严重
- B.城市遭到战争严重破坏
- C.传统的自由主义政策发生改变
- D.扩大内需以缓解经济危机

A 解析:材料“英国政府组建田园城市审核评估委员会,提出开发‘卫星新城’的政策建议”“英国政府一专门委员会出台报告指出,应疏散伦敦中心区的工业和人口”“从交通、住房及市郊化等方面为伦敦的重建提出了解决方案”针对的是英国城市化进程中的弊端,结合所学知识可知,这从侧面说明英国工业化带来的“城市病”比较严重,A项正确;材料反映的是英国城市化进程中的弊端,“城市遭到战争严重破坏”与材料主旨不符,排除B项;“传统的自由主义政策”在材料中未涉及,排除C项;“扩大内需缓解经济危机”在材料中没有体现,排除D项。

3.观察下面的伦敦、纽约、上海城市人口变化示意图,对此认识正确的是 ()



- A.工业革命推动了城市化发展
- B.城市问题得到了有效的治理

C.英国工业化水平居世界首位

D.城市基础设施不断发展完善

A 解析:根据材料图示并结合所学知识可知,在工业革命的推动下,英国的城市化进程起步早、水平高;美国是在第二次工业革命的推动下,城市人口呈现快速发展;上海的人口增长,伴随着西方列强的入侵,城市化水平较低,所以工业革命带来这三个城市的城市化进程都产生了推动作用,A项正确。B、C、D三项材料中均未体现,排除。

4.下表为1701年和1751年英国人口分布情况统计表。据此可推知 ()

地区类别	1701年	1751年	增长(%)
农业地区(包括贝德福德郡等16个郡)	1 949 446人	1 959 655人	0.52
混合农业地区(包括柴郡等17个郡和地区)	1 921 638人	1 929 812人	0.43
工商业地区(包括达勒姆郡等10个郡和地区)	1 954 915人	2 250 533人	15.1

- A.英国率先完成了城市化
- B.工业革命加速了城市化进程
- C.英国逐步进入工业社会
- D.工商业发展刺激了人口转移

D 解析:材料显示,从1701年到1751年,英国人口的增长速度较快,农业地区的人口数量也有所增长,但是比起工商业地区的人口增长幅度则有所不及,这说明工业的初步发展和商业贸易的刺激使英国的农业人口移向工商业地区,D项正确;仅据材料无法判断英国是否完成工业化,排除A项;18世纪60年代,英国才开始工业革命,排除B、C两项。

「活动后结论」

得出你的结论: _____

第四单元质量评估

村落、城镇与居住环境

(时间:90分钟 分值:100分)

一、选择题(本题包括15小题,每小题3分,共45分)

1.耶莫遗址位于伊拉克北部,遗址有21座房屋,每座房屋有好几个房间,房间里有炉灶、地窖。遗址中发现了大量的石器、骨制工具,还有装饰品及女神的塑像。遗址人口为500人左右,是西亚新石器时代村落遗址的代表。耶莫原始聚落产生的原因是 ()

- A. 西亚最早培植大麦、小麦
- B. 原始农耕的产生,人们开始定居生活
- C. 赫梯人最早学会冶铁技术
- D. 西亚地区最早产生了阶级与国家

B 解析:根据材料可知,耶莫原始聚落产生的原因是当时的人们已经开始进行原始的农耕活动,过上了筑屋定居的生活,B项正确;材料与培育作物和冶铁技术的出现没有直接关系,排除A、C两项;材料不能表明西亚地区最早产生了阶级与国家,排除D项。

2.殷商时期,村落是人们生活居住的地方,也是人们生产劳作的地方,有的村落有一定规模,设有围墙和大门,宗族族长也居住于此。据此可知,村落 ()

- A. 选址十分注重自然地理环境
- B. 使用周期长,具有稳定性
- C. 有利于保障人们的生产生活
- D. 是完善的社会组织系统

C 解析:殷商时期的村落既是生活的地方,也是人们生产劳作的地方,聚族而居,设有围墙和大门,这样有助于提高防御,有利于保障人们的生产生活,C项正确;材料没有强调村落的选址,排除A项;材料未涉及村落的使用周期,排除B项;D项错在“完善”,材料无法证实当时村落的社会组织系统完善,排除。

3.唐代长安宫殿形成一个专区,与城市其他区域分隔,并位于城市北部的中央;由于宫城位于北部,市被移至南部的住宅区内,使传统的面朝后市被倒过来;宗庙和社坛仍按传统,即左祖右社,在皇城内分布。这种设计反映出 ()

- A. 坊市分区制度瓦解
- B. 宫城市民距离拉近
- C. 儒学影响城市布局
- D. 营建城市形成制度

C 解析:“唐代长安宫殿形成一个专区,与城市其

他区域分隔,并位于城市北部的中央”体现了皇族的尊崇地位,“宗庙和社坛仍按传统,即左祖右社,在皇城内分布”体现了敬天法祖,这是儒家的理念,故选C项;“市被移至南部的住宅区内”只是说明了位置的分布,无法判断坊市分区是否瓦解,排除A项;根据材料“由于宫城位于北部,市被移至南部的住宅区内”可知,宫城与市民距离变远,各踞一方,排除B项;材料中只是介绍了唐朝长安宫殿的布局,没有说明后世必须以此为依据,因此无法反映营建城市形成制度,排除D项。

4.有学者认为:“在建筑和城市规划上,两宋时期更为开放的城市设计导致了全天候的生活方式的出现。而这相应地促进了本地市场和全国商业的发展。”这种“更为开放”“全天候”的城市景象表现在 ()

- A. 夜市经营实现常态化
- B. “市”突破了时间和空间上的限制
- C. 商业活动不再受到官吏的监管
- D. 原有“市”的管理足以适应新的经济形势

B 解析:两宋时期,城市坊市制度瓦解,“更为开放”,突破了空间限制,早市夜市昼夜相接,突破了时间上的限制,“全天候”经营,故选B项;夜市只突破了时间上的限制,排除A项;C项与题意无关,排除;材料反映出原有“市”的管理没有适应新的经济形势,因此必须要突破原有限制,排除D项。

5.有学者指出,古希腊罗马城市建立的合法性及其神圣性是在神庙前围绕祭坛与坛火所举行的公共活动中确立起来的,城市的神庙和诸神与城市是休戚与共的关系。这说明在古代西方 ()

- A. 城市发展受神权的重要影响
- B. 城市促进了人文精神的萌发
- C. 城市经济功能在不断地削弱
- D. 城市推动了民主政治的构建

A 解析:根据材料可知,神庙在西方城市发展中具有举足轻重的作用,说明神权对西方城市发展具有重要影响,故选A项;神庙建筑在城市建设中具有举足轻重的作用,反映了当时社会神权的强大,不利于人文主义精神的萌发与发展,排除B项;神庙只能代表精神世界的权威,而城市经济的发展反映的是世俗世界的发展,二者不存在必然的冲突,排除C项;神权对城市发展的影响过于强大不利于民主政治的发展,排除D项。

6. 四合院全宅的平面构图是按家长作为全家核心的原则布置的，一切房屋皆簇拥着正房，而且在开间尺寸、高矮、装饰等各方面皆低于正房。此种设计出现的原因是（ ）

- A. 等级观念和长幼有序制度
- B. 宗法制和儒家思想的影响
- C. 布局对称，主次分明有序
- D. 使用材料和木构抬梁结构

B 解析：“家长作为全家核心”体现了宗法制的影响，“皆低于正房”体现了儒家思想中的等级尊卑观念，故 B 项正确；A、C 两项是对题干材料内容的总结而非原因，故排除；D 项是关于使用材料和设计结构的说明，与原因无关，故排除。

7. 马克斯·韦伯在《城市》一文中，提到中世纪西欧城市这种“城市共同体”，大多具备以下几个特征（见下表）。这反映了中世纪的西欧（ ）

“至少得具有”	较强的工商业性格	
“还得有的特征”	一	防御设施
	二	市场
	三	自己的法庭、至少部分自己的法律
	四	相关的团体结社形式
	五	至少得有部分的自律性与自主性

- A. 城市以军事和政治功能为主
- B. 城市在封建国家占主体地位
- C. 城市管理方式的自治化特色
- D. 城市中资产阶级代议制形成

C 解析：根据材料可知，中世纪西欧城市除表现出较强的工商业性格外，还有自己的法庭、部分自己的法律以及部分自律性和自主性，这反映出中世纪西欧城市管理方式具有自治化特色，故选 C 项；中世纪西欧城市以经济功能为主，排除 A 项；材料反映的是城市的特征，并不能说明城市的地位，排除 B 项；资产阶级代议制形成于近代，排除 D 项。

8. 下表所示是 1741—1821 年英国主要城市人口的增长率（部分）。对此合理的解释是（ ）

时间	1741—1750 年	1761—1770 年	1791—1801 年	1811—1821 年
增长率	1.2%	6%	9%	18%

- A. 自然科学的进步提高了英国人口出生率
- B. 工业革命推动了英国人口的集中
- C. 殖民扩张强化了英国与美洲大陆的交流
- D. 人口迁移改变了英国工业化布局

B 解析：根据材料可知，1761 年以来，英国主要城市人口的增长率急剧增长，这得益于工业革命的发展，故选 B 项；英国的城市化与英国人口出生率提高无关，排除 A 项；英国与美洲大陆的交流与材料信息无关，排除 C 项；材料强调英国的城市化，工业革命推动农村人口向城市迁移，工业布局推动了人口迁移，因果倒置，排除 D 项。

9. 美国部分学者认为，美国大都市往往也是产业聚焦地点，考虑到运输、劳动力成本，相关制造商往往集中经营，且生产分工。因此，大都市专业化程度高，功能较单一，但区域间城市密度大，城市间关联性强，区域效应明显，蔓延带状发展。这一观点强调了（ ）

- A. 大都市成为制造业发展的基础
- B. 城市化水平受到产业结构的制约
- C. 市场集聚效应加强都市辐射作用
- D. 社会分工推动着城市规模的扩展

C 解析：根据材料可知，大都市是产业的集聚地，吸引着资本的集聚，促进了生产的分工，这种分工导致城市之间关联的加深，围绕着大都市形成相关产业的都市带，这体现出大都市的辐射作用，C 项正确；材料凸显了都市带形成中市场集聚效应的作用，而非大都市对制造业发展的作用，排除 A 项；材料只强调都市产业聚集，未反映出产业结构的作用，排除 B 项；材料论述了大都市带的形成而非城市规模的扩展，排除 D 项。

10. 下表所示为 19 世纪后期至 20 世纪初上海流行的新的城市用语。城市流行用语的变化反映出（ ）

时间	新的城市用语
1872 年	租界、洋房、礼拜、啤酒、香水、电表
1893 年	电气灯、电报、东洋车、马路、外国戏院
1906 年	领事、公司、洋务局、制造局、招商局、师范学堂、银行

- A. 新潮冲击下的社会生活
- B. 近代生活理念深入人心
- C. 物质生活取得巨大进步
- D. 中西方文明对抗与融合

A 解析：根据材料“1872 年”“租界、洋房、礼拜、啤酒、香水、电表”“1893 年”“电气灯、电报、东洋车、马路、外国戏院”等信息，结合一定时期的文化是一定时期政治经济的反映，城市流行用语反映出西方文明对中国社会生活的影响，A 项正确；“深入人心”表述过于绝对，排除 B 项；材料体现的是西方文明对中国的影响，不能得出物质生活状

况,排除 C 项;材料未涉及中西方文明的对抗,排除 D 项。

11. 厦门被辟为通商口岸后,外国人对环境卫生状况深感不满。1852 年,厦门英租界成立后,逐步对租界内房屋建设、道路清扫、粪污处理、传染病防治等问题作出了详细规定,改善了租界环境。这表明厦门英租界 ()

A. 追求卫生已成为市民共识
B. 环境改善促进商贸交流
C. 借鉴西方城市化建设经验
D. 加强了对传染病的防治

C 解析:根据材料可知,厦门英租界效仿西方进行城市管理,有利于城市环境改善,故选 C 项;材料没有明确说明社会民众的态度,排除 A 项;材料仅涉及卫生环境的改善,没有明确具体的商贸交流情况,排除 B 项;卫生环境的整体改善一定程度上有利于传染病的防治,但这只是材料的部分内容,不全面,排除 D 项。

12. 1910 年,上海总人口 118.6 万人,公共租界人口达 50.15 万人;上海传统的商业繁华区从南市移到美英法租界所在的北市;上海的主要工厂也设在租界内。租界日新月异,成了新上海的主体。材料反映了上海 ()

A. 城市发展受西方文化影响
B. 成为中国新兴城市的排头兵
C. 外来文明决定了上海的城市化进程
D. 成为列强侵略中国的桥头堡

A 解析:根据材料信息可知,租界人口占上海人口的比重大,商业繁华区和主要工厂都在租界内,反映出上海城市发展受西方文化影响,故选 A 项;上海不是新兴城市,故 B 项错误;材料主要描述的是上海租界的发展,与上海的城市化进程和列强侵略中国无关,故 C、D 两项错误。

13. 下表为不同时期《中华人民共和国选举法》制定时的城乡人口比例及其规定的人大代表与城乡人口数的倍数。据此可知 ()

选举法制定时间	城市和乡村人口比例	人大代表与城乡人口数的倍数
1953 年	13.26 : 86.74	8
1982 年	20.6 : 79.4	8
1995 年	28.85 : 71.15	4
2001 年	49.68 : 50.32	1

A. 全国人大具有广泛的代表性
B. 选举法内容不断得到完善
C. 中国城市化发展在逐步推进

D. 城市和农村的代表享有平等权

C 解析:从选举法中城乡人口比例变化和每个人大代表所代表的人口数的变化中可知,城市人口比例在增加,人大代表与城乡人口数的倍数在不断减小,直至城乡一致,这表明中国的城市化发展在不断推进,故答案为 C 项;A 项表述正确,但与表格无关,排除;B 项在表格中无法反映,排除;表格中信息只是反映人大代表数的比例,不是平等权,排除 D 项。

14. 20 世纪以来,在纽约、伦敦等欧美国家的大城市,航空、火车、地铁、公共汽车、小汽车、自行车以及步行等都是城市交通模式的组成部分,并在各自适合的范围内发挥作用。这表明 ()

A. 城市治理能力得到显著提高
B. 交通工具创新扩大了城市规模
C. 工业化解决了城市交通问题
D. 城市交通呈现立体化发展趋势

D 解析:根据材料可知,20 世纪以来,纽约、伦敦等欧美国家的城市交通在陆地基础上向天空、地下延伸,呈立体化发展趋势,故选 D 项;城市治理能力不仅包含交通领域,A 项说法片面,排除;“火车”“自行车以及步行”并非交通工具创新,排除 B 项;C 项说法过于绝对,排除。

15. 下图是 1858 年英国某杂志刊发的一幅漫画,作品中肮脏不堪的泰晤士河“老爹”将他的三个“子女”(“白喉”“淋巴结核”“霍乱”)献给伦敦城。这反映出当时伦敦 ()



A. 化学工业污染严重
B. 贫富差距不断加大
C. 公共卫生条件恶劣
D. 城市化水平的提高

C 解析:根据图片及题干信息可知,工业革命完成后,英国城市环境恶化,生态污染严重,疾病流行,故答案为 C 项。化学工业污染严重的表述不能全面概括题干现象,A 项排除;题干信息未体现贫富差距不断加大,B 项排除;题干信息未涉及城市化水平的问题,D 项排除。

- 二、非选择题(本题包括 4 小题,第 16 题 14 分,第 17 题 12 分,第 18 题 14 分,第 19 题 15 分,共 55 分)

16. (14 分) 阅读下列材料,回答问题。

材料一 16 世纪,英格兰拥有 373 个市镇,根据规

模和功能分为三种类型:一种是拥有300—400人口的小城镇,市场的影响所及为周围几英里的农村;第二种是人口在600—1 000人或偶尔2 000人的市场城镇,几乎所有的郡都有6个这样的市场城镇;最大的市场城镇是郡府所在地,英国东南部五大郡中各有2个彼此竞争的郡城,具有悠久的自治传统,在经济和思维方式上影响着广大农村。

——摘编自徐浩《中世纪西欧市场和市集制度新探》

材料二 明朝中后期,随着江南经济的发展,在交通便利的地方,市镇逐渐兴起。到万历以后,其市镇总数不下200个,其中规模大、功能全的镇至少有160个。这些市镇之间的距离大体在10—30里之内,一般最大距离不超过农家一日舟行往返足以完成买卖的路程。在每个市镇的周围,都有密集的从事小商品生产的村坊和初级集市环绕,这些市镇作为商品集散之地,又与本府州和临近府州的治所所在地的中心城市互相沟通联结,形成一个以水路舟行为基本交通脉络的网状结构。

——摘编自齐涛主编《中国古代经济史》

(1)根据材料及所学知识,指出16世纪中、英两国市镇发展的异同,分析促进英国市镇发展的因素。(6分)

(2)根据材料及所学知识,指出近代中、英市镇经济发展的不同结果,并简析其原因。(8分)

答案:(1)同:规模大小与人口有关;小规模市镇环绕大规模市镇。异:市镇间交通方式不同;市镇管理方式不同。因素:资本主义经济的发展;殖民扩张刺激商业发展;自治体制保证城市发展自主权。

(2)不同结果:中国市镇经济出现的资本主义萌芽夭折,自然经济仍占主导地位,最终没有孕育出资本主义经济;市镇经济发展促进英国资本主义长足发展,英国最终成为资本主义强国。原因:中国君主专制中央集权高度强化;重农抑商及闭关自守的经济政策抑制商业发展;古代商业的自身缺陷;传统观念限制商业发展。英国,殖民扩张扩大市场;城市自治体制有利于资本主义制度形成;圈地运动增加城市人口。

解析:第(1)问第一小问,依据材料一、二并结合所学知识,从城市规模、城市管理等方面进行对比分析。第二小问因素,结合近代英国资本主义发展、殖民扩张以及自治体制的影响回答即可。第(2)问第一小问,依据材料一、二并结合所学可知,中国市镇经济出现的资本主义萌芽未能得到发展,英国的市镇经济使其成为资本主义强国。第二小问,结合近代中、英两国政治、经济以及思想观念的影响等方面回答即可。

17.(12分)阅读下列材料,回答问题。

材料一 1820—1949年中国城市人口及城市化指数估计略表

年份	全国人口总数(万人)	城市人口数(万人)	城市化指数(%)
1820年	37 377	2 350	6.3
1840年	41 281	2 768	6.7
1893年	33 671	2 769	8.2
1920年	44 715	4 742	10.6
1936年	46 962	5 281	11.2
1949年	54 167	5 765	10.6

材料二 18世纪从英国发端的工业革命,使西方城市的初始形态——城邦与城堡——开始从政治管理中心和军事防卫堡垒,转向以工厂生产和贸易交换为主体形态的经济中心。在第一次产业革命的推动下,1851年英国的城市化水平就超过了50%,率先进入成熟的城市化阶段。法国、德国、加拿大等国家相继启动了城市化进程。19世纪40年代到20世纪50年代,第二次产业革命在美、德、法等主要资本主义国家兴起,使得重化工业取代纺织等轻工业而成为主导产业……当然,西方国家工业化带来的城市化进程,也不可避免地衍生出了“城市病”。

——摘编自周跃辉《西方城市化的三个阶段》

(1)根据材料一并结合所学知识,概括近代中国城市化的特点并指出其影响因素。(7分)

(2)根据材料一、二并结合所学知识,比较近代中国与西方城市化进程的不同点。(5分)

答案:(1)特点:城市化经历了由慢到快的过程,并伴有停滞;甲午中日战争之前,城市化发展较为缓慢;甲午中日战争之后至1936年,城市化进程加快。因素:近代中国遭受西方列强侵略及国内战争等;自然经济逐步解体,民族资本主义得到发展;政府采取了大量有利于城市化的政策,促进了大城市的发展;西方先进科技传入,进一步改变了城市的面貌,有利于城市化发展。

(2)条件不同:近代中国面临列强侵略,是半殖民地半封建国家,西方大部分为民族独立国家。水平不同:中国城市化水平较低,西方城市化水平较高。

解析:第(1)问第一小问,根据材料中的数据,从各个阶段的发展情况进行概括。第二小问,从近代中国的社会环境进行分析,从遭受西方侵略、民族资本主义经济发展、政府政策、西方科技传入等方面进行归纳。第(2)问,根据材料,分别从中国近

代和西方城市化进程的诞生条件、发展水平等方面加以分析。

18. (14分) 阅读下列材料, 回答问题。

材料一 中国的城市建设和相关理论在商周时期已经产生。古代城市具有“城”和“市”的两重身份, 但侧重政治、军事功能。城市公共空间主要为政治统治服务, 体现了“天人合一”的理念。城市中的广场、牌坊、庙宇等常常与当地的历史、风俗有密切联系。近代, 仿西方而修建的公园等休闲娱乐场所逐渐成为公共空间结构的新要素。20世纪80年代以来, 中国的城市公共空间建设不仅突出了广场、街道, 还顾及社会弱势群体的需求, 而且引入了社会资本和群体参与。

材料二 15世纪以后的欧洲, 城市公共空间结构打破了中世纪的封闭状态, 宏伟的林荫大道和广场, 早期古希腊城市规划思想中的几何学构图也重新出现, 这些体现着人对社会和自然的有力控制。19世纪以来城市人口爆炸式增长, 城市规模和数量急剧扩大, 产生了一系列城市空间问题。为了缓解日益严重的人与环境、私人空间与公共空间等矛盾, 20世纪初以来, 英美等国着重从美观舒适、卫生、精神文化等方面改善城市公共空间的建设。

——摘编自周波《城市公共空间的历史演变——以20世纪下半叶中国城市公共空间演变为研究重心》

(1) 根据材料一, 概括我国城市公共空间发展的特点。结合所学知识, 指出其积极作用。(6分)

(2) 根据材料二并结合所学知识, 说明近代以来欧洲国家城市公共空间建设发展的原因。结合材料一简析我国公共空间建设应当注意的问题。(8分)

答案: (1) 特点: 历史悠久; 受政治因素影响较大; 与文化因素联系密切; 立足自身, 但也借鉴学习。积极作用: 满足了民众生活需求; 推动了城市的发展(城市化)和社会进步; 增强了社会凝聚力。

(2) 原因: 文艺复兴和启蒙运动促进思想解放; 资本主义工商业的发展, 全球联系的增强; 资本主义制度的确立; 工业化和科技进步的推动。

问题: 注重保护生态环境(注意环境污染问题), 人与自然的和谐; 重视精神文明的建设; 根据(顺应)时代趋势与国情需要; 满足人们日益丰富的公共生活的需要, 重视资源的节约和循环利用。

解析: 第(1)问第一小问, 根据材料一“相关理论在商周时期已经产生。但侧重政治、军事功

能……体现了‘天人合一’的理念。城市中的广场、牌坊、庙宇等常常与当地的历史、风俗有密切联系”“仿西方而修建的公园等休闲娱乐场所逐渐成为公共空间结构的新要素”“引入了社会资本和群体参与”, 从历史、政治影响、文化因素与借鉴学习等方面进行回答; 第二小问, 结合所学从满足民众生活、城市发展、社会凝聚力进行分析。第(2)问第一小问, 根据材料二并结合所学知识, 围绕15世纪的时代背景, 从政治、经济、思想、科学文化等角度展开分析; 第二小问, 综合两则材料并结合所学, 从环境保护、精神文明建设、资源合理利用以及民生等方面分析。

19. (15分) 阅读材料, 回答问题。

材料 16世纪开始, 曼彻斯特从军事要塞逐渐发展为工商业城市。1830年已有99家棉纺厂, 并开通世界上最早的现代化铁路。1838年, 设立议会和市政府, 摆脱了封建管理体制。19世纪下半期, 从传统的棉纺业衍生出许多新部门, 开通了通海运河, 可通往世界各地。20世纪初, 不断与周围工业社区及城镇连接, 发展为大城市。1961—1981年, 因过于拥挤, 人口大量外迁, 老龄化日益严重, 纺织业日趋衰落。20世纪后期, 城市中心被废弃的工业区包围, 几个大面积的旧贫民区仍然存在。

——摘编自克拉潘《现代英国经济史》等材料提供了英国一个城市发展的案例, 蕴含了城市化的诸多启示。从材料中提炼一个启示, 并结合所学世界近现代史的知识予以说明。(要求: 观点明确, 史论结合, 言之成理)

答案: 示例

启示: 城市化建设需要加强城市治理。

说明: 曼彻斯特在城市化过程中, 出现了一些新问题, 如城市拥挤、人口外迁、传统工业日趋衰落、大面积贫民区的存在等。这些问题的解决需要进一步加强城市基础设施建设, 提升城市品质; 改造升级传统产业, 重视发展第三产业, 优化城市经济结构; 深化城市经济体制改革, 缩小贫富差距。

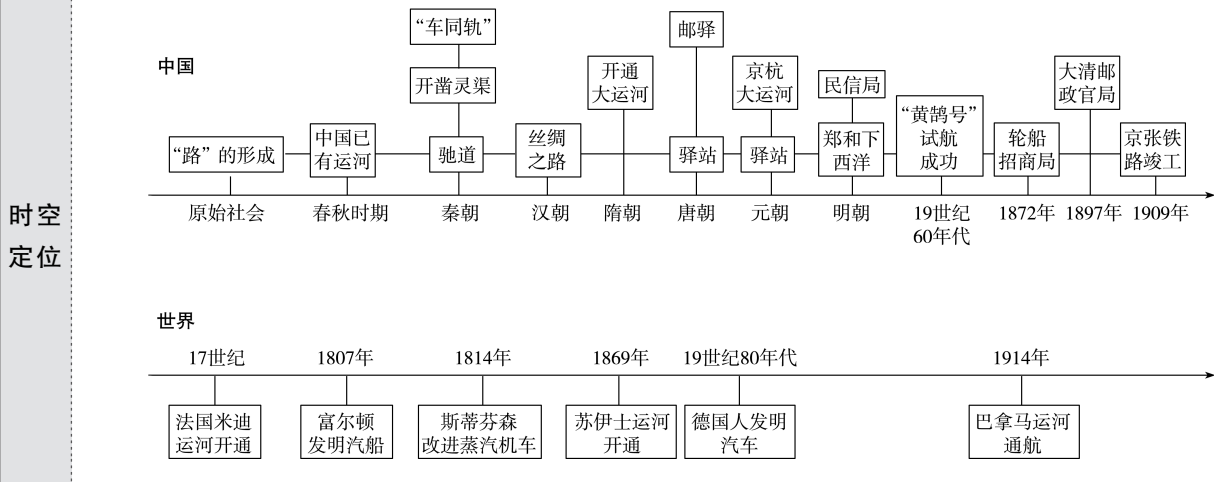
总之, 只有提高城市治理的现代化水平, 才能不断推进城市化建设深入发展。

解析: 根据材料“1961—1981年, 因过于拥挤, 人口大量外迁, 老龄化日益严重, 纺织业日趋衰落”可拟定论点: 城市化建设需要加强城市治理。关于阐释可从城市化引发的问题、解决措施(基础设施建设、产业结构升级、经济体制改革)等角度进行分析即可。最后进行归纳总结。

第五单元 交通与社会变迁

第12课 水陆交通的变迁

- 任务目标**
1. 了解古代的水陆交通建设及主要交通工具。
 2. 认识新航路开辟和工业革命对促进交通进步的作用。



问题式预习

一、古代的陆路交通与水路交通

1. 交通的起源

(1) 原始人在自然界中活动的习惯性的足迹形成了“路”。

(2) 人类转向定居生活以后,以住地为中心的交通进一步发展,但运输物品依赖的仍是天然的道路与河流。^[1]

2. 古代的陆路交通

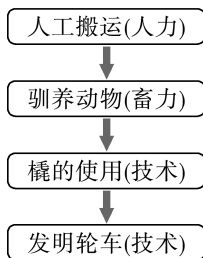
国别	陆路交通
罗马帝国	把罗马和各行省连接起来,形成“条条大路通罗马”的盛况
古代中国	秦朝: 修筑的 <u>驰道</u> 、直道和五尺道等,构成了以咸阳为中心的全国性道路网 ^[2]
	汉朝: <u>丝绸之路</u> 贯通后,成为连接亚、欧、北非的大通道
	唐朝: 驿道以 <u>长安</u> 为中心向各方辐射
	元朝: 扩展了汉唐的交通网,在全国遍设驿站,构成了以 <u>大都</u> 为中心通向全国乃至境外的驿路交通网

3. 水路交通

(1) 中国古代的运河(连线)

- | | |
|-------|--|
| ①春秋时期 | a. 开凿了以洛阳为中心的大运河,沟通了中国南方和北方 |
| ②秦朝 | b. 全长近1 800千米的京杭大运河,为世界之最 ^[3] |
| ③隋朝 | c. 已经有了运河 |
| ④元朝 | d. 开凿灵渠,沟通了长江和珠江两大水系 |

[1] 早期运输工具演进



轮车的使用是交通史上的“里程碑”事件。

[2] 秦朝五尺道

公元前 222 年开始,秦始皇修筑的以国都咸阳为中心、向四面八方延伸出去的秦代标准化道路。秦统一中国后,为了有效地控制在夜郎、滇国等地设立的郡县,秦始皇下令筑路。由于道宽五尺,因此名为“五尺道”,成为连接云南与内地的最古老的官道。

(2)法国:17世纪开通的米迪运河开辟了连接地中海和大西洋的新通道,是欧洲历史最悠久且目前仍在通航的运河之一。

(3)荷兰:17世纪阿姆斯特丹建立的运河系统,是荷兰经济和文化繁荣的重要体现。

二、对海洋的探索与全球航路的建立

1. 中国古代对海洋的探索

西汉时期——初步形成分别通向朝鲜半岛和日本、印度洋的东、南两条航线
 宋元时期——造船工艺和航海技术有了重大进步,使中国海船能够持续航行
 明朝时期——郑和七次下西洋,船队航行远达红海和东非沿岸,规模是历史上罕见的^[4]

中国古代已经形成了连通中国与东亚、南亚、西亚、非洲等地的“海上丝绸之路”。

2. 西方对海洋的探索

(1)古代西方对海洋的探索有①③④⑤(填序号)

- ①波利尼西亚人在太平洋诸岛活动
- ②印度人穿越印度洋
- ③维京人在北大西洋和北海地区探险
- ④腓尼基人首次横渡地中海
- ⑤阿拉伯人在印度洋开展海上贸易

(2)15世纪末16世纪初欧洲开辟了哪些新航线?有什么历史意义?

新航线:达·伽马发现从欧洲绕过非洲到达东方的航线;哥伦布到达美洲;麦哲伦船队完成环球航行;欧洲人还开辟了北大西洋和南太平洋的海上航线。意义:让全球海路大通,世界主要的大洋和大陆之间,通过海上航线建立了直接联系,环球交通网络逐渐形成。

(3)运河的开通^[4]

①苏伊士运河:1869年开通,连接了红海和地中海,成为西欧和南亚、东亚之间最近、最直接的水上通道。

②巴拿马运河:1914年通航,极大地缩短了大西洋和太平洋之间的航行距离。

三、工业革命与交通的发展

西方交通的蜕变

美国人富尔顿发明汽船	1807年
英国人制造的汽船试航成功	1812年
英国人斯蒂芬森改进蒸汽机车	1814年
欧美各国纷纷修建铁路网,铁路成为陆路交通主干,人类步入铁路时代	19世纪上半期
	19世纪60年代中期
	1872年
德国人发明了汽车	19世纪80年代
	1909年

中国交通的追赶

蒸汽动力轮船“黄鹄号”试航成功,揭开了中国近代造船工业的序幕
 轮船招商局在上海正式成立,成为中国近代航运史上的里程碑
 1881年唐胥铁路建成
 中国人自行设计和施工的第一条铁路干线京张铁路竣工

四、交通与社会变迁

1.加强了各地的沟通,促进了政治、经济和文化发展。秦朝“车同轨”政策和道路建设,提高了国家的行政效率,加强了中央集权,促进了不同地区的经济往来,具有深远影响。

[3]京杭大运河与中国历代的关系

京杭大运河最初并不是隋炀帝时修建的,早在春秋时期吴国为了讨伐齐国就已修建运河。到了隋朝,隋炀帝命人将运河大幅度扩修,直到完成。唐宋时期,大运河一度处于繁荣状态。元朝时把运河取直至北京,明清时期将其进一步疏通。至今为止已有2500多年的历史。

[4]苏伊士运河与巴拿马运河的相同点

- (1)都是大洲的分界线。
- (2)都为海运河,开凿后缩短了原航程。
- (3)都具有重要的经济和战略意义。
- (4)都位于发展中国家。

2.影响了城市的发展:清江浦的兴衰,郑州、纽约、曼彻斯特等地的崛起与繁荣。

3.方便了物品传递和信息交流

(1)古代的邮驿主要是为官方服务的,到明朝出现了民间通信机构民信局。

(2)1878年,天津海关书信馆对公众开放邮寄业务。

(3)1897年创办的大清邮政官局,是近代中国国家邮政的开端。

(4)电报、电话在晚清时传入中国。

任务型课堂

任务一 中国近代的交通事业

[探究活动]

材料一 中国的铁路始于1876年的吴淞铁路。

1881年,中国修建的第一条铁路——唐胥铁路为减轻顽固派的反对,一开始不得不采用马拉车箱运煤……1895年甲午中日战争中国战败后……铁路轮船被视为起衰振弊、救国图强的利器……从1895年到1911年,出现第一次铁路修建的高潮……但这些铁路大部分都有外国资金的介入,外国资本势力对它们仍具有一定的控制作用。

——摘编自朱荫贵《近代新式交通运输业与中国的现代化——以铁路轮船为中心的考察》

(1)根据材料一并结合所学知识,分析中国第一次铁路修建高潮的原因。

提示:甲午中日战争后,民族危机加深,帝国主义争夺中国铁路利权;实业救国思潮的兴起;清政府放宽对民间设厂的限制。

材料二 1895年,浙江宁波绅商最先创办了东海商轮局和永安商轮局。此后,福建、广东、广西、上海、苏州、杭州、镇江、湖北、湖南以及山东、天津、吉林等地商轮公司或轮船局相继开办,据统计,到1900年,各地先后开业的小轮船运输业约100家,轮船约有440艘,总吨约10 000余吨。

——摘编自《近代中国航运业之演进研究》

(2)根据材料二,概括19世纪末20世纪初我国航运业发展的特点。

提示:私营商轮局相继开办;商轮局兼营沿海和内河业务;商轮运输公司逐渐增加;轮船数量和吨位增加。

[评价活动]

(1)1872年,俄国出兵侵占我国伊犁,李鸿章借机提出改“土车为铁路”的主张,指出如果不修铁路,新疆等西北边境就无法运兵。英国垂涎云南、四川,如果中国自己开采煤矿、修建铁路,则列强将有所收敛。材料表明李鸿章主张修建铁路是为了 ()

- A.抵御列强经济、军事侵略
- B.镇压太平天国,维护清朝统治
- C.解决举办洋务的运输问题
- D.利用西方文明来挽救清朝统治

A 解析:根据“如果不修铁路,新疆等西北边境就无法运兵”“如果中国自己开采煤矿、修建铁路,则列强将有所收敛”可知,李鸿章主张修建铁路是为了抵御英、俄等列强对中国的军事和经济侵略,故A项符合题意。1864年太平天国运动失败,排除B项。材料反映的不是解决举办洋务的运输问题也不是利用西方文明来挽救清朝统治,排除C、D两项。

(2)近代以前的清江浦“舟车鳞集,冠盖喧阗,两河市肆,栉比数十里不绝”;到清末民初,“自海道开通,河运失效,商业遂一落千丈。津浦铁路通车后,出此途者益鲜”“昔之都会遂成下邑”。据此推断 ()

- A.外来侵略导致清江浦衰落
- B.清江浦兴盛衰落源于交通
- C.清江浦曾经是繁华的都市
- D.政府政策影响着城市经济

B 解析:材料描述的是清江浦的兴衰历程,根据材料并结合所学可知,清江浦因运河疏通而崛起,后因“河运失效”与津浦铁路的开通而衰落,由此可知,清江浦的兴衰源于交通,B项正确;材料未反映列强侵略对清江浦的影响,排除A项;C项只是对材料部分内容的陈述,而非推断内容,排除;D项与材料主旨不符,排除。

任务总结

中国近代交通业发展的特点及影响

1. 特点

- (1)从时间上看,起步晚,开端艰难。
- (2)从发展水平看,受到顽固势力阻碍、帝国主义的排挤等,发展缓慢,落后于同时代的西方国家。
- (3)从地域看,近代交通主要出现在东南沿海通商口岸及大城市,西北、西南发展缓慢。

2. 影响

- (1)积极影响:促进了经济发展,改变了人们的出行方式,一定程度上转变了人们的思想观念;促进了各地经济文化的交流,推动了中国现代化的进程;加强了中国与世界各地的联系,丰富了人们的生活。
- (2)消极影响:有利于西方列强的政治经济侵略。

提示:原因:工业革命;原料、商品运输发展的需要。影响:促进了人口、物资流动;加强了各地经济联系;改变人们的时间观念;扩大了人们的活动区域;促进了英国对外贸易。

[评价活动]

(1)18世纪中后期,英国沿海港口设施建设持续进行。1790—1815年,伦敦、利物浦、布里斯托尔、赫尔出现一系列的码头改善工程。到1830年,港口设施发生革命性变化,港池容量猛增。英国进行港口设施建设的主要原因是 ()

- 港口建设水平的提升
- 凯恩斯经济思想的盛行
- 公共交通方式的变革
- 工业化发展进程的需要

D 解析:结合所学内容可知,材料中的时间是英国的工业革命时期,通过工业革命英国的工业生产能力得到较大提高,对外贸易不断扩大,因此对港口的建设和容量提出了较高要求,D项正确;英国进行港口设施建设是为了迎合工业化发展的需要,并不是因为港口建设水平的提高和公共交通方式的变革,排除A、C两项;此时凯恩斯经济思想尚未兴起,排除B项。

(2)工业技术的日益成熟及工业生产效率的大增,既促进了交通运输能力的成熟,更需要交通技术的支撑,现代交通体系的完善使工业化向全世界扩展,使欧美国家迈开了向现代化转型的步伐。材料旨在强调 ()

- 工业革命使现代交通运输体系应运而生
- 工业化与交通变革在相互作用中共同发展
- 交通技术的进步推动欧美国家社会转型
- 交通变革正加速工业文明在全世界的扩展

B 解析:根据“既促进了交通运输能力的成熟,更需要交通技术的支撑,现代交通体系的完善使工业化向全世界扩展”可得出,材料旨在强调工业革命与现代交通相互促进的关系,B项正确;材料强调的是工业化与交通技术二者的关系,并不是单方面的,排除A、D两项;材料与社会转型无关,排除C项。

任务总结

理解工业革命对交通的影响

1. 解决了交通运输中的机械动力问题,推动了交通工具的变革。

(1)第一次工业革命中蒸汽机的广泛使用对交通工具的变革起了巨大的作用,产生了蒸汽机车、汽船等,人们迎来了“铁路时代”,便利了人们的交通出行,扩大了人们的视野,加强了联系。

(2)第二次工业革命中电力的广泛应用是其标志性成就,汽车、飞机等新型交通工具问世,推动了社会进步,加强了联系。

任务二 影响水陆交通发展的因素

[探究活动]

材料一 陆上丝绸之路沿途气候异常干燥,地形复杂,加之骆驼、马匹运载有限,更为严峻的是唐与吐蕃及西亚阿拉伯国家的冲突不断。安史之乱后,“国家用度”尽仰江淮。宋朝与辽、西夏、金等政权长期对峙,政府转而在广州、泉州等12处设市舶司,专司外商货物税。16世纪初,葡萄牙人开辟了从大西洋越过非洲自西而东进入亚洲的新航线,海上丝绸之路愈加发达。

——摘编自费正清《剑桥中国史》

(1)根据材料一并结合所学知识,指出丝绸之路由陆路转为海路的主要因素。

提示:主要因素:陆上丝绸之路受气候、地形限制;中原政权与少数民族政权、阿拉伯国家长期对峙;经济重心南移;技术的进步(造船和指南针);统治者的政策;新航路开辟(或地理大发现)的影响。

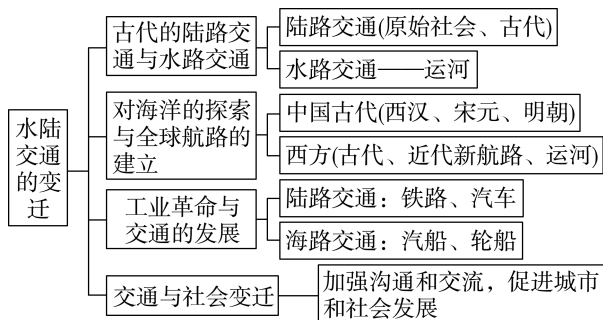
材料二 在一个国家的内陆交通方面,人们从未见过任何革命能够比得上英国在几年时间内所实现的那种革命。谷物、煤炭、各种货物的运输,几乎只需以前所用的马匹的半数。商业旅行快了一倍以上。农业进步与商业进步并肩前进。一切都呈现繁荣的样子。作为这个大运动的枢纽的东西就是我们道路的改革。

——摘编自保尔·芒图《十八世纪产业革命——英国近代大工业初期的概况》

(2)根据材料二并结合所学知识,说明18世纪英国交通领域变革的经济原因及交通变革对英国社会产生的影响。

2. 科技实现突破, 出现一系列发明, 人们的出行方式多样化, 便利了人们的沟通 and 交流。

► 提质归纳



1. 古代的道路铺设和运河开凿, 是经济发展到一定阶段的产物。
2. 秦国的驰道和罗马帝国大道有利于帝国统一, 促进经济贸易流通及文化的交流与传播。
3. 南宋经济重心南移的完成推动了海上丝绸之路的兴盛。
4. 航海经验的积累和技术的改进, 让人们海洋的探索从区域扩展到全球, 新航路开辟后, 环球交通网络逐渐形成。
5. 两次工业革命催生了轮船、火车、汽车等现代交通工具。
6. 交通的改进促进了政治、经济和文化发展, 带动了城市格局和社会生活的变化。

课后素养评价(十二) 水陆交通的变迁

基础性·能力运用

知识点 1 古代的陆路交通与水路交通

1. 西方有“条条大路通罗马”的说法, 中国古代也有“处处有路透长安”的谚语。这两句话蕴含的历史信息是 ()

- A. 长安城的设计借鉴了罗马城市布局
 B. 长安和罗马两地之间的交通网络密集
 C. 古代商路便利了东西方之间的文化交流
 D. 长安和罗马都曾经是交通网络的中心

D 解析: 罗马帝国的道路把罗马和各行省连接起来, 形成“条条大路通罗马”的盛况; “处处有路透长安”指条条路都可以通向长安城, 即长安和罗马都曾经是帝国交通网络的中心, 故选 D 项。长安城的设计与罗马城市布局不存在借鉴关系, 排除 A 项; 材料不涉及长安和罗马两地之间的交通状况, 排除 B 项; 路不等于商路, 且材料不涉及东西方之间的文化交流, 排除 C 项。

2. 1666 年, 法国国王路易十四授权皮埃尔·保罗·德里凯建造运河, 其目的是连通大西洋和地中海, 通过避开直布罗陀海峡、海盗和西班牙国王的船队, 促进贸易的繁荣。该运河是 ()

- A. 米迪运河 B. 伊利运河
 C. 苏伊士运河 D. 巴拿马运河

A 解析: 1666 年, 为了避开海盗威胁和西班牙关税, 连通大西洋和地中海, 国王路易十四授权皮埃尔·保罗·德里凯在法国南部修建了米迪运河, 故选 A 项; 伊利运河是美国在东北部地区修建的一条

运河, 它通过哈得逊河将北美五大湖与纽约市连接起来, 排除 B 项; 苏伊士运河 1869 年修筑通航, 在埃及贯通苏伊士地峡, 沟通地中海与红海, 排除 C 项; 巴拿马运河位于中美洲国家巴拿马, 连接了太平洋和大西洋, 排除 D 项。

知识点 2 对海洋的探索与全球航路的建立

3. 世界上最早实现横渡地中海的是 ()
 A. 波利尼西亚人 B. 腓尼基人
 C. 维京人 D. 阿拉伯人

B 解析: 波利尼西亚人很早就在太平洋诸岛活动, 腓尼基人首次横渡地中海, 维京人在北大西洋和北海地区探险, 阿拉伯人在印度洋开展繁忙的海上贸易。故选 B 项。

4. 葡萄牙人和西班牙人所开辟的新航线将海上丝绸之路从区域性的海上航线延伸为全球性的交通网络。此后, 欧洲人逐渐掌握了海上航线的主导权, 改变了传统“海上丝绸之路”以和平贸易为基调的特性。这反映出 ()

- A. 统一的世界市场最终形成
 B. 新航路开辟推动了资本主义扩张
 C. 世界各地之间的联系加强
 D. 中国丧失了在外贸易上的优势

B 解析: 由材料可知, 新航路开辟推动了海上交通的发展, 而海上交通的发展又推动了资本主义的扩张, B 项正确; 第二次工业革命后, 统一的世界市场最终形成, A 项排除; C 项与材料主旨不符, 排除;

题干未涉及中国在对外贸易上的变化,排除D。

知识点3 工业革命与交通的发展

5.交通工具的发展,便利了世界各地的联系,促进世界各地经济文化的交流。工业革命中交通运输领域的突破首先在 ()

- A.美国 B.英国
C.中国 D.德国

A 解析:根据所学知识,工业革命中交通工具的发明有1807年美国发明的汽船,1814年英国人发明的蒸汽机车,1866年中国制造的轮船,19世纪80年代德国人发明的汽车,故A项正确。

知识点4 交通与社会变迁

6.19世纪60年代到20世纪初,从纽约运往英国的小麦,或从孟买运往英国的棉花等主要商品的运价降低了2/3左右。这种局面出现的根本原因是 ()

- A.英国对殖民地掠夺的加剧
B.小麦、棉花产量的提高

C.工业革命带来运输业的发展

D.受英国经济危机的影响

C 解析:“19世纪60年代到20世纪初”正值两次工业革命时期,交通工具的革新推动世界各地联系加强,而且使得产品的运费大大降低,便利了商品流通,故选C项。

7.近代著名诗人黄遵宪在《今别离》一诗中写道:“别肠转如轮,一刻既万周;眼见双轮驰,益增心中忧……送者未及返,君在天尽头。”诗中反映的是 ()

- A.社会剧变导致人口的大量迁徙
B.近代交通工具改变人们的生活
C.马车及木船是人们出行的工具
D.近代出国留学热潮的兴起

B 解析:诗中反映的是诗人对别离的感慨,提到了在近代多样的交通工具影响下,人们离别的次数逐渐增多,别离的情绪使更多的人感受到了生活的变化,故选B项。A、C、D三项在材料中没有体现,排除。

综合性·创新提升

8.下表所示是唐代贞观到开元年间驿站设置的数量情况。据此推知,当时 ()

水路驿站	陆地驿站	水陆相兼驿站
260所	1 297所	86所

- A.大规模兴修“直道”和“驰道”
B.社会经济得到了恢复和发展
C.开辟了向西达大秦的“丝路”
D.驿站建设为国家统一创造条件

B 解析:驿站是古代供传递军事情报的官员途中食宿、换马的场所,唐代贞观到开元年间驿站有三种类型且数量较多,结合所学知识可知,贞观到开元年间唐朝经济有很大发展,社会空前繁荣,信息交流频繁,故选B项;“直道”和“驰道”是秦朝时期的重要道路,排除A项;丝绸之路是汉武帝时期开辟的,排除C项;“为国家统一创造条件”与史实不符,排除D项。

9.17世纪开通的法国米迪运河开辟了连接地中海和大西洋的新通道;1869年开通的苏伊士运河使得亚欧之间往来船只可以直接通行;1914年通航的巴拿马运河连通了太平洋和大西洋。这

些运河的修建 ()

- A.反映了欧洲交通体系的完善
B.推动了世界经济联系的加强
C.刺激了西欧人不断探索海洋
D.导致了世界经济发展不平衡

B 解析:根据材料可知,运河的修建缩短了航行距离,便利了交通运输,推动了世界经济联系的加强,故选B项;“完善”表述过于绝对,排除A项;运河的修建不是为了探索海洋,而是为了经济往来,排除C项;D项与材料无关,排除。

10.1869年,日本明治政府采纳英国工程师布兰顿意见,决定修建京滨铁路。建成后,“洋货”“洋风”“洋俗”以铁路为媒介迅速流行,它与东京银座街区同被视为“文明开化”象征。京滨铁路的修建 ()

- A.促成了立体化交通格局的形成
B.消除了“文明开化”的阻力
C.发挥了近代化改革的示范作用
D.得到了欧洲国家的大力支持

C 解析:根据材料可知,京滨铁路作为媒介推动了“洋货”“洋风”“洋俗”的迅速流行,有利于其他近代化事物的传播,发挥了近代化改革的示范作

用,故选 C 项;材料仅涉及京滨铁路的修建,没有明确交通格局的具体布局,排除 A 项;“消除了”表述过于绝对,排除 B 项;材料没有明确铁路修建过程中的具体国家支持情况,排除 D 项。

11. 阅读材料,回答问题。

材料 大运河的开凿对中国城市的发展产生了深刻的影响,集中体现在行政中心城市体系之外,出现了以扬州、临清、天津等为代表的大运河城市。

历代大运河沿线新兴城市概况

代表性城市	兴起时代	概况
扬州	隋唐	地“当南北大冲”而“百货所集”
汴梁	五代及北宋	以其转输中心的位置而迅速崛起,成为后周乃至北宋帝都之所在
天津、德州、临清、济宁、淮安、苏州、杭州	明清	因漕运而使商业贸易活动规模不断扩大,形成了在结构和功能上与传统行政中心城市体系有很大不同的新兴运河城市体系

——摘编自鲍成志《区域经济变迁与中国古代城市体系的演化》

根据材料并结合中国古代史的相关知识,自拟主题写一则历史短文。(要求:主题明确,表述成文,叙述完整,史论结合,条理清晰)

答案:示例

主题:大运河城市的兴起与经济重心转移存在关联。

黄河流域是中华民族的主要发祥地,是中国开发最早的地区,人口集中,经济文化发达,中国历史上的统一王朝多建都于北方。隋唐时期,随着大运河的开通和先进生产工具的使用,江南地区得到进一步开发,北方的经济重心地位受到挑战,扬州作为长江流域和大运河联系的咽喉,成为全国性的商业中心。五代及北宋时期,经济重心继续南移,开封(汴梁)作为帝都所在,集中了大量的人口和物资,加之临近大运河与黄河的优势,取代传统的长安、洛阳成为当时全国经济最发达的城市。随着南宋经济重心南移的完成,元朝对大运河的裁弯取直以及明成祖迁都北京,大运河作为漕运通道的作用愈发凸显,一些运河沿线的非传统政治中心城市异军突起。

综上,大运河城市的兴衰受到经济重心转移的深刻影响,大运河城市的布局变化体现了中国古代城市体系的不断完善。

解析:本题为开放性试题,答案言之成理即可。如根据材料“集中体现在行政中心城市体系之外,出现了以扬州、临清、天津等为代表的大运河城市”并结合所学知识可拟定主题:大运河城市的兴起与经济重心转移存在关联。关于阐释,可从北方黄河流域的开发、隋唐大运河的开凿对江南地区开发的影响、安史之乱后大运河带动南方城市发展及经济重心南移、两宋时期大运河对经济重心南移完成及带动相关城市发展、明清时期大运河对于沟通南北方经济交流的影响等角度进行分析,最后进行归纳总结。

第 13 课 现代交通运输的新变化

- 任务目标**
1. 知道 20 世纪交通飞速发展的现实。
 2. 认识 20 世纪交通运输的新变化对民众生活及社会变迁的意义。

时空定位	世界交通运输的新变化	美国莱特兄弟设计的“飞行者1号”成功升空	美国福特 T 型汽车诞生	美国开通从旧金山到洛杉矶等航线	世界上第一条高速公路出现	世界上第一条商业运营高铁通车	英法海底隧道开通							
		1903年	1908年	1914年	1932年	1950年	1964年	1969年	1988年	1994年	2008年	2014年	2019年	2020年
中国交通的新变化					中苏民用航空股份公司成立	中国第一条地铁一期工程完工	中国第一条高速公路建成	中国第一条高速铁路建成	京津城际铁路通车运营	中国在海外承建的第一条高铁建成通车	北京大兴国际机场竣工	中国高速公路总里程位居世界第一		

问题式预习

一、陆海交通的发展

1. 陆上交通的发展

项目	时间	概况
汽车	1908 年	美国福特 T 型汽车诞生。这是世界上第一款真正意义上的量产车，它的生产是当时先进的工业生产技术与管理的典范
	中华人民共和国成立后	中国的汽车工业发展起来，成为国民经济的支柱产业之一 ^[1]
高速公路	两次世界大战	高速公路出现。第二次世界大战后，在各国广泛发展
	1988 年	上海沪嘉高速建成，是中国大陆第一条高速公路
	2020 年底	中国高速公路总里程已达 16.1 万千米，位居世界第一
高铁	1964 年	日本“东海道新干线”通车运营，这是世界上第一条商业运营高铁
	2008 年	京津城际铁路通车运营，中国进入高铁时代
	2022 年底	中国高铁运营里程达 4.2 万千米，稳居世界第一 ^[2]

2. 海上交通的发展

(1) 世界船舶航运有哪些发展成就？

① **航运技术**：20 世纪，航运技术进一步提高，突出表现在航海雷达的使用和海事卫星通信系统的发展。船舶制造呈现出大型化、专业化、高速化和自动化等多种趋势。

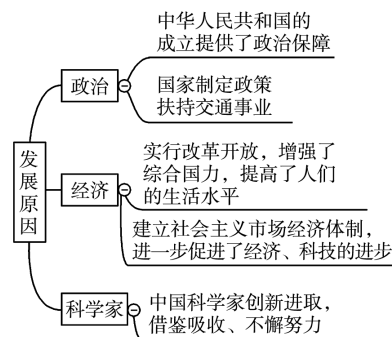
② **海底隧道**：1994 年开通的英法海底隧道，将英国和欧洲大陆更紧密地连接起来。

(2) **中国造船业**：1978 年前，主要为国防建设服务，此后逐渐融入市场。^[3]


[1] 中国汽车工业的发展

- 1949–1960 年初创阶段
兴建汽车工业，研制第一辆载货卡车和小轿车
- 1961–1980 年探索成长阶段
兴建“二汽”等一批汽车制造厂和配套厂
- 1981 年至今快速发展阶段
成立合资汽车公司，国产汽车迅速崛起

[2] 中国交通飞速发展的原因



[3] “东风号”远洋货船



“东风号”远洋货船是中华人民共和国成立以来第一艘自行设计建造的万吨级远洋船。该船

二、航空的发展

1. 世界航空的发展(判断正误)^[4]

(1)1903年,英国莱特兄弟设计的“飞行者1号”成功升空,开启了飞机时代。(×)

(2)1914年,美国开通了从旧金山到洛杉矶等航线;同年,定期的国际航班在欧洲开通。(×)

(3)20世纪上半期,金属材质飞机、喷气式飞机成为主流,飞机的速度、载量和航距都大大提升。(✓)

(4)20世纪80年代开始,宽体客机成为空中运输的主流。(×)

2. 中国航空的发展

(1)1950年,中华人民共和国成立第一家航空公司——中苏民用航空股份公司。

(2)2019年,各项数据表明,中国航空事业发展成果显著。

三、现代交通与社会生活

1. 快捷交通:人流和物流时间缩短,各种交通网络把整个世界联系成为息息相关的整体,变成“地球村”。

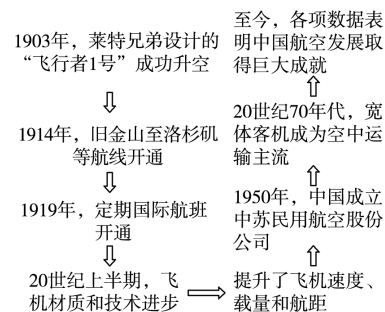
2. 出行方便:城市公共交通的发展促进了城市经济的繁荣、人口的增长及市区面积的扩大,使城市居民的工作和生活更为便捷。

3. 生活变化:交通工具时刻表,让现代时间观念逐渐成为人们生活的一部分。

4. 休闲方式:大众旅游潮流出现,普通民众从“旅”到“游”,在这一过程中开阔了视野,增长了知识。^[5]

由江南造船厂制造,1965年交付使用。

[4]世界航空技术的发展



[5]中国大众旅游潮流出现的原因

- (1)工作时间缩短,节假日增多。
- (2)社会主义市场经济体制的建立,激活了旅游市场。
- (3)现代企业制度的改革,增强了我国旅游企业的实力。
- (4)国民经济快速发展,城乡居民生活水平显著提高。

任务型课堂

任务一 现代交通运输的新特点

[探究活动]

材料一



材料二 (2022年)年末全国铁路营业里程达到15.5万千米,其中,高速铁路营业里程达到4.2万千米,复线率59.6%,电化率73.8%,全国铁路路网密度161.1千米/万平方千米。

——2022年交通运输行业发展统计公报

(1)根据材料一、二,与20世纪及以前的交通状况相比,21世纪以来陆上交通呈现出怎样的新变化?

提示:公共交通发展快,发送旅客量较大;高铁营业里程增长速度快,铁路交通向快捷化方向发展;全国铁路网形成并且密度高。

材料三 中华人民共和国成立以来部分交通工具变迁

年代	主要交通工具
20世纪50年代	主要靠步行、独轮车或牛马车;人力、畜力是主力;1950年8月1日,中国民用航空开航后,坐飞机前乘客都要先过秤,体重合格才能坐飞机——因为飞机小,载重能力有限,如果乘客太胖,飞机就可能因超载出现安全事故
20世纪60年代	公交车并不普及,由于国内石油资源紧张,公交车顶有一个大的煤气包。1969年10月1日,北京地铁一期工程建成通车,属于战备工程,不对公众开放
20世纪70年代	自行车与缝纫机、手表在当时并称为“三大件”,而且当时购买自行车得凭票。20世纪70年代末期,永久、凤凰、飞鸽等品牌的自行车开始风靡中国
20世纪80年代	摩托车是家庭富裕的象征;公交车开始普及;北京出租车黄色“面的”流行。1981年9月15日,北京地铁正式对外运营
20世纪90年代	公交车已经成为城市最主要的公共交通工具。20世纪80年代末90年代初,飞机线路和航班次数都很少

续表

年代	主要交通工具
21 世纪	私家车普遍,品牌众多,中国已跃居全球第一大汽车消费国;出租车上路更加绿色、环保、人性化。高铁、飞机成为国人常见的出行方式,新能源车辆加快推广

(2)材料三反映了我国交通变化的多种趋势,指出其中一种变化趋势并结合所学知识予以说明。(要求:观点明确,史论结合,史实准确)

提示:示例

趋势:交通工具技术不断改进,科技含量越来越高。

说明:中华人民共和国成立以来的一段时间,由于经济发展滞后以及计划经济体制的影响,人民生活条件有限,交通工具技术落后;改革开放以来,我国经济快速发展,科技不断进步,制造业、筑路技术亦不断进步。

[评价活动]

(1)下表为 1500—1960 年不同交通工具运输速度的变化。据此可推知 ()

时间	1500— 1840 年	1850— 1930 年	1950 年	1960 年
交通工具	马车、人力船	汽船、火车	螺旋桨飞机	喷气式飞机
速度	16 千米/ 小时	25—100 千米/小时	480—640 千米/小时	800—1 120 千米/小时

- A. 科技革命缩短了人们的空间距离
B. 科技发明引发了广泛的社会变革
C. 科技逐步满足了人们的物质需求
D. 科学技术与生产逐渐实现了结合

A 解析:根据表格可知,近代以来世界交通工具不断更新,运输速度加快,有利于缩短人们之间的空间距离,推动经济文化交流,故 A 项正确。B、C 两项题干并未体现,故排除;科学技术与生产的逐渐结合是科技革命发展的趋势之一,与题干无关,故排除 D 项。

(2)中国高铁技术的快速发展世界瞩目。下列对中国高铁技术迅速发展的原因叙述正确的有 ()

- ①坚持对外开放政策,积极吸收引进西方先进技术成果
②努力自主创新,抢占市场先机
③逐步建立社会主义市场经济体制,增强企业竞争力、生命力
④改革开放新时期的经济体制改革激发了企业职工的积极性

A. ①②③

B. ①②④

C. ②③④

D. ①②③④

D 解析:中国高速铁路迅速发展主要与中国改革开放以来积极吸收引进西方先进技术成果有关,①正确;同时中国通过不断的科技创新,抢占了市场的先机,②正确;21 世纪初,中国建立了社会主义市场经济体制,有利于增强企业的竞争力,③正确;改革开放以来经济体制不断改革激发了企业职工积极性,促使高铁建设的热情高涨,④正确。故 D 项符合题意。

任务总结

现代交通运输的新变化及其特点

1. 新变化

- (1)汽车、高速公路、高速铁路、航运等技术的发展,把陆海交通提升到一个新高度。
(2)飞机的发明和民航的发展,开辟了交通运输的空中通道。
(3)交通与通信网络相结合,更加便捷和精准。

2. 特点

- (1)高速化,提高通行能力。
(2)大型化,扩大运输工具的装载量。
(3)海陆空立体交通。高速公路、高速铁路、城市立交桥、钻山隧道、跨海大桥、海底隧道、大型客机纷纷涌现。
(4)便捷化、网络化和精准化。

任务二 现代交通运输的影响

[探究活动]

材料一 京沪高铁是世界上一次建成线路里程最长、标准最高的高速铁路。京沪高铁建成通车后,将对加快“环渤海”和“长三角”两大经济圈及沿线人流、物流、信息流、资金流的沟通交流,促进经济社会又好又快发展,产生重大积极影响。京沪高铁是高铁技术的集大成者,科技创新造就多个世界纪录。对沿线地方经济发展产生了直接的带动作用,也促进了相关产业的转型升级。

(1)根据材料一并结合所学知识,分析京沪高铁的建成对我国政治、经济和社会生活产生的重大影响。

提示:影响:加速我国铁路现代化进程,带动相关产业发展,提高自主创新能力;促进沿线工业化、城市化进程以及沿线思想文化交流和观念转变;加快“环渤海”和“长三角”两大经济圈之间的经济文化交流,促进沿线区域经济社会协调发展;有利于提振民族自信心和展示综合国力;铁路运输结构得到优化和完善;等等。

材料二 经文化和旅游部数据中心测算,2023年“五一”假期,全国国内旅游出游合计2.74亿人次,同比增长70.83%,按可比口径恢复至2019年同期的119.09%;实现国内旅游收入1480.56亿元,同比增长128.90%,按可比口径恢复至2019年同期的100.66%。国内传统热点旅游目的地城市北京、杭州、大理、厦门热度不减,重庆、长沙、淄博等网红城市备受关注,亲子玩乐、非遗、休闲度假、乡村旅游等受到青睐。根据文化和旅游部数据监测,4月28日18时至5月3日6时,243个国家级夜间文化和旅游消费集聚区夜间客流量7768.6万人次,平均每个集聚区每夜6.39万人次,较2022年同期增长114.5%。

(2)根据材料二并结合所学知识,分析旅游业的发展与交通运输之间的关系。

提示:旅游业发展与交通运输相辅相成,相互促进。旅游业的发展得益于交通运输的改进,尤其是改革开放以来我国逐渐进入构建现代综合交通运输体系时代,在铁路、公路、航空等方面均有较快发展。同时,旅游业发展也增加了就业,促进国民经济快速增长,这又为交通运输业的发展提供了坚实的经济基础。

[评价活动]

(1)2021年12月,日兰高铁曲阜至菏泽至庄寨段正式开通运营,菏泽首次接入全国高铁网。菏泽至北京、济南最快分别为2小时59分钟、1小时23分钟,这一铁路线完善了区域路网结构,增强了鲁南和中原地区交通互联互通性,将有效带动沿线城市经济发展。这表明 ()

- A.新型交通工具加快城市化进程
- B.经济版图彻底突破了地域界限
- C.人们的竞争意识正在逐步形成
- D.区域之间的经济联系日益密切

D 解析:根据材料可知,高铁开通后,把众多的城市连接在一起,形成交通圈,使得区域间的经济联系更加密切,D项正确;城市化进程的加快是指农业人口加快转变为非农业人口,与材料不符,排除A项;“彻底”表述过于绝对,排除B项;C项与史实和题干主旨均不符,排除。

(2)2023年2月,全国范围内启动了公共领域车辆全面电动化试点。在2022年底,深圳已经在900多条公交线路投入了纯电动公交车15896辆,实现公交100%纯电动化;年均节约34.5万吨标准煤,减少二氧化碳排量135.3万吨。由此可见,纯电动公交车的运行促进了 (C)

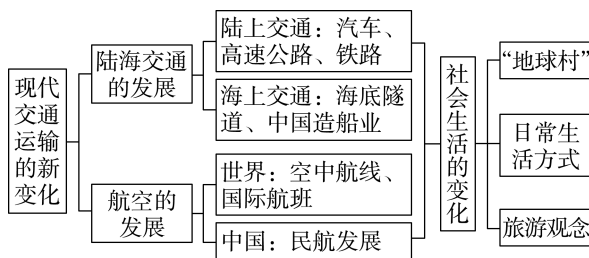
- A.经济增长与社会开放
- B.汽车制造业技术创新
- C.节能减排与环境改善
- D.人们出行方式的巨变

任务总结 ■■■■

中国高速公路发展的意义

- 1.提高了通行能力和运输效率,促进了经济社会持续健康发展。
- 2.大大方便了人们的生活。
- 3.推动了社会主义工业化和城市化的发展。
- 4.推动了改革开放进程。
- 5.促进了边疆少数民族地区的开发。

► 提质归纳



- 1.汽车、高速公路、高铁、航运等技术的发展,把陆海交通提升到一个新高度。
- 2.流水线生产模式大大提高了汽车生产的效率,降低了成本,使汽车进入平民家庭。
- 3.中国高速铁路的发展加速我国铁路现代化进程,带动相关产业发展,有利于提高民族自信心和展示综合国力。
- 4.飞机的发明和民航的发展,开辟了交通运输的空中通道。
- 5.交通的发展缩短了通行的时间,改变了人们的生活观念。

课后素养评价(十三) 现代交通运输的新变化

基础性·能力运用

知识点 1 陆海交通的发展

1. 世界上第一款量产车出自 ()

- A. 德国 B. 美国 C. 法国 D. 英国

B 解析:1908年,美国的福特“T型”汽车由汽车流水线装配而成,这是世界上第一款真正意义上的量产车,故B项正确。

2. 20世纪30年代为适应工业化和城市化的发展,高速公路出现。下列关于高速公路的说法,正确的是 ()

- A. 专供汽车分向、分车道行驶
B. 第一条高速公路是美国1932年修建的
C. 美国的高速公路总里程位居世界第一位
D. 中国大陆第一条高速公路建成于中华人民共和国成立初期

A 解析:根据所学知识,高速公路是专供汽车分向、分车道行驶的道路,故A项正确;1932年,德国建成世界上第一条高速公路,故B项错误;到2017年,中国高速公路总里程位居世界第一,故C项错误;1988年,中国大陆建成了第一条高速公路,故D项错误。

3. 1956年美国国会通过联邦资助公路法案,公布了前所未有的公共工程——建立全国州际和国防高速公路系统。同时出台法案建立了“公路信托基金”接受专用于公路目的的税收,此条款打破了美国国会不将税收专门用于指定目的的惯例。据此可知,美国 ()

- A. 三权分立体制有所调整
B. 联邦中央集权得到加强
C. 政府重视公共交通建设
D. 税收政策为国防而服务

C 解析:根据材料可知,美国国会专门出台联邦资助公路法案及建立“公路信托基金”,说明政府重视公共交通建设,以加强国防需要,应对冷战,故选C项;国会立法是行使其职权,没有调整三权分立体制,排除A项;建立全国州际和国防高速公路系统与加强中央集权无关,排除B项;税务政策是为国家服务,并不仅仅只为国防,排除D项。

知识点 2 航空的发展

4. 1903年12月,美国莱特兄弟设计的“飞行者1号”成功升空,飞机时代开始了。飞机的发明开辟了交通运输的空中通道。下列有关选项中,表述正确的是 ()

- A. 1919年定期的国际航班在欧洲开通

B. 20世纪50年代宽体客机成为空中运输主流

C. 20世纪70年代喷气式飞机代替螺旋桨飞机

D. 2019年中苏民用航空股份公司成立

A 解析:定期的国际航班在欧洲开通发生于1919年,故选A项;宽体客机成为空中运输主流发生在20世纪70年代,排除B项;20世纪上半期,喷气式飞机代替螺旋桨飞机,排除C项;中苏民用航空股份公司成立于1950年,排除D项。

知识点 3 现代交通与社会生活

5. 下表是1978—1988年中国客运量结构分布表(单位:万人)。

年份	铁路	公路	水运	航空
1978年	81 491	149 229	23 042	230.91
1988年	122 645	650 473	35 032	1 442

表格中中国客运量数据的变化,说明这一时期我国 ()

- A. 改革开放促进交通运输业发展
B. 科技发展使交通方式更加多样化
C. 经济体制改革推动了城市化
D. 对外开放政策加速了航空业发展

A 解析:根据时间“1978—1988年”和表格中的数据可知,改革开放后我国铁路、公路、水运和航空客运量都大幅度上升,这说明改革开放促进了交通运输业发展,故A项正确。表格中的交通方式在改革开放前就已经存在,故B项错误;材料没有体现我国城市化的发展,故C项错误;D项是对材料的片面解读,排除。

6. 日本“东海道新干线”自东京至大阪全长515.4 km,目前最高运营时速285 km,连接起东京、名古屋、大阪三个都市圈,沿线形成了“4小时经济圈”,1964年开通至2016年,其总客运量约56亿人次。对此解读正确的是 ()

- A. 高速公路推动城市一体化
B. 交通进步改变了城市职能
C. 高铁发展便利了人们生活
D. 城市化促进了航空业进步

C 解析:日本“东海道新干线”是世界上第一条商业运行高铁,它建成后,沿线形成了“4小时经济圈”,体现了高铁发展便利了人们生活,故选C项;日本“东海道新干线”不是高速公路,排除A项;这只是改变了区域城市经济规模,没有改变城市职能,排除B项;材料并未涉及航空业的进步,排除D项。

综合性·创新提升

7. 1913年,上海第一条电车线路通车。1914年11月15日,英商上海电车公司修建的十四路无轨电车开始通车,此为上海首创,被当时报刊称为“上海唯一之新发明”。这反映出近代上海 ()

- A. 崇洋之风盛行 B. 列强侵略加深
C. 生活方式西化 D. 生活节奏加快

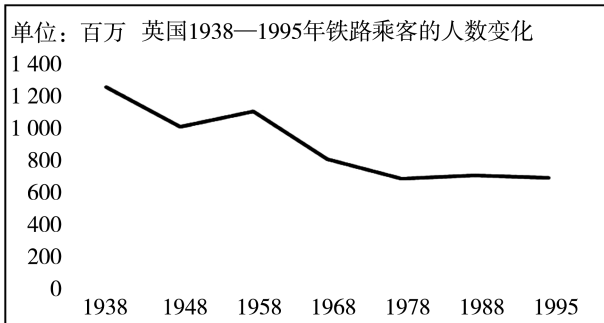
C 解析:上海无轨电车通车表明上海公共交通工具近代化,人们有了时间观念,生活方式向西方靠拢,故选C项;引进电车属于学习西方先进科技,不属于“崇洋之风”,排除A项;开通电车体现上海交通近代化,而不是列强侵略加深,排除B项;“生活节奏加快”与材料无关,排除D项。

8. 20世纪20年代人们这样概括交通的影响:“盖天津市发展之趋势,其初围绕旧城,继则沿河流,复次则沿铁道线,自有电气事业,则沿电车道而发展。”该材料旨在说明 ()

- A. 交通网络使城乡联系日益密切
B. 交通发展促进城市布局变化
C. 交通进步改变人们的出行方式
D. 交通现代化决定工业化进程

B 解析:根据题干可知,天津市的发展与河流、铁道线、电车道密切相关,体现了交通发展推动了天津市的城市布局,故选B项;题干未提及天津周边农村与天津市联系的信息,排除A项;材料反映的是天津市的发展,没有体现人们出行方式的变化,排除C项;“决定”说法过于绝对,排除D项。

9. 下图反映出 ()



- A. 新式交通工具冲击了铁路运输
B. 紧张的国际形势阻碍了人们出行
C. 铁路修建总里程数在逐渐减少
D. 铁路的发展落后于其他交通工具

A 解析:除铁路运输外,现代交通运输还有汽车及公路运输、飞机及航空运输、轮船及水运等多种方式,这些现代交通运输方式冲击了铁路运输,故选A项;1945—1995年间世界形势总体和平,排除B项;铁路修建总里程数在不断增加,排除C项;铁路运输在今天仍有着优势,排除D项。

10. 下图为某同学整理的大事年表(部分),据此判断 ()

1982年,中国首次按国际标准建造并交付了出口船舶。
1988年,上海沪嘉高速公路建成,是中国大陆第一条高速公路。
1989年,海南省航空公司成立并成为国内首家股份制航空公司。
2008年,京津城际铁路正式通车运营,是中国首条高速铁路。

- A. 中国立体交通体系得以建立
B. 改革开放助推交通发展
C. 中国国际竞争力跃居世界第二
D. 现代交通便利全球化进程

B 解析:根据材料可知,改革开放以来,中国航空、水路、铁路等发展迅猛,B项正确;材料未涉及立体交通,排除A项;C项与材料主旨无关,排除;材料与全球化进程无关,排除D项。

11. 阅读材料,回答问题。

材料 陇海铁路是贯穿中国东、中、西部最主要的铁路干线。1899年,清政府应允比利时国家铁路公司承办汴洛铁路。1909年,汴洛铁路全线竣工。1912年,北洋政府与比利时签订《陇秦豫海铁路借款合同》,决定以汴洛铁路为基础向东西方向修筑陇海铁路。1953年,陇海铁路全线建成通车。

改革开放以来,我国铁路运输快速发展,尤其是2008年京津高铁的开通运营,标志着我国铁路开始迈入高铁时代,高铁建设突飞猛进。2021年,全国铁路营业里程达到15万公里,其中,高速铁路营业里程达到4万公里,占铁路营业里程的26.67%,超过世界高铁总里程的2/3,居世界第一位。随着“一带一路”国家战略的推进,高铁作为中国制造的“名片”已经在全球市场竞争中赢得一席之地。未来中国高铁,不仅能有力带动世界经济增长,而且是构建“人类命运共同体”的重要载体。

——整理自中国高铁网、国家统计局资料
材料提供了近现代中国铁路事业发展的概貌,从中得出一个认识,并结合所学知识,加以论述。(要求:观点合理、明确,史论结合,言之成理)

答案:示例

认识:国家独立是中国现代交通迅速发展的前提条件。

论述:晚清民国时期,中国属于半殖民地半封建社会,国家没有独立。1881年,为解决洋务运动中民用工业的运输问题,在英国人的帮助下,中国人修筑了第一条实用铁路——唐胥铁路,标志着中国

铁路事业的诞生。洋务运动虽然开启了交通近代化,但是发展缓慢。

中华人民共和国成立后,国家实现独立自主。20世纪50年代至70年代,对社会主义经济建设进行的有益探索取得了巨大的成就。改革开放后,社会主义现代化建设进入一个新阶段,交通事业蓬勃发展,截止2021年,全国铁路营业里程达到15万千米,其中,高速铁路营业里程达到4万千米,居世界第一。综上,中华人民共和国成立,结束了半殖民地半封建

社会的历史,才使得中国现代交通建设迅速发展。

解析:根据题目要求,首先需要得出自己的认识。根据材料“改革开放以来,我国铁路运输快速发展,尤其是2008年京津高铁的开通运营,标志着我国铁路开始迈入高铁时代,高铁建设突飞猛进”可以得出认识:国家独立是中国现代交通迅速发展的前提条件。然后根据近代社会生活的变迁与新时期中国交通事业发展的相关知识展开论述。

易错强化练(五)

练易错

易错点1 | 古代的陆路交通与水路交通

[防范要诀]

1. 运输物品最初依靠人力或畜力,轮车的发明是交通史上的里程碑。古代的陆路交通分为原始道路和人工道路。人工道路的出现是生产发展的结果。
2. 运河的开凿体现了人类对水力的利用,加强了沿各地经济文化的交流。
3. 古代的道路铺设和运河开凿,是经济发展到一定阶段的产物。

[对点集训]

1. 目前考古发现的唐代瓷窑遗址有河北的定窑、河南的巩县窑、浙江的越窑、湖南的岳州窑等数十处,它们或临永济渠、江南河,或临黄河、长江、赣江、湘江、钱塘江等自然河流。这体现了 ()
 - A. 南北经济差距的拉大
 - B. 私营手工业占据主导地位
 - C. 水运的重要经济地位
 - D. 瓷器对外贸易规模的扩大
2. 15世纪,印加帝国道路系统达到最大规模,该系统从库斯科、秘鲁中心广场延伸出四条主干线,而后呈发散型并入到其他小公路网中。该系统的修建 ()
 - A. 得益于社会生产的发展
 - B. 使印加人转向定居生活
 - C. 开创了人工道路的先河
 - D. 实现了南美大陆的一统

A 解析:随着社会生产的发展,印加帝国动用大量人力、物力,使道路系统达到最大规模,用于传递政府的命令和情报,加强了中央对地方的控制和联系,故选A项;印加人以农业为主,主要作物有马铃薯和玉米,很早就过着定居生活,排除B项;“先河”

交通与社会变迁

说法错误,排除C项;印加帝国没有实现南美大陆的一统,极盛时的版图包括南美绝大部分地区,排除D项。

易错点2 | 近代时期的交通

[防范要诀]

1. 航海经验的积累和技术的改进,使人们对海洋的探索扩展到全球,全球航线得以建立。
2. 两次工业革命催生了轮船、火车、汽车等现代交通工具。
3. 交通的改进有利于政治、经济和文化的发展,带动了城市格局和社会生活的变化。

[对点集训]

3. 《申报》在20世纪30年代常刊登“共用黄汽车”“云飞汽车,日夜出租”“教授驾驶汽车,包领驾驶执照”等广告。这说明当时的上海 ()
 - A. 交通工具趋同化
 - B. 交通迈向近代化
 - C. 汽车驾驶普及化
 - D. 汽车制造国产化
4. 19世纪90年代,美国知名记者拉尔夫这样描述电车“以极快的速度呼啸而过,因此人们可以放心地将房子建在离他们的商店或办公室五六英里远的地方,那里配有独立的花园,可以享有宽敞的空间。”据此可知,电车 ()
 - A. 促进城市经济繁荣
 - B. 改变了人们的生活方式
 - C. 减少市政服务费用
 - D. 消除交通拥堵现象

B 解析:根据材料可知,电车这种新式的交通工具,便利了人们的出行,改变了人们的生活方式,故选B项;材料仅体现了电车在交通出行中的影响,没有明确表明对于城市经济的影响,排除A项;电车作为公共设施修建后市政服务费会有所增加,排除C项;电车不会“消除”交通拥堵,排除D项。

易错点 3 | 现代交通运输的新变化

[防范要诀]

- 20世纪以来,汽车的广泛使用、高速公路与高铁的铺设、航运技术的发展,把陆海交通提升到一个新的高度。
- 飞机的发明和民航的发展,开辟了交通运输的空中通道。
- 交通的发展缩短了人流和物流的时间,改变了人们的日常生活。

[对点集训]

- 曾经作为中国人主要交通工具的自行车,在汽车、摩托车大行其道的年代,几乎失去立足之地。可随着人们生活质量的提高和生活观念的转变,它又在呼唤环保健康的人群中再度找到了属于自己的位置。这说明 ()
 - 人们生活节奏变慢
 - 自行车具有便捷的特点
 - 中国人对自行车情有独钟
 - 人们环保、健身意识增强

D 解析:自行车出行不会对环境造成污染,而且可以锻炼身体,因此自行车在呼唤环保、健康的人群中再度找到了属于自己的位置,这说明人们环保、健身意识的增强,故D项正确。随着社会的发展,中国的社会生活节奏越来越快,故排除A项;B、C两项与材料信息不符,故排除。
- 下表是中华人民共和国成立初期到1992年国内交通发展情况表(部分)。据下表可知,我国 ()

项目	中华人民共和国成立之初	1992年
公路里程铺有路面的	39.5%	87.7%
铁路复线(双线铁路)率	4%	25.5%
电气化铁路	无	占营运里程 15.66%
水深1米以上的内河航道	32.9%	56%

- 已经建立起完善的运输体系
 - 运网设施质量已大为改观
 - 已经形成贯通全国的交通网
 - 交通运输布局已得到优化
- B 解析:**根据材料可知,与中华人民共和国成立初期相比,1992年我国公路、铁路、内河航道建设有显著进步,运网设施质量已大为改观,故选B项;材料反映的是我国公路、铁路、内河航道的质量问题,并不能说明已建立起完善的运输体系,排除A项;材料并无交通设施的空间布局,无法得出已形成贯通全国的交通网的结论,排除C项;材料反映的是运网设施质量的变化,并无交通运输布局的信息,排除D项。

练疑难

- 敦煌悬泉置遗址(驿站)出土的汉简记载,该驿站有官卒徒御37人、传马40匹和传车10多辆。在当时敦煌郡东西300千米的地面上有9座类似的机构。简文中有“郡当西域空道,案厩置九所……”的记录。这反映了 ()
 - 亭传邮驿是古代官方的交通机构
 - 丝绸之路是中外交往的主要通道
 - 边疆稳定是基层治理的有效成果
 - 道路畅通是政令统一的重要基础

D 解析:根据材料“郡当西域空道,案厩置九所……”可知,汉代加强了对边疆地区的管理,为此设置了一系列的驿站和类似的管理机构,以便确保国家政令在基层的畅通,故选D项;亭传邮驿是古代的文书传递系统,排除A项;丝绸之路是当时民间对外贸易的主要通道,排除B项;边疆稳定是中央政府加强对边疆治理的结果,基层治理主要针对的是地方乡里组织,排除C项。
- 元朝通过大运河将江南米粮运往都城;明太祖时则基本不再依靠大运河进行漕运;明成祖以后又全面恢复大运河漕运。对此解释合理的是 ()
 - 北方地区局势持续动荡
 - 江南地区成为全国的经济重心
 - 运河漕运具有明显优势
 - 政治中心的变迁影响运河漕运

D 解析:根据材料可知,元朝和明成祖后都城位于北方,而经济重心在南方,需要通过大运河漕运保证都城的物资供应;而明太祖时定都应天府(今南京),因此不需要运河漕运提供物资。这说明政治中心的变迁影响运河漕运,D项正确;材料没有涉及北方地区局势,排除A项;“江南地区成为全国的经济重心”符合史实,但不能说明变化的原因,排除B项;材料没有涉及其他运输方式,无法得出运河漕运具有明显优势,排除C项。
- 英国近代第一条运河是1757年开通的桑基运河,随之布里奇沃特运河于1761年7月通航,运河体系的最后一笔由19世纪90年代曼彻斯特轮渡运河的疏通完成。英国近代运河体系 ()
 - 满足了国内军事斗争需要
 - 推动形成统一的国内市场
 - 以蒸汽轮船广泛运用为前提
 - 适应大宗物资运输的需要

D 解析:英国人工运河的开发主要是为了满足经济发展需要,特别是大宗货物和商品运输需要,运河运输速度快、价格低廉,随着铁路系统的建成,运河体系停止建设,故选D项,A项排除。运河开发之前,统一的国内市场已经形成,B项排除。早期的运河开挖时,还没有蒸汽轮船,C项排除。
- 1872年,上海公共租界当局张贴了沪上第一张交通告示,内容包括“凡马车及轿子必需于路上左侧行走”“凡小车必由左边往来,唯不许走路旁相近

续表

之路中心行走”“凡马车于十字路口必得走慢”等。这说明 ()

- A. 当时租界的交通规则由上海地方当局制定
B. 汽车在中国已经出现
C. 交通规则呈现中西合璧的特征
D. 近代交通文明开始在上海逐步确立

D 解析:材料说明不同的车辆有着不同的行驶规定,属于近代交通文明,故材料主旨意在说明近代交通文明开始在上海逐步确立,故选D项。

11. 20世纪二三十年代,一种新的运输模式在美国出现,即铁路公司将满载货物的半挂车拖上火车,由火车“驮”运到目的地,再安排卡车直接将半挂车拖走,被形象地称为“驮背运输”。“驮背运输”模式的出现 ()

- A. 标志着美国全国铁路网的形成
B. 确立了铁路交通的主体地位
C. 突破了单一运输方式的局限性
D. 有效减少了经济危机的危害

C 解析:根据材料可知,“驮背运输”模式将火车运输和卡车运输进行结合,这种做法突破了单一运输方式的局限性,故选C项;“驮背运输”模式会促进美国全国铁路网的形成,但是并不具有“标志”的定位,排除A项;题干内容仅是提及将火车运输和卡车运输进行结合,并没有将这种运输模式与其他模式进行比较,排除B项;“驮背运输”模式是一种运输模式,与“经济危机”没有关系,排除D项。

12. 21世纪以来,移动通信工具的发展使得手机不仅代替了手表的计时功能,还可以作为购票的工具,因为手机购票更迅速更节省时间。这表明 ()

- A. 现代工业发展打乱了正常的生活节奏
B. 快捷交通开始把世界联系成为整体
C. 城市交通线路的轴线向四周辐射扩展
D. 现代时间观念成为人们生活的一部分

D 解析:材料强调随着交通技术的进步,时间观念也在变化,因此在现代社会交通便捷的背景下,现代时间观念也是人们生活的一部分,D项正确;A项中的“打乱”与题干主旨不符,排除;B项错在“开始”,排除;材料主旨是时间观念而非交通线路的扩展,排除C项。

13. 阅读材料,完成下列要求。

材料

时间	事件
1814年	英国人斯蒂芬森发明蒸汽机车,16年后利物浦——曼彻斯特铁路开通
19世纪20年代	欧美国家相继开始铁路建设

时间	事件
19世纪六七十年代	英国在印度的铁路建设进入高峰时期,用以运输当地重要的经济资源——棉花;同一时期,西方国家向清政府提出修筑铁路的要求,李鸿章等也提出修路建议,但均被清政府拒绝
1876年	英国人擅自修筑吴淞铁路,清政府将其买下并予以拆毁
1880年	中国首条自办铁路——唐胥铁路建成通车,为开平矿务局转运煤炭
1889年	清廷颁布上谕,宣布铁路之事“为自强要策”,可“毅然兴办”;此后,卢汉、沪宁、粤汉、正太、苏杭甬、津浦等铁路次第开办
19世纪末	欧美国家发明电力机车,建成电气化铁路
1911年	中国共有铁路干线20余条,9 946.6公里,初步形成以北京为中心、几大干线四面辐射的铁路运输网络

——整理自克里斯蒂安·沃尔玛尔
《铁路改变世界》

根据材料,提炼一个主题,并结合所学知识加以阐述。(要求:论题明确,持论有据,论证充分,表达清晰)

答案:示例

主题:晚清铁路事业的发展是中国近代化的缩影。
阐述:鸦片战争后,中国逐渐沦为半殖民地半封建社会。19世纪70年代,伴随外商在上海修筑铁路,铁路和火车机车传入中国。与此同时,洋务派官员也提出修筑铁路的主张。清政府对建设铁路的态度逐渐由拒斥转为提倡,近代中国的铁路建设进入一个新的时期。

到20世纪初,中国已建成多条铁路,奠定了中国近代铁路网的基本格局。

综上,近代中国的铁路建设经历了由少到多、由点到面的发展,见证了近代化发展的艰辛历程。

解析:本题是观点说明题,其观点需要自己拟定,从表格内容“1814年”“19世纪20年代”可以得出英国工业革命后铁路的发展,从“19世纪六七十年代”“1876年”“1880年”“1889年”则是近代中国铁路在外国影响下发展的历程,由此可以从多个角度来拟定论点,如从中国近代化的角度可拟主题:晚清铁路事业的发展是中国近代化的缩影。根据材料“西方国家向清政府提出修筑铁路的要求,李鸿章等也提出修路建议,但均被清政府拒绝”“英国人擅自修筑吴淞铁路,清政府将其买下并予以拆毁”“清廷颁布上谕,宣布铁路之事‘为自强要策’,可‘毅然兴办’”并结合所学相关史实分析概括。

单元活动构建

交通与社会变迁

【主题性概述】

随着物质生产的丰富、交流需求的增加和技术的发展,人们铺设道路,开凿运河,发明和改进车、船和飞机,不断拓展陆上、水上和空中的路线,将人员和物资越来越快捷、安全地从一个地方运输到另一个地方。新的交通方式便利了人们的生活,推动了城市的兴起与发展,促进了国家的政治、经济和文化的进步。世界逐渐成为联系密切的整体。

构建任务一 近代交通的发展

「学术性观点」

观点一 工业革命初期,英国运河运输兴旺起来。英国运河运输业的发展既得力于市场经济发展需求,又受益于政府引导和扶持。运河兴建过程中出现的购买土地、江河改道、穿越公路等问题,国家统一协调。有许多运河获得政府资助。此外,国家还给运河运输业一定程度上的政策倾斜,如减免税收。但随着铁路兴起,运河运输逐渐衰落下去。

——摘编自张卫良《工业革命前英国交通运输业的发展》

观点二 随着近代交通的发展,清政府设立机构进行管理。1906年,清政府设立邮传部,管理轮船、铁路和电邮。1907年,邮传部下设船政司,专门管理水上交通。清末邮传部为了振兴航运业,采取了以下措施:调查各地航运业发展状况;制订注册章程,健全规章制度;以资金补助航运。此外,邮传部还制订内河航运计划,积极发展内河航运,采取措施反对垄断。为了对抗外国航运公司,成立中美轮船公司,开通国际航线。邮传部竭力维持中国航运业发展。民国元年,邮传部改为交通部,分为总务、路政和邮电三股,船政由邮电股兼管,不久设航政司专管。民国政府还颁布了一系列法令规范水上交通,例如《船舶法》《船舶登记法》《内河航运章程》等。

——摘编自白寿彝《中国交通史》

「开放性活动」

情境材料: 中外交通运输发展情况

地区	事件
西方	1807年,美国人富尔顿发明了汽船
	1812年,英国人制造的汽船试航成功
	1814年,英国人斯蒂芬森改进了蒸汽机车
	1825年,英国“旅行者号”机车试车成功
	19世纪上半期,欧美国家纷纷修建铁路网
	19世纪80年代,德国人发明汽车(20世纪前还未普及)

续表

地区	事件
中国	19世纪60年代中期,中国人建造的“黄鹄号”蒸汽轮船试航成功
	1872年,官督商办的轮船招商局在上海成立
	1881年,唐胥铁路(中国人修建的第一条实用铁路)建成
	1909年,京张铁路(中国人自行设计和施工的第一条铁路)竣工

问题: 根据材料,围绕“近代交通变迁”自行拟定一个具体论题,并就所拟论题进行阐述。(要求:明确写出论题,表述成文,持论有据,论述充分,逻辑清晰)

解答:

示例一

论题: 近代蒸汽机的发明推动交通运输业的发展。

阐述: 蒸汽机的发明,推动了西方近代交通的突破性发展,汽船、火车等新式交通工具和以铁路为代表的新式交通方式也登上历史舞台。19世纪晚期,出现了以内燃机为动力的汽车、远洋轮船等。同时,西方列强凭借技术革命的优势,逐步打开中国大门,客观上推动了中国交通运输业的近代化。

示例二

论题: 近代交通运输业的发展呈现不平衡性。

阐述: 工业革命后,欧美国家交通建设的速度加快,新式交通工具汽船、火车、汽车以及以铁路为代表的新式交通方式获得快速发展,以欧美为主导的世界贸易格局逐渐形成;在西方工业文明的影响下,近代中国以汽船为代表的新式交通工具和以铁路为代表的新式交通方式也获得一定发展,但受半殖民地半封建的社会环境的制约发展艰难。

「常规性活动」

1. 1872年,李鸿章筹划创办轮船招商局。轮船招商局开办后,要消耗大量燃料,于是刺激了煤矿开采业的发展;要解决原料问题,于是有了有色金属矿厂

的开办；又产生陆上运输的问题，于是促进了铁路的修建；因铁路的修建需要大量优质钢材，于是1889年筹办汉阳铁厂。这表明轮船招商局的创办

()

- A. 满足了近代交通运输的需求
- B. 推动了近代民族工业的产生
- C. 有利于推动中国经济近代化
- D. 引发了中国经济结构的变动

C 解析：根据材料并结合所学知识可知，轮船招商局的创办刺激了其他近代企业的建立，有利于推动中国经济的近代化，C项正确；材料未体现轮船招商局的创办与满足交通运输需求的关系，排除A项；近代民族工业产生的主要原因是外国列强的经济侵略和洋务运动的诱导，轮船招商局本身就属于近代民族工业，排除B项；引发中国经济结构变动的的原因是西方的经济侵略，排除D项。

2. 1825年，英国建成了世界上第一条铁路，同年9月“旅行者号”机车拖着30多节小车厢正式试车，车厢载有450名乘客和90吨货物，“旅行者号”火车以每小时24千米的速度跑完了40千米的路程。材料反映出

()

- A. 英国交通技术领先世界
- B. 世界科技中心西移
- C. 近代交通运输业的发展
- D. 蒸汽时代的到来

C 解析：材料体现的是火车的出现，助推了近代交通运输业的发展，C项正确；材料无法体现英国交通技术领先世界，排除A项；材料与科技中心转移无关，排除B项；瓦特改良蒸汽机标志着蒸汽时代的到来，排除D项。

3. 19世纪，英国利用自己最先进的科学技术对中世纪遗留下来的旧的交通运输体制进行了彻底的改造，通过海洋运输网把本国铁路网、内河网、公路网同殖民地的铁路网、内河网、公路网紧密地联结在一起，建立起一个新的、全球性的近代化交通运输体系。对此现象解读较合理的是，英国全球交通运输体系

()

- A. 直接得益于世界市场的发展
- B. 是工业革命深入发展的需求
- C. 促进了英国的资本原始积累
- D. 使贸易经营方式开始近代化

B 解析：英国构建全球性的近代化交通运输体系，主要是服务于其商品输出的目的，是工业革命深入发展的需求，B项正确；全球交通运输体系的构建首先得益于技术的发展，排除A项；这一时期，英国已经完成了资本原始积累，排除C项；新航路开辟后，贸易经营方式已经发生转变，排除D项。

4. 1850年，法国铁路总里程从原先的3000多千米增加到16000千米。法兰西第二帝国时期，政府把承建公司对铁路享有的专利权限延长至99年，并对40多家铁路公司进行干预融合，合并为6家大的铁路公司。这些措施

()

- A. 促进了近代交通运输的发展
- B. 开创了国家干预经济的模式
- C. 巩固了法国共和政体的稳定
- D. 实现了生产组织形式的变革

A 解析：根据材料“政府把承建公司对铁路享有的专利权限延长至99年”“对40多家铁路公司进行干预融合，合并为6家大的铁路公司”等信息可知，19世纪中期，法国政府对铁路公司进行干预调整，有利于铁路事业的有序发展，进而推动法国近代交通运输业的发展，故A项正确；20世纪30年代，美国罗斯福新政开创了国家干预经济的模式，故B项错误；巩固法国共和政体的稳定是通过1875年宪法，故C项错误；材料内容主要体现了法国政府对铁路运输业方面的调整，没有涉及生产组织形式方面的变革，故D项错误。

「活动后结论」

得出你的结论：_____

构建任务二 近现代交通的发展与社会生活的变迁

「学术性观点」

观点一 近代以来，轮船、火车和公共汽车相继传入中国。对于那些最初接触这些新式交通工具的中国人来说，因为这些新式交通工具空间狭小，存在着巨大的心理障碍——对“男女混杂”的担忧，在使用传统交通工具的时代，陌生男女共处于某一交通工具内的情况是很少见的，人们或走路、或骑马、或坐轿、或行舟，一般情况下都各自处于一个独立的

空间内，发生“男女杂坐”的机会是很少的。因此，在近代交通工具进入中国的早期，经营者为了吸引更多的乘客，当务之急就是消除乘客对“男女混杂”的疑虑。但是，在城市化、城市近代化的过程中，随着人际流动的频繁，男女同处一个公共空间，特别是狭窄、拥挤的“大众乘物”上的情况越来越多，人们从开始时的忧虑、防范，逐渐过渡到习以为常。

——摘编自苏生文、赵爽《西风东渐——衣食住行的近代变迁》

观点二 中国高铁行业的技术创新,带动了关联产业的发展,提升了中国产业的全球竞争力,优化了出口贸易结构。中国高铁“走出去”,使中国进入“新陆权”时代,由此必然带来世界海权与陆权格局的变迁,从而产生巨大的地缘政治效应,同时还推动了沿线国家在核心价值同一性的基础上,充分尊重各国各民族文化的差异性,形成彼此尊重、交融、互相学习的“朋友圈”与“文化圈”。

——摘编自徐飞《中国高铁的全球战略价值》

「开放性活动」

情境材料:自行车的历史

19世纪,骑马还是很受欢迎的出行方式,但马匹需要专人打理,马粪也会给道路带来污染。1817年,冯·德莱斯男爵发明了能够保持平衡的“跑步机”。1867年巴黎世博会上,前轮安装了脚蹬的“米肖自行车”吸引了成千上万人前来参观。这种装着木头轮子的自行车价格昂贵,是富有阶层的娱乐工具。1870年,一种配有钢质辐条的车轮诞生。1885年,英国人约翰·斯塔利发明了罗孚安全自行车。1888年,充气轮胎的发明提高了骑行的舒适性,自行车逐渐流行起来。不少女性加入骑行行列,她们抛弃沉重的裙装,走出深居简出的生活,“体验到前所未有的自由与自主”。20世纪上半叶,自行车大批量生产,进入千家万户,成为普通民众的宠儿。“工人和职员不必住在工厂附近,可以选择享受郊区的环境;农民不必困在乡野,而可以选择体验城市的繁华。”自行车形成完备的生产、销售和维修体系。第二次世界大战后,汽车行业蓬勃发展,远距离高速的舒适体验使汽车取代自行车成为主要交通工具。20世纪70年代后,因石油价格上涨、工业污染以及汽车带来的交通拥堵,一些国家重新倡导自行车交通。近年来,与移动互联技术相结合的共享单车兴起。自行车没有噪音和污染,又能锻炼身体,深受市民的喜爱。

问题:阅读材料并结合所学知识,从交通与社会变迁的视角,解读自行车的发展历程。(要求:提取信息充分;总结和归纳准确、完整;解释和分析逻辑清晰)

解答:

发展历程:自行车的发展与社会进步相适应,反映了生产力的巨大提高。19世纪初,工业革命时期,平衡“跑步机”的发明为自行车的发明奠定了基础;19世纪60—70年代,工业革命继续扩展,在传统基础上实现了木质自行车向钢质自行车的跨越;19世纪晚期,

充气轮胎的发明提高了骑行的舒适性,自行车逐渐流行起来;20世纪上半叶,自行车进入千家万户,成为普通民众的必备工具;第二次世界大战后,汽车行业蓬勃发展,汽车取代自行车成为主要交通工具;20世纪70年代后,因石油价格上涨、工业污染以及汽车带来的交通拥堵,一些国家重新倡导自行车交通;近年来,共享单车兴起,深受市民的喜爱。自行车的发明适应了工业发展的需要,满足了人们骑行生活的需求,与时代变化相适应。

「常规性活动」

1. 下图是清末时期描绘上海社会生活的时事画。画中最能反映近代社会生活变迁的是 ()



- A. 交通工具
B. 通信工具
C. 建筑风格
D. 饮食习惯

A 解析:图中的人正在骑自行车,所涉及的是交通工具方面,故A项正确;B、C、D三项不能从图中得出,排除。

2. 1922年上海的公共汽车公司在报纸上打出这样的营业广告:“要求事业速成,必须交通便利,要求事业速成,必须时间经济,请看欧美列强由人力车而马车,由马车而脚踏车而汽车、电车,愈来愈省时间,有利于农工商学各界。”材料表明,新式公共交通的兴起 ()

- A. 适应了城市居民工作与生活的需求
B. 大大加快了城市职能的根本性变化
C. 推动了报纸、广告等传媒的变迁
D. 促使西方生活方式成为中国主流

A 解析:根据材料“要求事业速成,必须交通便利,要求事业速成,必须时间经济,请看欧美列强由人力车而马车,由马车而脚踏车而汽车、电车,愈来愈省时间”可知,该广告认为新式交通有助于提高效率,这适应了城市居民工作与生活的需求,A项正确;“城市职能的根本性变化”表述太过绝对,排除B项;材料信息没有体现出大众传媒的变迁,排除C项;“西方生活方式成为中国主流”表述错误,不符合史实,当时的主流仍然是中国传统的生活方式,排除D项。

3. 1969年10月中国第一条地铁——北京地铁一期工程建成完工,有学者记录其发展历程:“北京地铁随着共和国的成长而不断发展。一张现代、安全、便捷的轨道交通网络即将构建完成,让生活在北京这座伟大都市的每一个人都在感受着地铁带来的便捷与高效。”该学者强调北京地铁 ()
- A. 引发了城市交通拥堵
B. 改变了人们的生产方式
C. 带来了大众旅游潮流
D. 缩短了人流和物流时间
- D 解析:**根据材料“现代、安全、便捷的轨道交通网络即将构建完成”“每一个人都在感受着地铁带来的便捷与高效”可知,作者强调的是北京地铁快捷高效,从而缓解了城市地面交通拥堵问题,缩短了人流和物流的时间,D项正确,排除A项;地铁与人们的生产方式无关,而是与出行方式和运输方式有关,所以不会改变人们的生产方式,排除B项;材料未涉及地铁的修建带来大众旅游潮流,排除C项。
4. 2008年,为吸引国内外科技公司到重庆投资建厂,重庆机场一方面不断完善基础设施,延长跑道,规划物流园区,建立了IT专用货站、分拨中心以及保

- 税港区等配套设施;另一方面,积极开通国际及地区货运航线。这可用来说明 ()
- A. 航空经济改变了重庆的经济结构
B. 经济体制改革加速与国际接轨
C. 航空发展利于推动产业结构升级
D. 空中通道开启了贸易的自由化
- C 解析:**根据材料并结合所学知识可知,重庆升级改造机场和增设航线以达到招商引资的目的,这些措施有利于科技公司的入驻,推动重庆产业结构的转型升级,C项正确;“改变了重庆的经济结构”不符合史实,当前我国坚持以公有制为主体、多种所有制经济共同发展的基本经济制度,排除A项;开通国际货运航线不等于加速与国际接轨,排除B项;贸易自由化并不是由空中通道开启的,D项说法与史实不符,排除。

「活动后结论」

得出你的结论: _____

第五单元质量评估

交通与社会变迁

(时间:90分钟 分值:100分)

一、选择题(本题包括15小题,每小题3分,共45分)

1. 元大都“去江南极远,而百司庶府之繁,卫士编民之众,无不仰给于江南”,因而,划直修凿大都通往江南的京杭大运河已是势在必行。同时,从江苏刘家港入海,北上至界河口(今天津大沽)的海上运输也开辟全线通航。这些交通建设的创举 ()
- A. 使大都成为国际性商业大都会
B. 极大地缩小了南北经济差距
C. 得益于统一多民族国家的建立
D. 组成以大都为中心的交通网
- C 解析:**材料讲述了元朝重新统一后为解决政治和经济重心分离的问题,尤其是南方财赋和粮食北运的问题,对漕运进行大胆创新,海运和内河航运并举,这得益于统一多民族国家的建立,故选C项;材料与国际贸易无关,无法得出使大都成为国际性商业大都会,排除A项;结合所学知识可知,元朝时期南北经济差距继续扩大,排除B项;元朝在全国普遍实行驿站制度,设有驿站1500多处,以大都为中心,组成了四通八达的交通网,排除D项。
2. “古典文明”时期的中国汉朝、古希腊、古罗马帝国,都投入很多资源开辟道路、修建桥梁、改善交通,这

- 个时期形成连接欧亚大陆的“丝绸之路”。当时交通建设的主要目的是 ()
- A. 控制本国广阔的疆域
B. 提高行政与军事能力
C. 促进各地文化的交流
D. 适应大规模经济贸易
- B 解析:**据材料并结合所学知识可知,古代统治者交通建设多用于行政与军事方面,主要目的是巩固统治,故B项正确。控制本国广阔的疆域,与连接欧亚大陆的“丝绸之路”不符,故A项排除。促进各地文化的交流,与政治军事相比不是主要目的,故C项排除。经济贸易也不是主要目的,故D项排除。
3. “尽道隋亡为此河,至今千里赖通波。若无水殿龙舟事,共禹论功不较多。”诗中的“千里赖通波”指大运河 ()
- A. 加强了南北交通
B. 有千里之长
C. 起到防洪作用
D. 发挥灌溉作用
- A 解析:**结合所学可知,为加强南北交通,巩固隋朝对全国的统治,隋炀帝开通了纵贯南北的大运河,运河的开通大大促进了南北经济的交流,故A正确。

4. 运河的开凿利用有时会影响某个国家的历史走向,或在某个地区或世界战略格局中发挥举足轻重的作用。下列对运河所产生的影响,解读正确的是 ()

- A. 京杭大运河——沟通中国境内长江和珠江两大水系
 B. 米迪运河——成功连接了红海和地中海两大海域
 C. 巴拿马运河——缩短了大西洋和太平洋之间的航距
 D. 苏伊士运河——成为连接地中海和大西洋的新通道

C 解析:1914年巴拿马运河通航,极大地缩短了大西洋和太平洋之间的航行距离,故选C项;京杭大运河沟通了海河、黄河、淮河、长江、钱塘江五大水系,沟通中国境内长江和珠江两大水系的是灵渠,排除A项;米迪运河连接地中海和大西洋两大海域,没有连接红海,排除B项;苏伊士运河连接了红海和地中海,没有连接大西洋,排除D项。

5. 有历史学家在考察19世纪欧洲运输革命与工业革命的关系时指出:“这种运输设施的开展,使先前未曾开发地区卷入世界经济活动内,更因其克服运输量、畜力、季节及移动速度等限制……工业革命成果得以扩大。”该史学家所说的“运输革命”最有可能是 ()

- A. 铁路的兴起 B. 汽车的量产
 C. 轮船的通航 D. 运河的开通

A 解析:根据材料“19世纪欧洲运输革命……使先前未曾开发地区卷入世界经济……克服运输量、畜力、季节及移动速度等限制”等信息可知,这一运输革命最有可能是铁路的兴起,A项正确;汽车的量产与材料信息不符,排除B项;轮船与材料信息不符,排除C项;运河早已开通,排除D项。

6. 中东铁路建成后,旅顺通往圣彼得堡的旅程只要十三四天,比走海路节省一半时间,路费也只需原来的半数。对此解释合理的是 ()

- A. 俄国对中国的资本输出较多
 B. 英俄间贸易往来比较频繁
 C. 近代交通的发展便利商品出口
 D. 近代交通的发展促进人员流动

C 解析:中东铁路建成通车后,大大节省了旅程的时间及费用,便利了欧亚大陆的联系以及商品的出口,故C项正确。A项材料无法体现,排除;B项不是对材料的完整解读,排除;D项不是材料的核心思想,排除。

7. 英国商人塞缪尔·肯纳德建立了一条横越大西洋的定期航运线……宣扬它已经取代了帆船时代的

航线,成为“海洋铁路”。这一条“海洋铁路”形成是由于 ()

- A. 新航路的开辟 B. 汽船的应用
 C. 蒸汽机车的发明 D. 内燃机的发明与应用

B 解析:工业革命后,交通运输工具取得巨大成就,其中汽船的发明及应用,“取代了帆船时代的航线,成为‘海洋铁路’”。故选B项。

8. 20世纪30年代,某报刊评论道:“上海近日以乘汽车为豪,每至礼拜日,必有许多少年男女同乘一车,疾驰于南京路、静安寺路、福州路。”这说明当时上海 ()

- A. 汽车已经走进普通百姓家庭
 B. 交通全面实现现代化
 C. 新式交通工具冲击着传统观念
 D. 奢侈风气最为盛行

C 解析:从材料明显可以看出,在上海出现了乘坐汽车的现象,而且男女同坐一车,这体现了新式交通工具冲击着传统观念。故选C项。

9. 晚清时期,多种邮递方式并存,出现了“官办驿站既贪污腐败,又不传递商民邮件;民信局虽然活跃,但又各自为政,过于分散;各国在华‘客邮’,既侵犯中国主权,又任意走私”的局面。这段材料可以用来说明 ()

- A. 建立近代邮政制度的必要性
 B. 清政府成为列强统治中国的工具
 C. 列强“客邮”居于优势地位
 D. 晚清时期长途贩运发展

A 解析:根据题干信息可知,晚清时期,官办驿站、民信局、各国在华“客邮”并存,各自为政,这说明建立近代统一的邮政制度十分必要,故选A项;“清政府成为列强统治中国的工具”是在1901年《辛丑条约》签订后,且题干未提及清政府听命于列强,排除B项;题干未提及列强“客邮”与中国官办驿站、民信局的比较,排除C项;“长途贩运发展”与商品交易相关,而题干提及的是邮递方式,排除D项。

10. 19世纪40年代,中国茶叶从广州到伦敦的运费为30—40银戈比/普特(戈比:俄国货币名称,1普特≈16.38千克),19世纪七八十年代该路线茶叶运费跌落至3—4英镑/吨。据此推测费用下降的原因最可能是 ()

- A. 工业革命后轮船具有更大的载重力
 B. 苏伊士运河开通后航程缩短
 C. 石油大量开采促进能源动力的革新
 D. 铁路运输的发展使运力大增

B 解析:根据材料可知,19世纪40年代运费较高,需要从非洲绕过好望角,路途遥远,1869年苏伊士运河开通,大大减少了航行的距离,19世纪七

八十年代,运费跌落,B项正确;工业革命后轮船具有更大的载重力只是一个原因,但不是最主要的原因,排除A项;石油大量开采促进能源动力的革新,也不是主要原因,排除C项;材料未涉及铁路运输的相关内容,排除D项。

11. 清朝定都北京后,仿明制实行漕运制度。光绪二十三年(1897年)京奉铁路建成通车,此后京汉铁路、津浦铁路也相继通车。光绪二十七年(1901年)七月清政府下令取消漕运。光绪三十年(1904年)漕运官署悉行裁撤,漕运制度遂告废止。这一变化 ()

A. 反映了东北农业的发展
B. 始于太平天国运动兴起
C. 凸显了中央集权的弱化
D. 适应了近代经济的发展

D 解析: 根据材料可知,漕运制度的废止,适应了近代经济的发展,D项正确;材料主旨是交通与社会的变迁,而“东北农业的发展”与材料主旨明显不符合,排除A项;太平天国运动兴起于19世纪中叶,而铁路兴办漕运废止发生在19世纪末20世纪初,与材料时间不符,排除B项;从铁路兴办到漕运废止这一变化是时代进步的结果,与“中央集权的弱化”无关,排除C项。

12. 下表是20世纪初德国汽车工业的发展状况,这些数据说明德国 ()

时间	1901年	1908年	第一次世界大战前夕
汽车业工人人数	1 773人	12 430人	5万多人
年产量	884辆	5 547辆	20 000辆

A. 汽车工业成为新的经济增长点
B. 正在进行充分的战争准备
C. 政府全面干预推动汽车业发展
D. 轻重工业的比例严重失调

A 解析: 由图表可以看出,20世纪初德国汽车工业的工人人数和汽车产量都呈上升趋势,这说明德国的工业化生产能力增强,据此可知,汽车工业成为德国新的经济增长点,故A项正确。仅仅就汽车产业来看,无法得出德国正在进行充分的战争准备的结论,故排除B项;政府全面干预经济是在第二次世界大战后,时间与题干不符,故排除C项;材料未涉及轻重工业的比例问题,故排除D项。

13. “一五”计划时期,中国航空工业引进苏联多型飞机仿制并成功首飞;20世纪末,在美国终止合作项目、关闭MD-90生产线情况下,国家决定发展涡扇支线飞机;2017年具有自主知识产权的干线民

用客机C919成功首飞。据此可知,中国飞机制造业得以发展的主要原因是 ()

A. 国家的重视与支持
B. 具有自主知识产权
C. 国民经济结构优化
D. 科技封锁激发活力

A 解析: 根据材料“国家决定发展涡扇支线飞机……C919成功首飞”可知,在国家的重视和支持下,具有自主知识产权的干线民用客机C919成功首飞,促进了中国飞机制造业发展,故选A项;B项是特点,而不是原因,排除;国民经济结构优化为飞机制造业的发展提供经济条件,排除C项;D项并非主要原因,排除。

14. 商代的驿使用48天走了1 200千米,清代的快马递送文件一昼夜可行400千米。现代的高铁、飞机的速度已分别超过每小时350千米和每小时900千米。这反映了 ()

A. 交通的发展缩短了人流和物流的时间
B. 交通网络把整个世界联系成了“地球村”
C. 交通发展为人们在市内发展提供方便
D. 交通的发展使人们生活节奏加快

A 解析: 由材料数据的变化可以看出,随着交通的发展,人流与物流的时间也缩短了,故A项正确。其他三项在材料中未体现,故排除。

15. 2022年6月20日,郑渝高铁全线开通运营,这是一条连接河南郑州市与重庆市的高速铁路。该高铁通车后,京郑渝昆高速铁路通道将实现全线贯通,并与京广、陇海、兰渝等铁路大通道联网,从而极大缩短重庆及三峡库区与西南、西北、华中、华北等地的时空距离。这表明 ()

A. 改革开放以来城市化进程进一步加快
B. 交通工具的革新使区域性联系日益密切
C. 人们的市场和竞争意识正在逐渐形成
D. 中国的经济版图彻底地突破了地域界限

B 解析: 题干情境反映了郑渝高铁通车后,极大地缩短了重庆及三峡库区与西南、西北、华中、华北等地的时空距离,表明交通工具的革新使区域性联系日益密切,B项正确;根据材料无法得出城市化进程加快,排除A项;材料无法体现人们的市场和竞争意识形成,排除C项;“彻底地突破”表述过于绝对,排除D项。

- 二、非选择题(本题包括4小题,第16题16分,第17题15分,第18题12分,第19题12分,共55分)

16. (16分) 阅读下列材料,回答问题。

材料一 为了加强对全国的控制,秦朝修建了以首都咸阳为中心的四通八达的交通网,在驿传道路上设置固定的进食与住宿处,称为“邮”“亭”

“驿”或“传舍”。汉代改邮为置,“驿”的称呼广泛使用。驿置指长途传递文书的设施,提供轻车快马,速度较快。

为了管理辽阔的疆域,罗马帝国建有一套完整的道路系统。主要道路上每隔12千米设一个驿站,每个驿站都备有快马、信使以及供政府官员使用的马车和马车夫。驿站有大、小之分,大驿站提供的服务设施很齐全,小驿站只是中转站。

——摘编自王云庆、毕牧《秦汉与罗马帝国文书驿传制度比较研究》

材料二 北京城市公交发展历程

时间	状况
1949年	北京共有能使用的公共电汽车157辆,包括日本丰田客车、美国道奇车以及捷克的“布拉格”“克罗沙”“伊卡路斯”和“斯柯达”等
1957年	随着中国一汽的第一辆国产卡车顺利下线,北京街头的公交车才开始有了“纯中国血统”,但这些客车多是由卡车改装成的
20世纪60—70年代	随着一汽、重汽不断开发新车型,城市客车BK651、642、611等车型不断开发,北京公交进入以国产汽车为主的时代,20世纪70年代末,北京拥有将近3000辆公交车
20世纪90年代以后	北京街头相继出现了双层公交车和空调公交车,2001年研制成功了京华巡洋舰,车身长18米,核定载客200人,尾气排放能够达到欧Ⅲ标准,是300路这样大流量线路的理想选择

——摘编自张蕊《北京城市公交发展历程》

材料三 一些地区提供原料,而另外一些地区加工或者消费这些原料,从而增加了世界贸易的总量,带动了海上运输和陆地运输的发展。大船、巨大的码头、深水运河加速了贸易和运输的发展……这一过程把世界所有地区的人们联系在一起。

——摘编自杰里·本特利、赫伯特·齐格勒《新全球史》

(1)根据材料一,比较秦汉时期与罗马交通的共同点。(4分)

(2)根据材料二,概括北京城市公交发展的特点。结合所学知识,分析发展变化的原因。(6分)

(3)根据材料三,围绕交通的作用确定一个论点,

结合古今中外的史实进行论证。(要求:观点明确,史实充分,史论结合,逻辑清晰)(6分)

答案:(1)共同点:目的都是加强对全国的管辖;建立了完整的道路系统;交通线路上设置驿站;使用马匹进行信息传递。

(2)特点:公交车辆不断增加;由使用外国车到使用国产车;公交车技术水平不断提高;载客量增大。原因:北京城市建设发展,客流量不断增大;中国工业化水平不断提高;对外开放与国际接轨;环保理念和以人为本的理念逐步深入人心。

(3)论点:交通发展促进世界的联系。

论证:古代丝绸之路的开通,加强了东西方的联系;新航路的开辟,使世界开始连成一个整体;两次工业革命促进了世界交通和贸易的发展,使世界最终连成一个整体。

总述:古今中外交通的发展,促进了世界各地人员、货物的往来和政治、文化的交流,加强了世界各地的联系。

解析:第(1)问,依据材料一中“为了加强对全国的控制”“为了管理辽阔的疆域”可以得出,都是为了加强对全国的管辖;依据“秦朝修建了以首都咸阳为中心的四通八达的交通网”“罗马帝国建有一套完整的道路系统”得出,都建立了完整的道路系统;依据“在驿传道路上设置固定的进食与住宿处,称为‘邮’‘亭’‘驿’或‘传舍’”“主要道路上每隔12千米设一个驿站”得出,在交通线路上都设置了驿站;依据“驿置指长途传递文书的设施,提供轻车快马,速度较快”“每个驿站都备有快马、信使以及供政府官员使用的马车和马车夫”得出,都使用马匹进行信息传递。第(2)问第一小问,根据材料,可以从数量、产地、技术、载客量等方面进行思考。第二小问,根据所学并结合北京城市发展和国内外环境来进行思考回答。第(3)问,为开放性试题,围绕“交通的作用”,结合史实进行论证,观点明确,逻辑清晰,史实充分即可。

17.(15分)阅读下列材料,回答问题。

材料一 上海开埠前后,盛行的交通工具就是独轮车和轿子,这两种交通工具是中国传统式的,为中国所独有。当时的官吏、商人与小康市民,均乘坐轿子。租界开辟后,周围相继建成一些工厂,男女工都有。一些女工为了去较远的纺织厂上班,往往相约合坐独轮车前往,并且渐成风气。19世纪50年代上海租界外国侨民逐渐增多,式样洋派的西式马车应运而生,有双轮、四轮者,有一马、双马者,其式随意构造,宜晴宜雨。1874年,法国人米拉从日本引进了黄包车,从租界当局取得了营业执照,最多时达到五六万辆。1901年一位叫李

恩时的匈牙利人带了两辆汽车登陆上海,从那时起,上海乃至中国才有了汽车,汽车落户上海后,发展极为迅速。1908年3月5日,上海第一条有轨电车线路正式通车营业,意味着上海现代公共交通工具的起步。20世纪20年代初,上海马路上,是各种交通工具最为混杂的年代,“每天要通过大量各式各样的车辆——汽车、卡车、电车、马车、自行车、人力车、独轮推车、手推车……以及成千上万的行人”。新与旧、快与慢,并驾齐驱,蔚为大观。

材料二 世界交通大事记

19世纪以前	人类的主要交通工具是畜力、帆船等。动力主要是自然提供的,行驶里程相对较短
1803年	美国人富尔顿造出了第一艘蒸汽轮船,在巴黎塞纳河上试航,轰动一时
1825年	世界上第一条行驶蒸汽机车的永久性公用运输设施,英国斯托克顿—达灵顿铁路的正式通车,标志着近代铁路运输业开端
1835年	德国第一条铁路(纽伦堡—菲尔特,6千米)通车
1885年	德国人卡尔·本茨发明了第一辆内燃机驱动的汽车,从此人类进入了汽车时代
1903年	美国人莱特兄弟制造的飞机终于飞上了蓝天,距离虽短,却开辟了人类历史的新纪元

(1)根据材料一并结合所学知识,解读上海交通工具在近代中国前期的变化历程。(要求:提取信息充分;总结和归纳准确、完整;解释和分析逻辑清晰)(9分)

(2)根据材料二,对世界交通发展历程划分阶段并说明理由。结合所学知识分析19世纪交通迅速发展的历史条件。(6分)

答案:(1)示例一

19世纪40年代以前,中国的主要交通工具是独轮车和轿子,主要原因是自然经济对交通需求不大。鸦片战争以后,随着工厂的建立,独轮车成为主要交通工具。19世纪50年代租界内外国侨民增多,西式马车开始引进以适应外国人的生活。19世纪70年代从日本引进的黄包车成为上海的主要交通工具。20世纪初,汽车进入上海,发展迅速,成为上流社会的主要交通工具,近代公共交通在上海诞生。20世纪20年代,上海的交通工具种类繁多,适应了不同阶层的需要。

上述材料表明:上海近代交通工具的变化,方便了人们的出行,有利于社会经济的发展;改变了人们的思想观念;加强了中国与世界的联系;推动了中

国的近代化进程;同时有利于外国的政治、经济侵略,便利了对中国的掠夺。

示例二

上海近代交通工具开埠前后以独轮车和轿子为主,19世纪50年代西式马车流行,19世纪70年代黄包车从日本引入,20世纪初汽车和电车引入,现代公共交通起步。纵观19世纪前期上海近代交通的发展呈现出新旧更替、新旧并存的特点。推动上海近代交通发展的原因主要有鸦片战争打开国门,工业革命后出现的近代交通工具传入中国;铁路、公路等近代交通设施不断兴建提供了物质基础;近代洋务运动、戊戌变法、辛亥革命等运动使人们的思想观念不断更新。近代交通工具不断进步反过来又促使近代经济的发展,改变着人们的出行方式和生活方式,使人们的视野和思想观念不断开放。

(还可以从工具的变化、引进的人员、交通的动力变化、不同阶层的需求等角度解读材料)

(2)第一阶段:19世纪以前,人类社会的交通处于原始阶段,主要原因是科技落后。

第二阶段:19世纪初到20世纪初期,交通主要靠蒸汽机和内燃机提供动力的交通工具,得益于动力的促进。

条件:工业革命的促进;资本主义世界市场对交通的需求;科技的迅速发展;发明家的个人才华;社会与人的需求。(也可以划分为三个阶段,两次工业革命可以分开,也可按交通形式、动力形式划分)

解析:第(1)问,此类设问一般分两步来组织答案,首先要注意对材料信息进行概括,归纳出上海交通工具在近代中国前期的变化历程;其次联系所学知识对交通工具变化的原因与作用进行总结论述即可。第(2)问第一小问,可以从工业革命的角度划分或按照交通形式、动力形式等标准来划分;第二小问,应注意从多角度来分析,如与交通发展有关的条件,时代的需要、工业革命技术水平的提高、资本主义的发展、杰出人物的作用等。

18.(12分)阅读材料,回答问题。

材料 1763年以前,南北美洲和澳大利亚的欧洲殖民地主要限制在沿海一带。但在后一世纪中,大陆的内地被横越。工业革命通过提供必需的机械和技术,使由陆路入侵成为可能。如果没有从海岸导向内地的道路、没有连接河道的运河、没有横跨大陆的铁路和电报、没有往返于大河和沿海航道上的汽船、没有能割除大草原草皮的农业机械、没有征服原住民的连发枪,荒野原是不可能被征服的。

结合材料与所学世界近代史的相关知识,围绕“交通与社会变迁”自拟一个具体的论题,并就所拟论题进行简要阐述。(要求:明确写出自己所拟的论题,阐述须史论结合,有史有据)

答案:示例

论题:火车、轮船等的发明与使用推动了近代社会的转型。

阐述:火车、轮船等高效运输工具的出现,带动了冶铁业、采矿业、机械制造业等行业的进步与发展,推动了欧洲社会的工业化、城市化进程发展,密切了英国城乡各地的联系,促进了英国资本主义经济的发展,扩大了英国的国内市场,使英国成为“世界工厂”,促使以英国为中心的世界市场初步形成;交通工具的进步也间接壮大了英国工业资产阶级,推动了代议制民主政治的完善;火车、轮船等运输工具的发展,增强了人们的时间观念,推动了平等意识的形成,同时方便了人们的出行方式。

结论:综上所述,交通工具的革新与进步,推动了社会政治、经济、人们思想观念和思维方式的转变,从而有利于英国向近代社会的转变。

解析:根据材料“工业革命通过提供必需的机械和技术……如果没有从海岸导向内地的道路……运河……铁路和电报……汽船……农业机械……连发枪,荒野原是不可能被征服的”并结合所学提炼论题:近代交通工具的发明推动近代社会转型。然后从工业革命后交通工具革新对欧洲工业化及城市化进程、英国政治、经济及社会生活方式等领域的影响进行分析阐述即可。

19. (12分) 阅读材料,回答问题。

材料 柳孜隶属安徽淮北市濉溪县百善镇,据濉溪县志记载,大运河故道位于该县境内的。1999年初,在柳孜段公路截弯取直降坡施工中发现大量瓷器等文物,还发现了地下埋藏的沉船和石构建筑文化遗迹。以下内容节选自该次大发现。

罕见的宋代货运码头

石构建筑砌体依河道南岸堤坡而建,所使用的石料质地不同,大小厚薄不一致,形状各异的石料均为使用过的旧料,在砌体中还夹杂使用一定数量的汉代墓葬石构件画像石石料。石砌体的基础,采用瓦砾层与黄黏土层间隔夯实处理,共4层,厚75厘米左右,基础大于石砌体,北部向河道内延伸。

珍贵的唐宋沉船

1号沉船为木板结构,平面呈长方形,船身存长9.6米,包括拖舵共存残长12.6米。现存船体长度由两段木板拼接而成,用双排铁铆钉固定,缝

隙间填以油灰。尾舱横梁上有三档舵杆限位木桩,可调节船的航向。

2号沉船是一艘独木舟,由一根硕大的原木整体雕凿而成,长10.6米。船体两头窄中间宽,呈大半个圆弧形,头和尾部上收,面部稍上翘。

6号沉船为木板结构,残存长23.6米。从这段立于壁板之上的底板结构情况来看,船底为平底。船壁板特别巨大,木质坚硬,板面向内呈弧形,舱中间存有13根空梁方孔,空梁尚残存三根。

丰富的古陶瓷

经初步鉴定,能确认窑口的有安徽寿州窑,浙江的越窑,江西的景德窑,福建的建阳窑,陕西的耀州窑,河北的磁州窑、定窑等20余座全国各地窑口烧制的产品,窑口数量之多,品种之丰富,实为罕见。

——摘编自阚绪杭《运河考古的首次大发现

——柳孜隋唐大运河遗址的面世》

提取材料信息,说明上述材料对研究大运河故道有哪些史料价值。

答案:

角度	信息提取	史料价值	
材料来源	材料选自《运河考古的首次大发现——柳孜隋唐大运河遗址的面世》	柳孜发现的古陶瓷、古代木质沉船和石构建筑遗迹等是研究大运河历史的一手史料	
材料内容	“石构建筑砌体依河道南岸堤坡而建”“使用的石料质地不同”“石砌体的基础”“采用瓦砾层与黄黏土层间隔夯实处理”反映了当时码头建设情况	对当地漕运制度和运河设施的研究提供了极其珍贵的资料	运河考古的首次大发现从货运码头、造船、制瓷三方面反映了运河古道当时的漕运、交通史、造船技术、陶瓷业以及商品流通等情况,为研究提供了珍贵的史料。
	“用双排铁铆钉固定,缝隙间填以油灰”“由一根硕大的原木整体雕凿而成”反映了唐宋时期造船业的情况	为研究船的时代种类、用途以及造船技术等提供了重要的实物史料	
	安徽寿州窑、江西景德窑、河北的定窑等各地窑口烧制的产品反映了当时制瓷业的情况	为研究该遗址分期断代提供了根据,同时也为研究中国陶瓷发展提供了不可多得的实物资料	柳孜遗址的考古发掘是隋唐宋运河发展的一个缩影

解析:根据所学知识,从材料来源、材料内容两个角度分析材料的史料价值,而史料价值根据遗址发掘所得出。最后对三个领域的史料进行综合分析归纳总结。

第六单元

医疗与公共卫生

第 14 课 历史上的疫病与医学成就

- 任务目标**
1. 知道古代历史上疫病的流行与影响。
 2. 了解中医药的主要成就和西医在中国的传播、发展过程。

时空定位	世界	中国
	天花席卷尼罗河沿岸 地中海沿岸暴发鼠疫 欧洲鼠疫大流行 黄热病 欧洲天花肆虐 詹纳发明牛痘接种法 全球暴发大流感 弗莱明发现青霉素	扁鹊四诊法 《黄帝内经》 华佗创制“麻沸散” 张仲景《伤寒杂病论》 孙思邈《千金方》 《唐本草》 李时珍《本草纲目》 屠呦呦团队分离出青蒿素
	古埃及时期 6世纪 14世纪 17世纪 18世纪 1918年 1919年 1928年	战国 西汉 东汉 唐朝 明朝 中华人民共和国成立

问题式预习

一、历史上的疫病

1. 疫病:指由细菌、病毒等强烈致病性微生物感染人体而引起的急性传染病。

2. 表现

疫病	时间	概况
天花	古埃及时期	席卷尼罗河沿岸,法老拉美西斯五世也罹患天花
	18世纪	肆虐 <u>欧洲</u> ,俄国彼得二世、法国路易十五等多位君主死于天花
	中国清朝	康熙皇帝得过天花;被天花传染的普通百姓不计其数
鼠疫 ^[1]	6世纪	地中海沿岸暴发鼠疫,造成拜占庭帝国人口锐减一半
	14世纪时	在欧洲大流行,长达3个世纪,被称为“ <u>黑死病</u> ”,欧洲人口死亡过半,导致劳动力短缺,生产停滞,欧洲许多地区发生严重饥荒
黄热病 ^[2]	17世纪	暴发于 <u>墨西哥</u> ,在美洲、非洲与欧洲国家流行,肆虐两个世纪
斑疹伤寒	20世纪早期	在俄国和波兰大流行,造成数百万人死亡
大流感	1918—1919年	全球暴发,死亡人口在2 000万人以上

3. 疫病流行产生了什么影响?

给人们的健康带来巨大威胁,甚至导致政治、经济的变动。

[1]黑死病时期的防护服

医生为了杜绝传染,戴上鸟嘴般的面具、白手套,身穿泡过醋的亚麻或帆布衫。鸟嘴面具常为银制,中空部位塞入药草用以过滤空气。

[2]黄热病

黄热病是由黄热病毒引起的急性传染病。临床以发热、头痛、黄疸、蛋白尿、相对缓脉和出血等为主要表现。患者肤色发黄,精神失常,经常剧烈挣扎,一般在7—9天会出现死亡的情况。

4.历史上的疫病防治措施

(1)古代

区域	公共卫生	疫病防治	建立救治机构
古罗马	注意公共卫生,把修建 <u>饮水道</u> 、下水道当作重要工程		<u>医院</u> 收治疫病患者
中国	古代不少地方官,在任期间组织人力清理污水、疏通井渠河道	东晋葛洪所著《 <u>肘后备急方</u> 》记载了青蒿对疟疾的治疗作用;为了防治天花,古人发明了 <u>人痘接种</u> ,在明朝中期广泛使用,后传到欧洲	西汉后期,政府对疫病患者进行隔离;隋唐时期,寺庙病坊也收治病人

(2)近代(判断正误)

①18世纪晚期,英国医生詹纳发明了人痘接种法,使天花的发病率大大降低。(×)

②19世纪,细胞与细菌学说发展迅速。法国微生物学家巴斯德创立的巴氏消毒法,被广泛应用到医学领域。(√)

③1918年,美国细菌学家弗莱明发现了青霉素,改变了人类对细菌感染束手无策的状态。(×)

二、中医药的成就^[3]

时间	成就
战国至西汉	战国时期的 <u>扁鹊</u> 用望、闻、问、切四诊法进行诊断 成书于战国至西汉间的《 <u>黄帝内经</u> 》是一部重要的 <u>中医基础理论著作</u>
东汉晚期	华佗精通外科手术,创制了“ <u>麻沸散</u> ”以及“ <u>五禽戏</u> ”;医学家张仲景提出 <u>辨证施治原则</u> ,著成《 <u>伤寒杂病论</u> 》,奠定中医临床学的基础
唐朝	孙思邈著成临床百科全书《 <u>千金方</u> 》,被后人尊称为“ <u>药王</u> ”;《 <u>唐本草</u> 》是世界上第一部由政府颁布的 <u>药典</u>
宋代	建立在经络学说基础上的 <u>针灸</u> ,治疗效果显著,宋代出现教学模型 <u>针灸铜人</u>
明朝	李时珍著成《 <u>本草纲目</u> 》,集中药知识之大成,被誉为“ <u>东方药典</u> ” ^[4]
中华人民共和国成立后	在中西医结合方针指导下,中医药治疗水平取得长足进步 屠呦呦团队分离出能够有效对抗疟疾的 <u>青蒿素</u> ,获得2015年诺贝尔生理学或医学奖 21世纪以来,中医药蓬勃发展,走向世界

三、西医在中国的传播

1.背景

(1)近代以来,西医以实验科学为依托,借助精密仪器及数据分析,在多个方面取得很大成就。

(2)17世纪,英国生理学家威廉·哈维著成《心血运动论》,揭示了血液循环的规律。

(3)荷兰人列文虎克通过手工磨制的显微镜,对微生物进行了细致观察。

[3]中医学和中药学的区别与联系

(1)中医学是专门研究中药基本理论和各种中药来源、采制、性能功效及应用方法等知识的学科。

(2)中医学是研究人体的生理、病理,以及疾病的诊断和防治等的一门学科。

(3)中医学里包括中药学,中药学是中医学的一部分。

[4]李时珍与《本草纲目》

本草纲目的规模	
卷数	52卷
字数	190万字
收入药物	1 892种
新增药物	374种
收入药方	11 096个
插图	1 000多幅



李时珍所著《本草纲目》反映了中国古代药物学的最高成就,创立了当时世界上最先进的分类法,体现了生物进化的思想,推进了世界生物学的发展,被誉为“东方药典”。

(4)19世纪,人们将生理与临床结合起来,创立了实验药理学。

2. 西医的传播^[5]

(1)明末清初,西医传入中国,但影响有限。

(2)鸦片战争后迅速传播,主要表现为①②④⑤(填序号)

①在通商口岸建立西式医院

②引入牛痘接种法、麻醉术、放射技术等

③推行医疗保障制度

④建立西医院校,把教学、科研与临床结合在一起,培养西医人才

⑤一些大城市借鉴学习西方的公共卫生措施,公共卫生事业初步发展起来

[5]近代西医院校、医院的设立



博济医学堂

博济医院

1866年博济医学堂的设立是近代中国西医教育史上的里程碑。

任务型课堂

任务一 历史上的疫病与防控

[探究活动]

材料一 关于瘟疫传播的原因,在秦以前,大都认为是鬼神作祟,所以用雩逐疫。东汉张仲景认为气候不正常是疫病传播的原因,即“瘴气说”。隋代医学家巢元方在《诸病源候论》中第一次明确提出“疫”具有传染性。明末医学家吴有性亲自参与了崇禎年间的疫病救治,指出瘟疫是由天地间的“杂气、异气、疠气”所致,不同的气导致的疾病不同,认识到传染病有空气传播和接触传播两条途径。中医也提出一些防治瘟疫的经验方法,例如,在大寒大湿之年要小心瘟疫,防止戾气从口鼻而入,隔离病患,服用疏利祛邪的药物等。

(1)根据材料一并结合所学知识,概括中国古代对瘟疫的认识与防治的发展历程。

提示:历程:对瘟疫传播的原因的认识,从鬼神作祟到“瘴气说”再到多气说;逐步了解瘟疫具有传染性;认识到其主要传播途径;提出防治方法。

(2)根据材料一并结合所学知识,指出中国古代对疫病的防治措施。

提示:设置专门隔离场所;设置专门机构救助病人;注意个人防护;制作药剂;等等。

材料二 这场瘟疫极大地冲击了人们的精神生活,使教会失去了精神上的权威,失去了人们的支持。人类自觉地意识到自身生命的存在,探索人性结构中的理性与非理性,追求平等与自由权,张扬人文主义,提倡社会的主宰是人而不是神。一些具有推动意义的新思想得以酝酿和传播,促使中世纪向现代社会发展。

——摘编自李荷《灾难中的转变:

黑死病对欧洲文化的影响》

(3)根据材料二并结合所学知识,分析“黑死病”对欧洲文化产生的影响及原因。

提示:影响:催生了文艺复兴运动,人们逐渐冲出

基督教神学的桎梏;人文主义发展,推动了人们思想的解放和科学文化的不断进步。原因:教会对疫病无能为力,使人们对教会产生了失望情绪。

[评价活动]

(1)唐中宗景龙年间(707—710年),自京师至河北、山东,疫死者千余,中宗“遣使赈恤之”。太和六年(832年),剑南、浙西一带,大疫。唐文宗颁诏:“其疫未定处,并委长吏差官巡抚,量给医药,询问救疗之术,各加拯济,事毕条疏奏来。”这表明当时 ()

- A.政府重视疫病的防治
- B.“天人感应”思想盛行
- C.疫病流传形势较严峻
- D.人类征服自然的能力增强

A 解析:根据材料可以看出,唐代面对疫情,统治者或者派遣专人进行赈济和抚恤,或者给予医药救治,这说明当时政府重视疫病的防治,A项正确;材料没有体现天人感应思想,排除B项;C项只是材料内容的现象转述,而非材料主旨,排除;通过材料无法看出疫病防治的效果,无法得出人征服自然能力的增强,排除D项。

(2)14世纪的“黑死病”席卷欧洲、波及世界……“黑死病”动摇了宗教的权威。由此可知,当时欧洲“黑死病” ()

- A.直接导致欧洲宗教改革运动的兴起
- B.使人们摆脱了宗教迷信
- C.在某种程度上为文艺复兴提供了契机
- D.挑战了天主教会的创世说

C 解析:由于14世纪“黑死病”流行使宗教丧失在欧洲的精神领导地位,动摇了宗教的权威,促进享乐主义和个人主义萌芽的产生,在某种程度上为文艺复兴提供了契机,故选C项;先有文艺复兴,之后才是宗教改革运动,A项错误;B、D两项材料均无法体现,排除。

任务总结

中国古代疫病的影响

1. 政治: 影响王朝的更替。
2. 经济: 使经济衰退, 人口锐减, 田地荒芜, 社会发展缓慢甚至倒退。
3. 军事: 影响战争进程甚至战争的胜负。
4. 文化: 影响了思想文化的发展, 例如道教的兴起。
5. 习俗: 许多节日习俗是原来预防或庆祝战胜某种疫病的活动。

任务二 中医学的发展

[探究活动]

材料一 从战国到汉代是中国医学史上的第一次高峰, 以伤寒、杂病和外科为代表的临床医学达到了前所未有的水平, 举凡中医学的基本理论、诊断方法、治疗法则等, 在医药典籍中都有了明确具体的论述。隋唐是中国医学发展史上的第二次高峰, 唐代“太医署”是世界上最早的医学学校, 唐朝成为东亚医药的中心。宋朝产生了世界上最早的法医学著作《洗冤集录》, 有记载的名医多达数十位, 民族医学奋起为中国传统医学注入了新活力。明代中国早于西方发明了预防天花的种痘技术, 清朝时中医已形成了一个系统的辨证体系。

——摘编自李经纬等主编《中国医学通史(古代卷)》等

(1) 根据材料一归纳古代中国医学发展的特点, 列举中国医学史上第一、二次高峰的代表成就各一例。

提示: 特点: 历史悠久; 理论体系完整; 重视经验积累与总结, 临床治疗经验丰富; 辨证施治; 著述丰富, 人才辈出; 影响周边国家(世界影响深远)。第一次高峰: 《黄帝内经》《神农本草经》、医圣张仲景、华佗发明麻沸散。第二次高峰: 唐政府颁布《唐本草》。

材料二 《黄帝内经》重视人体内部五脏肺腑、十二经络、奇经八脉以及气血、津液的有机联系, 把人的身体看成一个整体。在对病源的诊断方面, 它不仅注意身体内部机能的变化, 还强调自然界的风、寒、湿、燥、火等反常现象对疾病的影响。它还吸收了阴阳五行学说中所包含的合理内核, 强调阴阳的相互依存、相互对立, 互为根本, 此消彼长关系, 认为施治的最终目的就是达到阴阳关系的协调平衡。

(2) 材料二体现出《黄帝内经》有何特点?

提示: 注重整体治疗, 把人看成一个整体; 强调自然环境对人的影响; 吸收了阴阳五行学说中的合理

部分。

材料三 近代前期, “求进步的中国人”坚信“要救国, 只有学外国”。当时中医界出现“或立奇方以欺世, 或假托仙佛之方, 或托西术东艺, 欺人图利”。陈独秀指出, 中医“既不解人身之构造, 复不事药性之分析, 菌毒传染, 更无闻焉”。知识精英“以科学的名义”对中医的批判, 最终酿成民国政府三次试图废除中医的行动。第一次世界大战后, 一向崇信西方文化的中国人开始对传统文化进行再反思。20世纪20年代中后期以来, 中医与中国民族、身体、思想、文化系统的关联逐渐紧密。钱穆认为, 包括中医在内的中国传统文化“不仅可以容受近代西方之科学文明, 应该还能融化能开新”。

——摘编自皮国立《近代中西医的博弈: 中医抗菌史》等

(3) 根据材料三并结合所学知识, 指出中国近代知识精英对中医学态度的变化, 并分析其原因。

提示: 变化: 从批判甚至否定中医学到逐渐认可中医学的文化价值。原因: 近代前期, 向西方学习, 高举民主与科学的旗帜, 传统文化受到冲击; 在医学界, 西医影响日渐扩大, 中医的弊端日益暴露。第一次世界大战后, 对传统文化再反思, 传统文化自身的价值重新得到重视。

[评价活动]

(1) 《唐本草》是世界上第一部由国家颁行的药典。明清时期, 政府和民间大力推行人痘接种以预防天花。这些史实说明, 中国古代医学发展 ()

- A. 受“大一统”体制的制约
- B. 得益于国家力量支持
- C. 满足了大众基本需求
- D. 理论体系的不断完善

B 解析: 由材料可知, 《唐本草》是世界上最早由国家颁行的药典, 明清时期政府和民间大力推行人痘接种, 这些事例说明中国古代医学发展得益于国家的大力支持, B项正确; A、C两项材料未体现, 排除; 材料没有涉及医学理论体系的发展情况, 排除D项。

(2) 1914年, 教育总长汪大燮曾主张废止中医学。1929年国民政府中央卫生委员会会议通过了由余云岫提出的“废止旧医以扫除医事卫生之障碍案”, 但最终并未实行。据此可知 ()

- A. 中西医之间的鸿沟无法逾越
- B. 中医学在近代中国完全不被认可
- C. 中医学不具备科学研究价值
- D. 近代中西方文化发生了剧烈碰撞

D 解析: 中国近代以来, 随着向西方学习的深入开

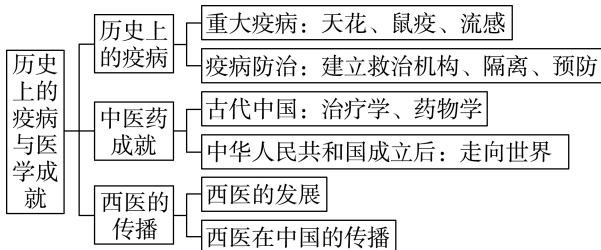
展,产生了废除中医学的现象,引发了“包识生等‘中医药救亡请愿团’”等运动,体现了近代中西方文化发生了剧烈碰撞,D项正确;中西医之间有共同的地方,也可以相互借鉴,取长补短,A项说法错误,排除;B项“完全不被认可”的说法与材料不符,排除;“中医学不具备科学研究价值”的说法不符合史实,排除C项。

任务总结

传统中医与近代西医的区别

	传统中医	近代西医
理论上	把人置于自然和社会之中,强调从“天人合一”的角度认识生命现象,注重考察整体的功能联系	以实验科学为依托,把人作为客观独立的生物实体单独加以考察,注重局部证据
技术上	注重“辨证施治”,强调“望、闻、问、切”	借助先进仪器,诊断讲求精确

► 提质归纳



1. 疫病给人类带来了巨大灾难,但人们在疫病的防治上也积累了大量经验。
2. 中医在实践中建立了独特的理论体系,积累了大量的诊断防治经验,形成了博大精深的中医学,为中国乃至世界医学的发展作出了卓越的贡献。
3. 近代西洋医学在中国的传播,为封闭的中国带来了新的医学知识和新的治疗方法,得到了中国医学界的认可和重视。同时也使中国固有的传统医学受到极大冲击。

课后素养评价(十四) 历史上的疫病与医学成就

基础性·能力运用

知识点 1 历史上的疫病

1. 对下表的解读,合理的是 ()

时间	疫病情形
太宁三年 (325年)	元帝虑勒南寇,使王导率众讨勒。勒军粮不接,死疫太半
永和七年 (351年)	中原大乱,因以饥疫,人相食,无复耕者
义熙四年 (408年)	(敬宣)军次黄虎,与伪将谯道福相持六十余日,遇疠疫,又以食尽,班师,为有司所劾,免官

- A. 唐代的疫情比较频繁
- B. 自然灾害导致疫病频发
- C. 疫病主要集中于北方
- D. 疫病往往与战乱相伴而生

D 解析:根据材料“元帝虑勒南寇”“死疫太半”“中原大乱,因以饥疫”“与伪将谯道福相持六十余日,遇疠疫”可知,疫病往往与战乱相伴而生,D项正确;材料时间并不是唐代,排除A项;材料未涉及自然灾害,排除B项;材料中的疫病情形涉及南方地区,排除C项。

2. 有学者认为,13世纪欧洲开始与中国交流,到14世纪后期,刚萌芽的接触,就因各种因素而中断。以下史实能够佐证该学者观点的是 ()

- A. 欧洲疫病流行引发了社会萧条
- B. 奥斯曼帝国阻断了亚欧传统商路
- C. 蒙古扩张破坏了当地社会经济
- D. 西欧教权与王权的斗争日趋激烈

A 解析:欧洲在14世纪四五十年代发生了“黑死病”,即鼠疫,人口大量死亡,欧洲社会逐步萧条,与外界的联系有所减少,这与题干中“到14世纪后期,刚萌芽的接触,就因各种因素而中断”的表述相一致,故选A项;“奥斯曼帝国阻断了亚欧传统商路”是新航路开辟的直接原因,新航路开辟之后,世界各地的联系不断加强,排除B项;元朝灭亡于1368年,也就是说,在14世纪后期,元朝已经不可能出现“扩张”的情况,排除C项;“西欧教权与王权的斗争日趋激烈”这一史实论述的是西欧内部的情况,不涉及“与中国交流中断”的史实,排除D项。

3. 14世纪中叶的意大利港口实行“检疫”,强制入境船舶和人员隔离观察,以防止黑死病等疫病流入,后来又出现了防范动植物病虫害的动物检疫和植物

- 检疫。这表明分类检疫 ()
- A.彻底阻断了疫病传播
B.体现了科学技术进步
C.奠定了西方医疗体系
D.反映了国家干预形成

B 解析:根据材料可知,意大利在14世纪已出现分类检疫,体现了人类检疫技术的进步和医疗卫生意识的增强,故选B项;“彻底”一词表述过于绝对,排除A项;检疫属于预防,是防治的其中一个环节而非体系,排除C项;材料没有明确对于国家参与程度的具体表现,排除D项。

知识点2 中医药的成就

- 4.公元701年,日本仿效唐制,制定大宝律令、疾医令等医药职令,将某部由中国传入的医学著作定为医生必修的医籍,并作为培养和考试的教材。该著作最有可能是 ()

- A.《神农本草经》 B.《唐本草》
C.《千金方》 D.《本草纲目》

C 解析:中国医学传到日本,即形成所谓汉方医学,其中对日本影响最大的是唐代孙思邈的著作,故选C项;《神农本草经》成书于汉代,与题干“仿效唐制”不符,排除A项;《唐本草》是唐朝政府颁布的药典,非医学著作,排除B项;《本草纲目》是明代李时珍的著作,排除D项。

- 5.王世贞称《本草纲目》:“如入金谷之园,种色夺目;

- 如登龙君之宫,宝藏悉陈。”这主要说明了 ()
- A.李时珍医术高超
B.《本草纲目》内容丰富,价值极高
C.李时珍受人尊崇
D.《本草纲目》图文并茂,引人入胜

B 解析:“种色夺目”说明《本草纲目》内容丰富,“宝藏悉陈”说明《本草纲目》价值极高,故选B项。

知识点3 西医在中国的传播

- 6.鸦片战争后,西式医院在通商口岸建立起来。随后又建立起西医院校,培养了大量西医人才。西医凭借其特有的消毒、化验等手段,积极采取措施预防传染病、普及公共卫生知识,中国一些大城市还借鉴西方的公共卫生措施,改善食品卫生状况。西医传入中国 ()

- A.确立了我国近代公共防疫体系
B.客观上促进了中国社会的进步
C.严重阻碍了中医的可持续发展
D.扼杀了中医治病的优良传统

B 解析:根据材料可知,近代以来西医的传入,促进了中国的公共卫生改革,客观上有利于中国社会的进步,故选B项;近代公共防疫体系,包括预防、管控、治疗等多个方面,但材料只提供公共卫生知识的普及和措施,排除A项;“严重阻碍”夸大了西医对中医的影响,排除C项;至今仍然存在大量中医治病的现象,说明中医治病并没有被扼杀,排除D项。

综合性·创新提升

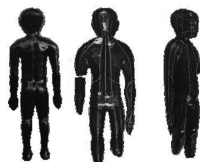
- 7.孙思邈虽然十分崇敬张仲景,但他并不因循张仲景“六经辨证”的学说,易之为“方证辨证”,甚至唐朝官府在组织编纂官修本草时也提出,对《黄帝内经》等要坚持“无稽必正”的原则,这反映了唐朝 ()

- A.中医学受到儒家思想影响
B.医学家具有批判精神
C.中医学在不断发展和自我完善
D.“三教合归儒”的趋势加强

C 解析:根据材料可知,唐代医学家孙思邈和唐朝官方都对之前的中医进行继承和发展,并不断创新,故选C项;材料只提到孙思邈对张仲景的批判继承,无法得知儒家思想的影响,排除A项;材料不仅提到医学家孙思邈具有批判精神,而且唐朝官方编撰官修本草也注重批判继承,排除B项;“三教合

归儒”材料中未体现,排除D项。

- 8.下图是出土于四川省绵阳市双包山汉墓的经脉漆人。该漆人裸体直立、造型美观,表面绘制的经脉循行径路,既与《黄帝内经》的记载相似,又存在不少差异。该漆雕 ()



经脉漆人

- A.构造完整地还原了人体结构
B.制作源于漆器工艺者的想象
C.使用体现了民众的生活旨趣
D.价值可与医学文献互相印证

D **解析**:通过观察图片,结合所学知识可知,汉代经脉漆人表面绘制的经脉循行径路,与《黄帝内经》中的记载有相似之处,其反映了汉代医学发展水平,可与医学文献互相印证,D项正确;经脉漆人表面绘有经脉循行径路不能说明其还原了人体结构,排除A项;制作源于漆器工艺者的想象与“(漆人表面绘制的经脉循行径路)与《黄帝内经》的记载相似”不符,排除B项;经脉漆人的使用体现了汉代医学水平而非民众生活旨趣,排除C项。

9.历史上霍乱曾出现六次大流行,其中第三次发生于1852—1859年,亚、欧、非、北美多个大洲都未能幸免,此次大流行也是死亡人数最多的一次。导致第三次霍乱大流行的主要原因是 ()

- A.民众卫生防护意识淡薄
- B.各国政府疫情防控不力
- C.疫病防治缺乏国际合作
- D.世界各国经济联系加强

D **解析**:根据材料可知,霍乱第三次流行的时间是1852—1859年,亚、欧、非、北美多个大洲都未能幸免,结合所学工业革命的史实可知,由于工业革命,世界各国间联系不断加强,因此霍乱大流行,故选D项;工业革命后民众卫生防护意识有所提升,排除A项;“各国”表述过于绝对,排除B项;第三次霍乱大流行的原因是工业革命后世界各国经济联系增强,与“缺乏国际合作”无关,排除C项。

10.1915年,洛克菲勒基金会着手创办北京协和医学院。该学院全部采用英文教学,按照美国优秀医学院的标准,为教师提供世界水准的丰厚工资和福利保障。北京协和医学院的创建 ()

- A.推动中国高等教育快速发展
- B.有助于中国近代社会习俗的变迁
- C.有利于中国近代医学的发展
- D.改善了中国社会的医疗卫生状况

C **解析**:根据材料可知,北京协和医学院的创建为近代中国带来了西方先进的医学理论和治疗方法,有利于中国近代医学的发展,C项符合题意;A、B两项与材料主旨不符,排除;材料未提及医学院创办的效果,排除D项。

11.阅读下列材料,回答问题。

材料一 中国古代各级政府在防疫方面发挥了重大作用。两汉疫病多发时期,政府采取了如发放药物、强制隔离病人、减免田租和赋税等积极的抗疫救灾举措。唐代政府通过多种手段防控疾病,

如颁行医方、派遣官员赈灾送药等。宋代更是将“疫病”从国家战略的角度积极应对。明清时期,国家政策转向消极,经常性药政机构演变成在灾难时才开启的公共卫生机构,而民间社会力量则发挥了更为重要的作用。

——摘编自张剑光、王晓洁《中国古代的疫病防治》等

材料二 随着西方防疫观念和相关实践的不断传入,20世纪以后,清洁、检疫、隔离、消毒等应对疫病的举措已渐成为中国社会“先进”而主流的防疫观念。1911年,清政府从中央到地方建立了各级防疫组织。1915年3月,北洋政府颁布了《传染病预防条例》。20世纪三四十年代,历经多次大瘟疫的近代中国终于建立起了相对健全的瘟疫防治机制,它囊括了卫生观念、疾病预防、治疗和善后等环节,涉及疾病预防、治疗的相关领域。

——摘编自杨银权《中国近代防疫体制建立探析》

(1)根据材料一并结合所学知识,归纳中国古代政府防疫的特点,并说明其影响。

(2)根据材料二并结合所学知识,简述近代中国瘟疫防治机制形成的历史背景。

答案:(1)特点:以中央集权为基本保障;手段多样,多管齐下;防疫政策具有差异性;防疫和救灾相结合。(答出其中三条即可)影响:减少了疫病对民众的危害;有利于社会秩序的稳定;不利于对疫病的长期控制。

(2)历史背景:西方医学的传入;政府的近代化改革;各级防疫组织的建立;防疫法规相继出台;民众卫生观念的进步;科学技术的进步。

解析:第(1)问第一小问,根据材料一“中国古代各级政府在防疫方面发挥了重大作用”“政府采取了如发放药物、强制隔离病人、减免田租和赋税等积极的抗疫救灾举措”“唐代政府通过多种手段防控疾病,如颁行医方、派遣官员赈灾送药等”概括。第二小问,根据材料中所述各朝代的做法并结合所学知识辩证分析即可。第(2)问,根据材料二“西方防疫观念和相关实践的不断传入”“1911年,清政府从中央到地方建立了各级防疫组织。1915年3月,北洋政府颁布了《传染病预防条例》”“20世纪三四十年代……涉及疾病预防、治疗的相关领域”概括。

13. 阅读材料，回答问题。

材料 中国古代中医药文化博大精深，中华人民共和国成立后，中医药事业焕发了新的生机。屠呦呦等专家组成的研究团队，受到葛洪的《肘后备急方》中关于青蒿抗疟记载的启发，从青蒿中分离出能够有效抵抗疟疾的青蒿素，对人类防治疟疾发挥了巨大作用。2015年，屠呦呦获得诺贝尔生理学或医学奖。

根据材料并结合所学知识，围绕“青蒿素与中医药”自行拟定一个具体的论题并就所拟论题进行简要阐述。（要求：主题明确；史论结合；逻辑严密）

答案：主题：传统中医药文化作为中华优秀传统文化中重要的组成部分，我们应该“取其精华，去其糟粕”地继承与发展。

阐述：青蒿这味中药最早在《神农本草经》中就有记载，在《肘后备急方》中记载了青蒿治疗疟疾的

作用，屠呦呦团队从古代中医药学典籍中得到启发，运用现代科技从青蒿中分离出青蒿素，对人类防治疟疾作出巨大贡献。所以，对待中医药我们应该批判继承，对于符合现代医学及当今社会需要的部分，应该大力地给予支持和保护，使其推动中国医学的进步与发展，这也是中医药传统文化在现代社会的重要价值。另外在立足现代医学的科学基础上，创新应用传统中医药，挖掘其中的文化内涵、医学价值，发扬中医药事业，也是极为迫切、重要的任务之一。

解析：根据材料，可以就中医药的传承与发展入手展开论证。青蒿早在《神农本草经》中就有记载，在《肘后备急方》中记载了青蒿治疗疟疾的作用，屠呦呦团队也是从古代中医药学中得到启发，成功发现青蒿素，对人类防治疟疾作出巨大贡献。故可以看出，继承发展中医药优秀传统文化对现代医学也有重要意义。

第 15 课 现代医疗卫生体系与社会生活

任务目标	了解现代医疗卫生体系的建立、发展及其对社会生活的影响。				
时空定位	许多西方国家建立了基本医疗卫生体系	西方国家推广现代医疗保障制度		世界人口的平均预期寿命从1980年的62.8岁增长到2019年的72.6岁	
	20世纪中期以来	第二次世界大战后	中华人民共和国成立后	1980年	2015年 2018年
	中国的基本医疗卫生体系逐渐建立起来，中国人口的平均预期寿命从1949年的35岁增加到2019年的77.3岁				

问题式预习

一、现代医疗卫生体系的建立

1. 现代医疗卫生体系包括：①③④⑥（填序号）

①基本医疗卫生体系 ②卫生监督体系 ③医疗服务体系 ④药品供应体系 ⑤基层卫生体系 ⑥医疗保障体系

2. 体系建设

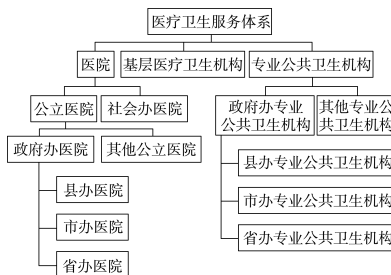
(1) 西方国家现代医疗卫生体系的建立

内容	具体成就
20世纪中期以来，西方国家建立了 <u>基本医疗卫生体系</u>	各层级医疗机构的建立；公共卫生监督工作取得很大进展；威胁人类健康的麻疹、百日咳、白喉、脊髓灰质炎、肺结核等重大传染病得到控制
医疗服务体系日益完善	药品供应得到基本保障；城乡居民都享有一定的医疗服务权利
第二次世界大战后，现代医疗保障制度推广	①美国的医疗保障体系在社会保障体系中发挥了重要作用 ②欧洲尤其是北欧国家宣布建成“福利国家”

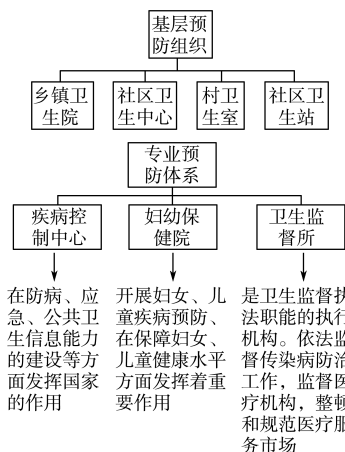
(2) 中国现代医疗卫生体系的建立^[1,2]

内容	具体成就
基本医疗卫生体系建立	国家搭建起覆盖全国的医疗网络，出台了一系列相应的法律法规，大力推行 <u>计划免疫</u> ，积极防治传染病，把食品、饮用水、药品的安全监督视为重要的工作
医疗机构的服务职能扩大	①国家逐步把城乡居民健康档案管理、健康教育、预防接种、传染病及突发公共卫生事件报告处理等内容纳入国家基本公共卫生服务中 ^[3] ② <u>药品供应</u> 体系不断完善，国家规范药品收费标准，加大医疗扶贫力度 ^[4,5]
大力推进医疗保障体系建设	①20世纪60年代，国家已经把城镇工作人员纳入公费医疗系统 ②改革开放后，建立了城镇职工基本医疗保险制度、城乡居民基本医疗保险制度和城乡医疗救助制度

[1] 医疗卫生服务体系



[2] 医疗预防体系



[3] 深化医药卫生体制改革

党的二十大报告指出：“深化医药卫生体制改革，促进医保、医疗、医药协同发展和治理。促进优质医疗资源扩容和区域均衡布局，坚持预防为主，加强重大慢性病健康管理，提高基层防病治病和健康管理能力。深化以公益性为导向的公立医院改革，规范民营医院发展。发展壮大医疗卫生队伍，把工作重点放在农村和社区。重视心理健康和精神卫生。促进中医药传承创

二、医疗卫生事业的发展与社会生活

1. 促进了人民健康状况的改善

(1) 世界

① 20世纪下半叶以来,西方发达国家的基础医学突飞猛进,自然科学领域的新技术广泛应用到临床中,为治疗一系列威胁人们健康的疑难杂症奠定了基础。

② 许多国家把防疫工作视为医疗卫生事业的重中之重,不少疫病得到了有效控制。

③ 孕产妇与初生婴儿死亡率大大降低。

④ 世界人口的平均预期寿命增长。

(2) 中国

① 医疗技术发展迅速,在许多领域取得了世界领先的成就。

② 人民健康状况明显改观,中国人口的平均预期寿命达到了世界中等发达国家水平。

2. 医疗卫生事业的发展对人们的生活方式产生了哪些影响?

世界:第二次世界大战后,许多国家和地区注重公共卫生的建设。刷牙、洗手、洗脸、洗澡等行为成为个人卫生习惯。中国:中华人民共和国成立以来,党和政府把公共卫生事业当作一件大事,开展形式多样的清理环境、预防疾病、保护健康的爱国卫生运动,有助于人民群众养成文明卫生的生活方式。

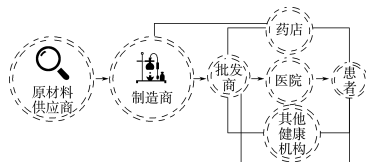
3. 强化了全民的卫生意识

(1) 许多国家公共卫生观念日益深化;讲卫生成为现代公民的基本素质。

(2) 注重精神卫生,大力普及精神医学知识,提倡对精神障碍早发现、早治疗;普通人也重视心理健康,从而实现身心幸福。^[6]

新发展。创新医防协同、医防融合机制,健全公共卫生体系,提高重大疫情早发现能力,加强重大疫情防控救治体系和应急能力建设,有效遏制重大传染病传播。深入开展健康中国行动和爱国卫生运动,倡导文明健康生活方式。”

[4] 药品供应体系



[5] 医保谈判

医保谈判是指国家医保局的专家与药企进行谈判,以协商药物价格,从而使药物价格降低,减轻患者的经济压力。

[6] 国际上对精神卫生的关注



世界精神卫生日



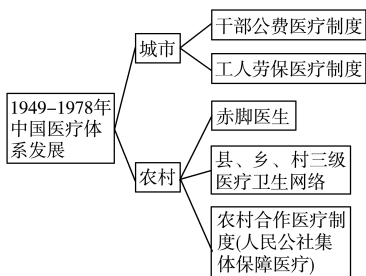
世界微笑日

任务型课堂

任务一 中国医疗卫生制度的发展

[探究活动]

材料一



——摘编自张英洪《农民权利论》

(1) 根据材料一并结合所学知识,指出改革开放前中国医疗卫生体系的特点及其出现的原因。

提示:特点:政府计划主导与集体社区互助相结合;带有公益化的特征。原因:与计划经济体制相适应;适应了当时中国国情。

材料二 实施健康中国战略。人民健康是民族昌盛和国家富强的标志。要完善国民健康政策,为人民群众提供全方位全周期健康服务。深化医药卫生体制改革,全面建立中国特色基本医疗卫生制度、医疗保障制度和优质高效的医疗卫生服务体系,健全现代医院管理制度……坚持预防为主,深入开展

爱国卫生运动,倡导健康文明生活方式,预防控制重大疾病。实施食品安全战略,让人民吃得放心。坚持中西医并重,传承发展中医药事业。支持社会办医,发展健康产业。促进生育政策和相关经济社会政策配套衔接,加强人口发展战略研究。

——习近平

(2)根据材料二并结合所学知识,概括实施健康中国战略的措施。

提示:完善国民健康政策,全方位全周期维护人民健康;优化全民医疗保障制度和健全现代医院管理制度;落实预防为主,推行健康生活方式;坚持中西医并重,推进中医药传承创新;完善生育政策及服务管理。

[评价活动]

(1)20世纪60—80年代,中国医疗史上出现了一个特殊群体——赤脚医生,即在乡村中没有纳入国家编制的非正式医生。他们掌握着一些卫生知识,可以治疗一些常见病。据此推知 ()

- A.赤脚医生为当时农村医疗解燃眉之急
- B.医疗问题是当时农民最为关心的问题
- C.赤脚医生群体是“左”倾错误的产物
- D.当时我国农村医疗问题得到圆满解决

A 解析:由材料可知,在当时医疗水平相对较低的情况下,赤脚医生的出现对于解决农村医疗问题起到了重要作用,故A项符合题意。

(2)党的二十大报告中指出:“推进健康中国建设。人民健康是民族昌盛和国家强盛的重要标志。把保障人民健康放在优先发展的战略位置,完善人民健康促进政策……深化医药卫生体制改革,促进医保、医疗、医药协同发展和治理……发展壮大医疗卫生队伍,把工作重点放在农村和社区。”下列最能体现我国实施健康中国战略的措施是 (B)

- A.提升人们的科学文化素养
- B.推行城乡医疗救助制度
- C.实行革命的人道主义
- D.满足人们的精神文明追求

任务总结

中国现代医疗卫生体系的影响

- 1.经济:有利于推动经济持续发展。
- 2.政治:稳定社会秩序,提高了政府的社会治理能力。
- 3.生活:促进人民健康状况的改善,使人们养成良好的生活方式。
- 4.观念:强化全民卫生意识。
- 5.社会:医疗卫生体系覆盖面的扩大利于推进社会公平。

任务二 西方的医疗保障制度

[探究活动]

材料一 1883年,德国制定了《疾病社会保险法》,标志着德国法定社会保险制度的建立,经过一百多年的发展,德国的医疗保险已达到比较完善的程度。在德国,医疗保险制度是由法定医疗保险、私人保险以及法定护理保险组成。法定医疗保险属于强制性保险,其覆盖面达全国人口的90%以上。

(1)根据材料一,概括德国医疗保险制度改革的特点。

提示:特点:医保改革历史较早;医保制度完备;医保覆盖人群广;法定医保为主,私营医保为辅;立法先行,强制实施;等等。

材料二 20世纪60年代,由于市场化的美国医疗体制排斥弱势群体的现象突出,覆盖弱势群体的政府公共医疗保险计划最终确立,但随着“滞胀”现象的到来,美国的医改重点由提高覆盖率转向降低日益膨胀的政府支出。此后的里根、克林顿、奥巴马政府医改在这二者之间摇摆,但始终未能解决问题。

——摘编自高芳英《美国医疗体制改革历程探析》

(2)根据材料二并结合所学知识,指出美国公共医疗保障制度的特点,并分析其步履维艰的原因。

提示:特点:耗资巨大;覆盖面小。原因:给政府造成严重的财政负担;私人资本的阻挠;意识形态的影响;政治体制带来了政策的不稳定性;新自由主义经济观念的影响。

[评价活动]

(1)19世纪30年代,英国成立了研究霍乱的特别委员会。1848年,英国通过了社会保健法。1850年,英国成立了国家卫生局。有关童工、女工、孕妇、职业病和卫生保健的法规也逐渐颁布。这些措施 ()

- A.确保疫病问题得到彻底解决
- B.完善了英国卫生法律体系
- C.推动了医疗卫生体系的建立
- D.更加关注弱势群体的权益

C 解析:根据材料可知,英国政府采取了一系列措施推动了医疗卫生体系的建立,C项正确;“彻底解决”表述过于绝对,排除A项;材料不能体现英国卫生法律体系的完善,排除B项;材料没有体现关注弱势群体,排除D项。

(2)美国的医疗卫生体系发达,但也存在着一些问题:美国的医疗卫生体系注重市场竞争和大投入背景下的科技创新能力,注重医疗技术在世界范围内领先优势的获得和维持,而不是公民的医疗福利与公平。这

反映的本质问题是美国 ()

- A. 公民未享受到发达国家的福利政策
- B. 医疗体系具有清晰的霸权国家特征
- C. 医疗技术的创新受政治体制的束缚
- D. 医疗科技创新成果与疫情防治脱钩

B 解析: 医疗卫生体系比较发达的美国,也存在着问题,如注重获得和维持其医疗技术在世界范围内的领先优势,却忽略了公民的医疗福利与公平,从本质上反映了美国医疗体系具有清晰的霸权国家特征,B项正确;材料不能说明美国公民未享受到发达国家的福利政策,A项错误;医疗技术的创新受政治体制的束缚与“美国的医疗卫生体系注重……科技创新能力”不符,C项错误;医疗科技创新成果与疫情防治脱钩在材料中没有体现,D项错误。

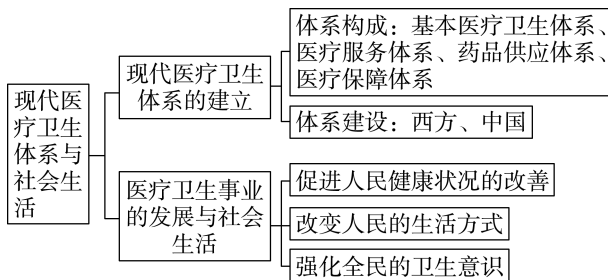
任务总结

现代医疗保障体系的特征

1. 机构完备,覆盖面广。20世纪中期以来,许多国家完善了各级医疗组织,构建基本覆盖的各级医疗网络,方便患者就医。
2. 统筹规划,措施多样。各国政府既注重治疗,又规划免疫,还加强食品、药品的安全监督。
3. 社会服务,措施多样。第二次世界大战后各国政府医疗卫生服务体系日益完善,我国各级卫生机构明确服务意识,扩大服务内容。

4. 全民医保,全面覆盖。进入近代社会后,西方欧美国家医疗卫生基本得到物质保障。中国政府大力推行城镇和农村的医疗保险和合作医疗制度。

► 提质归纳



1. 建立现代医疗卫生体系,对保障人类的健康起到关键作用。
2. 第二次世界大战后,医疗卫生事业取得巨大进展,人民健康状况明显改善。
3. 中华人民共和国成立后,公共卫生事业的发展呈现出预防为主、城乡协调发展、健全卫生防疫网络、广泛发展群众参与等特点。
4. 西方医疗卫生体系的建立是社会发展、科技进步的结果。
5. 中国现代医疗卫生事业的发展,是社会主义精神文明建设的迫切需要,为构建社会主义和谐社会作出了重要贡献。

课后素养评价(十五) 现代医疗卫生体系与社会生活

基础性·能力运用

知识点 1 现代医疗卫生体系的建立

1. 1964年,英国通过《国家卫生服务法》规定:凡英国居民无论其财产多少均可免费得到国立医院的医疗服务,患者只需交付挂号费。这说明,英国 ()

- A. 推进医疗保障体系建设
- B. 完善的现代卫生体系建立
- C. 贯彻法律面前人人平等
- D. 人民健康状况得到了改善

A 解析: 1964年,英国通过立法推进居民均可免费得到国立医院的医疗服务,即推进医疗保障体系建设,故选A项;“完善”说法过于绝对,排除B项;法律面前人人平等与材料无关,排除C项;根据材料无法得出“人民健康状况得到了改善”的结论,排除D项。

2. 下图所示是20世纪60年代后期我国的一幅宣传画。由此可知,当时我国 ()

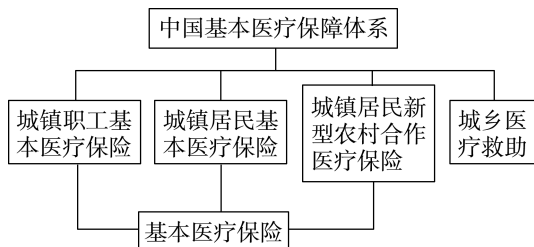


- A. 医疗卫生工作的重点在农村
- B. 农村医疗卫生工作水平大幅提高
- C. 已经把城乡居民纳入公费医疗系统
- D. 农村医疗资源匮乏的状况得到缓解

D 解析: 根据材料“赤脚医生遍山村,合作医疗气象新”可知,农村的“赤脚医生”具备初步的中西医知识和技能,能治疗一些常见病、地方病,对缓解农村缺医少药的局面发挥了一定的作用,故选D项;

没有比较,得不出“医疗卫生工作的重点在农村”的结论,排除 A 项;“大幅提高”说法错误,“赤脚医生”水平有限,排除 B 项;20 世纪 60 年代,国家已经把城镇工作人员纳入公费医疗系统,农村人口不在范围之内,排除 C 项。

3. 下图反映了我国历经 70 多年形成的基本医疗保障体系,从制度上覆盖城镇就业人口、城镇非就业人口和农村人口。据此可知,我国 ()



- A. 医疗保险发展迅速
B. 医疗保障体系日臻完善
C. 防疫工作成效显著
D. 医疗机构职能不断扩大

B 解析:从图示的内容可得出,中国医疗保障体系较为完备,从城市到农村都建立了医疗体系,说明我国医疗保障体系日臻完善,B 项正确;材料针对的不是保险业,排除 A 项;材料与防疫无关,排除 C 项;材料没有体现职能,排除 D 项。

知识点 2 医疗卫生事业的发展与社会生活

4. 第二次世界大战后,医疗卫生事业取得长足进展,对所取得的成就表述正确的是 ()

- A. 长期困扰人类的疫病得到彻底的消除
B. 现代烈性传染病都做到了有效控制
C. 孕产妇与婴儿出生率大大降低
D. 世界人口的平均预期寿命有较大提高

D 解析:随着第二次世界大战后医疗卫生事业的发展,不少长期困扰人类的疫病能做到有效控制,乃至较彻底的清除,排除 A 项;针对现代烈性传染

病能做到有效防控,排除 B 项;孕产妇与初生婴儿死亡率大大降低,排除 C 项;世界人口的平均预期寿命从 1980 年的 59.2 岁增长到 2019 年的 72.6 岁,故选 D 项。

5. 据统计,1970 年全世界已有 44 个国家开办了 121 所公共卫生学院,1984 年,全世界的公共卫生学院已增至 214 所,遍及五大洲 54 个国家。这表明 ()

- A. 各国着手联合发展卫生事业
B. 医疗保障制度逐渐得到完善
C. 公共卫生得到多数国家重视
D. 环境污染现象引起各国重视

C 解析:从 1970—1984 年短短十四年的时间,全世界的公共卫生学院增加了 93 所,遍及五大洲,这说明公共卫生得到多数国家重视,故选 C 项;“联合”说法错误,排除 A 项;医疗保障制度与材料无关,排除 B 项;环境污染仅是公共卫生的一个方面,排除 D 项。

6. 习近平在全国卫生与健康大会上的讲话中指出:“要倡导健康文明的生活方式,树立大卫生、大健康的观念,把以治病为中心转变为以人民健康为中心。”对“大卫生、大健康”观念理解正确的是 ()

- A. 建立“福利国家”
B. 深化全民公共卫生意识
C. 实行革命的人道主义
D. 以救死扶伤为宗旨

B 解析:材料反映了医疗卫生事业的发展应有助于人民群众养成文明卫生的生活方式,推动全民卫生意识的强化,逐渐形成以人民健康为中心的“大卫生、大健康”观念,故 B 项正确;A、C、D 三项对“大卫生、大健康”观念的理解均不正确,不符合材料主旨,排除。

综合性·创新提升

7. 1851年欧洲国家召开第一次国际卫生大会,1907年国际公共卫生办公室建立,此后,国际联盟卫生组织、世界卫生组织相继成为疫病防治领域技术咨询者和跨国行动计划的倡导者、领导者、协调者和实施者。在此过程中,国际卫生防疫体系 ()

- A. 经历了从区域到全球的转变
B. 阻止了流行病在全球传播
C. 顺应了经济区域集团化趋势
D. 始终是以欧洲国家为主体

A 解析:根据材料可知,国际卫生大会最先在欧洲召开,1907年国际公共卫生办公室建立,国际联盟卫生组织、世界卫生组织相继成立,即扩展到了国际层面,经历了从区域到全球的转变,故选A项;“阻止”说法错误,排除B项;经济区域集团化与材料无关,排除C项;以欧洲国家为主体与“国际公共卫生办公室……国际联盟卫生组织、世界卫生组织”不符,排除D项。

8. 1958年2月,党中央提出“鼓足干劲……苦战三年,加速消灭血吸虫病”,各地结合兴修水利和农业生产高潮,发动了声势浩大的血吸虫病防治运动。至11月,流行近百年的血吸虫病,在流行区已基本被消灭。由此可见,当时医疗卫生工作 ()

- A. 适应了国民经济恢复的需要
B. 超越生产力的发展水平
C. 得益于医疗保障体系的健全
D. 注重与群众运动相结合

D 解析:根据材料“各地结合兴修水利和农业生产高潮,发动了声势浩大的血吸虫病防治运动”可知,当时的医疗卫生工作注重充分发挥群众的力量共同参与,将经济建设与医疗卫生工作相结合,故选D项;1952年底,我国国民经济恢复任务基本完成,排除A项;“大跃进”和人民公社化运动超越了当时的生产力水平,而医疗卫生工作的开展符合当时推进社会生产的客观需要,排除B项;我国的医疗保障体系至今处于不断完善发展的过程中,排除C项。

9. 1958年,苏联提议发起一项由世界卫生组织领导的“根除天花项目”,1959年世界卫生大会通过了该提议。随后,美国不甘落后于对手,表示希望支持该项目。1980年,世界卫生组织正式宣布消灭天花。材料表明 ()

- A. 美苏力量的变化影响抗疫成效
B. 公共卫生政治化促进医学发展
C. 天花蔓延弱化意识形态对立
D. 疫情防控需要跳出冷战思维

D 解析:根据材料“1959年世界卫生大会通过了该提议。随后,美国不甘落后于对手,表示希望支持该项目”可知,虽然处于冷战时期,但是美苏两国就“根除天花”达成了一致,D项正确;材料反映的美苏对“根除天花”所做的努力,A、B、C三项均与材料主旨不符,排除。

10. 中华人民共和国成立后,我国于1955年颁布了第一个卫生防疫法规,1978年颁布了《中华人民共和国急性传染病管理条例》,1982年通过了《中华人民共和国食品卫生法(试行)》,1995年政府公共卫生支出从1990年的185.69亿元增加到383.09亿元。这些措施 ()

- A. 推动国家的公共卫生观念日益深化
B. 改变了人民群众的生活方式
C. 使我国建立了健全的卫生防疫网络
D. 有助于改善人们的健康状况

D 解析:根据材料并结合所学知识可知,中华人民共和国成立以后,我国相继颁布了一系列关于医疗卫生事业的法律法规,并扩大了公共卫生支出,这些措施有利于促进人们健康状况的改善,D项正确;因为国家公共卫生观念的日益深化才促使国家采取了这些措施,排除A项;材料未体现人民群众的生活方式变化,排除B项;材料只是几项措施,不能反映建立了健全的卫生防疫网络,排除C项。

11. 自中华人民共和国成立以来,我国的医疗卫生事业取得了巨大的成就。阅读材料,完成下列要求。

材料 1956—2010年中国重大医疗成就

年份	成果
1956年	在世界上首次发现沙眼致病源
1958年	大面积烧伤成功救治改写世界纪录
1960年	完成首例肝病切除手术
1963年	在世界范围首次断手再植成功
1965年	在世界上首次人工合成结晶牛胰岛素
1972年	屠呦呦团队从青蒿素中分离出抗疟疾的青蒿素
1985年	腺癌治愈率提高到90%
1988年	第一例试管婴儿诞生
2010年	肿瘤多学科诊疗模式开始推广

——整理自《经济与社会生活历史地图册》

根据材料并结合中国现代史的史实,概括我国医疗卫生事业发展的特点并进行合理解释。

答案:示例

特点:一些医疗技术世界领先;深入基层;覆盖面广;政府主导,全民动员。

解释:中华人民共和国成立以来,我国的医疗卫生事业获得飞速发展,中华人民共和国的成立赢得了中华民族的独立,在国家的重视和政策的支持下,我国在医疗卫生领域自主研发,成就突出;社会主义制度的建立使全民医疗有了制度保障;社会主义经济的发展,尤其是改革开放以来经济的快速发展为医疗卫生事业提供了物质基础;科技的进步、科学工作者的努力是卫生事业发展的技术条件;广大人民群众卫生观念的改变推动了卫生事业的发展。

总之,中华人民共和国成立以来,我国的医疗卫生事业取得巨大的进步,医疗保险覆盖的人群逐渐扩大,人民群众的健康水平不断提高,为其他国家医疗卫生事业的发展提供了借鉴。

12. 阅读下列材料,回答问题。

材料一 19世纪中叶,中国近代化公共卫生事业逐渐酝酿起来,首先是欧美来华传教士,积极呼吁中国注意公共卫生问题,他们广泛发放关于种牛痘,预防天花、霍乱和鼠疫的知识读物,不断向中国有关官员提出改善卫生的建议。随后中国出使人员和早期改良思想家等加入呼吁行列,《申报》也时常有改善公共卫生的议论。而租界成为中国公共卫生事业近代化的先行地区。19世纪末上海租界已经在硬件设施、组织机构、法规建设、技术保障等方面,建立了相对完善的近代公共卫生系统。

——摘编自何小莲《论中国公共卫生事业近代化之滥觞》

材料二 19世纪中后期,美国高速发展的城市化导致传染病横行,城市公共卫生改革呼声强烈。内战后政府和社会大众卫生意识显著提高,1870年至1890年市政卫生局开始成为政府的常设机构,一些城市还从正规部队中招募组建卫生监督部队;政府还吸引私人企业、民间团体甚至儿童参与到垃圾处理工作中;同时一些专家呼吁联邦政府直接干预“检疫”工作,1878年国会通过《国家检疫法》;19世纪70年代细菌理论的出现为城市检

疫、消毒提供了理论指导。19世纪末20世纪初美国城市死亡率的下降速度超过以往任何时期。

——摘编自李晶《城市化下的“卫生”困境与突破——论19世纪后半期美国城市公共卫生改革》

(1)根据材料一、二并结合所学知识,分析中国和美国近代公共卫生事业兴起发展的背景。

(2)根据材料二并结合所学知识,分析美国近代公共卫生事业发展带来的影响及给我国现代公共卫生建设的启示。

答案:(1)中国:鸦片战争后,中国被迫开放;西方工业文明的传入,先进思想的传播;传教士及中国先进知识分子的努力;租界的示范引领;中国近代经济(民族资本主义、近代工商业)的发展。美国:工业革命推动,近代工商业发展;城市化进程加速,城市人口增长快;环境污染严重,传染病流行,公共卫生状况恶化;政府和社会大众卫生意识的提高;近代科学理论的发展。

(2)影响:改善了环境卫生,有利于居民的身体健康;完善了城市基础设施,改变了城市面貌;增强了政府的管理职能。启示:不断加强并逐步完善环境立法;鼓励社会力量参与监督,建立完善的监督机制;提高人民的道德素养;发展科技,利用科技改善环境。

解析:第(1)问,中国方面可根据材料一“首先是欧美来华传教士”“租界成为中国公共卫生事业近代化的先行地区”并结合所学知识从西方列强对中国的侵略、中国民族资本主义的发展等方面分析;美国方面可以根据材料二“城市化导致传染病横行,城市公共卫生改革呼声强烈”“内战后政府和社会大众卫生意识显著提高”“细菌理论的出现为城市检疫、消毒提供了理论指导”等信息并结合所学工业革命的开展等知识分析。第(2)问第一小问,根据材料二“内战后政府和社会大众卫生意识显著提高”可知,人们的卫生意识提高,促进了卫生环境的改善,利于身体健康;根据材料二“联邦政府直接干预‘检疫’工作”可知,促进城市设施的完善,增强了政府的管理职能等。第二小问,属于开放性试题,解题时需要围绕“美国公共卫生建设”获得启示,可以从环境立法、完善监督机制、提高道德素养以及科技改善环境等方面分析归纳。

易错强化练(六)

医疗与公共卫生

练易错

易错点 1 | 中医药的成就

[防范要诀]

- 1.《黄帝内经》是中医学的奠基之作;《伤寒杂病论》奠定了中医临床学的基础,被后世医家誉为“万世宝典”。
- 2.《本草纲目》系统地总结了中国 16 世纪以前的中医药学成就,创立了当时世界上最先进的分类法,被称为“东方药学巨典”。
- 3.我国古代药学的发展得益于国家力量的支持。

[对点集训]

- 1.《黄帝内经》提道:“五疫之至,皆相染易,无问大小,病状相似”。《汉书·平帝纪》记载:“民疾疫者,舍空邸第,为置医药。”两者共同反映了西汉 ()
 - A.对疫病传染性有一定认知
 - B.统治者重视疫病防治工作
 - C.中药开始应用于疫病防治
 - D.对传染病的预防达成共识

解析:根据材料“五疫之至,皆相染易,无问大小,病状相似”“民疾疫者,舍空邸第,为置医药”可知,当时人们认识到疫病的传染性,需要进行隔离医治,故选 A 项;材料没有明确统治者对于疫病防治工作的态度,排除 B 项;材料没有明确医学救治过程中中药的应用,排除 C 项;材料没有明确对于疾病的预防,且没有明确社会各界对于传染病预防的态度,排除 D 项。

- 2.明清两朝,传染病流行,医药学家对传染病的认识仍未超出汉朝“伤寒论”的范围,但他们深入研究热性病发病原因和医疗方法后,创立了温病学说,疗效显著。这表明 ()
 - A.明清医学理论取得重大突破
 - B.医药学家认识到传染病本质
 - C.社会需求推动医学理论发展
 - D.医药学研究推动了人口增长

C 解析:根据材料和所学知识可知,温病学说的提出是因为明清时期传染病流行,说明医学理论的发展受到社会需求的推动,故 C 项正确;明清时期我国的科技处于总结性的阶段,并未有理论性的重大突破,故 A 项错误;材料中仅提到医药学家创立了温病学说,并未涉及其认识到传染病本质的相关内容,故 B 项错误;材料没有涉及医药学研究推动了人口增长,而是强调社会需求推动医学理论发展,故 D 项错误。

- 3.唐朝孙思邈认为:“若有疾厄来求救者,不得问其贵贱贫富,长幼妍媸,怨亲善友,华夷愚智,普同一等,皆如至亲之想。”这反映了古代中医学 ()
 - A.以人为本
 - B.辨证施治
 - C.药食同源
 - D.标本兼治

A 解析:根据材料“不得问其贵贱贫富,长幼妍媸……普同一等,皆如至亲之想”等可知,医生应将关心病人、治病救人的原则放在首位,故选 A 项;B、C、D 三项题干中均未提及,排除。

- 4.有学者谈到,中国在公元后的两个世纪里多次出现遍传南北的大瘟疫。在此背景下,终于出现了“实为中国医学史上划时代的作品”。这部作品应该是 ()
 - A.《黄帝内经》
 - B.《伤寒杂病论》
 - C.《本草纲目》
 - D.《天下郡国利病书》

B 解析:《黄帝内经》成书于战国晚期,不符合材料中的时间信息,故 A 项错误;材料中“公元后的两个世纪里”时间属于历史上的东汉时期,《伤寒杂病论》是东汉张仲景的著作,故 B 项正确;《本草纲目》是明朝李时珍所著的药理学巨著,不符合题干时间,故 C 项错误;《天下郡国利病书》是明末清初顾炎武关于地理方面的著作,故 D 项错误。

易错点 2 | 现代医疗卫生体系与社会生活

[防范要诀]

- 1.西方资本主义国家为缓和、消除社会不公,实现社会平等,进行了政策调整,使“福利国家”制度发展起来。
- 2.医疗保障制度是城乡分离的。在城镇,先后经历了公费、劳保医疗制度,城镇医疗保险改革和试点阶段,全国范围内城镇职工基本医疗保险制度的确立,以及多层次医疗保障体系的探索等阶段。在农村,也对农村医疗保障制度多样化进行了探索与完善。

[对点集训]

- 5.英国实行全民医疗保险制度,保障体系将全体人口纳入风险集合。医疗保险基金的主要来源是国家财政拨款。除处方药和牙医服务之外,医疗服务几乎是免费的……由此可见,英国卫生体制的特点是 ()
 - A.政府主导,高福利性和高公平性
 - B.市场主导,高度市场化
 - C.社会主导,强制性和高福利性
 - D.市场主导,强制性和高福利性

A **解析**:根据“医疗保险基金的主要来源是国家财政拨款。除处方药和牙医服务之外,医疗服务几乎是免费的”可知,英国卫生体制具有政府主导、高福利性等特点,故选 A 项。

- 6.1842 年,英国《劳工人口状况报告》出版,针对大城市死亡人数甚至超过出生人数,提出修建下水道,移除生活场所、街道和马路上的垃圾,以及供水系统的改进。6 年后,英国第一部《公共卫生法》颁布。这反映出英国城市化进程 ()

A.降低英国人口的平均寿命
B.逐步认识到公共卫生的重要性
C.直接受到工业革命的破坏
D.长期缺失排水供水系统的建设

B **解析**:从出版《劳工人口状况报告》,到修建下水道,改进供水系统等,再到颁布第一部《公共卫生法》,反映了英国政府逐步认识到公共卫生的重要性,故选 B 项。

- 7.中华人民共和国成立后,为治理危害人民健康的血吸虫病,各地乡村开展了填壕平沟的活动,以此消灭血吸虫的寄生宿主。与此同时,群众就地取材,开新沟填旧沟,挖掘了大量新的沟渠。这些举措体现了 ()

A.疾病防控与经济建设相结合
B.公共卫生事业取得突出成就
C.群众彻底摆脱血吸虫病困扰
D.维护健康是政府的核心工作

A **解析**:根据材料可知,中华人民共和国成立后,人民群众填壕平沟以治理血吸虫病传播,同时还开新沟促进农业生产,说明疾病防控与经济建设相结合,故选 A 项;材料只提到治理血吸虫病,“公共卫生事业取得突出成就”扩大了其作用,排除 B 项;“彻底摆脱”表述过于绝对,排除 C 项;政府的核心工作是统治职能,维护健康只是其中一个方面,排除 D 项。

练疑难

- 8.“余宗族素多,向余二百。建安纪年以来,犹未十稔(年),其死亡者,三分有二,伤寒十居其七。感往昔之沦丧,伤横夭之莫救,乃勤求古训,博采众方……撰《▲》,合十六卷,虽未能尽愈诸病,庶可以见病知源。”材料中▲处应是 ()

A.《黄帝内经》 B.《伤寒杂病论》
C.《千金方》 D.《肘后备急方》

B **解析**:根据材料“余宗族素多”“建安”“伤寒十居其七”可知,东汉晚期,张仲景因族人大量死于伤

寒,立志从医,积累临床经验,勤求古训,博采众方,提出辨证施治的原则,著成《伤寒杂病论》,故选 B 项;成书于战国至西汉间的《黄帝内经》,以阴阳五行学说解释人体的生理现象和病理变化,阐明人与自然的有机联系,是一部重要的中医基础理论著作,排除 A 项;唐朝医学家孙思邈总结前代经验,著成临床百科全书《千金方》,排除 C 项;东晋葛洪著的《肘后备急方》,是中国第一部临床急救手册,排除 D 项。

- 9.明末清初,西方传教士把西方近代医学带到中国,影响有限。鸦片战争后,西方教会医生和军医追随列强来到中国,近代西方医学在中国逐渐传播开来。这种现象反映了 ()

A.西方传教士的医疗技术低下
B.中医的治疗技术呈下降趋势
C.中国对西方医学的认识逐渐加深
D.西方的医学防止了疫病发生

C **解析**:由“影响有限”到“在中国逐渐传播开了”的变化,说明中国对西方的认识逐渐加深,故选 C 项。

- 10.19 世纪末,英格兰和威尔士因患肺结核造成的死亡率达到 2.22%,英国伦敦医院对 1 420 名死亡儿童的尸体进行解剖,解剖数据表明有 45% 的死因是肺结核,而其中的 80% 来自工人家庭。这一现象出现的根源是 ()

A.工业革命的发展
B.城市人口的增加
C.贫富差距的扩大
D.医疗技术的落后

A **解析**:根据材料“19 世纪末……而其中的 80% 来自工人家庭”可知,死于肺病的孩子大多为工人家庭,结合所学知识可知,这一时期英国进行工业革命,造成了环境污染,底层工人的生活环境较为恶劣,故选 A 项;城市人口增加、贫富差距扩大与肺病无关,排除 B、C 两项;医疗技术影响的是治疗效果,排除 D 项。

- 11.1997 年,英国出台新政策:允许患者在转诊时挑选医院;扩大医院经营自主权,允许医院赚钱,允许医院改善员工待遇和福利。这反映出,在医疗卫生体制改革上英国 ()

A.公立医院受到冷落
B.强化市场竞争机制
C.政府财政压力减轻
D.民众医疗得到保障

B 解析：材料“挑选医院”“允许医院赚钱”都是一定程度上强化医院之间的竞争和调动医院经营的积极性，这是强化市场竞争机制的表现，故选B项；材料中并未提及改革医院的所有制问题，无法判断公立医院和私立医院的受重视情况，排除A项；材料并未提及政府对医院拨款的资金增减，也没有提及医院收入是否上交国家，无法判断政府财政是否压力减轻，排除C项；医院的市场竞争机制增强，与民众是否能够享受到低价优质的医疗服务没有直接关系，排除D项。

- 12.《中华人民共和国传染病防治法》规定：“医疗机构承担与医疗救治有关的传染病防治工作和责任区域内的传染病预防工作。城市社区和农村基层医疗机构在疾病预防控制机构的指导下，承担城市社区、农村基层相应的传染病防治工作。”我国推

行计划免疫，注射疫苗有效控制很多威胁人类健康的重大疾病。据此推知，中国的医疗卫生事业

()

- A.着力构建完善的防疫体制机制
B.重视培养全民的公共卫生意识
C.强化基层医疗机构的服务职能
D.加强社会生活中公共卫生监督

A 解析：根据材料可知，医疗机构、城市社区和农村基层医疗机构等承担了传染病的防治工作，A项正确；中国的医疗卫生事业重视培养全民的公共卫生意识，在材料中未涉及，排除B项；中国的医疗卫生事业强化基层医疗机构的服务职能，表述片面，排除C项；材料中没有提及社会生活公共卫生监督问题，排除D项。

单元活动构建

医疗与公共卫生

【主题性概述】

疫病的流行让人类饱受痛苦。疫病在给人们带来灾难的同时，也客观上促进了医学与公共卫生的进步。中国古代医药学博大精深，至今还在发挥着巨大作用。西医在传入中国后改善了中国的医疗卫生条件。第二次世界大战后，现代医疗卫生体系逐步建立并完善，给现代人的身心健康带来了积极的影响。

构建任务一 中国古代的疫病与医学成就

「学术性观点」

观点一 与近现代隔离机制相比，尽管中国古代的隔离措施、隔离方法、隔离观念还比较落后，但早在秦汉时期，甚至更早就已存在的避疫思想、隔离观念……它历经秦汉时期的萌芽、西晋时期的进一步发展，到两宋时期达到相对完善的程度。尽管明清时期国家层面主导的隔离治疫事务有所衰落，但是以民间社会力量为主导的隔离治疫却得到了长足发展，这种官绅协同的模式不仅促进了传统隔离治疫的发展，并为近现代隔离治疫机制的建立奠定了坚实的基础。

——摘编自杨银权《被忽视的传统：

中国古代隔离治疫发展述论》

观点二 北宋时期，“儒医”群体及“不为良相则为良医”的理念兴起。宋神宗时，官方专门培养医生的医学得以创立；宋徽宗时，医学仿照太学体制，被纳入儒学教育体系，“使习儒术者通黄素，明诊疗，而施于疾病”，时人称之为“儒医”，并评价说：“自唐以前，医者多守专门授受之学，其人皆今草泽铃医之流……其有以士大夫而好研方术(者)……代不数人耳。自宋以

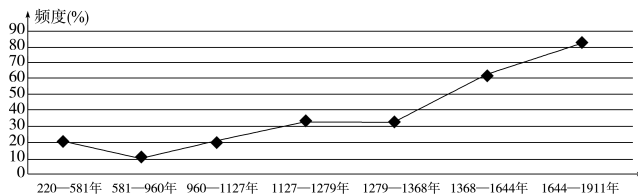
后，医乃一变为士夫(士大夫)之业，非儒医不足见重于世。”

——摘编自程民生《宋代医生的文化水平和数量》

「开放性活动」

情境材料：

中国古代疫灾频度的时段变化图



中国古代疫灾空间分布表

时段	频发中心	频发区及扩展
220—581年	长安、洛阳、建康	扩展到长江干流一线
581—960年	长安、洛阳	扩展到整个长江流域和闽浙地区
960—1127年	开封	
1127—1279年	临安	

续表

时段	频发中心	频发区及扩展
1279—1368年	大都	扩展到两广、云南
1368—1644年	京师	海南开始有了疫病流行
1644—1911年	京师	台湾、东北、新疆也成了疫灾流行区

——据龚胜生《中国疫灾的时空分布变迁规律》

问题:根据上述材料选择至少两个历史时期,概括指出中国古代疫灾的时空分布变迁特征,并结合所学知识给出合理的解释。

解答:

示例

选择时期:魏晋南北朝(220—581年)与隋唐五代(581—960年)

分布特征:疫灾时间分布不均衡,疫灾频度降低;疫灾的区域呈现扩大的趋势,都城是疫灾的频发中心。

合理解释:

时间:魏晋南北朝时期由于政权并立、战争频仍、人口大规模迁徙、气候变化等因素导致疫灾频发。隋唐时期国家统一、经济繁荣、社会稳定等因素影响下,疫灾频率低。

空间:随着江南地区的开发、农耕区域的扩展,疫灾的区域呈现由北向南扩展的趋势。但由于人口密度及流动性强、城市环境等因素影响,都城都是疫灾的频发中心。

「常规性活动」

1.唐代《续高僧传》记载:唐太宗时,智岩和尚到石头城(位于今江苏南京)病人坊住,为其(麻风病人)说法,终于病所。这里的“病人坊”是麻风病人的专门收治场所,唐代中期改名为“悲田养病坊”,兼收治其他病人。这表明当时国家为救治疫病 ()

- A.发挥民间慈善机构的救助
- B.建立起了最早的救治机构
- C.重视采取定点救治的措施
- D.利用了宗教信仰救治疫病

C 解析:根据材料可知,唐朝应对麻风病的办法是设置专门的病人收治场所,表明当时国家为救治疫病重视采取定点救治的措施,C项正确;民间慈善机构的救助在材料中无从体现,排除A项;根据材料无法得出“最早的救治机构”的结论,排除B项;材料无法体现利用宗教信仰救治疫病,排除D项。

2.宋代建立了以各级官府为主导,社会民众力量为辅助的疫病防治体系。南宋后期,中央政府仍是防治

瘟疫的核心力量,采取了医学、经济、政治等措施加以应对;地方官吏是宋代防治瘟疫的基层力量,采取了赈济灾民、医疗救治和加强社会管控等措施。这反映出宋代 ()

- A.社会救助具有系统性和规范性
- B.北宋已经有了尚未健全的社会保障制度
- C.民本思想在当时社会广泛传播
- D.对疫民或灾民的救助体现了政府的人文关怀

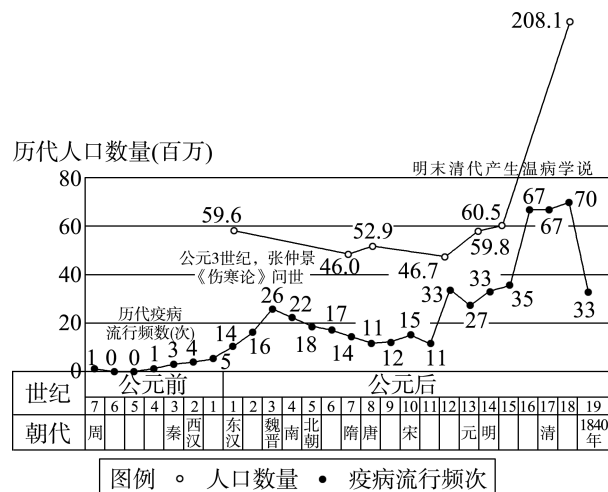
D 解析:宋代政府建立起从中央到地方的疫病防治体系和赈灾措施,这说明宋代政府有较为强烈的爱民意识,体现了政府的人文关怀,D项正确;材料未涉及社会救助具有系统性和社会保障制度,排除A、B两项;材料只说明了政府的行为,不能证明当时社会流行民本思想,排除C项。

3.苏轼任杭州知州时,当地发生瘟疫,他创建“安乐坊”收治病人。后来朝廷在各地设置“安济坊”,专为穷人治病。据此可知,当时疫病救治 ()

- A.全部由政府积极进行组织救治
- B.建立了完善的医疗体系
- C.政府在疫病救助中起主导作用
- D.得益于救治机构的建立

D 解析:从材料中“苏轼任杭州知州时,当地发生瘟疫……设置‘安济坊’,专为穷人治病”可以看出当时疫病救治得益于救治机构的建立,D项正确;A、B、C三项都是对材料片面的理解,排除。

4.(2021·重庆卷)下图为《中国古代疫病流行年表》中的“历代疫病流行分布与理论创新及人口增长对照图”。它反映出 ()



- A.历代疫病流行频数呈现不断上升趋势
- B.历代疫病流行频数与人口数量成正比
- C.中医理论的创新多出现于疫病高发期
- D.明清温病学说是对《伤寒论》的扬弃

C 解析:根据《中国古代疫病流行年表》可知,两汉

时期、北宋、元朝以及明朝时期是疫病高发期，同时这些时期出现了许多中医理论，这说明中医理论的创新多出现于疫病高发期，C项正确；根据图示信息可以看出历代疫病流行频数呈现波动状态，并非不断上升，排除A项；根据图示信息可以看出历代疫病流行频数越高，人口数量越低，二者是呈反比，排除B项；仅凭图示信息不能得出明清温病学说是对《伤寒论》的扬弃，排除D项。

构建任务二 现代医疗卫生体系的发展

「学术性观点」

观点一 第二次世界大战结束后，英国慈善家和社会改革家提出的关于建立惠及大众的免费医疗体制的呼吁得到政府的高度重视，并最终于1948年通过了“全民健康服务法案”，该法案的基本原则是：为所需者提供免费医疗。只要是英国居民或是在英国居住一年以上的外籍人士，在生病后都会由政府承担高昂的医疗费用。为了保证医疗卫生体系的有效运行，英国政府还建立了一支分布于各个社区医疗机构的高素质医护队伍。20世纪70年代以后，国民医疗服务体系屡经修改，规定某些医疗项目实行收费服务，不过基本的医护费用仍然由国家负担，这个原则并没有改变。

——摘编自钱乘旦《英国通史》

观点二 新中国成立初期，公共卫生体系十分薄弱。从1953年起，在国家的统一领导和部署下，我国通过行政、立法等手段，到21世纪初形成了中央、省、地市和县四级疾病预防控制体系。中国卫生工作采用了以预防为主、低投入高产出的公共卫生模式，面向广大的人民群众提供了最基本的公共卫生保障，这种“中国模式”取得了巨大成果。进入21世纪，我国医疗卫生体制改革取得重要成就，已经基本形成了医疗保障体系的全覆盖。

——摘编自李立明《新中国公共卫生60年的思考》

「开放性活动」

情境材料：新中国成立之初，我国仅有9个妇幼保健院和11个专科防治所。为了加强对公共卫生事业的领导，1949年11月在卫生部内设立了专管卫生防疫的公共卫生局，统一负责全国的卫生防疫工作。1951年向苏联学习建立了城市职工医疗保障体系，此后，覆盖人群与享受水平不断扩大和提高。面对资本稀缺、人才匮乏的约束条件，新中国非常注重卫生政策和卫

「活动后结论」

得出你的结论：_____

生体制的本土化创新，提出了“面向工农兵、团结中西医、预防为主、卫生工作与群众运动相结合”的卫生工作方针。在城市医疗保障制度不断建立完善、爱国卫生运动有序开展背景下，政府开始关注农村地区的医疗保障问题。1965年毛泽东作出把医疗卫生工作重点放到农村去的指示，卫生工作的重点开始转向农村。

——摘编自傅虹桥《新中国的卫生政策变迁与国民健康改善》

有研究者认为“新中国的公共卫生事业具有多样性和层次性特征”。结合所学知识简要论证这一观点。

解答：

示例

这种观点是正确的。新中国的公共卫生事业确实具有多样性和层次性特征，其中多样性是指专科防治、妇幼保健、卫生防疫、卫生政策和卫生体制的本土化创新。层次性是指先推动城市医疗保障体系的建立，后进行农村医疗保障体系的探索。

「常规性活动」

- 1.第二次世界大战后初期，加拿大的社会保障体系致力于“在个人努力与集体责任之间取得成功的平衡”；从20世纪50年代末起，为应对卫生服务及失业等问题，加拿大逐步建立起较为普遍的医疗保障以及失业保障制度，并不断推进保险覆盖范围和服务人群。这反映出加拿大（ ）
- A.第三产业重要性日益凸显
- B.社会经济繁荣推动了福利制度完善
- C.国家治理兼顾效率与公平
- D.政府积极推行新自由主义经济政策

C 解析：根据材料“加拿大的社会保障体系致力于“在个人努力与集体责任之间取得成功的平衡”并结合所学知识可知，加拿大在建立福利制度时，注重兼顾效率与公平，C项正确；材料没有涉及加拿大的第三产业，排除A项；材料主要涉及加拿大以国家为主体完善福利制度，未提及社会经济繁

荣,排除B项;材料没有涉及新自由主义经济政策,排除D项。

- 2.第二次世界大战后,为缓和社会矛盾,西方主要资本主义国家相继颁布了包括医疗保险服务、失业救济、养老和教育等法案,确保大多数人的最低生活需要和社会需要。这些法案的实施说明西方国家

()

- A.以人为本,重视生命健康
B.确保疫病问题彻底地解决
C.社会保障体系日渐完善
D.旨在关注弱势群体的权益

C 解析:根据材料并结合所学知识可知,第二次世界大战后,为了缓和资本主义社会矛盾,西方主要资本主义国家通过立法、政府救济、社会保险等方式,相继建立起完善的社会保障制度,社会保障制度包括医疗保险服务、失业救济服务、养老和教育保障,C项正确;社会保障制度建立和完善的本质目的是缓和社会矛盾,维护资本主义民主制度,不是“以人为本重视生命健康”“关注弱势群体的权益”,排除A、D两项;B项“彻底”表述绝对化,排除B项。

- 3.中华人民共和国成立以后,国家搭建起覆盖全国的医疗网络,出台了一系列相应的法律法规,大力推行计划免疫,积极防治传染病,把食品、饮用水、药品的安全监督视为重要的工作。这表明我国

()

- A.大力推进医疗保障体系建设
B.已经建设成为“福利国家”
C.基本医疗卫生体系逐渐建立
D.医疗机构服务职能不断扩大

C 解析:结合所学知识可知,中华人民共和国成立

后,覆盖全国的医疗网络的建立,一系列相关法律法规的出台,免疫、防治传染病和监督食品、饮用水、药品的安全等工作的大力开展等,表明我国基本医疗卫生体系逐渐建立,C项正确;大力推进医疗保障体系建设在材料中并未体现,排除A项;材料不能说明我国已经建设成为了“福利国家”,排除B项;材料并未体现我国医疗机构服务职能不断扩大,排除D项。

- 4.2023年3月1日,《国家基本医疗保险、工伤保险和生育保险药品目录》正式启用,其中纳入119种新药,价格平均下降50.64%,药品惠及的治疗领域广泛。这表明中国政府

()

- A.不断完善医疗卫生互助体系
B.注重强化全民卫生意识
C.坚持以人民为中心的发展思想
D.建立全民免费医疗制度

C 解析:根据材料“其中纳入119种新药,价格平均下降50.64%,药品惠及的治疗领域广泛”可知,我国将更多的药品纳入医保,整体药品价格下降幅度明显,体现了以人民为中心的发展思想,C项正确;通过此举,不断完善的是医疗卫生服务体系,排除A项;“强化全民卫生意识”表述夸大,排除B项;我国尚未建立全民免费医疗制度,排除D项。

「活动后结论」

得出你的结论:_____

第六单元质量评估

医疗与公共卫生

(时间:90分钟 分值:100分)

一、选择题(本题包括15小题,每小题3分,共45分)

- 1.《十日谈》中记述:“宏伟的宫室,华丽的大厦,高大的宅第,从前达官贵妇出入如云,现在却十室九空,连一个最低微的仆从都找不到了!”造成这种现象的疫病是

()

- A.天花
B.鼠疫
C.狂犬病
D.水痘

B 解析:14世纪时,欧洲鼠疫大流行,猖獗了3个世纪,欧洲人口死亡过半。故选B项。

- 2.威廉·麦克尼尔在其著作《瘟疫与人》中以人类史为主线,讲述人类与瘟疫的关系:“瘟疫是人类文明的副产品之一。人类打破平衡导致瘟疫横行,而瘟疫横行又致使人类行为发生改变,继而又发生新的瘟疫。因此平衡才是王道”。该学者的研究

()

- A.论述了疫病可以实现自生自灭
B.主张人类应该全力消灭疫病
C.是疫病研究的最权威的观点
D.反思了人类对自然的破坏行为

D **解析**:材料中“人类打破平衡导致瘟疫横行”“平衡才是王道”等信息说明,该学者在反思人类对自然的破坏行为,希望寻求解决瘟疫之道,故选D项;该学者强调的是人类与瘟疫之间的关系,而非论述疫病可以实现自生自灭,排除A项;该学者主张人与自然之间要实行某种平衡,才是正确对待瘟疫的态度,而不是主张人类全力消灭疫病,排除B项;题干只给出了一个学者的观点,并未与其他观点进行比较,不能得出C项结论。

- 3.据相关史料记载,北宋时可能已有人痘接种预防天花方法的出现。明代隆庆年间,安徽宁国府太平县已有人痘接种中心。到了清代,人痘接种术传到欧洲,英国的医生詹纳将之改造成接种牛痘术,催生了现代免疫学。对此解读正确的是 ()

A.中国古代的人痘接种术能有效治疗天花
B.明清时期中国用人痘接种术消灭了天花
C.牛痘术的出现标志着现代免疫学的诞生
D.中西医之间的交流推动了医疗技术发展

解析:由材料可知,中国的人痘接种术传播到欧洲,被改造成接种牛痘术,催生了现代免疫学,说明中西医之间的交流推动了医疗技术的发展,故选D项;人痘接种术是针对天花的一种预防手段,而非治疗方法,排除A项;“消灭”说法错误,排除B项;接种牛痘术催生了现代免疫学,而非标志着现代免疫学的诞生,排除C项。

- 4.张仲景的《伤寒杂病论》除介绍六经病症的特点和相应治疗方法外,还说明了各经病症的传变、合病、并病以及因治疗不当引起的变症、坏症与补救方法等。这说明 ()

A.中医在临床学方面取得了重要发展
B.中医具有重经验轻理论的特点
C.《伤寒杂病论》集中药知识之大成
D.汉代的医学处于世界领先地位

解析:根据材料可知,张仲景的《伤寒杂病论》系统详细地介绍了六经病症临床治疗的方法和原则,说明中医临床学取得重要的发展,A项正确;材料无法体现中医重经验轻理论的特点,排除B项;《伤寒杂病论》是中医临床学著作,不是药学著作,排除C项;材料无法体现汉代医学处于世界领先地位,排除D项。

- 5.张仲景在《伤寒杂病论》中说:“进则救世,退则救民;不能为良相,亦当为良医。”明代医学家叶文龄说:“医,仁术也,爱之道也。”材料表明我国古代医学的发展 ()

A.深受儒家思想的影响

B.得益于大一统的政治体制
C.得到国家政权的支持
D.取决于小农经济高度发达

解析:根据材料“进则救世,退则救民;不能为良相,亦当为良医”“医,仁术也,爱之道也”并结合所学可知,中国古代医学的发展受到了儒家济世利天下、仁爱思想的影响,A项正确。材料未体现大一统政治体制对医学发展的影响以及国家政权对医学发展的支持,排除B、C两项。从材料中无法得知小农经济和医学发展之间的关系,排除D项。

- 6.《睡虎地秦墓竹简》记载:“城旦、鬼薪疠,可(何)论?当迁疠迁所。”该史料可以说明秦代 ()

A.已实行对传染病人的隔离制度
B.改变了人类对传染病束手无策的状态
C.已建立起完善的疫病防治体系
D.尚未认识到“疠”具有极强的传染性

解析:根据材料可知,秦代对传染性疾病的处置方式是迁往隔离区,这说明秦代已实行对传染病人的隔离制度,故选A项;人类面对未知的传染病时至今也有束手无策的情况发生,排除B项;材料仅涉及秦朝出现了将患病者迁移到指定地点的情况,没有明确针对其他疫病的防治措施,排除C项;材料说明秦朝时人们已经认识到“疠”具有极强的传染性,排除D项。

- 7.19世纪,接种疫苗、隔离受传染的病人、保护供水、掌握有关抗菌剂的知识……这一切使西北欧的死亡率,从1800年至少30%降低到1914年15%左右。欧洲的人口从1750年的14000万急剧上升到1800年的18800万、1850年的26600万。这表明,西北欧死亡率降低和欧洲人口的增长受益于 ()

A.医学知识的普及和发展
B.科学理论的重大突破
C.资产阶级统治地位的巩固
D.工业革命向全球扩展

解析:根据“接种疫苗、隔离受传染的病人、保护供水、掌握有关抗菌剂的知识”可知,西北欧死亡率的降低和欧洲人口的增长得益于医学知识的普及和发展,A项正确。

- 8.1902年,清政府颁布了《天津卫生总局现行章程》。“清洁道路、养育穷黎、施治病症、防检疫病”,并颁行相关卫生实施细则,其中包括卫生办法、育黎堂办法、时症医院办法、扫除科章程等。这些措施 ()

A.推进了城市公共卫生发展

- B.建立了基本医疗卫生体系
C.杜绝了疫病的发生和传播
D.体现了社会主义精神文明

A 解析:根据材料“清洁道路、养育穷黎、施治病症、防检疫病”可知,上述措施有利于推动城市公共卫生的发展,故选 A 项;材料中的信息主要涉及的是公共卫生,但并不意味着建立了基本医疗卫生体系,排除 B 项;上述措施有利于推动城市公共卫生发展,但不可能杜绝疫病的发生和传播,排除 C 项;材料体现不出社会主义精神文明,排除 D 项。

- 9.1911 年 4 月,国际鼠疫研究会在沈阳召开,这是中国召开的首次国际卫生会议,来自英、日、俄、德、法等 12 个国家的公共卫生专家聚集一堂,确定了很多国际通行的防疫准则。该会议的召开 ()
A.推动了公共防疫事业的发展
B.标志着中西医结合进入新阶段
C.使得西方医学开始传入中国
D.为中国培养了大量的西医人才

A 解析:由材料信息可知,1911 年国际卫生会议的召开,确定了很多国际通行的防疫准则,推动了国际公共防疫事业的发展,故 A 项正确。材料没有体现中西医结合,排除 B 项;结合所学可知,明末清初,西方传教士已经把近代西方医学传入中国,只是影响有限,排除 C 项;材料未体现出该会议为中国培养了大量西医人才,排除 D 项。

- 10.中国古代的“卫生”常与“养生”相连。1905 年,在借鉴日本等国国家卫生行政的基础上,清政府设立“卫生科”,次年升格为“卫生司”,“掌核办理防疫卫生、检查医药、设置病院各事”。这表明 ()

- A.“卫生”被纳入地方行政管理
B.近代“卫生”概念获得国家认同
C.传统意义上的卫生观念彻底消除
D.清末新政实现了卫生服务的普及

B 解析:根据题干可知,晚清时期政府仿照近代先进国家“卫生”行政化,建立近代“卫生”机构,反映了近代“卫生”概念获得国家认同,B 项正确。题干未体现出“卫生”被纳入地方行政管理,排除 A 项;C 项中的“彻底消除”说法绝对,排除;题干仅反映政府推动“卫生”事业的近代化,并不能反映卫生服务的普及,排除 D 项。

- 11.1952 年初,中共中央开展了以反对美国“细菌战”为中心的爱国卫生运动;中华医学会出版《防御细菌战常识》供各地学习采用;教育、文艺界以及中国红十字总会一致声讨侵朝美军撒布细菌的罪行

并进行科学防疫治疗宣传。这表明当时我国 ()

- A.形成了完备的国家卫生防疫体系
B.医疗机构的服务职能正不断扩大
C.将疫病防治与政治运动结合起来
D.抗疫防疫是对美斗争的主要方式

C 解析:结合所学知识可知,1952 年初,中共中央倡导开展以反对美国“细菌战”为中心的爱国卫生运动,得到中华医学会、教育、文艺界和中国红十字会的积极响应,表明当时我国将疫病防治与抗美援朝、巩固政权的政治运动结合起来,C 项正确;材料不能说明当时我国已形成了完备的国家卫生防疫体系,排除 A 项;“医疗机构的服务职能正不断扩大”在材料中并未体现,排除 B 项;材料并未强调抗疫防疫与对美斗争的关系,且无法说明是主要方式,毕竟当时处于抗美援朝阶段,军事斗争才是主要方式,排除 D 项。

- 12.下表中的一系列文件,反映了我国改革开放以来 ()

年份	文件名称
1998	《国务院关于建立城镇职工基本医疗保险制度的决定》
2003	《国务院办公厅转发卫生部等部门关于建立新型农村合作医疗制度意见的通知》
2007	《国务院关于开展城镇居民基本医疗保险试点的指导意见》
2009	民政部等部门《关于进一步完善城乡医疗救助制度的意见》

- A.医疗保险主要惠及城市居民
B.政府的行政职能不断扩大
C.社会医疗保障体系不断完善
D.农民医疗问题的彻底解决

C 解析:材料反映的是改革开放以来我国关于社会各阶层医疗保险制度的建立及完善,这说明了我国社会医疗保障体系不断完善,C 项正确;材料不仅涉及城市居民,而且在农村也建立了新型农村合作医疗制度,故 A 项说法错误,排除;材料反映的是城乡居民医疗保险制度的建立和完善,而不是政府行政职能的扩大,排除 B 项;材料未体现如何解决农民医疗问题,且 D 项说法绝对,排除。

- 13.半个多世纪以来,中国对许多非洲国家派出了大批医疗队。下图所体现的精神是 ()



- A.人道主义与国际主义精神
B.革命乐观主义精神
C.毫不利己、专门利人的精神
D.对技术精益求精的精神

A 解析: 中国对非洲的医疗援助,使得非洲一系列疫病得到了有效控制,体现了人道主义与国际主义精神。故选 A 项。

14. 20 世纪初,上海广智书局出版的《最近卫生学》一书提出:“夫欲保国,必先强种,而强种之术,舍人人自解卫生,自能卫生,其道无由。吾国自医学失传,卫生一事,阙而不讲,此国民体格所以日趋于弱也。”书中观点意在 ()

- A.说明建立完善医疗体系的重要性
B.大力宣传国家卫生防疫基本常识
C.强调卫生之事应该与救国相结合
D.督促政府积极开展卫生防疫工作

C 解析: 根据材料可知,该书强调卫生观念与强种、救国相结合,C 项正确;当时并没有建立比较完善的医疗体系,排除 A 项;大力宣传国家卫生防疫基本常识只是材料中的部分信息,排除 B 项;材料只是强调通过书籍宣传,并没有督促政府积极开展医疗卫生防疫工作,排除 D 项。

- 15.《中华人民共和国药品管理法》中提及“药品生产企业应当对药品进行质量检验。不符合国家药品标准的,不得出厂。药品生产企业应当建立药品出厂放行规程,明确出厂放行的标准、条件”。这说明 ()

- A.我国的药品管理法确保了药品安全
B.我国加强了法制建设
C.我国的药品监督体系发生了重大变化
D.我国无法满足药品安全需要

C 解析: 根据材料可知,国家严控药品生产,确保药品质量,体现了我国的药品监督体系发生了重大变化,C 项正确;《中华人民共和国药品管理法》是在全国人民代表大会中通过的,是新时期法制建设的成就,它的颁布与实行是确保药品安全的需要,排除 A、B、D 三项。

- 二、非选择题(本题包括 4 小题,第 16 题 20 分,第 17 题 9 分,第 18 题 14 分,第 19 题 12 分,共 55 分)

16. (20 分) 阅读下列材料,回答问题。

材料一 中国古代疫情多发……唐代也不例外。尽管医疗机构很完善、发达,但仍无法有效应对大规模暴发的疫病,其中重要原因是医疗资源的不均与不足。在此情况下,基层民间医疗有所开创和发展。受儒家仁政思想与佛教慈悲为怀思想的影响,唐代开办悲田病坊,救助病残、乞丐及贫民

的专门机构,服务对象就是社会底层群体。所属关系有:一是受官府管理,经费也来自官府;二是僧人自行管理,经费来源于寺院。

——摘编自廖靖靖《多姿多彩的大唐风貌》

材料二 19 世纪末 20 世纪初,“卫生”一词在晚清日益流行。由于近代社会的急剧转型,卫生涉及的已经不是个人或地方团体层面,而是同国家、民族联系在了一起。文化市场涌现大量的生理卫生、生殖医学的书籍和刊物,相关的广告与介绍也频繁见诸报端,大多强调泰西的兴盛与其对生理卫生学的重视密切关联,表示译者或作者的目的即在希望种族强盛上。

——摘编自张仲民《出版与文化政治:晚清的“卫生”书籍研究》

材料三 中华人民共和国成立初期百废待举,许多蛰伏的传染性疾病一度肆虐,鼠疫波及全国 20 多个省份,血吸虫病遍及长江以南所有省份。1949 年 10 月,中央召开紧急防疫会议,确定了预防为主、防治结合的措施,成立中央防疫委员会,建立快捷的信息沟通体制,开展大规模的爱国卫生运动,1950—1953 年连续召开三次全国卫生会议,将卫生工作与群众运动相结合,强调群防群治。通过传媒界的政治动员和教育界、文艺界的防疫宣传,卫生防疫工作上升为全民政治运动,流行的各种疫病很快得到了有效防控。

——摘编自李向东、刘念《新中国成立初期的疫情与疫病防控的政治化》

- (1) 根据材料一,概括唐代基层民间医疗开创和发展的原因。(2 分)
- (2) 根据材料二并结合所学知识,简析晚清卫生观念传播的积极作用。(6 分)
- (3) 根据材料三并结合所学知识,概括中华人民共和国成立初期疫病防治的特点及作用。(8 分)
- (4) 综合上述材料,请你谈谈从唐代到中华人民共和国成立初期疫病防治对新时期疫情防控的借鉴价值。(4 分)

答案: (1) 原因:医疗资源不均和不足;儒家和佛教思想的影响。

(2) 积极作用:促进民族意识觉醒;提高国民身体素质;促进卫生知识在民众中传播,提高民众的卫生健康意识;推动医疗卫生事业的近代化。

(3) 特点:重视防治结合,以预防为主;建立国家防疫机制;开展政治动员,发动群众群防群治;重视传媒和防疫宣传。作用:有效防控了疫情,保障了人民群众的生命健康;稳定了社会秩序;增强了民众对国家政权的政治认同。

(4) 借鉴价值:政府承担主体责任;社会力量积极

参与;提高民众健康意识。

解析:第(1)问,根据材料一“其中重要原因是医疗资源的不均与不足”“受儒家仁政思想与佛教慈悲为怀思想的影响,唐代开办悲田病坊,救助病残、乞丐及贫民的专门机构,服务对象就是社会底层群体”概括即可。第(2)问,根据材料二并结合所学知识从促进了卫生知识在民众中传播、提高民众的卫生健康意识、提高国民身体素质、推动医疗卫生事业的近代化等角度分析。第(3)问第一小问,根据材料三“确定了预防为主、防治结合的措施”“成立中央防疫委员会,建立快捷的信息沟通体制,开展大规模的爱国卫生运动”“通过传媒界的政治动员和教育界、文艺界的防疫宣传”归纳概括。第二小问,结合所学知识从有效控制了疫情、保障了人民群众的生命健康、稳定了社会秩序、增强了民众对国家政权的政治认同等角度说明。第(4)问,综合上述材料并结合所学知识从政府、社会、民众等角度说明。

17.(9分)阅读材料,回答问题。

材料 上海租界等外国人居集中的地区,却成为中国公共卫生事业近代化的先行地区。上海租界自成立之初,就逐步完善市政建设,建立公共卫生制度。到20世纪初年,地方自治运动兴起,上海租界有关公共卫生的管理条例都被搬至上海华界。辛亥革命后,大批海外留学生回国,带来了先进的卫生知识与疾病预防的新思想,1916年成立中华卫生教育会,先后在北京、杭州等15个城市开展卫生运动。从总体上说,到民国年间多数城市都设立了专门管理公共卫生的卫生局,公共卫生事业都有所发展,但南京等沿海沿江通商口岸较好,内陆城市较差。现代医学的提倡者们主张大力促进公共卫生事业的发展,但他们攻击传统中医知识是不科学的和迷信的,使中西医关系紧张。

——摘编自何小莲《论中国公共卫生事业近代化之滥觞》等

(1)根据材料并结合所学知识,概括近代中国公共卫生事业发展的特点。(4分)

(2)根据材料并结合所学知识,说明近代中国公共卫生事业发展的影响。(5分)

答案:(1)特点:学习西方经验(受西方影响);城乡之间、城市之间发展不平衡;由地方政府和民间推动;趋向制度化。

(2)影响:保障了民众身体健康;增强了公共卫生意识;完善了城市基础设施;提升了政府治理能

力;促进了中国社会近代化;否定了传统中医,使中西医关系紧张。

18.(14分)阅读下列材料,回答问题。

材料一 19世纪初,霍乱从印度和中东波及欧洲。此起彼伏的政治动荡和社会混乱,让欧洲成为霍乱流行的重灾区。1851年,英、法等欧洲12国召开了世界公共卫生史上第一届国际卫生大会。部分科学家认为霍乱是一种接触传染类疾病,但英国不予认可和支持。1883年霍乱再次暴发,法国和德国政府经过调查,确认霍乱是一种接触传染类疾病,并指出霍乱是英国商船从印度港口传到欧洲。调查结果遭到英国政府的强烈抵制。因此,国际卫生大会从第一届开始,40年内没有通过和签署任何国际公约。

——摘编自张勇安《谁是“卫生帝国主义”?

——评19世纪欧洲霍乱治理》

材料二 1948年,世界卫生组织成立,成为联合国框架下的全球卫生治理的专业机制。成立以来,世界卫生组织通过订立《国际卫生条例》,为全球卫生安全建立起了国际法律架构;通过设立多种项目,促进地方性疾病和传染病的防治,推动公共卫生事业的发展。世界卫生组织作为全球负责促进和保护健康的主要国际机构,在全球卫生治理中占有中心地位。世界卫生组织成员国由1948年的53个发展到2015年的194个。

——摘编自晋继勇、郑鑫《全球卫生治理中的国际机制间互动——以世界卫生组织和世界银行为例》

(1)根据材料一并结合所学知识,分析19世纪国际卫生大会难有成效的原因。(6分)

(2)根据材料并结合所学知识,与19世纪国际卫生大会相比,说明第二次世界大战后世界卫生组织的特点,并简析其成立的意义。(8分)

答案:(1)欧洲的政治动荡和国际格局的变化;科学界对霍乱认知的差异;欧洲国家内部矛盾尖锐,利益诉求不同;以欧洲为中心,没有兼顾殖民地的利益。

(2)特点:有制度化的框架;有国际法保障;更具专业性;在全球卫生治理中居于中心地位;更具广泛性,世界大部分国家参与。意义:有利于推动地方性疾病和传染病的防治;有利于推动全球公共卫生事业的发展;推动了全球治理的制度化、体系化;进一步推动全球一体化,促进人类共同体意识的形成。

解析:第(1)问,根据“此起彼伏的政治动荡和社会混乱,让欧洲成为霍乱流行的重灾区”得出欧洲的

政治动荡和国际格局的变化;根据“部分科学家认为霍乱是一种接触传染类疾病,但英国不予认可和支持”得出科学界对霍乱认知的差异;根据“调查结果遭到英国政府的强烈抵制”得出欧洲国家内部矛盾尖锐,利益诉求不同;根据所学可得出以欧洲为中心,没有兼顾殖民地的利益。第(2)问第一小问,根据“成为联合国框架下的全球卫生治理的专业机制”得出有制度化的框架;根据“世界卫生组织通过订立《国际卫生条例》,为全球卫生安全建立起了国际法律架构”得出有国际法保障;根据“通过设立多种项目,促进地方性疾病和传染病的防治,推动公共卫生事业的发展”得出更具专业性;根据“世界卫生组织作为全球负责促进和保护健康的主要国际机构,在全球卫生治理中占有中心地位”得出在全球卫生治理中居于中心地位;根据“世界卫生组织成员国由1948年的53个发展到2015年的194个”得出更具广泛性,世界大部分国家参与。第二小问,根据材料信息并结合所学,从卫生事业的发展及全球治理等方面概括。

19. (12分) 阅读材料,回答问题。

材料 中国近现代医疗卫生事业的发展

时期	主要内容
民主主义革命时期	1866年,博济医学堂的设立是近代中国教育史上的里程碑,直接启发了此后一批教会医学堂和护士学校的建立
	1905年,清政府于巡警部警保司设卫生科,1906年升为卫生司,设保健、检疫、方术三科
	1929年,我国开始独立设置海港检疫机构,此前我国海港检疫工作被外国人把持
	1931年,中共中央军委总军医处成立,出现了医疗卫生制度的专业化设计
	据1936年《中华年鉴》统计,全国20个省有教会医院426所
	抗日战争时期,中共中央在陕甘宁边区人民政府民政厅下设卫生处
	解放战争时期,中共中央军委建立了阶梯救治和医疗后送制度

时期	主要内容
中华人民共和国成立后	1951年,我国建立城镇职工医保医疗体系
	2016年,城镇居民医保和新农合医保合并。
	截至2017年,我国基本医保参保人数超过13.5亿,参保率稳定在95%以上
	2020年,新冠疫情对我国公共卫生体系提出巨大挑战,在中国共产党的领导下,中国医疗卫生事业经受住了考验

——摘编自王书城《中国卫生事业发展》

根据材料并结合中国近现代史相关史实,以“中国医疗卫生事业发展”为主题,自拟一个论题,并就所拟论题进行简要阐述。(要求:论题明确,史论结合,表述成文,条理清晰)

答案:示例

论题:政府政策支持是推动中国医疗卫生事业发展的重要因素。

阐述:20世纪以来,中国政府逐渐回收部分主权。1929年,南京国民政府独立设置海港检疫机构,大大提高了中国的卫生安全,促进了中国医疗卫生事业的发展。抗日战争期间,中共中央政府在陕甘宁边区建立了一套较为完整的医疗卫生体系,大大保障了人民群众的生命安全,推动了中国医疗卫生事业的近代化,为抗日战争的胜利奠定了重要基础。中华人民共和国成立以来,中央政府非常重视医疗卫生工作,颁布一系列法律法规,推动医疗卫生向制度化、体系化方向发展。2017年,中央政府将城乡医保合并,使医学成果普惠平等,极大地推动了中国医疗卫生事业的发展,不断满足人民群众日益丰富的健康要求。

医疗卫生事业的发展关系到民生福祉,政府是医疗卫生事业发展的重要推动力,政府通过经济和行政等手段,建立平稳、高效的医疗卫生体系,有利于保障国民健康。